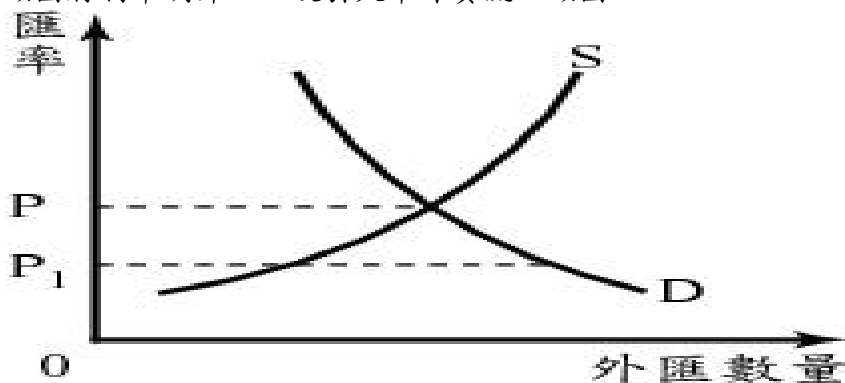


臺北市立大理高級中學 101 學年度高中公民與社會科教師甄選題目

一、單選題：8 題，每題 2 分，共 16 分。(請畫卡)

01. 聯合國國際食品法典委員會(簡稱CAC)通過萊克多巴胺殘量容許量標準，豬與牛的肌肉及脂肪為10ppb，肝臟為40ppb，腎臟為90ppb，此決定為急於解禁美牛瘦肉精的我政府部門開。此時，若大部分民眾仍對進口牛肉之食用安全有所顧慮，選擇暫時不吃牛肉，而進口商也持觀望態度，進而減少對進口牛肉的供給，則我國牛肉市場的供需以及牛肉價格將最可能有何影響？
(A)需求線右移，供給線左移，價格必然上升
(B)需求線左移，供給線右移，價格必然下降
(C)需求線右移，供給線右移，價格變化不一定
(D)需求線左移，供給線左移，價格變化不一定
02. 彰師大的學生發明「快速翻頁夾」，將文具資料夾側邊裝上夾鏈，要換頁時，只要撕起來再扣上，輕鬆完成，省時又省力。這項發明不但得到「馬來西亞世界發明展」金牌，還有廠商以100萬元向她買下生產該產品的專利權。依此敘述判斷，文中的「專利權」應屬於經濟發展要素中的哪一項？
(A)人造資本 (B)人力資本 (C)政府效能 (D)企業才能
03. 幸福國是一個完全自由競爭的外匯市場，均衡匯率是由外匯需求與外匯供給所共同決定的。如下圖，如果外匯供給右移，使匯率產生 $P \rightarrow P_1$ 的變化，則可能是什麼情況所造成？
(A)該國國民所得增加，進口增加
(B)該國因國際景氣差，出口減少
(C)該國的央行開會決議，進場買進大量的外匯
(D)該國將利率調升，以吸引大筆外資流入該國



圖(一)外匯市場

04. 針對我國近來接連發生的「酒醉駕車」，其所造成個人、家庭和社會蒙受重大損失。政府為解決此問題，可能採取的各種作法中，下列何者最能達成「外部效果內部化」？
(A)立法提高酒醉駕車的罰款，並移送法辦
(B)立法增訂酒類健康捐，使酒類售價提高
(C)在各路口豎立「禁止酒醉駕車」的警告標語
(D)酒類廣告加註「飲酒過量有害健康」的警語

05. 我國科技持續進步，液晶螢幕技術不斷提升，市場價格卻愈來愈便宜，使得消費者可以享受到物美價廉的商品，但我國國內生產毛額（GDP）的數據反而呈現下降的情況。主要是在說明使用國內生產毛額（GDP）指標反映人民生活水準的哪一項限制？
- (A)無法反映所得分配的情形 (B)無法計算休閒帶來的價值
(C)無法計算地下經濟的數值 (D)無法反映產品品質的改變
06. 某文章探討近年來台灣總體經濟數字漂亮，但民眾卻沒感受到幸福感增加的原因時，有段文字提到：「台灣還有個問題是天災頻傳，災後的建設絕對會反映在GDP，但高GDP卻可能是無幸福感的成長，如果租稅負擔沒有適當調整，怎麼可能讓人民有更多幸福感？」由文中內容判斷，下列敘述何者最能作者的意涵？
- (A)災後政府發放的補助金額不足，無法彌補災害損失，人民無法感受到幸福
(B)政府為籌措災後重建經費，提高對人民的課稅，因此人民無法感受到幸福
(C)災後復建使得人民消費支出增加，GDP雖然成長，但是人民可支配所得減少
(D)GDP無法反映所得分配，政府須調整租稅增加社福支出，才能增加幸福感
07. 凱因斯學派縱橫美國經濟史上數十年，終於在1970年代踢到鐵板，窮於應付「停滯性通貨膨脹」所帶來的衝擊。請問，其後出現的貨幣、理性預期、供給面等經濟學派，對美國經濟做了什麼樣的修正？
- (A)總體經濟問題應由政府、市場與人民三者共同解決
(B)總體經濟問題不一定要政府才能解決，應回歸市場
(C)總體經濟問題由政府處理，個體經濟問題還是回歸市場
(D)政府應該從小政府變成大政府，讓看不見的手來主導市場
08. 假設某一國家當年度的國民所得會計帳資料如下：工資250億元，地租350億元，利息200億元，利潤220億元，企業間接稅淨額50億元，折舊80億元，國外要素所得淨額40億元。下列何者不正確？
- (A)國民所得（NI）為1020億元 (B)國內生產毛額（GDP）為960億元
(C)國民生產毛額（GNP）為1150億元 (D)國民生產淨額（NNP）為1070億元

二、題組題：12題，每題2分，共24分。（請畫卡）

第9-10題：

中國人民銀行（央行）在12月10日晚間調升銀行存款準備率二碼（0.5個百分點）以打壓物價與居高不下的房價，大型銀行存準率增加到19%，自十二月二十日生效，這是中國今年來第六次調升存準率。

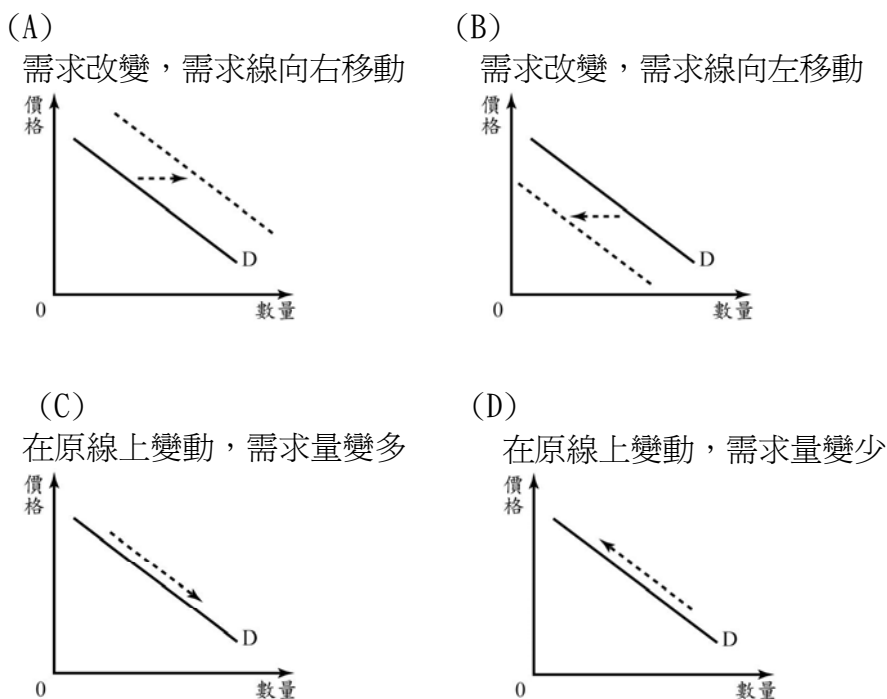
09. 中國人民銀行的這種做法，是採取下列何種總體經濟政策來因應？ (A)緊縮性的財政政策 (B)寬鬆性的財政政策 (C)緊縮性的貨幣政策 (D)寬鬆性的貨幣政策。
10. 中國人民銀行這種做法，對該國貨幣市場所造成的影響之敘述，下列何者正確？ (A)造成銀行的庫存準備增加，通貨淨額減少，貨幣供給下降 (B)央

行賣出公債，收回人民幣，通貨淨額減少，貨幣供給下降 (C)造成銀行向央行貼現成本增加，銀行為避免現金不足，增加庫存現金，通貨淨額減少，貨幣供給下降 (D)央行買進公債，放出人民幣，通貨淨額增加，貨幣供給增加。

第 11-12 題：

一般而言，當新臺幣兌換美元匯率持續攀升時，「中央銀行」就會積極介入市場試圖阻止新臺幣升值。立法院也曾為此舉行公聽會，討論臺灣中央銀行的干預是否適當。由於臺灣是「出口導向」的經濟型態，因此多數立委贊成中央銀行介入匯市，但也有少數立委持反對態度。

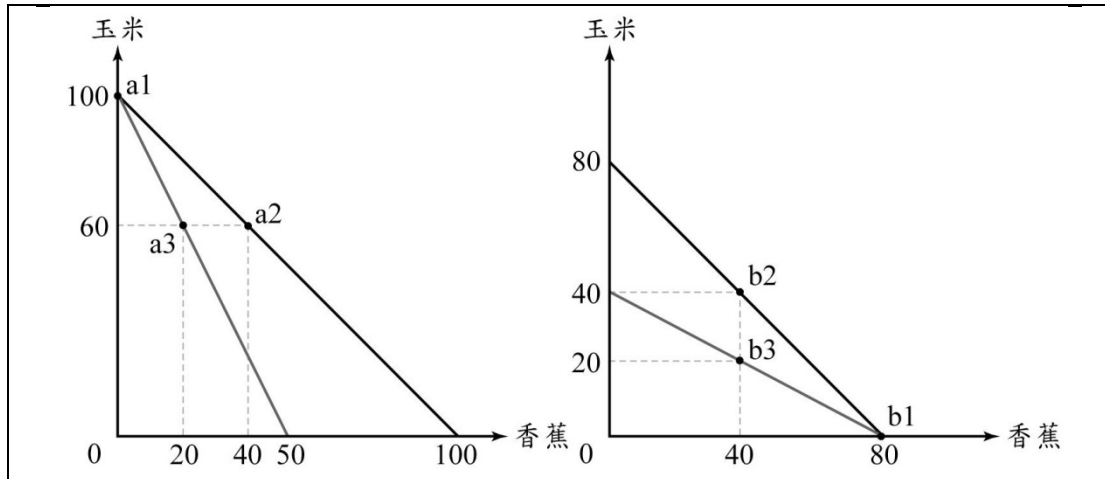
11. 根據以上報導，請問為什麼當臺幣升值時，央行要入場干預？
- (A) 因為新臺幣升值，進口原料變貴，不利於商品在臺灣市場上的生產
 - (B) 因為新臺幣升值，外籍工作者薪資變貴，不利於外商公司在臺獲利
 - (C) 因為新臺幣升值，出口產品變貴，不利於商品在國際市場上的競爭
 - (D) 因為新臺幣升值，土地取得成本變貴，不利於臺灣的GDP成長。
12. 一般而言，當新臺幣兌換美元匯率持續攀升時，「中央銀行」就會積極介入市場試圖阻止新臺幣升值。此時央行入場干預的行為是試圖想改變市場供需現象，若以圖形表示，應該是會使其做下列何種改變？



第 13-14 題：

美國與臺灣的生產力		單位：公斤	
	美國	臺灣	
玉米	100	40	
香蕉	50	80	

若我們將美國與臺灣的生產力以上表來表示，再根據兩國的生產力畫成生產可能線，然後兩國以 1 公斤香蕉換 1 公斤玉米的交易條件進行貿易，畫成如下圖中的生產可能線，請根據下表回答下列問題：



13. 關於這個圖的解讀，下列敘述何者正確？
- (A) a2點的意義對美國而言，自己都可以生產100公斤玉米，及40公斤香蕉，故不需要與台灣進行貿易
 - (B) b2點的意義對臺灣而言，是可以自己生產40公斤香蕉與40公斤玉米，美國不想要與台灣進行貿易
 - (C) a2點的意義是對美國而言，透過和臺灣貿易後，可以擁有60公斤玉米，但可以交換得到40公斤香蕉，比自己生產的a3點有利
 - (D) b3點的意義是對臺灣而言，透過和美國貿易後，可以擁有40公斤香蕉，但可以交換得到20公斤玉米，比自己生產的b2點有利。
14. 根據圖示資料，自由貿易會讓兩國的生產力發生什麼變化？
- (A) 讓兩國的生產組合，都超越了該國在原来的資源與技術限制下之生產可能線
 - (B) 對美國而言比較有利，因為超越了原來資源與技術限制下美國的生產可能線
 - (C) 若不透過貿易，在現行資源與技術，美國仍有能力達到生產可能線外的生產組合
 - (D) 兩國即使透過貿易，且增加自然資源與技術，還是無法超越其原来的生產可能線

第 15-16 題：

小傑製鞋廠短期的投入產出表如下，請根據下表，回答下列題目：

資本量 (萬元)	勞動使用量	總產量	邊際產量
100	0	0	—
100	1	5	5
100	2	12	7
100	3	21	9
100	4	32	Y
100	5	40	8
100	6	X	5
100	7	48	3
100	8	48	0

15. 該廠聘雇到第幾個勞動量時，邊際報酬開始出現遞減？

- (A)8 (B)6 (C)5 (D)4。

16. 上表中，X+Y等於多少？ (A)56 (B)59 (C)55 (D)53。

第 17-18 題：

下表為幸福國在 2007~2012 年經濟成長率、CPI 年增率和失業率的相關資料。

年份	2007	2008	2009	2010	2011	2012
經濟成長率%	4.64	3.50	6.15	4.16	4.09	5.72
CPI 年增率%	-0.20	-0.28	1.61	2.31	0.60	1.80
失業率%	5.17	4.99	4.44	4.15	3.91	3.81

17. 幸福國在 2009~2012 年的痛苦指數，以哪一年最高？

- (A)2009 (B)2010 (C)2011 (D)2012

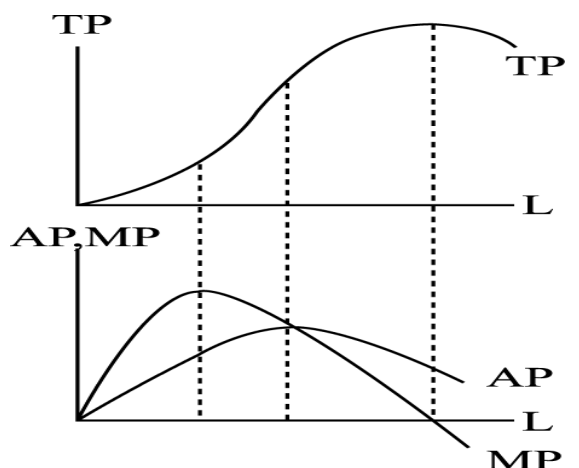
18. 當幸福國的經濟成長時，通貨膨脹率與失業率會呈現何種現象？

- (A)同時上升 (B)同時下降 (C)反向變動 (D)先降後升

第 19-20 題：

右圖為小傑製鞋廠皮鞋產量的 TP(總產量)曲線, AP(平均產量)曲線和 MP(邊際產量)曲線。

請根據右圖，回答下列題目：



19. 有關 AP 曲線與 MP 曲線間的關係，下列敘述何者正確？

- (A)在 $MP > AP$ 時，AP 遞減 (B)在 $MP < AP$ 時，AP 遞增
(C)當 $MP = AP$ 時，AP 最高 (D)當 $MP = AP$ 時，TP 最高

20. 有關右圖的解讀，下列敘述何者最正確？ (A)TP 最大時，MP 也最大 (B)剛開始 MP 遞增是專業分工的結果 (C)MP 最後遞減是因為長期的資本設備固定 (D)只要繼續投入生產要素，TP 會繼續增加

答案

1.(D)2.(A)3.(D)4.(A)5.(D)

6.(D)7.(B)8.(B)9.(C)10.(A)

11.(C)12.(A)13.(C)14.(A)15.(C)

16.(A)17.(B)18.(C)19.(C)20.(B)