



交通部民用航空局 民航通告

主旨：遙控無人機學科測驗規範(Remote Pilots License Written Test)		
發行日期：2021.11.30	編號：AC 107-004A	發行單位：飛航標準組

一、目的：

本民航通告旨為提供遙控無人機普通與專業操作證學科測驗及專業操作證屆期換證學科測驗業務之指引。

二、修正說明：

- (一) 為辦理遙控無人機專業操作證屆期換證學科測驗，爰修訂本民航通告，新增「遙控無人機專業操作證屆期換證學科測驗指南與模擬試題」內容，並自 111 年 1 月 1 日起適用。
- (二) 本通告原執行要點說明(二)「遙控無人機學科測驗注意事項」相關內容，因已明定於「遙控無人機學科測驗准考證」及本局網站無人機專區「遙控無人機操作證測驗與給證須知」，無重複規定之必要，爰予刪除。

三、背景說明：

依據民用航空法第 99 條之 10 第 2 項；遙控無人機管理規則第 20 條第 1 項第 2 款及第 3 款、第 23 條第 1 項及第 2 項之規定辦理。

四、需求說明：

本通告係依據 07-04A 「遙控無人機管理規則」及 07-05A 「遙控無人機檢驗與操作人員測驗委託辦法」等內容，依遙控無人機操作證

各類學科測驗作業需求編訂。

五、執行要點說明：

(一) 遙控無人機學科測驗場地與設備：

1. 應備有可連線至網際網路之獨立電腦設備，且具測驗介面鎖定及各式瀏覽器存取限制等功能。
2. 應設有可供電腦設備獨立使用之空間(以電腦教室配置為佳)。
3. 為避免考試爭議並維護測驗公平，應架設可對測驗場地實況(含影像及聲音)全程紀錄保存之錄影系統(如閉路電視系統)。

(二) 遙控無人機學科測驗指南與模擬試題如附錄 1。

(三) 遙控無人機專業操作證屆期換證學科測驗指南與模擬試題如附錄 2。

六、相關規定及參考文件：

(一) 01-01A 「民用航空法」。

(二) 07-04A 「遙控無人機管理規則」。

(三) 07-05A 「遙控無人機檢驗與操作人員測驗委託辦法」。

簽署：

吳家珍

飛航標準組組長吳家珍



交通部民用航空局
Civil Aeronautics Administration, MOTC

遙控無人機

學科測驗指南與模擬試題

目次

目次	I
圖目錄	IV
表目錄	VI
縮略語	VII
第 1 章	前言 1
1.1	目的..... 1
1.2	遙控無人機學科測驗指南與模擬試題架構 1
1.3	遙控無人機基本概念 2
1.4	遙控無人機與操作人員組成 2
1.5	遙控無人機技術特點 4
1.6	遙控無人機之分類..... 7
第 2 章	民用航空法及相關法規 9
2.1	導論..... 9
2.2	註冊管理 10
2.3	操作管理 14
第 3 章	基礎飛行原理 23
3.1	牛頓運動定律 23
3.2	航空器的基本四力..... 24
3.3	無人飛機的飛行原理 31
3.4	無人飛機的飛行控制 34
3.5	無人直昇機的飛行原理 35
3.6	無人直昇機的飛行控制 36
3.7	無人多旋翼機的飛行原理..... 37
3.8	無人多旋翼機的飛行控制..... 38

3.9	載重與平衡	39
3.10	重量變化與重心移動的影響	40
第 4 章	氣象	43
4.1	導論	43
4.2	密度高度	43
4.3	大氣壓力的測量	44
4.4	風的影響	45
4.5	障礙物對風的影響	46
4.6	風切	47
4.7	大氣的穩定性	48
4.8	逆溫	48
4.9	溫度與露點	49
4.10	雲系	51
4.11	氣團	52
4.12	鋒面	53
4.13	山區飛行	53
4.14	積冰	54
4.15	雷雨的循環	54
4.16	航空氣象服務	56
第 5 章	緊急處置與飛行決策	61
5.1	航空生理學	61
5.2	緊急處置原則	68
5.3	飛行決策	69
第 6 章	附錄	79

6.1	參考資料	79
6.2	我國民用/軍民合用機場 ICAO 航用地名代碼.....	80
6.3	參考檢查項目	81
6.4	民用航空法—第 9 章之 2 遙控無人機專章	82
6.5	遙控無人機管理規則	87
6.6	遙控無人機學科模擬試題.....	119

圖目錄

圖 1 學科測驗指南與模擬試題架構.....	1
圖 2 遙控無人機系統之基本組成.....	3
圖 3 遙控無人機之分類	8
圖 4 遙控無人機註冊規定	20
圖 5 遙控無人機檢驗規定	20
圖 6 遙控無人機人員證照考驗流路.....	21
圖 7 遙控無人機飛航活動注意事項.....	21
圖 8 遙控無人機活動申請能力審查.....	22
圖 9 遙控無人機飛安相關事件通報.....	22
圖 10 航空器的作用力平衡	25
圖 11 文氏管原理示意圖	26
圖 12 機翼升力的產生.....	27
圖 13 不同速度時攻角改變的程度	30
圖 14 無人飛機操控、移動、仰轉軸及穩定型態	33
圖 15 尾旋翼扭力的產生	35
圖 16 多旋翼飛行器控制原理.....	38
圖 17 轉彎時的重力、離心力與負載係數	40
圖 18 傾斜角(坡度)在水平飛行中與負載係數的改變	40
圖 19 無人飛機的重心變化	41
圖 20 無人直昇機的重心變化.....	42
圖 21 山岳亂流.....	46
圖 22 建築物產生之亂流影響.....	47
圖 23 進場時微爆氣流會造成的影響.....	48
圖 24 溫度變化表	49
圖 25 鋒面類型.....	53
圖 26 雷雨發展、成熟與消散的三個階段	55
圖 27 中央氣象局組織圖	56
圖 28 臺北航空氣象中心組織圖	57
圖 29 航空氣象服務網.....	58
圖 30 視野掃描的技巧.....	67

圖 31 風險管理程序	71
圖 32PAVE + DECIDE 決策程序	77

表目錄

表 1 航空器(遙控無人機)的基本四力	25
表 2 標準大氣壓力	45
表 3 不穩定氣團與穩定氣團之特性	52
表 4 例行與預報氣天氣現象代碼	60
表 5 壓力的來源	63
表 6 酒精攝取量及行為變化	66
表 7 風險管理三階段	70
表 8 危害飛安的五種心態及解決方案	73
表 9 航空決策模式	75
表 10 操作遙控無人機常見之作業陷阱	77

縮略語

民航局	交通部民用航空局
民航法	民用航空法
測驗指南	遙控無人機學科測驗指南與模擬試題
管理規則	遙控無人機管理規則
ADM	Aeronautical Decision-Making
ATMP	Air Traffic Management Procedures
FAA	Federal Aviation Administration
ICAO	International Civil Aviation Organization
ISA	International Standard Atmosphere
PHAK	Pilot's Handbook of Aeronautical Knowledge

本 頁 空 白

第1章 前言

本章首先說明「遙控無人機學科測驗指南與模擬試題」的目的、架構，再敘述遙控無人機的基本概念、系統組成、操作人員組成、技術特點(如飛行控制系統、導航系統、動力系統、無線通訊等)，最後依「遙控無人機管理規則」內容介紹遙控無人機的構型與重量分類，以方便讀者建立正確的「遙控無人機」操作與應用觀念。

1.1 目的

本「遙控無人機學科測驗指南與模擬試題」(以下稱測驗指南)之目的，係提供一般民眾和各類專業人員，為取得遙控無人機操作人之普通及專業操作證，所應具備之相關知識為基礎。惟操作人須另以交通部民用航空局(以下稱民航局)、地方政府相關公告與民航通告等飛航安全資訊作為補充。

1.2 遙控無人機學科測驗指南與模擬試題架構

本測驗指南包含民用航空法(以下稱民航法)及相關法規、基礎飛行原理、氣象、緊急處置與飛行決策等四大主要章節，(架構如下圖1)，並將民航法第九章之二遙控無人機專章、遙控無人機管理規則(以

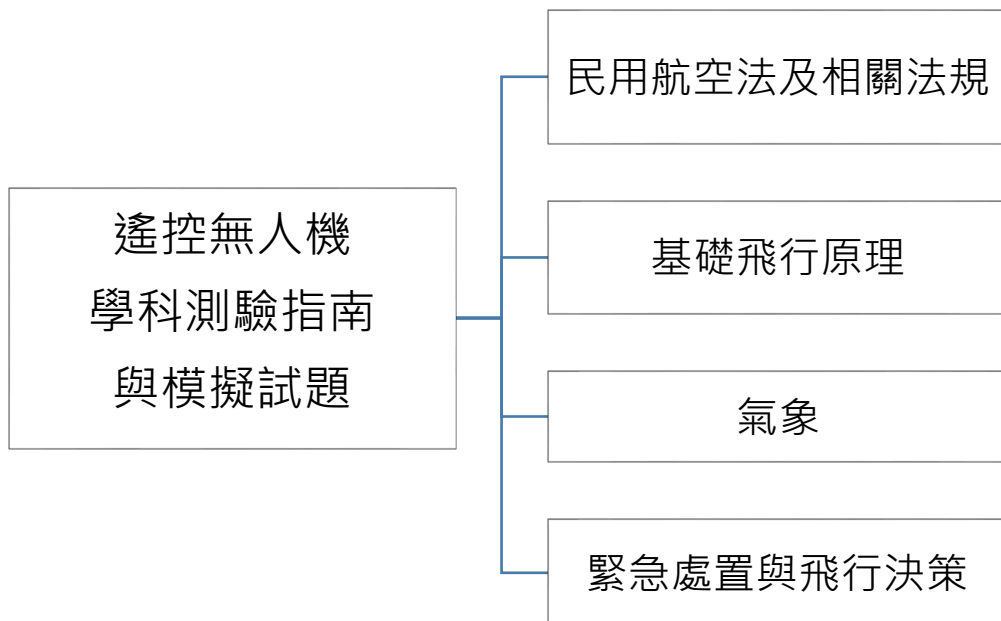


圖 1 學科測驗指南與模擬試題架構

下稱管理規則)及學科試題範例等收錄於附錄內，供作參考。

本測驗指南各章節之內容及圖表，主要是參考我國民航法規、民航通告、飛航指南、航空氣象服務網、中央氣象局、美國聯邦航空總署(Federal Aviation Administration, FAA)之公開教材「操作人知識手冊」(Pilot's Handbook of Aeronautical Knowledge, PHAK)及「直昇機飛行手冊」(Helicopter Flying Handbook)等文件編訂而成¹。

1.3 遙控無人機基本概念

依民航法定義，遙控無人機係指：「自遙控設備以信號鏈路進行飛航控制或以自動駕駛操作或其他經民用航空局公告之無人航空器」。早期僅限於國防、軍事等用途，主要執行偵察、監視、觀測等任務以及高危險或性質單調的 3D(Danger, Dirty, and Dull)任務。民間相關應用則在近十餘年間，受微機電、無線電數位傳輸與網際網路等技術應用而蓬勃發展。市售遙控無人機一般民眾均可輕易購取使用，然由於遙控無人機類型繁多，操作人選購時宜配合自身需求，並留意產品使用限制、操作性能及保固範圍，以確保操作安全。

1.4 遙控無人機與操作人員組成

1.4.1 遙控無人機系統

遙控無人機系統(如下圖 2)由遙控無人機(機體)、遙控設備、通訊及控制信號鏈路以及其他附屬裝置(如火箭、彈射軌道、降落傘等發射回收裝置)組合而成的完整系統。

- (1) 遙控無人機(機體)：包括機體結構與外型、動力系統、自動駕駛與飛行控制系統、導航系統(如全球定位系統 Global Positioning System, GPS、慣性導航 Inertial Navigation System, INS)等，並攜帶任務所需之酬載。
- (2) 遙控設備：包括由地面的操控人員、監控人員或資料分析解讀人員使用的硬體設備，如訊號與指令傳輸設備及資訊接收分析設備等。

¹ 其他參考資料，請參照第 9.1 節參考資料。

- (3) 通訊與控制信號鏈路：通訊與控制信號鏈路指無人機及遙控設備間為操作飛行管理目的之資料鏈接。通訊鏈路指遙控設備端與飛航管制單位間之通訊鏈接；控制信號鏈路則提供遙控設備與無人機間之命令(Command)或控制(Control)功能，也稱為 C2 Link。

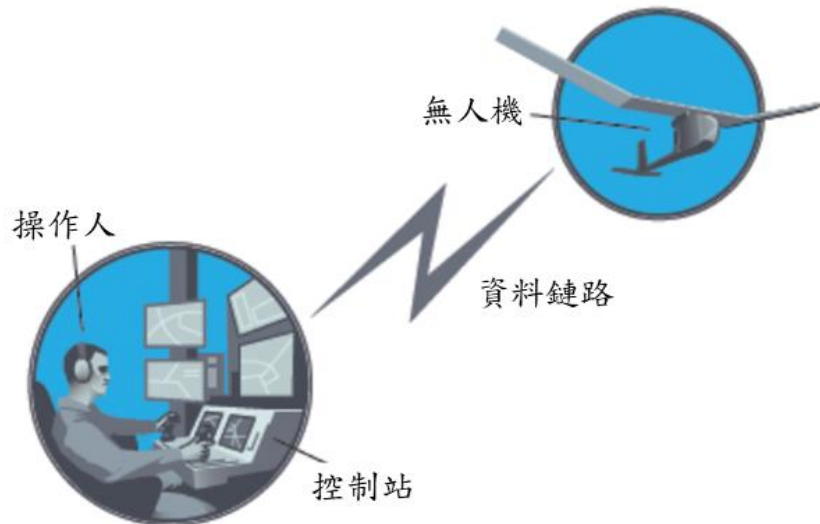


圖 2 遙控無人機系統之基本組成
(圖片來源：FAA)

1.4.2 遙控無人機之操作人員組成

遙控無人機雖稱為「無人機」，但仍需由人員執行操作，透過遙控設備對無人機下達指令。因此無論是設計、製造、計劃、執行、操作層面都還是要由人員來掌握及操控，所以人為因素在整體飛行過程中佔了很重要的一部分。而在操作遙控無人機時，基本的人員組成包括：

- (1) 操作人：指對於遙控無人機飛航活動期間，實際操控遙控無人機之人員。遙控無人機於飛航活動期間，其操作人對遙控無人機之處置有最後決定權。操作人有二人以上者，應於飛航活動前指定一人為最後決定權人，未指定前，不得從事飛航活動。
- (2) 目視觀測員：指持有遙控無人機操作證，並於遙控無人機活動期間，提供遙控無人機操作人必要飛航資訊之人員。

(3) 使用人：從事遙控無人機活動之個人、組織或法人。

1.5 遙控無人機技術特點

1.5.1 飛行控制系統

作為遙控無人機的靈魂，飛行控制系統可以說是遙控無人機運作的核心，它最主要的功能包括執行起飛、航行及降落等動作。完整的飛行控制系統包括感測器（用以獲得空速、溫度、壓力高度、控制面、失速警告、油量、結冰等資訊）、機載計算機（用以計算與飛行任務相關的所有參數和相關數值）和伺服器（就是馬達或致動器，用以接收命令並輸出外力）等三大項目，來有效執行遙控無人機飛行時的姿態及穩定控制、任務管理和緊急控制模式等不同功能。

要特別注意的是，安裝在遙控無人機各處各種感測器²是飛行控制系統的基礎，用以保持所需的控制精度在容許範圍內。但為配合遙控無人機的實際狀況，也就是在不同飛行環境及不同用途下，應審慎選用適當的感測器。例如：氣壓高度計是飛行控制系統中一個靈敏度很高的壓力感測器，但它容易受到外界氣流擾動影響，如果要即時準確測量遙控無人機的高度變化，可以配合使用雷射測距儀（Laser Rangefinder）或超音波等其他感測器。

1.5.2 導航系統

遙控無人機飛行時須依據相對於固定座標系的參考座標系，而此遙控無人機參考座標系的位置、速度、航向及飛行姿態等可由導航系統提供，以引導遙控無人機依指定航線作準確無誤的飛行。遙控無人機導航系統一般分為非自主（如 GPS）和自主（慣性導航）兩大類，非自主導航系統有易受干擾的缺點，而自主導航系統則有誤差積累增大的缺點。慶幸的是，隨著遙控無人機的市場需求及技術發展，前述兩大類導航系統的缺點都已獲得大幅改善。

在可預見的將來，遙控無人機將朝向自動避讓、物件精準投擲或自動進場降落等功能發展，而這些發展都需要高精度、高可靠性、高抗干擾等的技術特性。也就是說，未來遙控無人機導航系統與自動避

² 如量測角速率、加速度、姿態、高度和空速等感測器。

讓系統的發展，重點應包括慣性導航、多感應器融合、GPS、光電系統技術整合等。

1.5.2.1 全球定位系統(Global Positioning System, GPS)

全球定位系統是美國國防部為軍事上定位及導航目的而研製並維護的中距離圓形軌道衛星導航系統，後來推廣應用於民間導航定位及各種測量作業。

其衛星星座原本設計由 24 顆衛星組成，其中 21 顆為工作衛星，3 顆為備用衛星。24 顆衛星均勻分布於 6 個軌道上，即每個軌道上有 4 顆衛星。衛星軌道接近為圓形，衛星高度大約兩萬公里，繞行地球一週約需 12 小時，如此可保證在全球任何地點、任何時刻至少可以觀測到 4 顆衛星。截至 107 年 10 月 18 日，在軌的工作衛星共有 31 顆，不包括備用衛星。

全球定位系統之衛星於太空中不斷向地面發射訊號，地面用戶則使用 GPS 接收機接收來自衛星之各種 GPS 訊號，並利用各種不同訊號特性，計算地面用戶的三維位置及時間。

全球定位系統之特點包括：(1) 全天候，不易受任何天氣的影響；(2) 全球覆蓋率高達 98%；(3) 三維定點、定速、定時高精度；(4) 測站間無需進行通訊；(5) 快速、省時、高效率；(6) 應用廣泛、多功能；(7) 可移動定位。

全球定位系統之衛星所發射的訊號型態，包括電碼觀測量 (Code) 與載波相位觀測量 (Carrier Phase) 兩類：(1) 電碼訊號可即時定位，主要應用在飛機、船隻等之導航，其單點定位精度只有 20~40 公尺。為了解決這個問題，近年來差分全球定位系統 (Differential GPS, DGPS) 技術發展快速，其單點定位精度已可達 1 公尺以內；(2) 載波訊號須事後處理計算，主要應用在高精度工程測量，其單點定位精度可達公分級以內。

1.5.2.2 慣性導航系統

慣性導航系統 (Inertial Navigation System, INS) 是一個使用加速計和陀螺儀來測量物體的加速度及角速度，並用計算機來連續估算運動物體位置、姿態和速度的輔助導航系統。它不依賴於外部參考，

也不向外部輻射能量，所以不會受到外界的干擾或欺騙。其工作環境不僅包括空中的飛彈和飛機、地面的車子，還有水下的潛艇。慣性導航的基本工作原理是以牛頓力學定律為基礎，首先測量運動物體在慣性參考系的加速度和角速度，再將它對時間進行積分，最後把積分結果轉換到導航座標系中，就能夠得到在導航座標系中的位置變化（如向東或向西的運動）、速度變化（速度大小或方向）和姿態變化（繞各個軸的旋轉）等資訊。

慣性導航系統是一種推算導航方式，也就是從一個已知的起始位置當作初始條件，再由連續測得的運動物體航向角和速度不斷推算出其下一點的位置，因此可連續描繪出運動物體的最新位置。慣性導航系統中的重要元件陀螺儀用來形成一個導航座標系，使加速計的測量軸固定在該座標系中，並給出航向和姿態角；另一個重要元件加速計則用來測量運動體的慣性加速度，經過對時間的一次積分得到慣性速度，然後以起始位置作初始條件再次積分就可得到慣性位置。

因為慣性導航系統經由積分過程而產生導航資訊，其定位誤差會隨時間累積而增大，長期精度不可盲目信賴。因為慣性導航系統以起始位置作積分的初始條件，每次使用之前都要進行初始對準。慣性導航系統設備價格較昂貴。慣性導航系統不能像 GPS 系統一樣提供時間資訊。

1.5.3 動力系統

不同的動力系統種類使用於不同用途的遙控無人機，但不論如何，動力系統都朝向體積小、重量輕、成本低、可靠度高等方向發展。而目前遙控無人機使用的動力系統可略分為：

- (1) 往復式（活塞）發動機：是一種利用一個或多個活塞將壓力轉換成旋轉動能的發動機；適用於低速、低空的中、小型無人機。輕量化、小型化的往復式發動機也裝置於航空模型直昇機或航空模型飛機上。
- (2) 渦輪發動機：是一種利用熱能轉換成機械能輸出的發動機；

高速無人機使用推重比高但壽命短之消耗性渦輪發動機，高空或長滯空的大型無人機則使用渦輪風扇發動機或渦輪螺旋槳發動機以節省燃料。

- (3) 無刷電動馬達：是一種沒有電刷和換向器的直流電動馬達；娛樂/運動級航空模型或小型無人機一般使用電池驅動無刷電動馬達，續航時間通常小於 30 分鐘。

隨著渦輪發動機不斷改善推重比及延長使用壽命，而且持續降低油耗，增加續航時間，未來極有潛力取代活塞發動機，成為遙控無人機動力系統的主流。另外，太陽能、氫能、鋰電池等均可期待為小型遙控無人機提供更為持久的能量來源，其中鋰電池的長時間應用有賴於無線充電的技術發展。

1.5.4 無線通訊系統

無線通訊系統為遙控無人機系統中的關鍵技術，執行對遙控無人機之命令與控制 (C2) 鏈路及酬載對地面之圖像資料傳輸 (圖傳) 等工作。一般的遙控無人機多以 2.4GHz 或 5.8GHz 之頻段進行控制或圖傳。其中 2.4GHz 主要為上行控制鏈路 (Uplink)，執行遙控無人機的控制；5.8GHz 主要為下行鏈路 (Downlink)，執行圖像或數據傳輸等遙測功能。除少數航空模型仍採用類比方式的控制鏈路外，控制鏈路基本上已全面數位化；圖像資料傳輸則兼有類比與數位兩種方式。

隨著通訊科技愈來愈往高速、寬頻、保密、抗干擾等方向發展，遙控無人機的任務能力預期會有更大的成長。因此，隨著機載感測器精度和任務複雜度的上升，機載處理器的運算需求也必將隨之提高，射頻傳輸速率將繼續倍增，也可能採用雷射技術等以實現大容量、高解析度的圖像資料數位傳輸。

1.6 遙控無人機之分類

依國際民航組織(International Civil Aviation Organization, ICAO)之定義，無人航空器(Unmanned Aircraft)包括：無人氣球(Unmanned

free balloons)與遙控無人機(Remotely Piloted Aircraft, RPA)。本指南依據管理規則，依將遙控無人機構造及操作人員操作證重量級別，進行分類(如圖 3)。

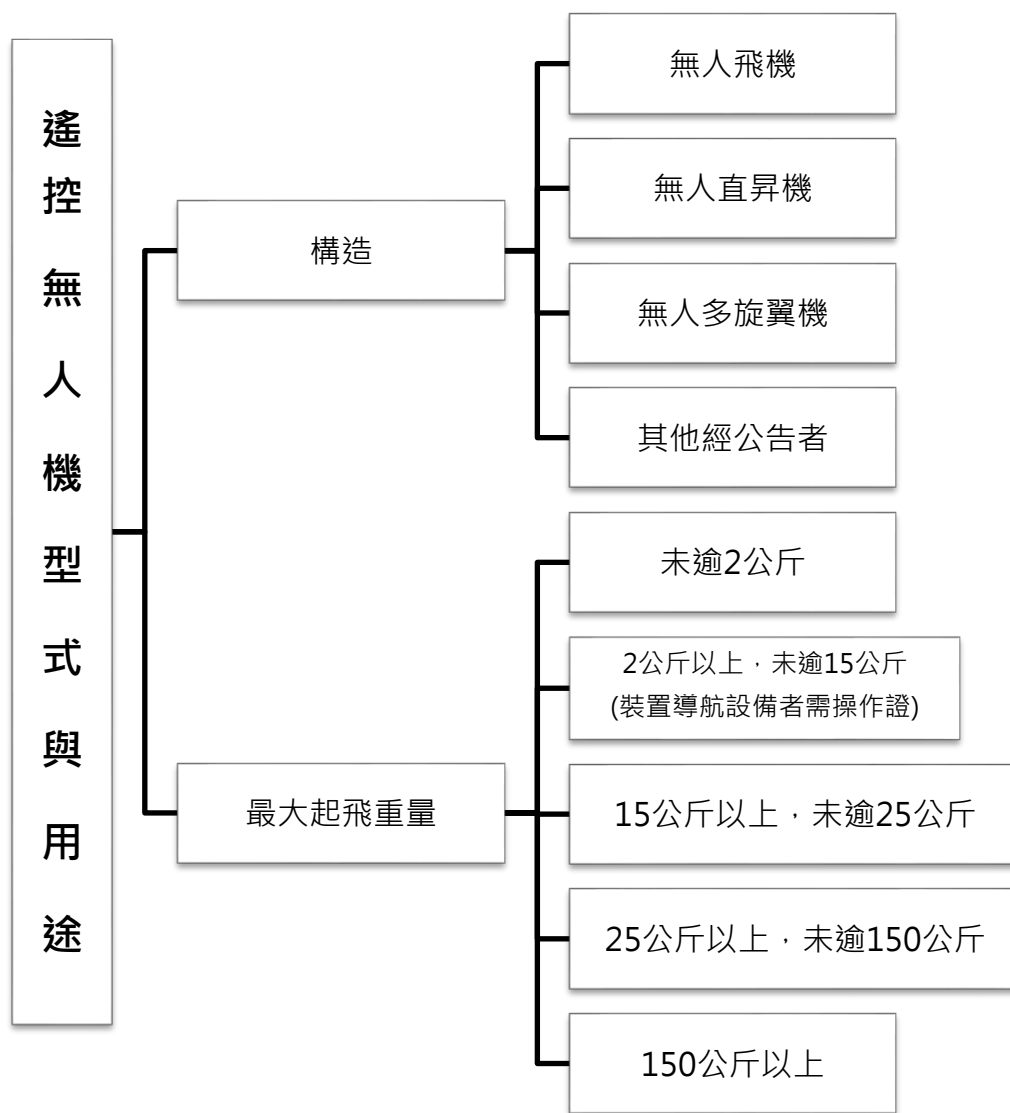


圖 3 遙控無人機之分類

第2章 民用航空法及相關法規

本章從法規的角度來說明遙控無人機管理規範。首先說明遙控無人機的註冊管理、操作證適用對象、報考資格、種類等，接著介紹遙控無人機設計、製造、改裝之檢驗規定等，再敘述遙控無人機的操作規則、禁止操作區域、禁止操作之行為、無過失責任與其他不法行為、違反相關規定之處罰、責任保險等，使讀者能夠體會遙控無人機的相關法律規範及所有人、操作人的責任。其重點如下：

- **遙控無人機註冊**：自然人所有最大起飛重量二百五十公克以上者、政府機關(構)、學校或法人所有者，應辦理註冊。
- **操作人操作證**：操作最大起飛重量二公斤以上具導航設備者、操作政府機關(構)、學校或法人之遙控無人機者、操作未具導航設備且十五公斤以上之遙控無人機者應具有操作證。
- **遙控無人機檢驗合格證**：最大起飛重量二十五公斤以上(具導航設備)之遙控無人機，應辦理檢驗、其餘型式構造簡單者，依民航局公告可免驗。

2.1 導論

遙控無人機所有人及操作人均應負飛航安全之責，對遙控無人機為妥善之維護，並從事安全飛航作業及遵守其他法令規定。若被操作人作為犯罪工具或未受到良好的操作訓練，則可能會因操作不當而導致失控或墜落，進而造成他人生命財產損失，不但影響公共利益，也造成國家在管理上的困難。

因此，民航法增訂第九章之二遙控無人機專章，對於在建築物外圍之開放空間從事遙控無人機活動者，賦予遙控無人機所有人及操作人使用安全、風險管理、法令遵循及事件通報等責任。同時，將操作人身分依性質區分為：自然人、政府機關(構)、學校或法人等三類分別規範，期能調和新興科技、飛航與地面安全及行政管理間的平衡，引導及促進遙控無人機發展與應用。

另依據民航法第九十九條之十七之授權，由交通部訂定管理規則，規範有關遙控無人機之註冊、檢驗、人員測驗、發證、活動區域、操作限制、損害賠償與保險及管理等相关事宜，如圖 4 至圖 9。

2.2 註冊管理

2.2.1 註冊標示

2.2.1.1 遙控無人機註冊與註銷

辦理遙控無人機註冊之目的係基於後續管理之需求，並利用註冊時對操作人員進行教育宣導及操作範圍警示，以達安全使用之目的。故依據管理規則第六條規定，一般民眾(自然人)所有之最大起飛重量在二百五十公克以上之遙控無人機(含傳統之遙控飛機、航空模型機、無動力遙控飛機、個人自製遙控無人機、穿越機等)辦理註冊時，申請人應年滿十六歲，且未滿二十歲者，應另檢附其法定代理人之同意書。

若為政府機關(構)、學校或法人所有之遙控無人機，考量多為執行業務及學術研究之使用，基於公共利益及科技發展，經申請並獲同意後，即可在禁止飛航區和限制飛航區內從事飛航活動或排除操作限制。故不論政府機關(構)、學校或法人所有之遙控無人機重量、構造為何，皆須辦理註冊以便管理。

當遙控無人機有發生滅失、損壞致不能修復、報廢、永久停用、或所有權移轉之情形時，依據管理規則第七條規定，其所有人應於事實發生日起十五日內，向民航局申請註銷註冊。另按管理規則第九條規定，註冊號碼不得偽造、變造或矇領，並不得提供他人於未註冊之遙控無人機上使用。

2.2.1.2 註冊方式

遙控無人機所有人須於第一次從事飛航活動前完成註冊，並將註冊號碼明顯標示於遙控無人機上，以符合規定。遙控無人機之註冊方式，除特殊情況得以書面方式申請外，其餘均應按民航局所指定之資訊系統以電子化方式為之。註冊資料應包含無人機機身之型號、序號、性能資料等資訊以利管理，如所有人名稱、地址或電話有異動時，應申請變更註冊。惟註冊號碼之有效期限為二年，所有人得於期限屆滿前三十日內，檢附管理規章第六條第二項規定之文件向民航局申請延展。

2.2.1.3 註冊號碼標示

按管理規則第八條規定，遙控無人機所有人應依下列方式標明於顯著之處：

- (1) 以標籤、鐫刻、噴漆或其他能辨識之方式標明，且應確保每次飛航活動時都不會脫落，並保持清潔，以明顯辨識。
- (2) 標漆位置應置於遙控無人機之固定結構的外部。
- (3) 其顏色應使註冊號碼與背景明顯反襯，且能簡單以目視之。

2.2.2 操作人操作證

核發操作證之目的，係為確保操作人於操作前具備相關飛航知識並熟悉管理規範，並在操作時能夠達到一定的操作熟練度與緊急應變之能力。故依據管理規則第四章之規定，由民用航空局發給操作人學習操作證、普通操作證及專業操作證。同時，依據管理規則附件九之規定，辦理操作證申請、測驗、體格檢查、操作權限及教學資格等核發作業。對於遙控無人機之構造、重量、操作限制及教學資格則加註於操作證上。

2.2.2.1 操作證之對象

操作下列各項遙控無人機之操作人於從事飛航活動前，依管理規則第十九條，操作人應取得民航局所核發之遙控無人機操作證後，始得操作：

- (1) 遙控無人機為政府機關(構)、學校或法人所有者。
- (2) 遙控無人機為自然人所有，而最大起飛重量在二公斤以上未達十五公斤，且裝置導航設備者。
- (3) 遙控無人機為自然人所有，而最大起飛重量在十五公斤以上者。

2.2.2.2 操作人報考資格

符合下列一項資格，且年滿十六歲者，可申請學習操作證；年滿十八歲者，可報考普通操作證或專業操作證：

- (1) 具中華民國國籍在臺灣地區設有戶籍之我國國民。
- (2) 外國人、大陸地區人民、香港或澳門居民或臺灣地區無戶籍之國民³，經許可停留或居留一年以上者。

2.2.2.3 操作證之申請

遙控無人機操作人，於操作前應持有有效之操作證。申請各類操作證測驗時，依下列辦理：

- (1) 學習操作證：申請人須年滿十六歲，申請後由民航局發給學習操作證。持有人得於持有遙控無人機普通操作證或專業操作證之操作人在旁指導下，依其普通操作證或專業操作證所載之構造分類，學習操作最大起飛重量未達二十五公斤之遙控無人機。
- (2) 普通操作證：申請人須年滿十八歲，經學科測驗合格後，由民航局發給普通操作證。持證者可操作自然人所有最大起飛重量二公斤以上但未達十五公斤，且裝置導航設備之遙控無人機。
- (3) 專業操作證：申請者應年滿十八歲並符合相關經歷規定後，經體格檢查及學、術科測驗合格後，由民航局發給。持證者可操作政府機關(構)、學校或法人所有之遙控無人機以及自然人所有最大起飛重量十五公斤以上之遙控無人機。
- (4) 惟操作屬自然人所有之遙控無人機，最大起飛重量在二公斤以上，未滿十五公斤，若未裝置導航設備者(如航空模型機)則得免申請操作證。

2.2.2.4 操作證之測驗

學科測驗依據管理規則附件九之規定，學科測驗成績最高為一百分，及格標準為八十分。測驗項目包含：**(1)民用航空法及相關法規；(2)基礎飛行原理；(3)氣象；(4)緊急處置與飛行決策。**

³ 指未曾在臺灣地區設有戶籍之僑居國外國民，或取得、回復我國國籍，但尚未在臺灣地區設有戶籍之國民。【入出國及移民法§3 五】

術科測驗時，由應考人自備符合如管理規則附件十二之遙控無人機之規格應考，另依管理規則附件九之附表實施術科測驗項目。

此外，依管理規則第二十二條規定，申請遙控無人機專業操作證者，其術科測驗應於學科測驗通過日起一年內完成；未完成者則應重新申請學科測驗。學科測驗合格後，經術科測驗合格者，應於術科測驗合格日起三十日內，檢附學科及術科合格證明文件向民航局申請發證。但有正當理由，並向民航局申請核准延展者不在此限。若術科測驗成績不及格者，就其不及格之部分，得於收到成績通知三十日後再行申請複測。

2.2.2.5 操作證之有效性

依管理規則第二十三條規定，各類操作證之有效期限為二年。普通操作證及專業操作證之屆期換證及測驗加簽，依下列規定辦理：

- (1) 屆期換證：操作人除經撤銷或廢止各類操作證外，得於屆期前三十日內檢附二年內之半身照片及有效操作證影本，向民航局申請換證。但各類專業操作證非經重新體格檢查及測驗合格，不得辦理換證。
- (2) 測驗加簽：操作人申請增加不同構造、重量、高級術科測驗項目者，應經民航局術科測驗合格後辦理加簽。

若遙控無人機操作證之記載之事項有變更時，應由其持有人於事實發生之日起十五日內，檢附原操作證，向民航局申請換發。此外，遙控無人機操作證遺失或損毀時，應由持有人敘明理由，向民航局申請補發或換發。

2.2.3 設計、製造、改裝之檢驗

遙控無人機之設計、製造或改裝，除型式構造簡單且經民航局核准或公告者得免檢驗外，其餘遙控無人機應由設計者、製造者或改裝者按管理規則第三章及附件二申請型式檢驗，經檢驗合格者發給型式檢驗合格證或補充型式檢驗合格證，並發給合格標籤。若需試飛檢驗性能時，則須依管理規則第十四條及附件六遙控無人機試飛活動管理規定，向民航局申請核准後始能進行試飛作業。

最大起飛重量在二十五公斤以上之遙控無人機，其遙控無人機之所有人應申請實體檢驗，並取得相關檢驗合格證後，始得從事飛航活動；若自外國進口之遙控無人機，則由進口商向民航局申請檢驗或認可。若為個人自製，且僅供自用而不販售之遙控無人機，得合併型式檢驗及實體檢驗，經檢驗合格後發給特種實體檢驗合格證。

遙控無人機經型式檢驗合格後，除因改裝需重新辦理檢驗並辦理註冊異動外，無需再辦理定期檢驗。此外，遙控無人機之實體檢驗合格證有效期間自檢驗合格日起為三年；特種實體檢驗合格證之有效期限，由民航局依其設計、製造、改裝之性能核予，並註記於合格證上，但有效期限最長不逾三年。

2.2.4 外國人於我國從事遙控無人機活動

為管理「外國人」(如來我國觀光之外籍旅客)於我國境內操作遙控無人機之行為，考量國際間平等互惠原則，並可促進觀光產業發展下，若外國人領有外國政府對於所持有遙控無人機之註冊、操作證及檢驗合格等證明文件者，得依管理規則第三十八條規定，向民航局申請認可後，在遵守我國相關法令下從事遙控無人機活動。

2.3 操作管理

2.3.1 操作規則

操作遙控無人機時，操作人除應考量實際操作遙控無人機之尺寸大小、天候等因素。並應隨時監控及警覺周遭狀況，保持與遙控無人機在視距範圍內，並掌握及避讓其他航空器、超輕型載具、遙控無人機或障礙物，防止與其他航空器、建築物或障礙物接近或碰撞。故依民航法第九十九條之十四，一般民眾於操作時應遵守下列規定：

- (1) 遙控無人機飛航活動之實際高度不得逾距地面或水面四百呎。
- (2) 不得以遙控無人機投擲或噴灑任何物件。
- (3) 不得裝載依第四十三條第三項公告之危險物品。
- (4) 依第九十九條之十七所定規則之操作限制。

- (5) 不得於人群聚集或室外集會遊行上空活動。
- (6) 不得於日落後至日出前之時間飛航。
- (7) 在目視範圍內操作，不得以除矯正鏡片外之任何工具延伸飛航作業距離。
- (8) 操作人不得在同一時間控制二架以上遙控無人機。
- (9) 操作人應隨時監視遙控無人機之飛航及其周遭狀況。
- (10) 應防止遙控無人機與其他航空器、建築物或障礙物接近或碰撞。

政府機關(構)、學校或法人，可依管理規則第三十條、第三十一條、第三十二條規定，檢附相關文件，向民航局申請，經民航局能力審查核准後，可排除前述(1)~(8)款相關之操作限制；然活動前再依據個案地點，檢具書面資料向民航局或地方政府申請活動許可。若涉及前述第(5)款之限制者，則應先取得活動場地之直轄市、縣(市)政府及相關中央主管機關之同意。必要時得協調活動範圍之地方政府或目的事業主管機關。

另為配合防救業務等政府其他部門需要，針對軍事、警察、消防、司法、調查、環保等法定職務的活動，依管理規則第三十三條規定向民航局申請於警戒或指定區域或禁止、限制區域內活動。另於災害防救期間之遙控無人機活動，應遵依災害防救法及災害應變中心之指揮、督導、協調。此外，政府機關(構)、學校或法人應保存遙控無人機之註冊號碼、活動日期、活動區域、飛航時間、飛航性質、操作人員姓名、維護或修理、改裝等紀錄應保存二年。

此外，按管理規則第二十八條規定，操作人從事遙控無人機飛航活動時，除政府機關(構)、學校或法人依管理規則第三十二條第一項規定取得民航局許可，不在此限外，均應遵守下列操作限制：

- (1) 應遠離高速公路、快速公(道)路、鐵路、高架鐵路、地面或高架之大眾捷運系統、建築物及障礙物三十公尺以上。
- (2) 不得於移動中之車輛或船艦上操作遙控無人機。
- (3) 最大起飛重量未達二十五公斤且裝置導航設備之遙控無人機最大飛行速度每小時不得超過八十七海里或一百六十公里。
- (4) 延伸視距飛航者，最大範圍為以操作人為中心半徑九百公

尺、相對地面或水面高度低於四百呎內之區域，且目視觀察員應與遙控無人機保持目視接觸，並提供操作人必要之飛航資訊。

2.3.2 視距內飛航

按民航法第九十九條之十四第一項第七款之規定，操作人僅得於目視範圍內操作遙控無人機。而目視範圍，除矯正鏡片(如：眼鏡)外，不得以任何工具延伸飛航作業距離(如：望遠鏡)，惟政府機關(構)、學校或法人經核准可排除此一限制。

此外，遙控無人機雖有裝置攝影機、GPS 等裝備，且可利用圖傳系統於螢幕上即時傳輸圖像，惟該影像並無法讓操作人即時監控鏡頭外之周遭狀況，仍有安全疑慮，因此圖傳功能不得作為操作無人機之主要依據，僅能作為輔助，亦不得以此延伸飛航作業距離至視距外。

然而，在未經特別核准的情況下，若欲延伸視距飛航，應依管理規則第二條之定義，操作人於視距外，藉由目視觀察員保持與遙控無人機在半徑三百公尺範圍內直接目視接觸，提供操作人必要飛航資訊之操作方式。惟延伸視距最大範圍，係以遙控無人機操作人為中心，半徑九百公尺且於相對地面或水面高度低於四百呎內之區域。

2.3.3 禁止操作之區域

民航法第四條規定：「空域之運用及管制區域、管制地帶、限航區、危險區與禁航區之劃定，由交通部會同國防部定之。」操作人操作遙控無人機時，其禁航區、限航區及航空站或飛行場四周之一定距離範圍內，嚴禁從事遙控無人機飛航活動；而航空站或飛行場四周之一定距離範圍則由民航局另行公告之。

因此，遙控無人機操作人，不得在未經核准或經公告禁止或限制飛航活動之區域從事遙控無人機飛航活動。在核准之區域內操作時，亦應遵守相關操作限制。惟政府機關(構)、學校或法人，若經民航局或直轄市、縣(市)政府許可後，操作人始得於禁止、限制區域內從事飛航活動，但不得超過許可之操作範圍及限制。而操作人從事遙控無人機飛航活動前，應考量下列情形：

- (1) 操作區域環境，包括氣象條件、空域、飛航限制及其他空中或地面之危害因素。
- (2) 遙控無人機一般操作、緊急程序與規定。
- (3) 遙控設備與遙控無人機間之通訊及控制信號鏈結情況良好。
- (4) 攜帶足夠之燃油或電池容量，並經考慮氣象預報狀況、預期之延誤及其他可能延誤遙控無人機降落之情形。

所謂限航區(Restricted Airspace)，係指包括總統府、軍事要地及核能電廠等地，除限制有人航空器飛越外，亦禁止操作遙控無人機。另地方政府得考量基於公益、安全、隱私性等因素後，公告開放或禁止遙控無人機活動區域(Fly or Non-fly Zone)及時間。禁止區域例如：人口聚集區、公園、風景區、鐵道、港口、電廠、水庫、矯正機關、國防軍事事務有關之處所等關鍵基礎設施。開放區域例如：非位於航空站附近的民航機起降航道下之寬廣區域或可供遙控無人機活動之公園。

有關中央及地方公告活動區域範圍之圖資，將整合地理資訊圖檔格式或以 APP 方式提供操作人查詢及應用。

2.3.4 其他禁止之行為

操作人除應遵守民航法第九十九條之十四所列各項操作規定外，亦應遵守社會禮儀、隱私權及相關法令，不得有下列行為：

- (1) 利用遙控無人機從事不法行為。
- (2) 無故利用遙控無人機窺視、竊聽他人非公開之活動、言論、談話或身體隱私部位者。
- (3) 無故利用遙控無人機進行錄音、照相、錄影或電磁紀錄竊錄他人非公開之活動、言論、談話或身體隱私部位者。
- (4) 無故利用遙控無人機侵入他人庭院、校舍、住宅、辦公室區域等，干擾及影響其他大眾活動之行為。

2.3.5 無過失責任與其他不法行為

操作遙控無人機者須具有相當程度的專業知識及操作技能，當操作遙控無人機不慎或故意造成他人生命、健康或財產受有損害時，受害人不易舉證操作人之過失，以致損害無法填補。

準此，我國民航法規定採無過失責任制度，或稱「嚴格責任」。依民航法第九十九條之十五規定，若操作遙控無人機，或自遙控無人機上落下或投下物品，不論故意、過失或不可抗力之因素，致他人死傷或毀損財物時，遙控無人機所有人均應負賠償責任。若遙控無人機所有人將遙控無人機交由他人操作，於操作時導致第三人受有損害，由所有人及操作人負連帶損害賠償責任。至於利用遙控無人機飛航性能所為之不法行為者，致生民事或刑事責任，除民航法有特別規定外，均依民法或刑法等相關法令規定賠償或處罰。

2.3.6 飛航安全相關事件之通報及處理

按管理規則第三十六條規定，所有人或操作人於操作遙控無人機發生所列之飛航安全相關事件時，應於發生或得知消息後二十四小時內填具管理規則附件十五之飛航安全相關事件報告表通報民航局。民航局若認有事件調查之需要、為穩定當事人情緒、為加強人員訓練或其他影響飛航安全之情況，民航局得暫停遙控無人機之操作或飛航活動。

2.3.7 違反相關規定之處罰及說明

對違反規範之遙控無人機操作人及所有人加以處罰，係為維持社會秩序、增進公共利益與安全。故相關罰鍰額度，均衡量整體利益、危害程度等客觀情況而定。

所有人或操作人如有下列行為，處以罰鍰並得沒入遙控無人機：

- (1) 飛航高度逾距地面或水面高度四百呎或於禁航區、限航區及航空站或飛行場四周一定距離範圍內從事飛航活動，對飛航亦或國家安全影響重大者。
- (2) 違反有關射頻識別、檢驗、認可、維修與檢查、飛航活動之活

動許可及內容、製造者與進口者之登錄及責任、飛航安全相關事件之通報等規定者。

- (3) 未依規定領有操作證而操作遙控無人機者、未投保或未足額投保責任保險，而從事遙控無人機活動者。
- (4) 違反有關遙控無人機註冊或標明註冊號碼之規定；直轄市、縣(市)政府公告之區域、時間及其他管理事項以及有關遙控無人機飛航活動應遵守之規定者。

2.3.8 責任保險

在目視範圍及遵守相關規範下，從事休閒娛樂性質的遙控無人機活動，其相關風險以自我管理為主。雖不強制投保責任保險，但操作人仍得經審慎考量後自行投保。

政府機關(構)、學校或法人從事無人機活動，具有頻繁操作及複雜作業等業務特性，且經申請核准後可免除相關的操作限制。因此，政府機關(構)、學校或法人於執行飛航活動前，均應依民航法第九十九條之十五第三項及第九十三條第一項規定投保責任保險。

總而言之，民眾在選購遙控無人機時宜多加考慮產品品質，並充分理解遙控無人機之性能、注意事項和使用手冊，並在操作時遵守民航法、管理規則、飛航規則及主管機關和地方政府所公告之飛航資訊，並且留意周遭飛航環境，保持警覺，以確保飛航安全。

註冊

交通部民用航空局
Civil Aeronautics Administration, MOTC

遙控無人機管理規則

註冊

- 自然人所有之最大起飛重量250g↑之遙控無人機
- 政府機關(構)、學校或法人所有之遙控無人機
(兩者均應由其所有人向民航局申請註冊)
- 備註：前項自然人應年滿十六歲；未滿二十歲者，應另檢附其法定代理人之同意書。

註冊號碼標示：

- 一、以標籤、鐫刻、噴漆或其他能辨識之方式標明。
- 二、標漆位置應為遙控無人機之固定結構外部。
- 三、其顏色應使註冊號碼與背景明顯反襯，且以肉眼即能檢視。

註冊號碼之效期為兩年，所有人得於期限屆滿前三十日內，檢附管理規則第六條第二項規定之文件向民航局申請延展。

圖 4 遙控無人機註冊規定

檢驗合格證

交通部民用航空局
Civil Aeronautics Administration, MOTC

遙控無人機管理規則

免驗	型式檢驗	實體檢驗	特種實體檢驗
25KG↓ 遙控無人機	✓		
25KG↑ 遙控無人機		✓	✓

免驗：僅需於系統登錄資訊。

型式檢驗：設計者、製造者或改装者申請型式檢驗，無期限。

實體檢驗：所有人申請實體檢驗，有效期限為三年。

特種實體檢驗：自行製造、使用者，得合併型式檢驗及實體檢驗為特種實體檢驗，最長不逾三年。

圖 5 遙控無人機檢驗規定

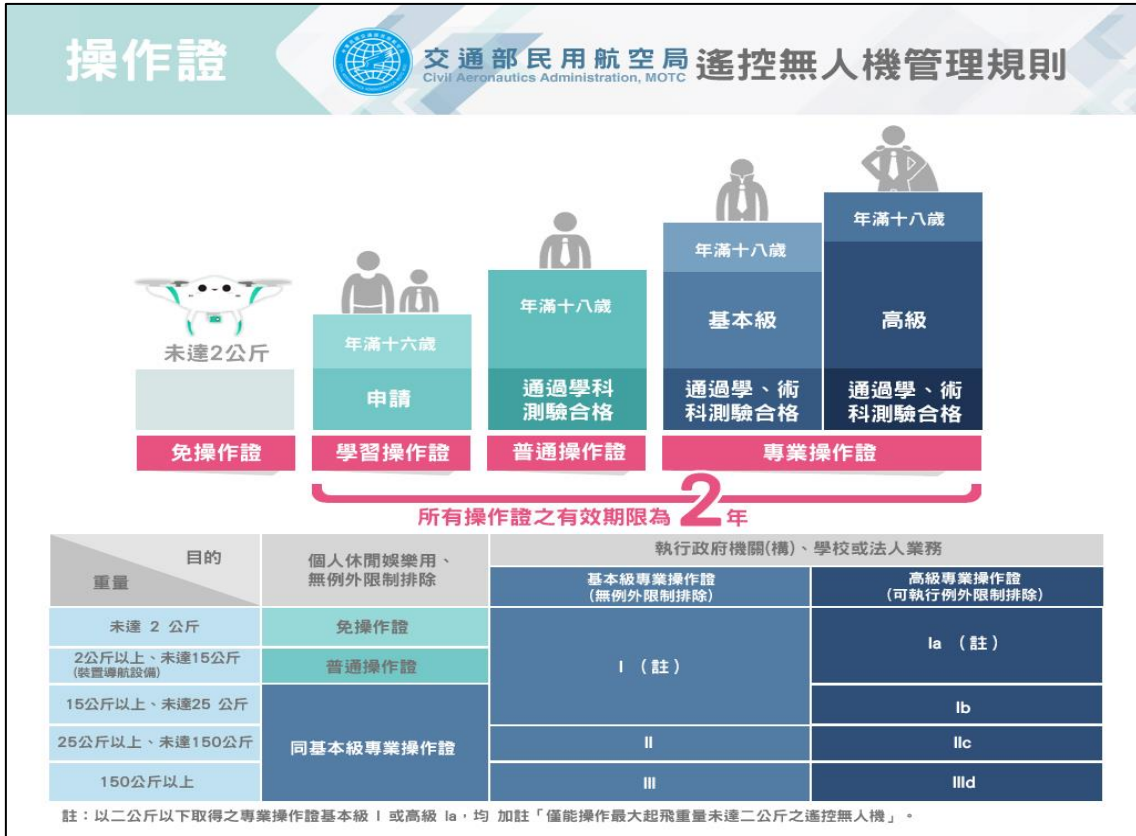


圖 6 遙控無人機人員證照考驗流路

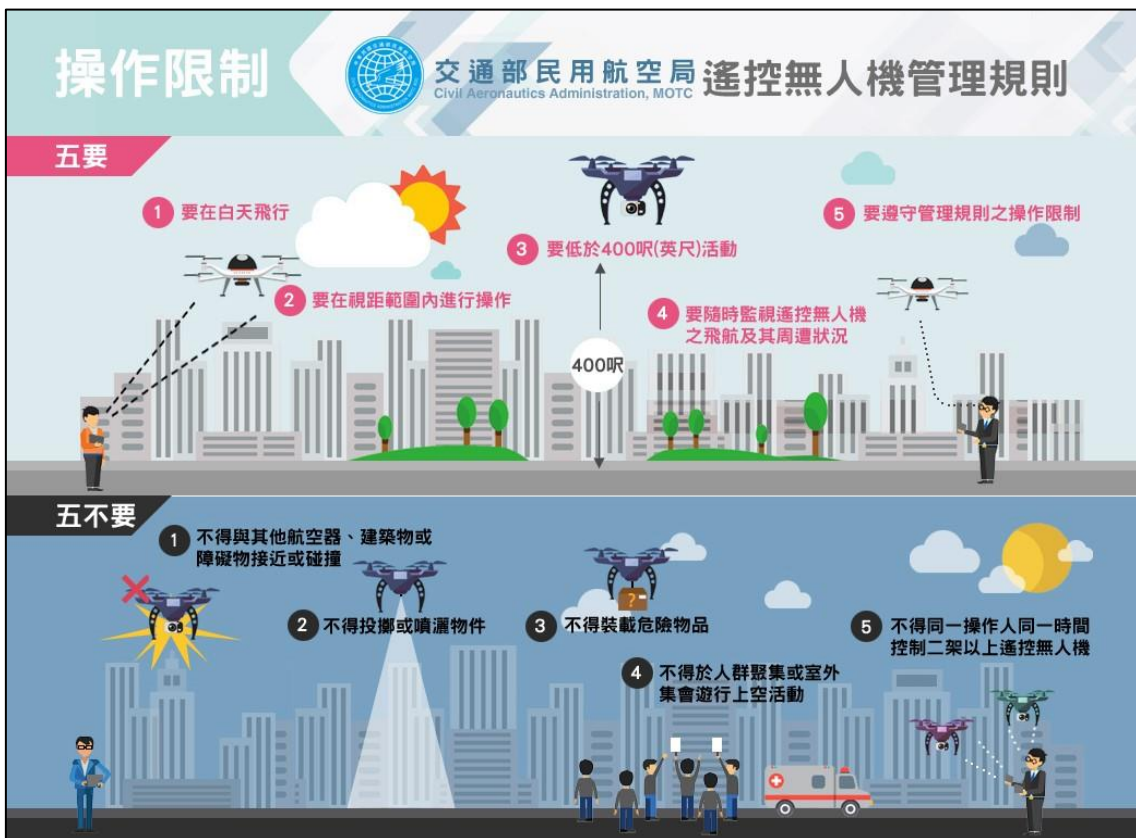


圖 7 遙控無人機飛航活動注意事項



圖 8 遙控無人機活動申請能力審查

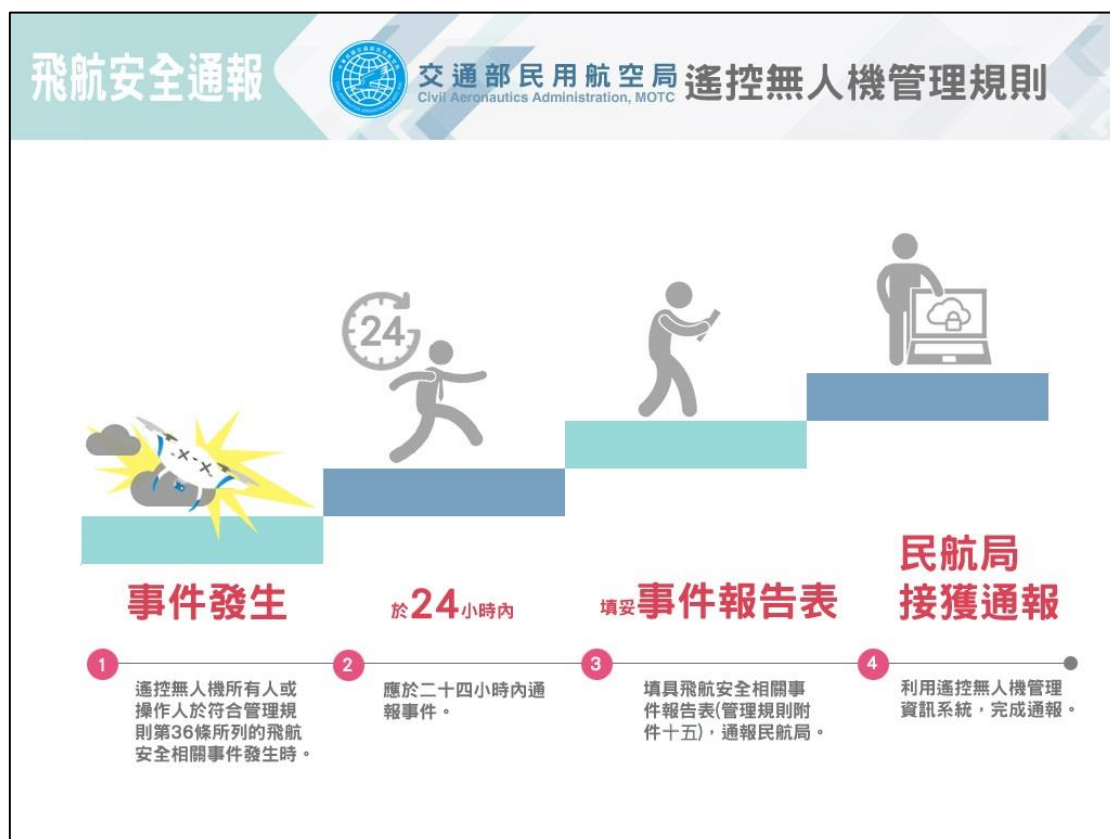


圖 9 遙控無人機飛安相關事件通報

第3章 基礎飛行原理

航空器係指任何藉空氣之反作用力，非藉空氣對地球表面之反作用力，得以飛航於大氣中之器物，遙控無人機亦為航空器的一種。由於遙控無人機具有比空氣重的航空器特性，無法單單只藉由空氣的浮力而上升，所以需要相對應的能量，來讓遙控無人機在空中飛行。因此利用了噴射推力或是螺旋槳的拉力，來使航空器產生升力進而在空中飛行。本章從學理層面解說遙控無人機飛行原理。首先說明牛頓運動定律、遙控無人機的基本四力(升力、推力、阻力、重力)，再分別針對無人飛機、無人直昇機、無人多旋翼機的飛行原理、飛行控制及載重平衡對飛行性能與操作安全的影響，建立讀者必要的飛行原理基礎。

- **無人飛機**：無人飛機因機翼固定，又稱為固定翼無人航空器。具有飛行速度快、酬載大、飛行效率高，不需太複雜控制，就可自行抵抗氣流而自行保持穩定的飛行。但缺點是需要有相當的跑道長度供起降之用。無人飛機必須藉由操縱控制面改變飛行姿態與軌跡，通常需有較大的活動範圍，並不適合於都會區域內使用。
- **無人直昇機**：透過旋翼槳葉產生升力，同時也能產生推力，可以自由調整姿態，定點盤旋、起飛與落地。無人直昇機透過旋翼可快速改變其飛行姿態，具有高度靈活的特性，並可垂直起降與懸停。
- **無人多旋翼機**：透過各旋翼間之協調來控制姿態，與無人直昇機同樣不需跑道，可垂直起降、空中懸停等。但無人多旋翼機如在操作中發生機械故障，必須由飛控系統重新組合各旋翼間的協調關係，緊急狀況處置較為不易。

3.1 牛頓運動定律

牛頓運動定律(Newton's laws of motion)提供了航空器如何保持飛行的一些基礎觀念。

3.1.1 牛頓第一定律

又稱「慣性定律」。亦即除非受到外力的影響，否則靜止的物體會保持在靜止的狀態，而行進間的物體，則會保持直線運動。操作人只要施加壓力，就可改變物體的方向或速度。

例如，若飛機在地面上完全靜止著，慣性會使得飛機處於一個完全靜止的狀態。若飛機保持固定的空速以直線行進，慣性則會使得飛機持續保持穩定的直線飛行。

3.1.2 牛頓第二定律

又稱「加速度定律」。亦即當物體受到所施加的力等於每次的動量變化。其加速度與物體的質量成反比，並與所施加的力成正比。這是考慮到為克服牛頓第一定律的因素，並涵蓋了方向和速度的變化，包括從靜止開始(正向加速)到停止(負向加速或減速)。

例如，遙控無人機於頂風飛行時，飛行速度就會變慢。若風從任一方吹來，倘若操作人沒有隨之修正，那航向就會受到風所施加的力而改變。

3.1.3 牛頓第三定律

對於每一個作用力，都有一個相等且相反的反作用力。例如，噴射機將燃燒的熱氣體往後推送以施加作用力，相對的有相等且相反的反作用力，將飛機往前推進。

3.2 航空器的基本四力

無論何種構造的航空器(或遙控無人機)，在空中飛行及前進時，都會受到升力、推力、阻力、重力這 4 個力相互作用的影響(如圖 10)。因此對於這 4 力的認識程度，也將影響到基本的操縱技巧，甚至是對於緊急狀況處置時的觀念應用。

推力由發動機提供，阻力由空氣產生，升力由機翼提供，重力由地心引力產生。我們可以把力分解為兩個方向的力：稱縱軸(X 軸)及垂直軸(Z 軸)，無人機等速直線飛行時 X 方向阻力與推力大小相同方

向相反，故 X 方向合力為零，無人機速度不變，Z 方向升力與重力大小相同方向相反，故 Z 方向合力亦為零，遙控無人機無升降起伏，保持等速直線飛行。

當 4 力相互抵消，合力為零的情況下，靜止的物體會保持在靜止的狀態，而在行進間的物體，則會保持直線運動。




圖 10 航空器的作用力平衡
(圖片來源：PHAK)

表 1 航空器(遙控無人機)的基本四力

種類	說明
推力 (Thrust)	為了要使航空器前進，由動力系統所產生的力
阻力 (Drag)	航空器於前進時，空氣與之相反的力
升力 (Lift)	機翼或旋翼上產生向上的力
重力 (Weight)	航空器的重量

3.2.1 升力 (Lift)

關於如何產生升力，使一個重於空氣的航空器能夠飛行於空中的問題，有兩個重要的基本理論：流體的連續性 (Continuity Equation) 和柏努利定律 (Bernoulli's Law)。

3.2.1.1 流體的連續性

流體的連續性說明，當流體 (包括液體和氣體) 連續運動流經一個切面面積變化的管道時，連續性假設認為流體足夠緻密，可以成為一連續體，而非離散的分分子，因此在同一時間內，流進任一切面的流體質量和從另一切面流出的流體質量是相等的。

流體的連續性定理闡述了流體在流動時，(1) 流速和管道切面之間的關係：流速和管道切面成反比；(2) 流速和壓力之間的關係：流速和壓力成反比。

3.2.1.2 柏努利定律

柏努利定律指出，無黏性流體的流動速度增加時，流體的壓力能或位能總和將減少；簡單的說，流體在一個管道中流動時，流速和壓力間的關係：流速大的地方壓力小，流速小的地方壓力大。換句話說，如果流體的速度越快，流體中的壓力就會越小。這就說明了氣流在通過飛機機翼上方表面時的情況。

而柏努利定律的應用之一，就是文氏管 (Venturi Tube)。文氏管又名喉形管，一個切面變化的圓錐管 (大→小→大)，最小處叫「喉頸」，流體流過時，由於管的切面縮小，流速增大而壓力降低；在同一時間內每一切面的流體流量相等。文氏管的原理就像是在洗車的水管出口處用力按壓，因為出口處的前後水流流量不變，按壓的這點因為水管切面縮小，流速一定必須變大才能維持不變的水量。當然，在流速變大後，該按壓點的壓力就會變小。(如圖 11)

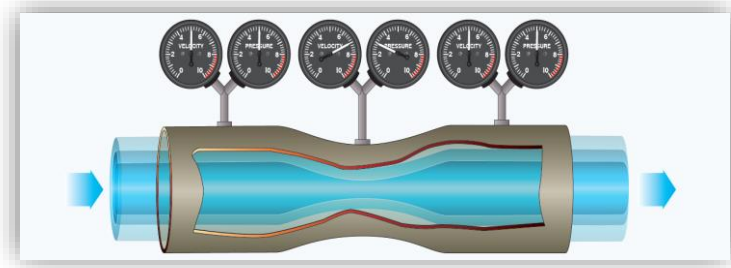


圖 11 文氏管原理示意圖
(圖片來源：PHAK)

航空器的機翼 (或旋翼) 是升力產生的地方，當氣流流過機翼時，氣流被機翼前緣分流為上下兩股，分別是上股氣流 A 和下股氣流 B，氣流 A 沿著機翼上表面 S1 的路徑流過機翼，氣流 B 沿著機翼下表面 S2 的路徑流過機翼，依據柏努利定律，因為 S1 的路徑距離大於 S2，所以沿著 S1 的氣流 A 速度較快、壓力較低，而沿著 S2 的氣流 B 速度較慢、壓力較高，而此上下兩股氣流的壓力差便產生向上的升

力。(如下圖 12 所示)

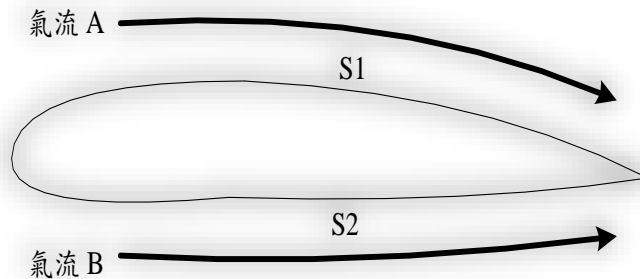


圖 12 機翼升力的產生

基於上述兩個理論 (流體的連續性和柏努利定律)，我們可以知道當機翼上、下表面出現了壓力差，而此垂直於相對氣流方向的壓力差之總和就是機翼的升力。無人飛機 (又稱為固定翼無人航空器) 的升力來源為固定的機翼，無人直昇機與無人多旋翼機的升力則來自轉動的旋翼。

3.2.2 推力 (Thrust)

依據牛頓第三運動定律 (作用力等於反作用力)，由螺旋槳所產生的拉力或噴射發動機所產生的推力，使無人飛機前進飛行。無人直昇機利用旋翼面傾轉，無人多旋翼機則利用數個旋翼間彼此協調方式，自原有升力中產生向前的推力分量。

螺旋槳推力是藉由槳葉本身的攻角設計與發動機所輸出的轉速而成。螺旋槳轉速通常以每分鐘轉數 (Revolution Per Minute, RPM) 來表示。

以無人飛機螺旋槳為例，螺旋槳攻角最大的位置在槳葉的根部，從根部 (攻角最大) 開始遞減到槳尖端 (攻角最小)。如果整片槳葉的攻角都一樣的話，因為槳葉從尖端到根部每一位置的切線流速都不同 (槳尖端流速最大，槳葉根部流速最小)，所產生的推力就會變得很不平均，這將使得槳葉效率變得很差。因此螺旋槳在原廠設計時，是依據發動機的轉速和空速做為基礎，精密計算後設計出符合最佳使

用效率的槳葉角度，大型無人飛機甚至會採用可變槳葉角度的螺旋槳。無人直昇機的旋翼可改變角度，無人多旋翼機的旋翼可以改變轉速，依飛行情況產生不同推力（或升力）。

3.2.3 阻力 (Drag)

航空器於飛行中，在空氣裡會產生各種阻力。阻力是與飛機運動方向相反的空气動力，它阻礙飛機的前進。按阻力產生的原因大致可分為寄生阻力與誘導阻力兩大類。對於飛行的航空器而言，除了也有這些阻力外，飛行速度接近音速時，還會另外產生震波阻力。

3.2.3.1 寄生阻力

寄生阻力包括摩擦阻力、形狀阻力及干擾阻力等三種，分別說明如下：

- (1) 當空氣流過航空器表面時，由於空氣粘性的關係，空氣與航空器表面發生摩擦，產生一個阻止航空器前進的力，這個力就是摩擦阻力。摩擦阻力的大小，決定於空氣的粘性、航空器的表面光滑度，以及航空器與空氣相接觸的表面積。空氣粘性越大、航空器表面越粗糙、航空器表面積越大，摩擦阻力就越大。
- (2) 由航空器外形前後壓力差形成的阻力叫形狀阻力（或稱壓差阻力）。人在逆風中行走，會感到阻力的作用，這就是一種形狀阻力。流線形的設計會使航空器外形變得平順，其目的就是為了減少形狀阻力。
- (3) 空氣流經航空器鄰近的兩部件時，此兩部件對氣流的影響相互干擾而產生的阻力叫干擾阻力。這種阻力容易產生在機身和機翼、機身和尾翼、機翼和發動機短艙、機翼和外掛載之間。

3.2.3.2 誘導阻力

航空器於飛行中，機翼上表面與下表面的氣流壓力不同，在機翼前緣會造成一股自下而上、由內而外翻轉的渦流，這道渦流造成相對

氣流的方向被往下拉，由機翼所產生的升力方向被往後傾，產生出向後的阻力，這種因產生升力而誘導出來的阻力稱為誘導阻力（或稱感應阻力），是航空器為產生升力而須付出的「代價」。航空器在失速前，當其攻角及升力增加時，其誘導阻力也隨之增加；當失速時，升力和誘導阻力都突然下降。

3.2.4 重力 (Weight)

重力是航空器本身之質量所受的地心引力。過重的重力對飛行有負面影響，故航空器機身的設計一般都是儘量採用較輕的材料。

3.2.5 影響升力和阻力的因素

升力和阻力是航空器在空氣中相對運動（相對氣流）所產生。一般來說，與航空器運動方向相反（或稱與氣流流向相反）的力叫阻力，與航空器運動方向垂直（或稱垂直於氣流流向）的力叫升力。影響升力和阻力的因素基本上有下列幾項：

- (1) 攻角（也就是機翼在氣流中的相對位置）。
- (2) 飛行速度（也就是空速）。
- (3) 空氣密度。
- (4) 航空器本身的特點（機翼面積、機翼形狀、表面光滑度、襟翼位置等）。

3.2.5.1 攻角對升力和阻力的影響

機翼翼弦與相對氣流方向所夾的角度叫攻角（Angle of Attack, AOA）。在飛行速度（空速）等其它條件相同的情況下，得到最大升力的攻角，叫做臨界攻角。在小於臨界攻角的情形下增大攻角，升力增大；但是如果超過臨界攻角後，再增大攻角，因機翼的上表面氣流流速過快而產生剝離造成紊流，使得升力反而減小，阻力急劇增大。（如圖 13）

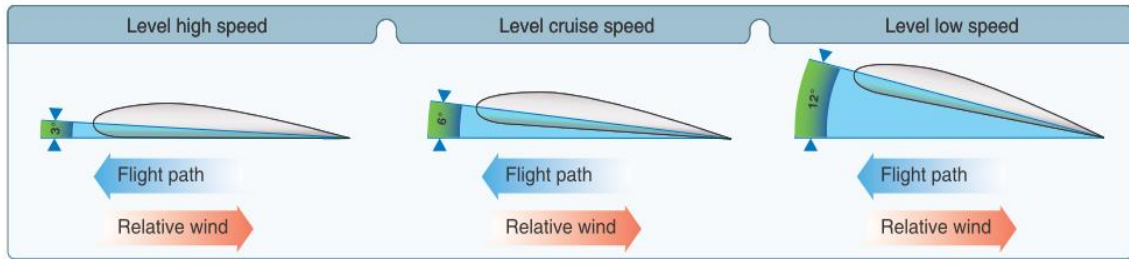


圖 13 不同速度時攻角改變的程度
(圖片來源：PHAK)

3.2.5.2 飛行速度和空氣密度對升力與阻力的影響

飛行速度越大則升力、阻力越大。升力和阻力兩者均與飛行速度的平方成正比。空氣密度大，空氣動力大，升力和阻力自然也大；升力和阻力兩者均與空氣密度成正比。

3.2.5.3 航空器本身特點對升力與阻力之影響

- (1) 機翼面積：機翼面積越大，升力和阻力也越大；升力和阻力兩者均與機翼面積的大小成正比。
- (2) 機翼形狀：機翼形狀包括機翼切面形狀的相對厚度、最大厚度位置、機翼平面形狀，以及機翼翼面結冰等都對升力和阻力兩者有相當影響。相對厚度大，升力和阻力也大。最大厚度位置靠前，升力和阻力較大。最大厚度位置靠近翼弦中央，升力和阻力較小。最大厚度位置靠後，升力較大，但阻力較小。機翼平面形狀，橢圓形機翼誘導阻力最小，而矩形機翼和菱形機翼誘導阻力最大。展弦比越大，誘導阻力越小。機翼翼面結冰會改變機翼流線外形，造成翼面氣流不再平滑流動，使升力減少，阻力增加。
- (3) 表面光滑度：航空器表面相對光滑，摩擦阻力相對較小，反之則相對較大。
- (4) 襟翼位置：在低速起飛與降落時放下襟翼，可增加機翼升力與阻力、降低失速速度。

3.3 無人飛機的飛行原理

3.3.1 無人飛機的主要組成及其功能

為理解無人飛機的飛行原理，就應對無人飛機的組成及其功能作一初步探討。航空科技發展迄今，除了少數特殊形式的固定翼與旋翼混合型無人飛機外，大多數無人飛機都由機翼、機身、尾翼、起落裝置和動力系統等 5 個主要部分組成。

(1) 機翼 (Wing) : 機翼是提供升力的主要部件，以維持無人飛機在空中穩定飛行和提供必要的操作功能。機翼上通常安裝有副翼 (Aileron) 和襟翼 (Flap)，操縱副翼可控制飛機的滾轉 (Roll) 姿態，放下襟翼可增加升力的作用。除了副翼和襟翼，機翼上還可依設計需求安裝發動機、起落架、油箱或其他外掛載等。不同用途的無人飛機因設計目的相異，其機翼形狀、大小也各有特色。

(2) 機身 (Fuselage) : 機身一般為無人飛機的主體，主要功用是裝載燃油、酬載和各種設備。機身與機翼、尾翼等部件相連，某些無人飛機的發動機及起落架等部件則利用掛架與機身相連。機身對控制飛行姿態、保持飛行的穩定性及可控性也有一定貢獻。

(3) 尾翼 (Empennage) : 尾翼是安裝在無人飛機尾部的一種裝置，可以增強飛行的穩定性。大多數尾翼包括水平尾翼和垂直尾翼，也有少數採用 V 型尾翼。水平尾翼是無人飛機縱向平衡、穩定、操縱的翼面，翼面前半部通常是固定的水平安定面，翼面後半部則是可動的升降舵 (Elevator)。垂直尾翼是無人飛機航向平衡、穩定和操縱的翼面，翼面前半部通常是固定的垂直安定面，翼面後半部則是可動的方向舵 (Rudder)。尾翼可以用來控制無人飛機的俯仰 (Pitch) 和偏航 (Yaw)，以改變無人飛機的飛行姿態。

(4) 起落裝置 (Landing Gear) : 無人飛機的起落架用於起飛、降落、地面滑行或移動、停放時來支撐無人飛機；除了煞車系統、轉向系統等外，它大都由減震支柱和機輪等組成。

(5) 動力系統 (Power System) : 動力系統是指主要用來產生拉力或推力使無人飛機前進的裝置。除了產生前進力外，動力系統還可為無人飛機上的用電設備提供電源。現在無人飛機動力系統應用較

廣泛的有：往復式（活塞）發動機、渦輪噴射發動機、渦輪螺旋槳發動機、渦輪風扇發動機。除了發動機本身，動力系統還另有控制裝置，依據發動機的狀態和外界環境的變化來控制發動機的各個調節參數，保證發動機工作穩定和提高發動機性能。

除了以上機翼、機身、尾翼、起落裝置和動力系統等 5 個主要部分外，依據無人飛機的操作安全和任務需求，還可加裝無線通訊系統、導航系統、飛行控制系統、空拍攝影機及安全裝備等。

3.3.2 飛行操作原理

操作人操作油門和操縱桿，控制無人機的操縱面，來達到所想要的飛行姿態。就操作的三度空間而言說明如下(如圖 14)：

- 縱軸(Longitudinal Axis)：又稱 X 軸，想像為一條由前往後穿過航空器的軸。無人飛機主要係利用副翼改變左右滾轉(Roll)的姿態，但方向舵對於無人飛機的滾轉也會有影響。
- 橫軸(Lateral Axis)：又稱 Y 軸，想像為一條左右兩側穿過航空器的軸。無人飛機利用升降舵改變俯仰(Pitch)的姿態。
- 垂直軸(VERTICAL AXIS)：又稱 Z 軸，想像為一條上下兩面垂直地穿過無人飛機的軸。無人飛機利用方向舵改變偏航(YAW)的姿態。

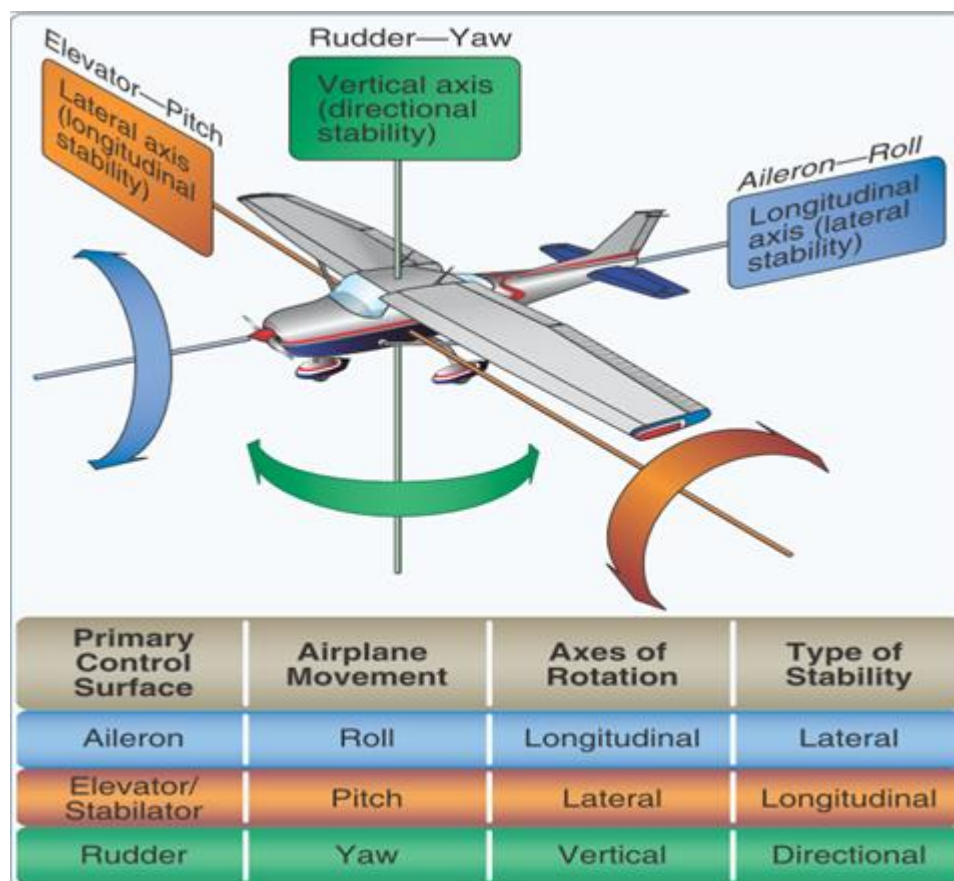


圖 14 無人飛機操控、移動、仰轉軸及穩定型態

(圖片來源：PHAK)

接下來介紹無人飛機的平衡性(Equilibrium)、穩定性(Stability)⁴和操縱性(Controllability)。此三種特性也同樣通用於無人直昇機與無人多旋翼機。

3.3.2.1 平衡性

平衡性，是指作用於無人飛機的各外力之和為零，各外力重心所構成的各力矩之和也為零。無人飛機處於平衡狀態時，其速度的大小和方向都保持不變。

3.3.2.2 穩定性

穩定性，係指遙控無人機在飛行中，當受到微小擾動(如陣風、發動機工作不均衡、舵面的偶爾偏航等)而偏離原來的平衡狀態時，

⁴ 縱向穩定/俯仰(Longitudinal Stability / Pitch)、航(方)向穩定/偏航(Directional Stability / Yaw)、橫向穩定/滾轉(Lateral Stability / Roll)等三種。

在擾動消失後，不經操作人操縱，自動恢復原來平衡狀態的特性。

遙控無人機穩定性的強弱，一般由擺動衰減時間、擺動幅度、擺動次數來衡量。當受到擾動後，恢復原來平衡狀態時間越短，擺動幅度越小，擺動次數越少，遙控無人機的穩定性就越強。

遙控無人機穩定性的強弱，主要取決於遙控無人機的重心位置、飛行速度、飛行高度和攻角的變化。

3.3.2.3 操縱性

操縱性，無人飛機除必要的穩定性外，還應有良好的操縱性，才能保證操作人能夠有效控制遙控無人機飛行。遙控無人機的操縱性，是指遙控無人機在操作人操縱控制面改變其飛行狀態的俯仰、方向和橫向之特性，操縱動作簡單、省力，飛機反應越快，其操縱性越好，反之則否。

3.4 無人飛機的飛行控制

3.4.1 四大基本動作

對於無人飛機而言，主要有四大基本動作：平直飛行、轉彎、爬升及下降。而控制這四大基本動作的操作，都包含了一種或多種的飛行控制。

3.4.2 飛行控制

控制遙控無人飛機時：

- (1) 當升降舵控制往上，飛機相對於「飛機中心」作向上俯仰。
- (2) 當升降舵控制往下，飛機相對於「飛機中心」作向下俯仰。
- (3) 當副翼控制右上左下，飛機相對於「飛機中心」作右滾。
- (4) 當副翼控制右下左上，飛機相對於「飛機中心」作左滾。
- (5) 當方向舵控制往右，飛機相對於「飛機中心」作右偏航。
- (6) 當方向舵控制往左，飛機相對於「飛機中心」作左偏航。

操作人應注意避免以相對於地平面來思考「上」、「下」、「左」、「右」，而是以相對於機體中心作思考。此亦可更容易瞭解控制功

能，特別在執行大角度滾轉和更高級的操縱動作。因此，操作人須能適當的熟練如何使用控制面，以達所需的遙控無人飛機姿態或飛行狀況。

3.5 無人直昇機的飛行原理

無人直昇機，其主旋翼(Main rotor)在旋轉時能夠產生向上的升力，其原理類似於無人飛機的機翼產生升力的原理或螺旋槳產生推力的原理。

當主旋翼的旋轉面(因旋轉所產生的平面)保持在水平位置時，此時所產生的力是垂直向上的，可稱之為升力亦可稱之為向上的推力。遙控無人直昇機利用這個原理起飛離地，以及爬升(Climb)或懸停(Hovering)。如果升力與推力大於重力與阻力，直昇機垂直向上。

根據牛頓第三運動定律，作用力等於反作用力。當發動機讓主旋翼以逆時針方向旋轉時，遙控無人直昇機本身將以順時針方向旋轉，這個力稱為扭力(Torque)。主旋翼的槳葉片的俯仰角愈大，升力就愈大，同時扭力也愈大。為了抵銷扭力，在設計上使用尾旋翼(Tail rotor)在機尾產生一個向右的力，稱為尾旋翼推力(Tail rotor thrust)，使機頭能夠朝向正前方，如圖 15 所示。

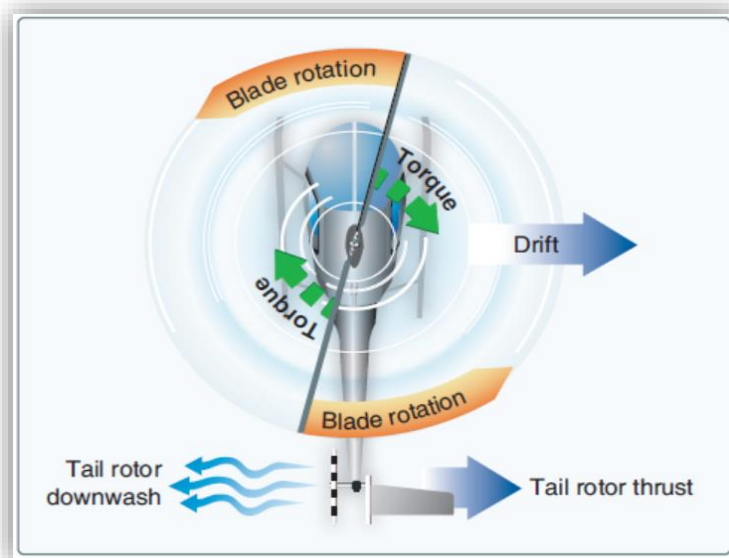


圖 15 尾旋翼扭力的產生
(圖片來源：PHAK)

3.6 無人直昇機的飛行控制

無人直昇機的四大基本飛行動作：平直飛行、轉彎、爬升及下降與無人飛機相同，其獨特的外型與氣動力效應，可以作出其他特殊的飛行控制。無人直昇機的平衡性、穩定性、操縱性等概念與無人飛機亦無二致，但無人直昇機在懸停時受主旋翼面影響，具有不穩定性。

- 「**垂直起飛到懸停**」：無人直昇機垂直飛離地面約 2~3 呎(大約一個起落橈的高度)，並保持「航向不變」。一旦到達起落橈的高度，無人直昇機應保持不動，並保持「高度不變」和「航向不變」。
- 「**懸停**」：無人直昇機保持幾乎不動的飛行，並保持「高度不變」和「航向不變」。
- 「**懸停轉彎**」：在懸停高度執行無人直昇機機鼻向左轉或向右轉，並保持相對於地面的位置不變。操作人應保持不變的高度、轉彎率和轉速。
- 「**向前懸停飛行**」：通常使用於移動無人直昇機到另一特定位置，可由靜止狀態的懸停開始執行。操作人應保持不變的地面速率、高度和航向，同時注意地面淨空。
- 「**側向懸停飛行**」：當必須移動無人直昇機到另一特定位置，但當時狀況不可能執行向前飛行時，就要使用側向懸停飛行。操作人應保持不變的地面速度、高度和航向，同時注意地面淨空。
- 「**向後懸停飛行**」：當必須移動無人直昇機到另一特定位置，但當時狀況不可能執行向前或側向懸停飛行時，就要使用向後懸停飛行。操作人應保持不變的地面速度、高度和航向，同時注意地面淨空。
- 「**從懸停到正常起飛**」：無人直昇機有順序的轉換到向前飛行，執行時應安全且迅速的增加高度。
- 「**從地面到正常起飛**」：使用最小的所需動力，將無人直昇機從地面上的位置，移動到有效轉換升力及正常爬升。
- 「**平直飛行**」：保持無人直昇機「高度不變」和「航向不變」的飛行。

- 「傾斜轉彎」(Bank to Turn)：將無人直昇機保持在向左或向右的傾斜狀態，保持飛行高度不變，但航向改變之飛行。
- 「偏航」(Yaw)：利用尾旋翼推力改變無人直昇機航向的操縱。

3.7 無人多旋翼機的飛行原理

無人多旋翼機的外形構造有許多種，有以旋翼數量區分的多旋翼型遙控無人機⁵，有以旋翼分布位置來做區分⁶，也有以共軸發動機的旋翼數量來做區分⁷，以及旋翼是否能夠傾斜來做區分。總言之，無人多旋翼機是一種經由多個定距槳(螺旋槳)的正反旋轉與轉速控制，提供升力與姿態調整。

無人多旋翼機與無人直昇機類似，當旋翼旋轉產生升力時，空氣對於旋翼也會形成反方向的作用力，驅使無人直昇機反向旋轉，因此無人多旋翼機為了要克服反作用力的問題，設計出旋翼不同方向旋轉，抵消反作用力，使總力矩為零。從而無人多旋翼機能夠垂直且穩定的升降及偏航，也可以很容易產生統一方向的氣流推送，因此具備優秀的垂直起降能力與定點懸停能力，而這是一般無人飛機望塵莫及的。同時對稱的旋翼設計使得操控簡單且直接，姿態調整時只需成對地改變旋翼轉速，可提供非常「直接」的姿態力矩。

旋翼機的姿態變化方式使得該型機可直接採用定距槳/變轉速的技術，相比於無人直昇機的變距槳，在機械設計結構，控制難度，實現成本，姿態平穩方面都有很大提升。單純從操作人的角度而言，無人多旋翼機使得飛行操作變得簡單，如圖 16。

⁵ 依無人多旋翼機所具有的旋翼可區分為 4 翼、6 翼、8 翼、12 翼、16 翼、18 翼、24 翼、36 翼等，以茲因應各種不同的是市場需求。

⁶ 例如通常可見的 I 型、X 型、V 型、Y 型等。

⁷ 同軸有兩片旋翼上下疊放，利用相反方向的旋轉，來抵消反作用力，並提升無人多旋翼機的動力。

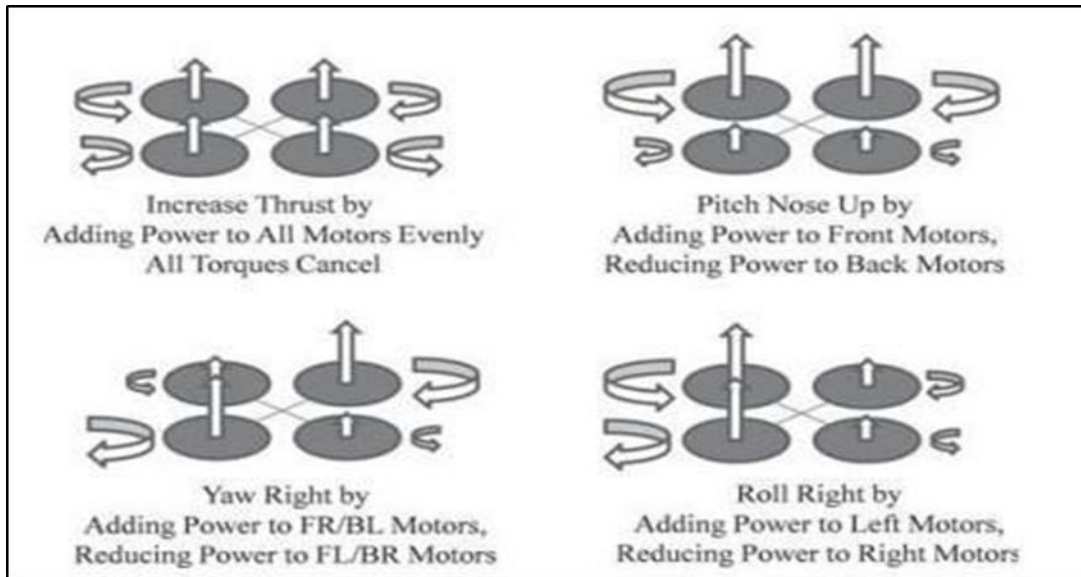


圖 16 多旋翼飛行器控制原理

(圖片來源：FAA)

3.8 無人多旋翼機的飛行控制

無人多旋翼機飛行操作原理、平衡性、穩定性、操縱性等概念及四大基本動作與無人飛機或無人直昇機相當，但無人多旋翼機在構造上具有先天不穩定性，通常需仰賴飛行控制系統電腦的運算才能保持姿態及航向的穩定。操作人操作無人多旋翼機時，力道應當柔和一些，直到習慣遙控無人機與控制器相互間的連結程度。操作時，遙控設備上之操縱桿控制滾轉、俯仰、偏航和油門，達成「垂直升降」、「俯仰」、「偏航」與「滾轉」等動作。以下以四軸多旋翼為例：

- 「垂直升降」：同時間增加或減少四個旋翼的轉速以增加或減少升力，實現垂直的升降姿態。
- 「俯仰」：改變前、後兩對旋翼的轉速，因前、後的升力不平衡實現俯仰姿態。
- 「偏航」：同時間減少或增加斜對角兩對旋翼轉速與升力，因扭力不平衡產生反作用力，實現偏航姿態。
- 「滾轉」：改變左、右兩對旋翼的轉速與升力，因左、右的升力不平衡，實現滾轉姿態。

3.9 載重與平衡

3.9.1 導論

遙控無人機的重量和重心位置是影響飛行性能及飛航安全重要的因素之一。飛行前，操作人應確認遙控無人機的重量、重心和其酬載是否在合理範圍。同時，操作人須考慮到緊急狀況下，遙控無人機過重或重心偏移時所可能造成嚴重的後果。然當處於高海拔、高溫以及高濕度的情況下，操作人在飛行前亦應詳細考量可能降低飛行時超越障礙能力的載重因素。以下說明影響遙控無人機載重平衡的各種因素。

3.9.2 重心

遙控無人機重力的著力點稱為「重心」(Center of Gravity, C.G.)。重心與穩定性有很大的關聯。當重心位置超出允許範圍時，可能導致遙控無人機無法穩定起飛、落地甚至失速。

3.9.3 負載係數 (Load Factor)

在空氣動力學裡，負載係數定義為升力與重力之比值。遙控無人機飛行時，作用於機身上的升力通常較重量為大，以產生各種姿態，負載係數即能表達姿態動作的大小。

操作人應了解作用於遙控無人機結構上的各種力量，以順利操作遙控無人機。遙控無人飛機在進行協調轉彎(Coordinated Turn)⁸時，負載係數是基於離心力和重力這兩種力量的結果。(如圖 17 所示)

⁸ 保持高度不變，協調的轉彎技巧。反之為“Uncoordinated Turn”，又可分為內側滑轉彎(Slipping Turn)及外側滑轉彎(Skidning Turn)。以飛機為例，內側滑轉彎是因為飛機的傾斜角(Bank)大於轉彎角度，水平升力大於離心力，導致飛機無法協調轉彎，會使得飛機被拉往轉彎的內側。而外側滑轉彎則是因為傾斜角不足，轉彎率大於傾斜角，導致飛機被拉往轉彎之外側。

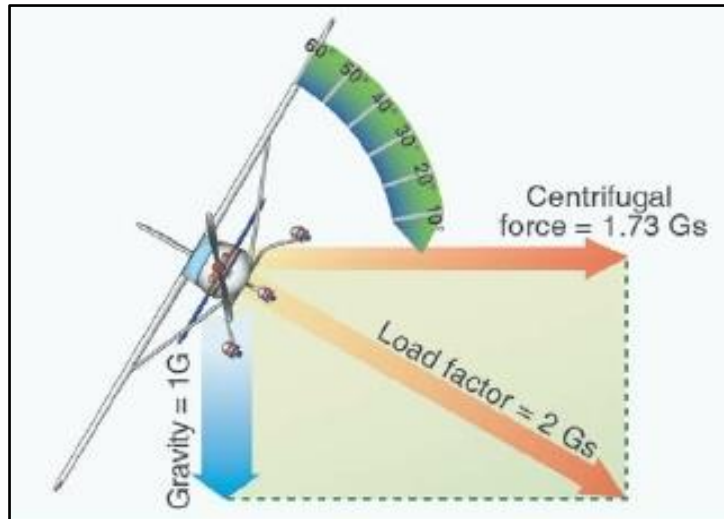


圖 17 轉彎時的重力、離心力與負載係數
(圖片來源：PHAK)

此外，在不同的速度下，飛機的轉彎率也會隨之不同，速度越快，轉彎率越低。這是為了要抵銷所增加的離心力(Centrifugal Force)，以保持負載係數不變。而從圖 18 中，我們可以觀察到，當飛機傾斜角(Bank Angle, 亦稱為坡度)達到 45 度或 50 度時，負載係數會急劇增加。例如 60 度時，約為 2G。80 度時，就可高達 5.76Gs。因此為維持高度下，機翼必須產生足以與負載係數相等之升力，亦即需增加攻角以補償升力之不足。

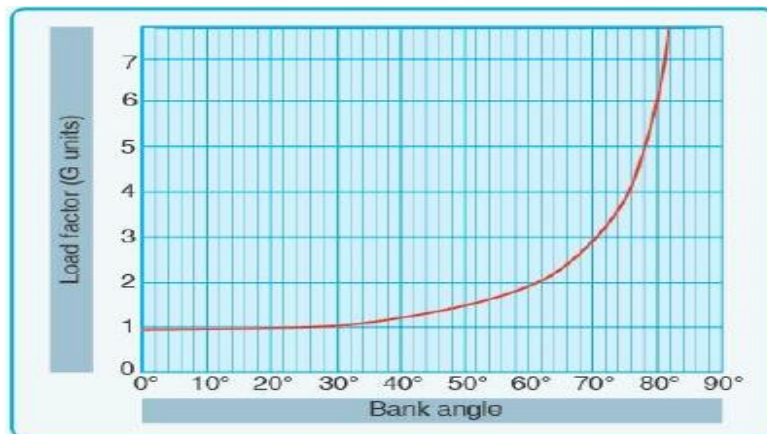


圖 18 傾斜角(坡度)在水平飛行中與負載係數的改變
(圖片來源：PHAK)

3.10 重量變化與重心移動的影響

遙控無人機機身通常較為短小，故飛行時對重量變化與重心移動非常敏感，處理不當容易造成操作困難甚至產生意外。以下就無人飛機、無人直昇機與無人多旋翼機分別說明。

3.10.1 重心前移對於無人飛機的影響

若重心位置靠前時，會形成需要尾翼提供更大的向下的升力，來維持飛機的俯仰平衡。可能會有以下情形(如圖 19)：

- (1) 由於機頭較為沉重，起飛仰轉時較為困難。
- (2) 受到配平以及總阻力的增加的影響，為了保持飛行速度不變，必須增加發動機推力，進而失速速度也增加了。
- (3) 增大誘導阻力，使油耗增加，航程距離降低。
- (4) 低速的時候，為了穩定飛機較強的俯仰姿態，配平可能不足，導致提高了不穩定進場的風險。

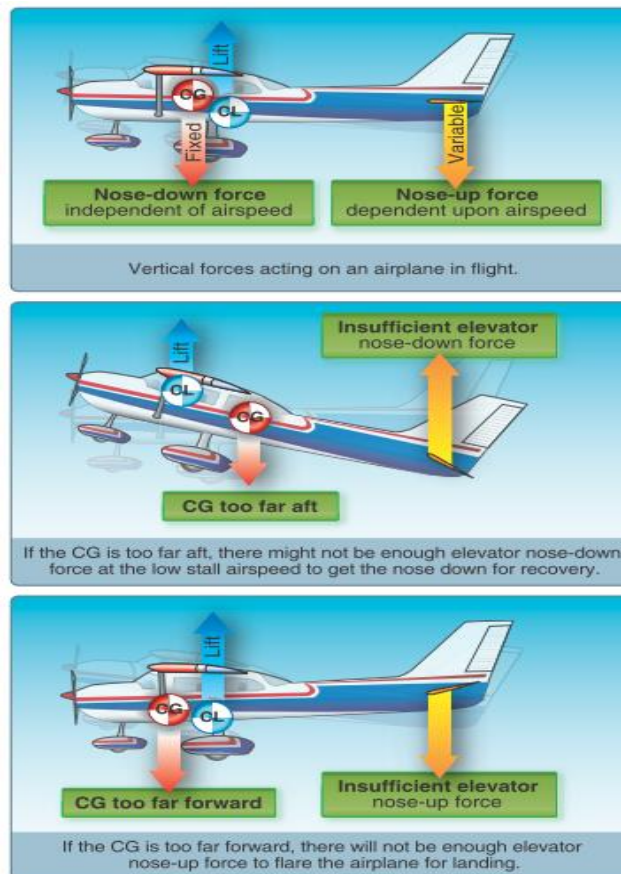


圖 19 無人飛機的重心變化
(圖片來源：PHAK)

3.10.2 重心後移對於無人飛機的影響

若重心後移時，可能會有以下情形(如圖 19)：

- (1) 由於機頭較輕，可能會使得起飛時提前仰轉。
- (2) 爬升時若操作不慎，可能會因仰角過大，而造成失速，甚至造成機尾擦地。

- (3) 配平及總阻力減小，也進而減少飛行所需要的推力及耗油，增加了遙控無人機的續航能力，失速速度減小。
- (4) 若進入到螺旋失速(Spin)時，會較難改正。

3.10.3 重心前移對於無人直昇機的影響

重心太靠前會抑制向後飛行及懸停低速的性能 (如圖 20)。

3.10.4 重心後移對於無人直昇機的影響

重心太靠後會影響以高速向前飛行之性能及穩定 (如圖 20)。

3.10.5 重心移動對於多旋翼無人機的影響

重心移動容易造成操控困難。



圖 20 無人直昇機的重心變化
(圖片來源：PHAK)

3.10.6 較大重量對遙控無人機性能的影響

- 較高的起飛與落地速度(無人飛機)
- 較長的起飛與落地滑行距離(無人飛機)
- 降低爬升率和角度(各構型遙控無人機)
- 降低飛航最高高度(各構型遙控無人機)
- 縮短作業範圍(各構型遙控無人機)
- 降低巡航速度(各構型遙控無人機)
- 降低操作性能(各構型遙控無人機)
- 較高的失速速度(各構型遙控無人機)

由於遙控無人機重量直接影響載重平衡與飛行穩定性，操作人須審慎確認，以確保飛行安全。

第4章 氣象

遙控無人機在大氣中飛行，為了保證操作的安全，飛行前除了必要的飛行原理知識與器材保養調校外，氣象的掌握也非常重要。本章說明氣象對操作遙控無人機的影響，依序介紹密度高度、大氣壓力的測量、風的影響、風切、大氣的穩定性、逆溫、溫度與露點、雲系、氣團、鋒面、山區飛行、積冰、雷雨循環等大氣現象，提供操作遙控無人機所需的基本知識。建立航空氣象觀念後，再從實務角度說明氣象資料種類及服務提供方式、航空氣象電碼等，以協助遙控無人機操作人在飛航活動前取得必要的氣象資訊。

4.1 導論

天氣的變化對於遙控無人機的操作會有安全上的影響，同時也為確保在操作時的穩定，操作人應事先詳細蒐集氣象資訊：包括雲圖、風向、風速及大氣穩定度等，並體認事先所搜集的預報與實際可能有非預期的變化，所以操控時應隨時注意天候徵象及作好應變。

4.2 密度高度

密度高度，是指某一特定容積氣體的密度換算成標準大氣壓力狀態下的高度。當空氣密度增加時(即密度高度較低)，遙控無人機空氣動力性能增加。相反的，空氣密度減少(密度高度較高)，空氣動力性能變差。因此密度高度對遙控無人機的性能有直接的影響。

空氣密度的變化主要有高度、溫度及濕度三種因素。高密度高度的意思是空氣中的分子較少、空氣稀薄；反之低密度高度即指氣體分子較多且濃厚。高密度高度的環境即高海拔、高溫度、高濕度及低大氣壓力(或其中數個因素)的組合。低密度高度則為低海拔、低溫度、低濕度及高大氣壓力。

4.2.1 壓力對密度的影響

空氣可以藉由外界的能量予以壓縮及膨脹。壓縮空氣時，相同體積的空間可以容納更多的氣體。反言之，在相同容積下的氣體壓力減低時，空氣會膨脹、佔據較大的體積。因此，相同氣體柱下在低壓力狀態所容納的氣體質量較少，密度較低。由此可知密度與壓力成正比關係，壓力加倍，密度也會加倍；減低壓力，密度也隨之降低。

4.2.2 溫度對密度的影響

假設在一空氣體積下，升溫時該體積空氣密度減少，降溫時該體積空氣密度增加，其溫度與密度的關係成反比。而在大氣層裡，溫度及壓力均隨高度增加而降低，但彼此間對密度的關係是互相衝突的，但因壓力隨高度的變化較溫度明顯，因此基本上大氣的密度隨高度遞減。

4.3 大氣壓力的測量

為了讓大氣壓力的測量有一個共同的基準點，因此各國間使用公認之國際標準大氣(International Standard Atmosphere, ISA)進行校正，並做為航空器性能基準的參考值。而 ISA 是指在假設大氣環境下，海平面的大氣壓力為 29.92 英吋汞柱(inHg)，溫度為攝氏 15 度(華氏 59 度)。大氣壓力的測量單位還有公制的毫巴(millibars, mb)，1 英吋毫米汞柱約等於 34 毫巴，所以一標準大氣壓的 29.92 英吋汞柱換算成毫巴值為 1013.2。此外，每上升 1,000 英尺，溫度降低約攝氏 2 度，氣壓值減少約 1 英吋汞柱，如表 2 標準大氣壓力所示。

然由於地面受熱不平均的關係，實際大氣壓力值與標準值會有差距。若操作人未能適時注意及修正，會導致在操作遙控無人機時沒有精確掌握到實際高度，以至於發生越障高度不足的危險。

操作人可長期追蹤區域內各氣象站的數值，以便了解區域的天氣系統變化以及方向，並可作為較為精確的預測。例如某氣象站最近兩三天的氣壓值為向上的趨勢，代表該區域天氣處於晴朗穩定的狀態；相反的若氣壓計數值下降通常代表天氣轉壞，若短時間內發生陡降的現象，則通常為暴風接近。

表 2 標準大氣壓力

Standard Atmosphere			
Altitude (ft)	Pressure (Hg)	Temperature	
		(°C)	(°F)
0	29.92	15.0	59.0
1,000	28.86	13.0	55.4
2,000	27.82	11.0	51.9
3,000	26.82	9.1	48.3
4,000	25.84	7.1	44.7
5,000	24.89	5.1	41.2
6,000	23.98	3.1	37.6
7,000	23.09	1.1	34.0
8,000	22.22	-0.9	30.5
9,000	21.38	-2.8	26.9
10,000	20.57	-4.8	23.3
11,000	19.79	-6.8	19.8
12,000	19.02	-8.8	16.2
13,000	18.29	-10.8	12.6
14,000	17.57	-12.7	9.1
15,000	16.88	-14.7	5.5
16,000	16.21	-16.7	1.9
17,000	15.56	-18.7	-1.6
18,000	14.94	-20.7	-5.2
19,000	14.33	-22.6	-8.8
20,000	13.74	-24.6	-12.3

(來源：PHAK)

4.4 風的影響

空氣的水平運動稱之為「風」。在氣象上定義風的來向為風向，例如冬季台北常吹東風，是表示風自東邊吹來。氣象觀測風向常以 16 方位或以角度數表示。常用風速的單位有下列數種：公尺/每秒 (m/s)、公里/每小時(km/h)、哩/每小時(mph)、海里/每小時(kts)或稱節(knot)。⁹

風對於飛行的影響，就遙控無人飛機而言，通常都是在逆風下起降。因為逆風起飛時，產生了附加進氣量及相對風對於翼面的幫助，可增強飛機的方向穩定性和操縱性，並減少了滾行到仰轉起飛的距

⁹ 其換算關係：1 公尺/秒 = 3.60 公里/時 = 2.24 哩/時 = 1.94 海里/時

離。而逆風落地時，則由於增加了升力及阻力，使航機可以在一個穩定的速度下進場，並在跑道可用長度且安全的範圍內速度減至滑行速度或是煞停。惟無人飛機在起降時遇到較強的正側風時，可能會導致一邊不平衡，且在尚未完全離地或接觸地面的情況下，進而造成機翼與地面接觸，或是落地後偏離跑道而發生意外。

遙控無人直昇機及多旋翼遙控無人機由於可以垂直起降，因此對於風向的考量多著重於滯空飛行時的穩定度。此外，考慮遙控無人機操作時，可能會在山區或各種環境下，當地表風經過建築物、山區或其他人工障礙物時所產生的亂流，其強度往往與障礙物大小有關，在山區其情況會更加明顯。當飛越多山地區時，通常山區的迎風面飛行相對平穩順暢，但越過山嶺後進入背風面時，原來平順的地表風會因山區地形而擾動風向，形成分歧並產生亂流。風速越強，背風面亂流的氣壓也越強，如圖 21 所示。



圖 21 山岳亂流
(圖片來源：AC00-06B Aviation Weather)

4.5 障礙物對風的影響

地面上的障礙物影響風的流動，是一個看不見的危險因素。地形和高的建物會分離風的流動，產生快速變化方向和速率的強風。遙控無人機起降時，要特別注意起降點附近較高的建物或天然障礙物。

因建物所產生亂流的強度依障礙大小和主要風速而定。此亂流影響起飛和降落性能，可能造成極為嚴重的危險。在飛行降落階段，遙控無人機能因亂流而「突降」，導致進場高度太低而不足以避讓障礙，如圖 22 所示。

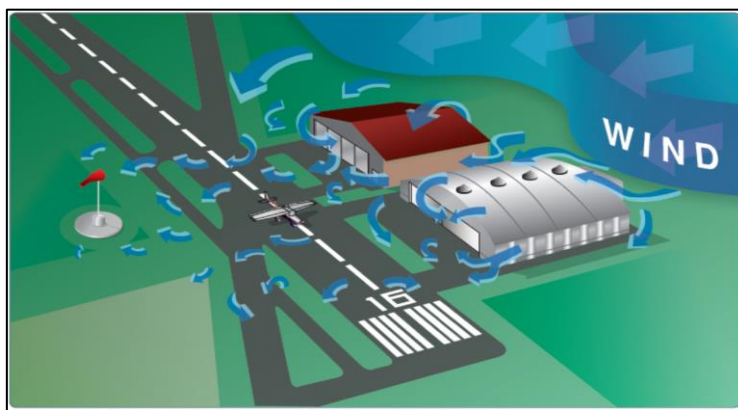


圖 22 建築物產生之亂流影響
(圖片來源：AC00-06B AVIATION WEATHER)

4.6 風切

風切(Wind Shear)是指在大氣中不同兩點之間風速或風向的劇烈變化。它可以產生強烈的垂直氣流，並對航空器水平移動面產生大方向的變化。風切可以發生在任何高度，但以低空風切對航空器的危害最為嚴重。

由於航空器在進場及落地階段時，航空器逐漸減速的接近地面，因此可供緩衝避讓的操作空間有限，若遭遇突如其來的強風速的風向變化，會劇烈影響航空器飛行性能及飛行姿態，若高度過低，操作人可能會來不及改正而發生意外。

所謂低空風切(Low-level wind shear)，我國定義係指 1,600 呎(500 公尺)以下空氣層中風向或風速之突然變化，通常於颱風環流、東北季風、鋒面過境時較為強烈，而西南季風時則較為溫和。

至於水平範圍更小(0.04~4 公里)，持續時間更短(0.1~0.25 小時)的強烈低空風切，稱為微爆氣流(Microburst)。微爆氣流的循環約在 5 到 15 分鐘間，所產生的下沉氣流可達每分鐘 6,000 英尺。若遇上微爆氣流時，首先會出現強勁頂風，如圖 23 的 X 點；再來是下沉氣流，如 Y 點；最後是快速增加的尾風，如 Z 點所示，其頂尾風的差距可達到於 30 到 90 節(Knots)不等。

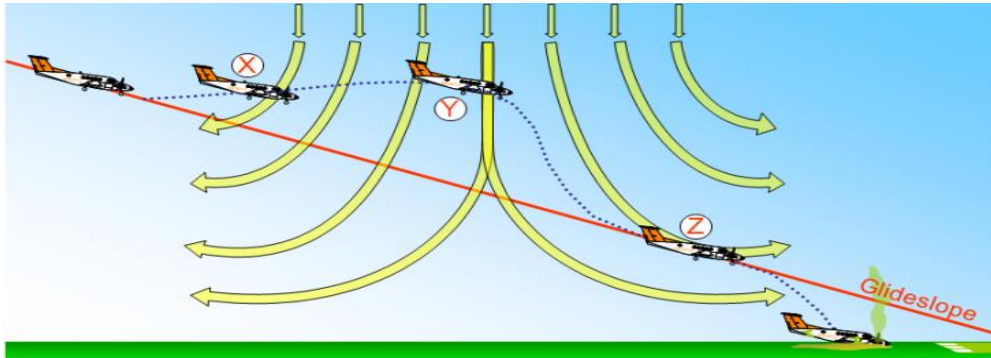


圖 23 進場時微爆氣流會造成的影響
(圖片來源：AC00-6B AVIATION WEATHER)

無論如何，操作人在操作前及操作時均需隨時注意天氣狀況，並掌控遙控無人機位置、高度和方位，尤其是在通過劇烈天氣時(如雷雨、颱風)的操作更需特別留意人機安全。

4.7 大氣的穩定性

由於空氣中發生垂直運動，若是不穩定的大氣即便是微小的垂直運動，也可能會發展成旺盛的對流，進而生成積雨雲，並發生雷雨的可能甚或是亂流。

大氣中水氣與溫度也決定了大氣的穩定性，高緯度地區所產生的乾冷空氣通常較穩定，無垂直對流，通常是好天氣；而熱帶地區暖濕空氣則較不穩定，因含有大量的水氣及對流，容易形成午後雷陣雨。

4.8 逆溫

在對流層大氣中，一般大氣溫度之垂直分布是隨高度而降低，因此在對流層中，溫度隨高度而增加之大氣範圍稱為逆溫層(Inversion)，如圖 24 所示。

逆溫層內，每單位高度中溫度上升的多寡，稱為逆溫層強度；強度愈強，對流愈不易穿過，致使污染物向上擴散不易，空氣中的污染物也將留置於靠近淺層地表的高度中。如果逆溫層裡的相對濕度較高時，將會形成雲、霧、霾或煙霧等降低能見度的有害天氣。

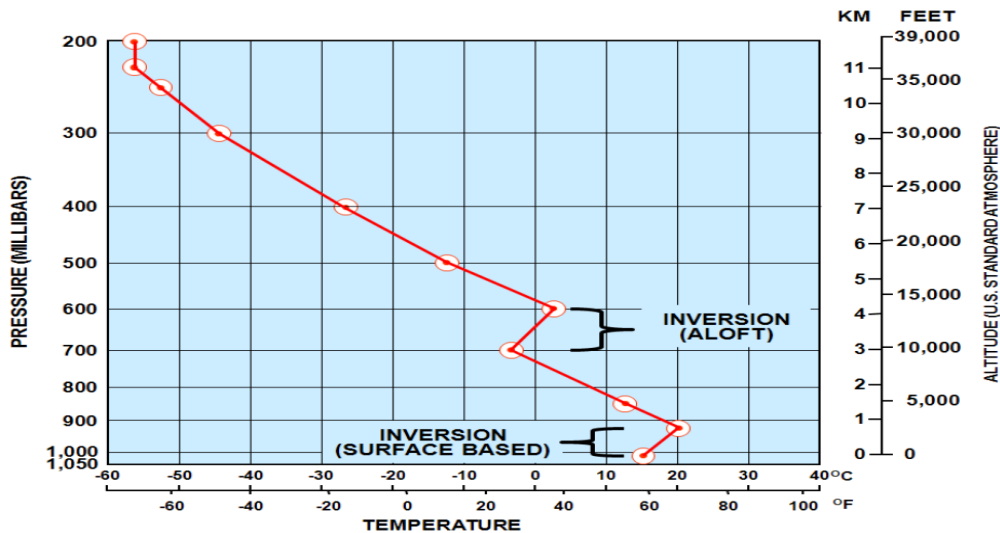


圖 24 溫度變化表
(圖片來源：AC00-6B AVIATION WEATHER)

而淺層的逆溫層常發生於晴朗、涼爽的夜晚，此時靠近地表的空氣受地表溫度幅射影響，會較上層空氣溫度為低，而一般來說高度約在離地 300 公尺左右。另一種發生逆溫的情況，會在暖氣團與冷氣團相遇時，因兩氣團間的密度不同，又無法混合，導致暖氣團沿冷氣團的界面上升，或是冷氣團將暖氣團抬起進而形成逆溫層。

4.9 溫度與露點

在一定溫度下，一定量之空氣，所能容納之水氣量¹⁰有一定的限度。空氣中水氣含量如已達其最高限度時，則此時之空氣稱為「飽和空氣」。空氣能容納水氣量之多寡與溫度有密切關係，同樣體積之空氣溫度愈高，能容納之水氣愈多。若溫度增加 11°C，空氣中能容納水氣之能力約可增加 1 倍；反之若空氣中水氣含量不變，當其溫度降低至某一程度時，可使未飽和之空氣變成飽和。溫度如繼續下降，能使飽和水氣凝結為霧、雲或雨滴等。

¹⁰ 空氣中水氣之主要來源為海洋，也有少量源自湖泊、河流、沼澤、濕土、雪、冰地及植物等。

一般而言，空氣中的水氣含量透過以下兩種方式表示：

- (1) 相對濕度：空氣中實際含有之水氣量，與相同溫度下可含最大水氣量之百分比。空氣在完全飽和狀態時相對濕度為 100%；如空氣中所含水氣量僅為當時溫度下所含最大水氣量之一半時，則相對濕度為 50%。對人體而言，空氣之相對濕度在 40~60% 間時，令人最感舒適。當濕度越高，濕空氣中水汽越多，導致乾空氣的壓力越小，其空氣密度越小/氣壓越低，性能限制越大。
- (2) 露點：在一定大氣壓力下，空氣中水氣含量固定不變時，若氣溫逐漸降低，待降至相當溫度時，空氣變成飽和，氣溫再稍低，水氣即行凝結，此時之溫度，稱為露點溫度，簡稱露點。當氣溫在冰點以下，且繼續下降，達某點溫度時，附著於地表附近之水氣，即行開始凍結成霜，此稱為霜點。

4.9.1 水氣達到飽和的四種方式

空氣裡的溫度與露點重合時，即達到水氣飽和點。水氣飽和時會產生雲、霧及各種降水形式。一般而言，水氣達到飽和狀態有四種方式：

- (1) 暖空氣經過冷地表時，暖空氣受地表影響降溫。
- (2) 冷暖飽和空氣互相混合時。
- (3) 夜間空氣因地表幅射冷卻達到飽和。
- (4) 氣團上升時溫度下降達到飽和。

4.9.2 霧

當空氣溫度達到或接近露點時，空氣中的水氣就會逐漸凝結，進而發生會影響能見度的「霧」。而「霧」依其形成條件及特性，可分為：平流霧、輻射霧、蒸氣霧、山坡霧、鋒面霧及平流輻射霧。

- **平流霧**：當溫暖且潮溼的空氣流經較冷的地面時，低層空氣中的水氣會因冷卻作用而凝結形成霧，稱之為平流霧，其相對濕度也較大。平流霧往往能持續一段相當長的時間，除非風停止，或風

向轉變，使暖濕空氣來源中斷，霧才會消散。

- **輻射霧**：多出現在冬季晴朗、微風、近地面水氣充沛的夜間或清晨。當空氣相當穩定時，如果近地面空氣中含有足夠的水氣，由於入夜後地面的熱會迅速地向高空輻射散去，因此到了清晨氣溫較低時，水氣便會因冷卻的關係而凝結成小水滴，浮游在近地面的空氣中，就形成了輻射霧。一般而言，輻射霧的持續時間不會太長，通常在太陽出來後，地面溫度回升到一定程度時，就會迅速消散。
- **蒸氣霧**：主要是冷空氣流經溫暖的水面，由於暖水面而蒸發，使得冷空氣中的水分增加，因冷空氣溫度較低，凝結而成蒸氣霧，常出現在秋冬季節。
- **山坡霧**：當濕空氣沿山坡上升時，經絕熱冷卻而成。遠看(由下往上)看是雲；步行經過是霧；近看(由上往下看)是一片雲海。
- **鋒面霧**：發生在鋒面附近，當冷空氣位於近地面之低空，而自雲端下降之遇冷凝結而成霧，多出現在錮囚鋒或暖鋒前。
- **平流輻射霧**：平流和輻射兩種物理過程亦可相輔相成，造成平流輻射霧的發生。好發生於冬末春初台灣西部地區。

4.9.3 露及霜

在平靜涼爽的夜晚，地表與附近的物體因輻射效應使得周遭空氣的溫度下降，低於露點，水氣因此凝結成水滴，附著在地表、建物上，附著於物體表面的水珠即稱之為露。若溫度低於冰點即凝結成霜。露珠附著在航空器上對飛安並無影響，但若是凝結成固態的霜則對飛安可能造成危害，由於附著在機體表面的霜在飛行時會擾動流經機體、機翼的空氣，並大幅降低原有的升力、增加阻力，而降低起飛性能。

4.10 雲系

雲有三種型態，積狀雲、層狀雲、卷狀雲。可以再依其屬性區分為卷雲、卷積雲、卷層雲、高積雲、高層雲、雨層雲、層積雲、層雲、積雲、積雨雲。

依據雲所在的高度又可以分成高雲族、中雲族、低雲族三種。高雲族主要有卷雲、卷層雲及卷積雲，高度大約在 6,000 公尺以上；中雲族則有高積雲、高層雲和雨層雲，大約在 2,000~6,000 公尺；低雲族包含積雲、層雲與層積雲，位於 2,000 公尺以下。尤其是夏天午後最常出現的積雨雲以及垂直發展的塔狀積雲，均是一種直展雲，且由於對流旺盛，其雲底到雲頂可以穿越三種雲族，通常會造成大雨、強陣雨及雷雨等劇烈天氣。

4.11 氣團

氣團係指一廣大之空氣體，在地球表面某一特殊地區，停留一段相當的時間後，其整個水平方向，且在同一高度各點，空氣之溫度、濕度等物理性質均為一致時，稱此一廣大空氣體為氣團。而形成氣團的地區，稱之為「氣團源地」。

而氣團可依其源地緯度之高低及大陸或海洋而分類，例如極地大陸性氣團，熱帶海洋性氣團，又可視其離開源地後，與所經地面之熱力交換情形而分為冷氣團和暖氣團。

氣團本身冷於所經之地面者稱為冷氣團，例如冬季源自西伯利亞之氣團，即為大陸性冷氣團。當其南移至台灣之後，往往使台灣在短短 24 - 48 小時內氣溫驟降，變成嚴寒天氣。

氣團的穩定度決定籠罩區域的天氣形態，當兩種不同形態的氣團相遇時，會因氣團性質不同而產生各種變化。表 3 歸納出穩定及不穩定的天氣形態：

表 3 不穩定氣團與穩定氣團之特性

不穩定氣團	穩定氣團
積雲	層雲、霧
陣雨	連續性降雨
亂流	平穩氣流
能見度良好	能見度較差、易有霾及煙霧

4.12 鋒面

氣團從發源地移出後，與不同屬性的氣團相遇，而性質不同之冷暖兩氣團相遇時，其交界處稱為鋒面。在鋒面兩側空氣性質，諸如溫度、濕度、風、天氣等通常均有明顯的差異。實際上鋒面為過渡地帶，其寬度通常有數公里以至數十公里不等，而鋒面與地面相交之地帶稱為鋒。當冷空氣前進，迫使暖空氣後退而取代暖空氣原有位置，則此時之鋒面稱為冷鋒，如圖 25(a)，反之則稱為暖鋒，如圖 25(b)。當冷暖氣團勢均力敵以致使鋒面呈滯留狀態，此時之鋒面稱為滯留鋒，如圖 25(c)。鋒面在移動時，如果冷鋒趕上暖鋒或是兩條冷鋒迎面相遇重疊時，鋒面和鋒面之間拉扯，最後兩條鋒面就會合併成囚錮鋒，如圖 25(d)。它所造成的雲系和降雨兼具兩種鋒面的特徵。飛經各鋒面時，其溫度、濕度及風向都可能有劇烈的變化。

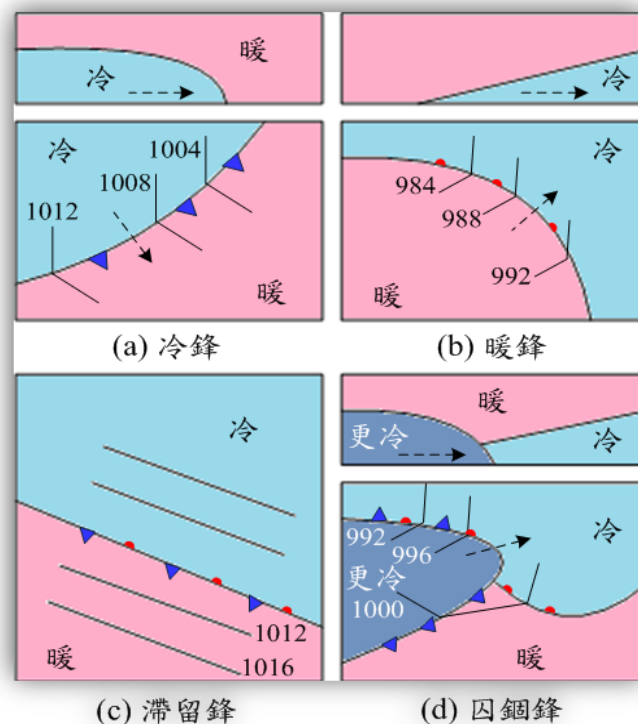


圖 25 鋒面類型
(圖片來源：中央氣象局)

4.13 山區飛行

於山區飛行時，在山頂區域的風速若超過 25 節(海里，knots)即可能產生亂流，執飛時若風速超過 40 節則需特別留意，亂流的強度

會更高。若出現莢狀雲或捲軸雲(Roll cloud)則需小心山區亂流。若風速強，向風面飛行平順，但過了山巔進入背風面時，則需注意沿背風面產生的亂流，且可能沿續相當長的一段距離。當向風面出現積雲代表天氣不穩定，可能在山區的兩邊均遭遇亂流。

此外，飛行時若見到莢狀高積雲(Alto cumulus Lenticularis)也需特別留意，莢狀高積雲是由高空的高速氣流碰上山頂後擾動氣流的波頂形成，從遠處看似不會移動，但其生成氣流快速且強烈是亂流的典型指標，應盡量避讓。

4.14 積冰

飛行時遇有兩種情況時，需注意遙控無人機之翼面及感測器有可能發生積冰：

- 飛越可見水氣，如雨或雲時。
- 機體周遭氣溫為攝氏零度以下，且有可見水氣時。

當飛越結冰區域時，機體在機翼或機體與空氣接觸的地方產生冷凝，使接觸空氣的部份低於零度，而空氣中的過冷水及過冷水汽結冰並附著於翼面或感測器上，進而影響或誤判遙控無人機飛行性能的表現，若是嚴重結冰則可能會導致升力不足而失速。

4.15 雷雨的循環

雷雨的循環一般分為三個時期：發展期、成熟期及消散期，如圖 26。光靠肉眼觀察很難明確的區別差異，且實際上雷雨可能由不同時期的雷雨胞聚集而成，並增加了觀察的難度。

4.15.1 發展期

積雲未必會發展成雷雨，但雷雨的生成都是由積雲而開始。雷陣雨此時期的特徵是上升氣流。上升氣流的強度受環境條件而異，從上升到離地數百呎到幾萬呎的高空都有可能。發展期積雲的成長速率可達每分鐘 3,000 英呎，因此，不宜在成長快速的積雲附近操作遙控無人機。

在此時期雲中水滴雖然還在成長，但隨積雲發展，亦可快速發展成雨滴。隨著上升氣流發展的水滴很快的形成過冷水，造成積冰危害。當雨滴重量超過上升氣流負荷時，就向下掉落。雨滴與氣流如此

在雷雨胞內反覆上下翻騰，讓雷雨胞進入成熟期。

4.15.2 成熟期

成熟期的雷雨胞同時存在上升氣流及下沉氣流，並開始產生降水。下沉氣流的冷雨水阻礙熱壓縮，且較周遭空氣為冷，因此下沉的速度可超過每分鐘 2,500 英尺。當下沉氣流衝擊到地面後往外吹，形成強陣風後，造成溫度下降及氣壓升高等現象，此種地表風俗稱「犁風」(Plow wind)。而此時雷雨胞內的上升氣流可達每分鐘 6,000 英尺，上升氣流及下沉氣流互相交錯，產生垂直風切，使得雷雨在成熟期時對於飛行安全的危害最為強烈。

4.15.3 消散期

在雷雨消散階段，上升氣流逐漸停止，下沉氣流及降雨逐漸減緩，雷雨胞最終消散。

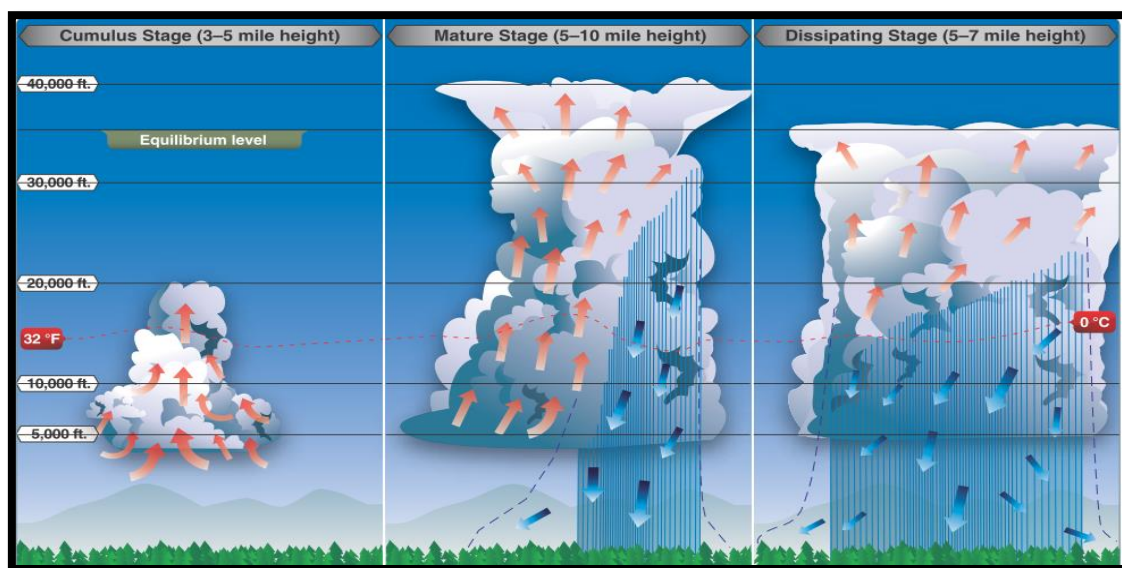


圖 26 雷雨發展、成熟與消散的三個階段
(圖片來源：PHAK)

4.16 航空氣象服務

4.16.1 氣象服務提供單位

遙控無人機操作人於實際飛航前，應事先瞭解活動區域或鄰近區域之天氣狀況。操作人可逕上中央氣象局網站查詢區域相關天氣資訊；當獲准於機場範圍區域活動時，則應參考航空氣象服務網就該機場提供之即時天氣觀測資料(如風向風速、能見度及雲霧高等)。

4.16.2 中央氣象局

中央氣象局隸屬於交通部，為我國天氣測報之主管機關，其職掌除綜理全國氣象業務外，尚包括地震測報、衛星觀測、海象及天文等項目。其組織架構如圖 27。

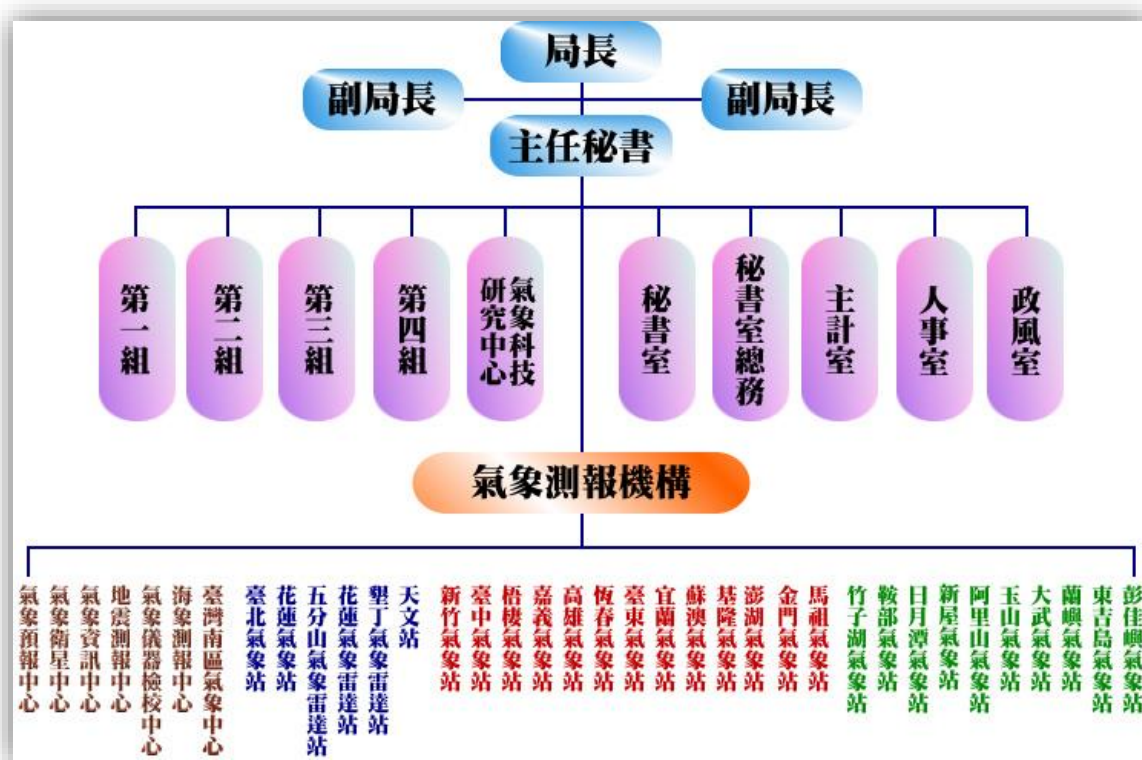


圖 27 中央氣象局組織圖
(圖片來源：中央氣象局網頁)

4.16.3 臺北航空氣象中心

臺北航空氣象中心隸屬於民航局飛航服務總臺，負責機場範圍區

域天氣之觀測及預報工作，並提供影響航空器於飛航運作過程中所可能遭遇到的顯著危害天氣資訊予作業人員，以茲因應。其組織架構如圖 28。



圖 28 臺北航空氣象中心組織圖
(圖片來源：飛航服務總臺網頁)

4.16.4 氣象資料種類及提供方式

操作人可透過中央氣象局網頁取得天氣觀測及預報資料，觀測資料包括天氣、雨量、風向風速、衛星、雷達回波圖、雷暴、海象及紫外線等；預報資料則包括各縣市鄉鎮及特定地區之天氣預報(包含 7 日及 10 日)、國際都市天氣預報、天氣分析及預測圖、長期預報、數值模式及風場資訊等較為深入之氣象資料。

民航局飛航服務總臺所建置之航空氣象服務網可取得國內外各主要機場之即時觀測氣象資料，如圖 29。



圖 29 航空氣象服務網

4.16.5 氣象電碼

在航空氣象裡，有兩項重要的飛航天氣資訊：機場觀測及預報資料。觀測人員原則上每 30 分鐘或 60 分鐘依機場現時觀測之結果，編報「航空例行天氣報告(Meteorological Terminal Aviation Routine Weather Report, METAR)」。

考量氣象條件對於遙控無人機操控行為之影響，專業操作者應具備基礎判讀航空氣象報文之能力，若不在機場周邊操作，亦應密切注意中央氣象局等專業氣象機構之對於周邊地區之觀測與預報。機場觀測(METAR)報文作範例及表 4 代碼說明如下：

4.16.6 例行天氣報告觀測範例

METAR₁ RCSS₂ 130930Z₃ 31004KT₄ 250V010₅ 7000₆ -SHRA₇ FEW012 BKN025 BKN040₈ 26/24₉ Q1009₁₀ NOSIG RMK A2981 (W)₁₁=

以上範例為一則標準機場觀測(METAR)報文格式，其說明如下(依各代碼下標之註解號碼排序)：

- 1. 報告種類：**觀測報文種類有兩種，分別為 METAR 及 SPECI，前者為機場例行天氣報告之電碼名稱，定時發布報告(半小時/一小時)；後者則為機場特別天氣報告之電碼名稱，於例行天氣報告之發布期間內若發生任何天氣改變且達到特定值時，發布特別天氣報告。
- 2. 觀測場站之識別碼：**觀測發生之機場，機場識別碼依據 ICAO 所編彙之航用地名，我國機場識別碼前兩碼均為“RC”。
- 3. 觀測日期與時間：**觀測發生之日期與時間，以當日日期及時間(小時+分鐘)為單位，並緊接著 Z(Zulu time)字母指示碼¹¹。
- 4. 風向及風速：**機場風向風速之觀測值，使用觀測前十分鐘期間之平均風向(採真方位並化整至最接近之 10 度整數)與平均風速之編報，並緊接風速單位(KT 海里/時或 MPS 公尺/秒)。
- 5. 風向轉變量：**觀測前十分鐘期間，若風向之總變動達 60 度以上但小於 180 度，以及平均風速達 3 KT(1.5m/s)以上時，則會將觀測到之風向變動範圍內兩極端方位，按順時針方向順序編報，若無此情形，則此組省略不報。
- 6. 盛行能見度：**所觀測到之盛行能見度值，編報以 4 碼(公尺)為單位，如 4000(4,000 公尺)、9999(10 公里以上)。
- 7. 現行天氣組：**主要係依據電碼表，以一組或一組以上但不超過三組之天氣現象代詞，編報發生於機場或其附近且對飛航作業有重大影響之當時天氣現象。並以適當之強度指示碼及簡語組合成 2 至 9 個字母之電碼組，來表示現在天氣現象。
- 8. 雲量：**雲量是指雲在天空中遮蓋的份數。航空氣象觀測員將天空劃分成 8 等份¹²，若觀測到 1/8 至 2/8 的天空被雲層遮蓋，其雲量就為 1~2，雲量類別稱為稀雲(FEW)、3/8 至 4/8 為疏雲(SCT)、5/8 至 7/8 為裂雲(BKN)或 8/8 為密雲(OVC)等 4 種，其後緊接著雲層之雲底高度(英尺, ft)為單位。如 FEW020(觀察到有

¹¹ 意指以世界協調時間(Coordinated Universal Time, UTC)為基準。如 130001Z，係指當月 13 日格林威治時間 00 點 01 分，台北時間則為 13 日上午 08 點 01 分。

¹² 氣象局觀測則劃分為 10 等份。

稀雲雲底位於地面高 2,000 呎處)、BKN003(觀察到裂雲雲底位於地面高 300 呎處¹³)。

9. 溫度露點組：觀測到之氣溫和露點值化整至最接近之整攝氏度數，含有 0.5 之觀測值應向上化整至最接近之較高攝氏度數。
10. 高度表撥定值組：觀測到之 QNH 值往下化整至最接近之整百帕，並以字母指示碼 Q 置於其前方。
11. 其他補充資訊：其他補充天氣資訊內容，可包括過去天氣現象、低空風切、海面溫度和狀況與跑道狀況組。

本例解碼：松山機場例行天氣報告，於 13 日 0930UTC 時間觀測報告，風向 310 度，10 分鐘平均風 4 海里/時，不定向風介於 250 度至 010 度間，能見度 7000 公尺，小陣雨，稀雲於地面高 1,200 呎，裂雲於地面高 2,500 呎，另一項裂雲於地面高 4,000 呎¹⁴，場溫攝氏 26 度/露點 24 度，場壓 QNH1009，現在天氣、風、雲或水平或垂直能見度均無明顯變化，29.81 inHg，ATIS (W)報。

表 4 例行與預報氣天氣現象代碼

修飾詞		天氣現象				
強度或鄰近	敘述詞	降水		視障	其他現象	
(1)	(2)	(3)		(4)	(5)	
- 輕度(小)	MI 淺	DZ	毛雨	BR	靄	PO 塵/沙捲風
中度(中) (無修飾詞)	BC 散、碎	RA	雨	FG	霧	SQ 颶
+ 強烈(大) (發展完整的塵/沙龍捲(塵暴)及漏斗狀雲)	PR 部分 (覆蓋機場一部分)	SN	雪	FU	煙	FC 漏斗雲 (龍捲風或水龍捲)
	DR 低吹	SG 雪粒	VA 火山灰	DU	大範圍塵	
VC 在附近	BL 高吹	PL 冰珠	GR 雹	SA	沙	SS 沙暴
	SH 陣性	GS 小雹及/或霰	HZ	霾	DS 塵暴	
	TS 雷暴	UP 未知形式的降水				
	FZ 凍(過冷)					

¹³ 裂雲及密雲之高度，亦稱為雲幕高度(Ceiling)。

¹⁴ 雲幕高以最低者而言，亦即 2,500 呎。

第5章 緊急處置與飛行決策

操作遙控無人機的過程中，如何審時度勢迅速執行緊急處置或對特定情境作出最佳飛行決策，需要具備相關生理、心理知識。本章先介紹生理因素對操作遙控無人機的影響，說明過度換氣、壓力、疲勞、脫水、熱中暑、酒精與藥物等因素與改善方法，並敘述視野與飛行、簡易自我身心檢測等內容。再由心理層面切入，建議操作人面對緊急情況時應有之作為，首先說明緊急處置準備(緊急落地類型、操作人心理)，再敘述飛行決策(風險管理、單人組員資源管理、危害及風險、辨識風險)模式，以培養身心健全的遙控無人機操作人。

5.1 航空生理學

5.1.1 導論

遙控無人機操作人在執行任務前及過程中，需確保參與執行的成員不受酒精及藥物的影響。除酒精、藥物外，即便是一般的成藥如抗組織胺或解除充血劑(鼻藥)等也可能影響操作安全，操作人平時也應留意己身身心狀況。因此，凡是有以下任一情形者均不得操作遙控無人機：

- 飲用酒類或其他類似物後，其血液中酒精濃度超過 0.02%或吐氣中酒精濃度超過每公升 0.1 毫克。
- 吸食毒品、迷幻藥、麻醉藥品及其相類似之管制藥品。
- 服用任何會造成不能安全操作遙控無人機之藥物。
- 患病影響安全操作。

影響操作人的安全操作遙控無人機主要因素有：(1)過度換氣；(2)壓力；(3)疲勞；(4)脫水；(5)熱中暑；(6)酒精與藥物。

5.1.2 過度換氣

過度換氣是呼吸頻率過快以致血液裡二氧化碳的濃度過低所導致的結果。雖然發生過度換氣時不會造成失能，但可能會讓無經驗的操作人陷入恐慌。無經驗的操作人會不自覺的增加呼吸頻率、陷入焦慮，從而惡化症狀。若無法善加控制，可讓操作人進入意識不清的狀

態。一般來說，意外的壓力情境很容易讓操作人不自覺的增加呼吸頻率。

以下為過度換氣的常見症狀：(1)視界窄化；(2)意識不清；(3)輕快或暈眩感；(4)肢體末稍有刺痛感；(5)對冷熱敏感；(6)肌肉痙攣感。

過度換氣的改善方法是讓血液裡的二氧化碳濃度恢復到正常狀態，最好的預防及矯治方法就是讓呼吸保持正常。除了保持正常呼吸外，朝紙袋呼吸或大聲交談也是很好的方法。當呼吸頻率恢復正常後通常症狀隨即消失。

5.1.3 壓力

壓力是人體對於生理及心理的需求所做出的反應。人體對於壓力的反應通常是釋出荷爾蒙(如腎上腺素)到血液中、增加代謝速率、提供肌肉所需能量。其結果是大部份的生命徵象如血糖、脈搏、血壓、呼吸、排汗量均增加。壓力源係指描述個人體驗壓力的元素，壓力源包括物理的壓力(如噪音及振動)、生理的壓力(如疲勞)及心理的壓力(如工作困難或個人情緒因素)等。

壓力基本上可以分做兩大類：急性及慢性。急性的壓力包括立即的威脅(如危險、緊急情境)，這類的壓力無論是真實或是透過想像形成的，都可能觸發抵抗或逃避的反應(Fight-or-flight response)。而持續性的急性壓力可能發展成長期的慢性壓力。

慢性壓力在長期累積或壓抑下，會導致個人能力大幅下滑。然由於每個人的生長環境不同，所能承受的心理負荷也不同。所以操作人除操作時的壓力外，當另有其他的如環境、生理或心理等壓力因素時，可能會急遽的造成心理負荷能力降低。因此，操作人若體驗到在壓力導致己身能力下滑時即應暫停執行任務，並予以適當的休息。若長期仍無法排解壓力時，建議尋求醫療協助。

適度的壓力可以讓人保持進步及警覺，並避免過度自信。惟操作人若未能適當地排解壓力，經累積下來後，雖然在最初表現能夠隨著壓力的增加而成長，但當壓力超過臨界點時，操作人的效能將隨即大幅下滑，操作品質將受到影響。各種壓力來源如表 5。

表 5 壓力的來源

項目	說明
環境壓力源	所有與環境有關的情境：如溫度、濕度過高、噪音、異常振動及缺氧等。
生理壓力源	生理狀況如疲勞、缺乏運動、失眠、未按時用餐(造成低血糖)與疾病等。
心理壓力源	社會或情緒性因子：如親人過世、離婚、小孩生病或是職場不如意等。此種壓力亦與心智工作量有關：如分析問題、飛行導航或作飛行決策等。

以下為幾種處理壓力的技巧：

(1)善用資源

學習如何辨識壓力及掌握有效的資源，並適時向其他專業人員分享經驗或尋求協助。

(2)狀況警覺 (Situational Awareness)

狀況警覺是對五個基本的風險元素(飛行作業、操作人、航空器、環境及任務種類)的認知及了解的程度。當操作人對於整體操作環境有所掌握並對任務全盤了解時，可避免聚焦(Fixation)在某個特定的因子上，並對於各種可能發生的狀況預作準備。

(3)阻擾狀況警覺的因子

疲勞、壓力及工作量過多都可能影響操作人，因於操作人過度集中注意力在某件事物而失去對整體任務的掌握。

(4)有效的工作量管理

操作前藉由計畫、整理、排序工作任務以確保飛行任務安全執行。並隨著經驗的累積，在工作時序上進行工作量的調整與調配。

5.1.4 疲勞

疲勞(Fatigue)是一種身心耗弱狀態，乃是長期處在高度壓力之下的生理或心理反應。而疲勞的成因可能由生理或心理或兩者同時引起的症狀，並可分為生理性與心理性疲勞、急性與慢性疲勞。

職場的疲勞來源，可能來自工作，如工作負荷、環境溫度與照明、工作制度，也可能來自工作適應能力與生理、心理恢復能力以及個人生活因素(如經濟壓力、家庭照顧、睡眠時間與品質)等。¹⁵

疲勞會導致注意力渙散、專注力下降、協調性及溝通性降低等症狀。而這些症狀將影響操作人的判斷力，造成操作錯誤或疏忽，嚴重則會導致意外的發生。

急性疲勞通常是短期，且與日常生活有關。一般而言，發生疲勞的成因有：工作負荷大(如工作量、工作壓力、工時長)、用腦過度、長期反覆動作、工作單調、過度施力、工作適應能力較低(如體能不足、肌肉疲勞)、恢復不足(如失眠無法入睡、睡眠不足)、工作制度設計不佳(如輪班工作、工作時間)、環境因素(如噪音、照明光線、通風不良、室溫)。操作人在操作前應充分休息、睡眠，並可藉由正常飲食及規律作息而獲得改善，若忽略或未及時改善急性疲勞，則會進一步造成慢性疲勞。

慢性疲勞可能出現的症狀包括虛弱、強烈的疲倦、倦怠感、心悸、呼吸不順、頭痛、其他身體的不適及沮喪與焦慮。若出現這些症狀時，操作人應適時尋求醫療協助。

此外，在急性疲勞中，有種特殊情況稱之為「技能疲勞」，在操作方面的影響主要有時機掌握混亂¹⁶及視域過度聚焦¹⁷，操作人應特別留意，以避免操作時發生意外。

¹⁵ 《職場作業勞工勞動疲勞檢測及運動介入相關性研究》，行政院勞工委員會勞工安全衛生研究所，民國 102 年 4 月。

¹⁶ 在執行任務時表面上與平常無異，但每個階段處理的時間較平常為長，過程裡各流程的執行順暢度較平常差。

¹⁷ 專注於視界中央物體的移動，忽略了周遭視界的其它物體。此徵候一旦發生，在執行任務時通常會失去平穩度及準確度。

5.1.5 脫水

脫水(Dehydration)是身體組織水分不足的情況。脫水的成因，可能是長時間處於高溫、高溼度、高海拔環境、心理壓力及飲用過多刺激性飲料如濃茶、濃咖啡、酒類等，都可能會造成水分補充不及導致脫水。脫水最先出現的症狀是口乾、舌燥，並伴有較強的疲勞感，將導致操作人的生理及心智表現下滑。因此，操作人應隨時掌握己身之生理狀況，並適時補充水分。其他避免缺水的方法有：

- 攜帶水壺以量取每日所需的攝取量。
- 不應感到口渴時才喝水，主動攝取足量水份。
- 避免過量攝取咖啡因及酒精類飲料。

5.1.6 熱中暑

熱中暑(Heat stroke)是指身體無法對體溫進行控制，原因是身體的熱無法排出，其症狀會由脫水開始，中暑後生理機能基本上完全崩潰，無法正常執行任務，嚴重可能會造成生命的危險。避免熱中暑的方法是規律攝取足量水份，在炎熱且無遮蔽情形下，人體攝取速率每小時最少應攝取約 1 公升，普通情形下每小時應攝取約 0.5 公升。

5.1.7 藥物

按管理規則第二十五條第一項第二款規定，操作人操作遙控無人機不得受精神作用物質影響，以保障自己及他人之生命財產安全。所稱精神作用物質，參照飛航規則第二條之定義，包含酒類、鴉片類、大麻、鎮靜劑及安眠藥、古柯鹼、其他精神刺激藥物、迷幻藥及興奮劑等。

此外，若操作人服用成藥、抗組織胺或解除充血劑時，其副作用可能會產生如暈眩或是感知功能不全的情況，導致不能安全操作遙控無人機。因此，若操作人依醫囑服用藥物後，於執行操作任務前，應留意：

- 確認藥物可能的副作用。
- 定時、均衡飲食。
- 隨身攜帶點心以防血糖低下。
- 攜帶水壺、確保飲水充足。
- 執行任務前需充分休息。

5.1.8 酒精

按管理規則第二十五條第一項第一款規定，血液中酒精濃度不得超過 0.02%或吐氣中酒精濃度不得超過每公升 0.1 毫克。飲酒後的操作人雖可能認為生理狀況與平常無異，但事實上，只要攝取極少量的酒精就可能影響操作與判斷，也較難掌握周邊環境的變化，並伴隨身體協調性變差、視界窄化、降低邏輯能力及注意力低落等狀況，進而提高操作遙控無人機的風險。然由於心智與生理狀況實際上仍受到影響，且酒精可停留在人體內達 16 小時，故飛航活動前應避免攝取酒精。酒精攝取量與行為變化間關係如表 6。

表 6 酒精攝取量及行為變化

酒精攝取量	行為變化
0.03~0.12% (30~120 mg)	有輕快感、多話、抑制力減弱、注意力變差、判斷力降低、反應時間變長。
0.09~0.25% (90~250 mg)	情緒不穩定、喪失關鍵判斷力、記憶力及理解力損害、感官反應力變低、中度肌肉不諧調。
0.18~0.30% (180~300 mg)	混淆感、暈眩、誇大的情緒(如憤怒、恐懼、悲傷)、痛覺及視覺損害、步態遲緩、說話含糊不清、中度肌肉不諧調。
0.27~0.4% (270~400 mg)	精神差、意識不清、麻木、刺激反應降低、重度肌肉不諧調、無法站立及行走、嘔吐、大小便失禁。
0.35~0.5% (350~500 mg)	無意識、體溫不正常、昏迷、呼吸道麻痺致死(攝取量超過 450 mg)。

5.1.9 視野與飛行

操作人對眼睛的知識了解越多，越能有效使用視力來補足資訊獲得的落差並避免潛在的危險，其中包含了掃瞄技巧。有效的掃瞄方向是從左到右或由右到左逐次掃視，掃視的方法是從最外側(或最遠端)逐項往右(或往左)並向視界裡的飛機掃視。每次掃視的範圍約 30 度寬即可，每次掃瞄的視界不要超過 2 到 3 秒，兩次掃瞄的視界間最好有 10 度的重疊，如圖 30 所示。

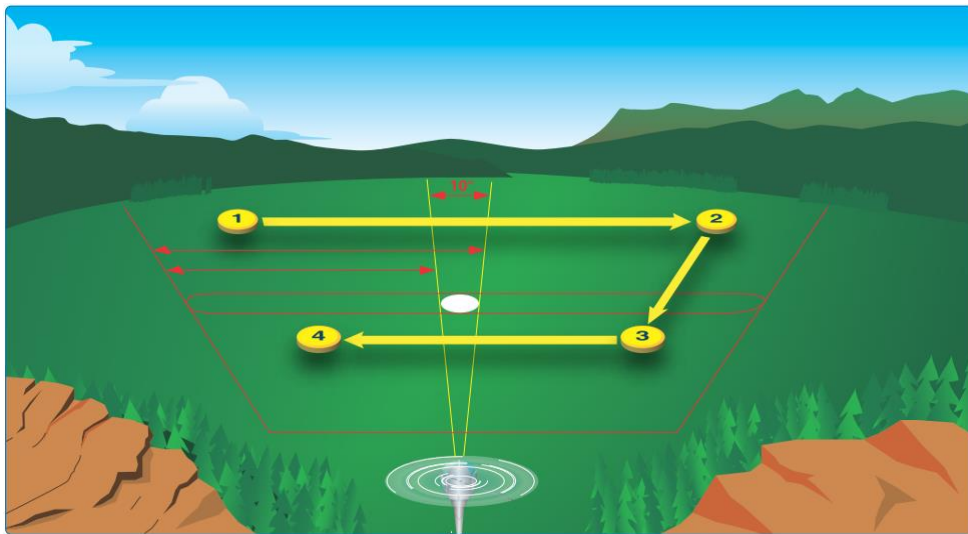


圖 30 視野掃描的技巧
(圖片來源：PHAK)

5.1.10 自我檢測 (IMSAFE)

操作人於操作前，可利用此一簡易的自我檢測方法，通稱為“IMSAFE”，來瞭解己身是否能夠在適宜的身心狀態下，安全的操作遙控無人機。其英文字所代表的意涵分別為疾病(Illness)、藥物(Medication)、壓力(Stress)、酒精(Alcohol)、疲勞(Fatigue)及情緒(Emotion)。

- 疾病 (Illness)：我有身體不適？或生病嗎？疾病是顯而易見的風險。
- 藥物 (Medication)：我若服用藥物，會不會影響決策或在操作時產生暈眩？
- 壓力 (Stress)：我有沒有承受工作上的壓力？在財務、健康或家庭方面有沒有問題？壓力會導致在操作時無法集中注意力及判斷力下降。

- **酒精 (Alcohol)**：過去 8~12 小時內有無飲用酒精？一小杯烈酒、一罐啤酒或 4 盎司的紅白酒均可能影響飛行操作的安全。
- **疲勞 (Fatigue)**：我累了嗎？操作前有沒有好好的休息？疲勞一直是危害因子中最不明顯的。許多操作人在操作時才發覺到因休息不足而導致注意力及反應下降。
- **情緒 (Emotion)**：操作時我的情緒如何？穩定平靜嗎？

操作人在操作前，建議透過上述之方式，確認自己是否處於適宜的身心狀態下進行操作，以確保操作安全及成效。

5.2 緊急處置原則

操作遙控無人機時若發生非預期的緊急情況時，操作人首要的任務應先確保己身及周邊環境及其他人員的安全。

每次操作前，操作人應對航空器進行起飛前檢查，確認航空器處於適航狀態。若在檢查中發現任何異常狀況，應立即修正以確保安全。有些製造商會提供操作人有關檢查程序的資源(如檢查表等)，若製造商沒有提供，則操作人宜針對操作機種的程序和限制，自行設計檢查表以確保能夠安全操作。

若非獨立操作，需向共同參與任務的組員(無論是操作人、觀察員或是其他無操作能力的人員)進行簡報並告知相關的緊急處置程序。

操作人應瞭解如何在遙控無人機發生異常或緊急事件時，運用遙控無人機的設計特性及操作人之操作技巧來保護遙控無人機，並盡可能地避免損害到其他人的生命財產。

5.2.1 緊急落地類型

緊急落地可依類型區分如下：

- (1) **迫降**：立即落地，不管有沒有在機場落地，迫使遙控無人機無法再繼續飛行，例如發動機失效。

- (2) **預防性緊急著陸**：預防或避免進入到緊急狀況下的立即性落地，例如愈來愈惡劣的天氣、航路迷失、燃油不足、發動機狀況異常等。
- (3) **水上迫降**：若周邊人群較多或是無法急於陸地或其他安全因素考量，於水上執行迫降。

5.2.2 操作人心理層面

當面對緊急狀況時，若平時沒有熟悉緊急應變之處置程序，操作人可能會陷入遙控無人機即將墜地的情境中，導致不斷地進行盲目的無效操作，最終失去對遙控無人機的控制。因此，操作人除要熟讀遙控無人機的操作手冊及充分了解遙控無人機構造及設計特性外，亦應熟悉緊急落地之技巧並掌握周邊環境。通常而言，簡易的 **ABC** 技巧，可以幫助操作人應對緊急狀況：

- **先穩定操作 (Aircraft)**，維持安全高度：當遙控無人機發生異常或緊急事件時，應先穩定操作，掌握遙控無人機位置，並盡可能維持安全高度。
- **找尋最佳的緊急落地處 (Best Field)**：首先避免人車眾多及有電線電纜、工業區、加油站、鐵路等，避免因為撞擊產生爆炸或火警。並避免軍事基地、機場、禁航區、限航區。其次選擇空曠處，以操作人能夠掌握的地點為主。再其次為水上迫降。
- **檢查表 (Checklist)**：選好落地處後，依製造商或自行製作的的檢查表程序，啟動或關閉相關裝備。

5.3 飛行決策

飛行決策(Aeronautical decision-making, ADM)是指操作人在飛航操作環境下，利用系統性的評估風險及處理壓力的方法，來達成最適宜的結果。飛行決策是基於經驗的累積及判斷集合而成，著重於學習、評估及選擇決策方案，包含：

- (1) 辨識個人態度中可能危害安全飛行的因素；
- (2) 學習行為修正的技巧；
- (3) 學習如何認知及處理壓力；

- (4) 發展風險評估的技巧；
- (5) 如何使用既有資源；
- (6) 評估飛行決策的效度。

5.3.1 風險管理

風險管理的目的是為能夠主動辨識與飛航安全有關的危害因子，並透過迴避、減少或隔離等手段至能接受之風險。由於操作人經常需要在具潛在危險的環境中做許多決定，因此操作人需評估風險的層級，並採行適當的緩解方案以降低風險至可接受之範圍。

風險管理是飛行決策中非常關鍵的部份，錯誤的決策管理，在日常生活中雖非都會導致重大的災害，但這對於飛行來說，容錯的空間則是非常的小。在表 7 風險管理三階段所列的三個階段裏，風險管理都有不同的輔助工具可以運用：

表 7 風險管理三階段

策略擬制階段	審議評估階段	執行關鍵階段
使用於複雜的操作(例如：規劃大型任務)；包括研究、使用分析工具、正式測試或及長期風險追蹤。	採用經驗或集體討論的方式來辨識危害、評估風險並發展控制選項以規劃作業項目、檢討標準作業程序與訓練程序。	在執行的階段中利用口語或是在心中很快的利用基本風險管理程序來做檢視。

操作人若能按照良好的決策流程處置，後續的飛航風險將可有效降低或消除。而風險管理程序包括圖 31 中所列的六個步驟：

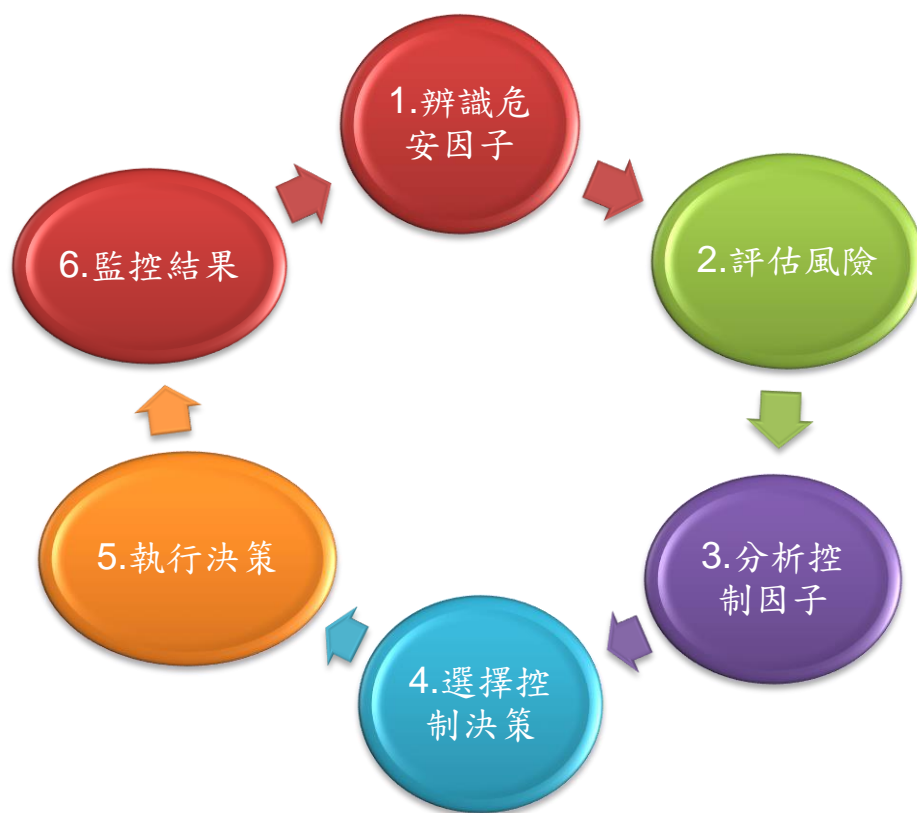


圖 31 風險管理程序

飛行決策的過程中，應掌握四個風險管理基本原則：

- (1) 不接受非相關的風險。飛行一定有風險，但非相關的風險無助於回饋及修正決策；
- (2) 將風險設定在合適的層級。風險決策應由具有發展及實行風險控制能力的人員處理；
- (3) 在獲益超過危害時接受風險(兩益相權取其重)；
- (4) 將風險管理整合在飛行各階段的計劃過程中。因為每個飛行的階段都有風險存在，所以風險管理不僅僅適用於起飛前階段，而是飛行的所有階段。

5.3.2 單人組員資源管理

雖然組員資源管理的設計著重在團隊環境，但其中很多的概念可以應用在單人操作環境裡。因此發展出單人組員資源管理(Single-pilot resource management, SRM)。單人組員資源管理即單人操作人對資源管理的藝術及科學，其中包含：飛行決策(Aeronautical Decision-making)、風險管理(Risk management)、工作管理(Task management, TM)、自動化管理(Automation management, AM)、可控飛行撞地警示(Controlled flight into terrain awareness)及狀況警覺(Situational awareness, SA)等。

5.3.3 危害及風險

危害(Hazard)係指一種狀況、物體或活動，其可能造成人員傷亡、裝備損壞或降低運作效能。面臨危害時，操作人基於各種危害因子來評估危害程度。而風險(Risk)則是危害所可能造成的後果。因此當辨識到危害後，操作人應針對所可能造成的風險，進行風險緩解(Mitigation)，將危害的發生頻率降低到可接受之程度。

單人組員資源管理的訓練是以管理自動飛行、遙控無人機操控及導航任務來幫助操作人察覺飛航情境。單人組員資源管理有助於操作人精準的評估及管理風險，並在適當的環境下執行決策。簡言之，單人組員資源管理的目的在於如何蒐集、分析資訊，並作出正確決定。

操作人執行遙控無人機操作時，操作心態也會影響飛行決策。研究顯示有五種心態干擾會降低飛行決策的品質：反威權、衝動、僥倖、英雄主義及消極順應。而這五種心態，可能會導致錯誤的飛行決策。操作人必須要能夠自我覺察到這些負面的心態，再用正確態度來改正。而以上五種心態的解決方案如下表 8：

表 8 危害飛安的五種心態及解決方案

危害心態	解決方案
<p>(1) 反權威：別告訴我怎麼做！</p> <p>這種心態通常出現在我行我素的操作人身上。認為遵守法規、規則與程序是沒有必要的或是軟弱的，對於別人勸告或提醒會覺得囉唆、忿怒，且認為這些都是不必要。</p>	<p>遵守規則，規則通常是正確的。</p>
<p>(2) 衝動：快點做！</p> <p>這種心態通常出現在較為急躁的操作人身上。當問題發生時，操作人只想著當下立即作出反應，以致於未能去思考確切的問題所在，也錯失最佳的解決方案。</p>	<p>別那麼快反應，先三思而後行。</p>
<p>(3) 僥倖：這不會發生在我身上！</p> <p>操作人認為意外不會發生在他們身上。即使意識到意外隨時隨地都可能發生，但仍自認為不會遇到。這類操作人可能會採取較為冒險的行動，反而提高操作風險。</p>	<p>任何意外都可能發生在自己的身上。</p>
<p>(4) 英雄主義：我可以做到！</p> <p>這類的操作人希望藉由某些行為證明比同儕優秀或受到注目。因此用「我可以的、我做得到的」的心態操作飛行，通常會採取較為極端或是不正常的操作來證明自己的能力。</p>	<p>魯莽是愚蠢的。</p>
<p>(5) 消極順應：這有用嗎？</p> <p>這類的操作人通常是消極順應著事件發展，比較不會積極去做些特別的改變。若事件的結果是好的，會認為「運氣好」。若發展的不順利，就會歸咎於「走霉運」。這類的操作人比較沒有不合理的要求，因此通常會被認為是很好相處的人。</p>	<p>我不是無能為力的，我能夠做些改變。</p>

5.3.4 辨識與緩解風險

對操作人來說，降低風險的方法，不外乎操作人要能夠辨識、預知、覺察己身的操作風險。因此，在起飛前可利用 5.1.10 所介紹的 IMSAFE 檢查表或本節介紹的 PAVE 檢查表，來幫助操作人自己覺察操作風險，一旦確認風險出現，操作人需作出判斷是否能夠有效緩解風險。如果不行，就取消任務。若決定繼續執行，操作人則應進行相對應的風險緩解，以期能夠安全操作。

5.3.4.1 PAVE 檢查

(1)操作人 (Pilot)

操作人為任務中的一個風險因子。操作人應自問：「我準備好執行這趟任務了嗎？」經由飛行經驗、上次操作時間、生理及情緒等情形作綜合判斷。

(2)航空器 (Aircraft)

這次操作的機種會遇上什麼操作限制？例如：

- 本次任務使用的機型是否適合？
- 是否熟悉此機型？法規是否符合？
- 操作機型的載重平衡是否妥適？

(3)環境 (enVironment)

天氣是環境風險中主要的考慮因素。操作人在評估操作時的天氣狀況應考慮以下因素：

- 能見度及雲高為多少？
- 操作時的天氣與天氣預報有出入？
- 天氣預報或操作時天氣有無出現雷雨？
- 若天空有雲，預報裡有無積冰警示可能影響高空飛行？溫度與露點的差值是多少？各空層的溫度是多少？
- 地形、空域也是環境風險的考慮因素，沿途地形重點於分析飛行環境，空域則查明活動空域是否合法及安全。

(4)外在壓力 (External pressure)

外在壓力是指與飛行無直接相關，但可形成壓力及影響飛行的因素。通常外在壓力的因子包括：

- 展現身為合格操作人的慾望。
- 讓人印象深刻的慾望。
- 操作人使命必達的特質。
- 飛行經驗及技巧不足。
- 驕傲自負。

處理外在壓力是風險評估裡最關鍵的要素，因為操作人可能因未能妥善處理外在壓力而忽略其它風險因子。處理外在壓力最適宜的方式，是透過採行標準作業程序(Standard Operating Procedure, SOP)以減輕外在壓力。

5.3.4.2 人為因素

人為因素(Human Factor)及飛航作業的關聯已成為遙控無人機安全管理的焦點。人為因素包括特定領域的研究與整合(如飛行、維修、壓力及認知)及了解人類的的能力與極限，應用於工具設計、機器、系統、任務、工作及環境等方面以讓人類安全、舒適、有效的使用及運用。

5.3.4.3 決策程序

了解決策程序對於操作人建立飛行決策(ADM)的技巧是有幫助的。在風險管理的決策程序裡，包括：辨識危害、分析控制、決定控制決策、執行及監控結果等。常見航空決策模式如表 9，以 PAVE+DECIDE 模式形成決策的程序，可參考圖 32。

表 9 航空決策模式

模式	實施方式
3P 模式 (感知、處理及執行： Perceive 、 Process 、 Perform)	3P 模式在飛行決策裡提供操作人在飛行各個階段一個簡易、實際及系統性的處理方式。操作人： <ul style="list-style-type: none"> ● (感知)察覺飛行過程中所發生的情況。 ● (處理)評估情況對飛安的衝擊。

	<ul style="list-style-type: none"> ● (執行)採行最佳方案。
PAVE + 3P	PAVE(操作人、航空器、環境及外在壓力) 配合 3P 模式(感知、處理及執行)。
DECIDE 模式	<p>覺察、評估、選擇、辨識、執行及評量(Detect, Estimate, Choose, Identify, Do, Evaluate, DECIDE) 模式。</p> <ul style="list-style-type: none"> ● 覺察(Detect)：決策者發覺情勢發生變化。 ● 評估(Estimate)：決策者判斷對於反應此改變所需的程度。 ● 選擇(Choose)：決策者在對策中選擇最佳方案。 ● 辨識(Identify)：決策者辨識方案是否可有效控制情勢變化。 ● 執行(Do)：決策者執行方案。 ● 評量(Evaluate)：決策者評量執行的結果並據以修正。
PAVE + DECIDE	PAVE(操作人、航空器、環境及外在壓力)配合 DECIDE 模式(察覺、評估、選擇、辨識、執行、評量)。

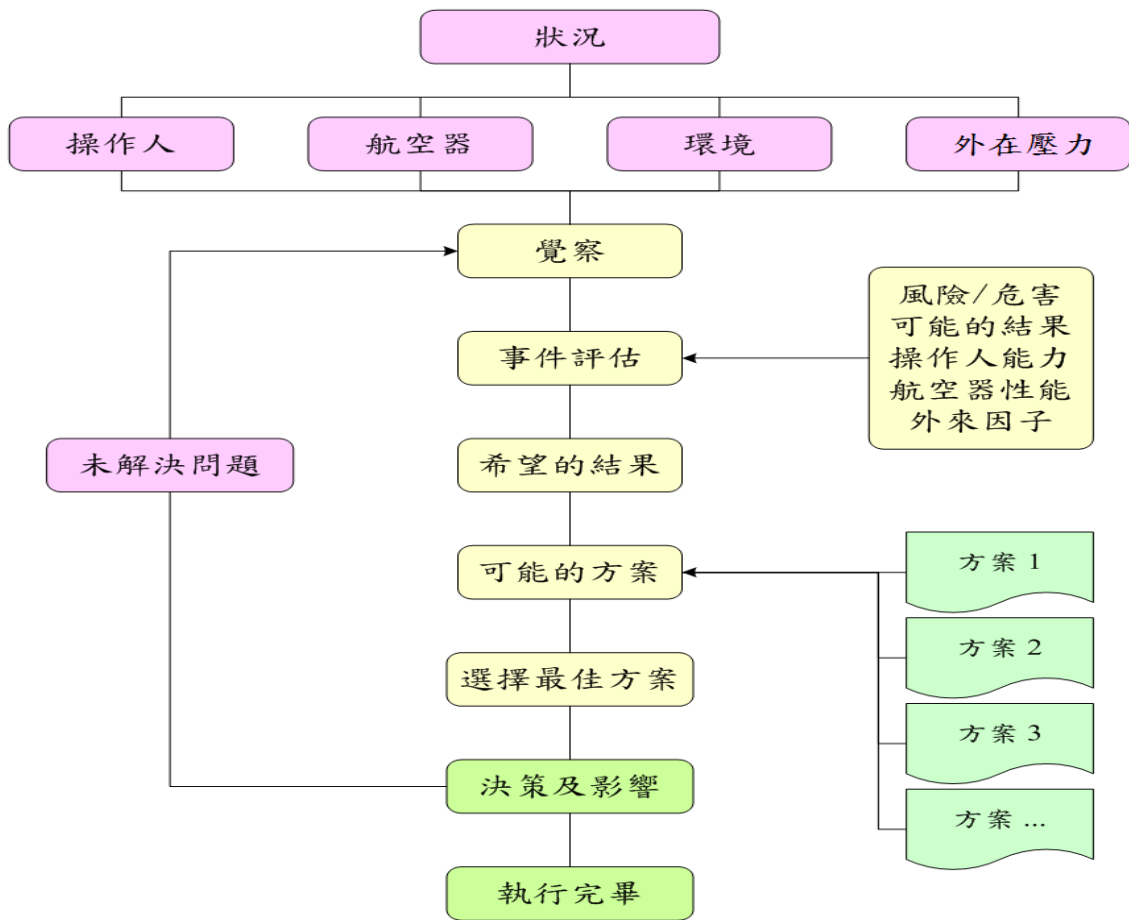


圖 32PAVE + DECIDE 決策程序

5.3.4.4 自動決策

數十年來對於人類如何形成決策的研究發現，在有限的時間壓力下，未經充分蒐集、分析利弊、僅憑直覺或經驗即執行的過程稱為自動決策。自動決策模式基本上是一種反射性的模式，其形成的重要基礎是需要大量的訓練及經驗。而自動決策經常應用在緊急情況或無法預作分析或沙盤推演的情況中，這種模式通常會透過訓練及經驗來探討及改進。

操作人使用各式決策工具結合飛行訓練及個人經驗進行決策，且隨著飛時的累積，操作人憑經驗所作成的自動決策之機率越來越多。但相對的，老練的操作人因循既有的經驗，而掉入作業陷阱的機率也會越來越高。這樣的操作模式對於飛安在某種程度上會有潛在的負面威脅。表 10 所列為操作遙控無人機常見之作業陷阱。

表 10 操作遙控無人機常見之作業陷阱

作業陷阱	描述
------	----

同儕壓力 (Peer pressure)	某些錯誤的決策並不是來自於客觀判斷情勢，而是來自同事的壓力。
心態 (Mindset)	無法認知所處的情況或無法處理航情。
使命必達 (Get-there-it-is)	使命必達的心態有時會過度聚焦在任務目的，無法以靈活變通的方式完成任務。
反應過慢 (Getting behind the aircraft)	因層出不窮的突發狀況，操作人窮於應付而無法掌握航情全貌。
無狀況警覺 (Loss of positional or situational awareness)	反應過慢，在窮於應付眼前的狀況下，操作人無法了解目前的飛行方位及位置，對於周遭航情自然無法掌握。
錯估安全油量或電量 (Operating without adequate fuel and battery reserves)	通常發生在太過自信、缺乏計劃或未依航情採取合宜的飛航計畫。
操作超限 (Flying outside the envelope)	操作某高性能機型時，若未對其性能有全面的了解，可能使操作人對該型機性能過度高估而操作超限、從而影響機體結構、危及飛安。
忽略事前計劃、飛行前檢查及未按檢查表操作 (Neglect of flight planning, preflight inspections and checklists)	此情形特別容易發生在經驗豐富的操作人身上，僅憑短期、長期的記憶、平常的操作技巧及常飛的航路來操作機種，未按預定的操作程序操作飛行。

第6章 附錄

6.1 參考資料

- [1] 臺北飛航情報區飛航指南(Taipei FIR eAIP)
- [2] 飛航管理程序(ATMP)
- [3] 航空氣象服務網
- [4] 航空氣象電碼彙編
- [5] 飛航服務規範
- [6] 中央氣象局氣象百科
- [7] Aviation Weather, FAA AC00-06B. U.S. Department of Transportation, Federal Aviation Administration, AirmanTesting Standards Branch, 2016.
- [8] Pilot's Handbook of Aeronautical Knowledge, FAA-H-8083-25B. U.S. Department of Transportation, Federal Aviation Administration, AirmanTesting Standards Branch, 2016.
- [9] Remote Pilot – Small Unmanned Aircraft Systems Study Guide, FAA-G-8082-22. U.S. Department of Transportation, Federal Aviation Administration, AirmanTesting Standards Branch, 2016.
- [10] Helicopter Flying Handbook, FAA-H-8083-21A. U.S. Department of Transportation, Federal Aviation Administration, AirmanTesting Standards Branch, 2012.
- [11] Manual on Remotely Piloted Aircraft Systems(RPAS), DOC 10019. International Civil Aviation Organization, 2015.
- [12] Airplane Flying Handbook, FAA-H-8083-3A. U.S. Department of Transportation, Federal Aviation Administration, AirmanTesting Standards Branch, 2004.

6.2 我國民用/軍民合用機場 ICAO 航用地名代碼

地理位置	ICAO 航用地名	跑道方位 [㊦]
七美 Qimei	RCCM	02/20
花蓮 Hualien	RCYU	03/21
金門 Kinmen	RCBS	06/24
恒春 Hengchun	RCKW	14/32
馬公 Magong	RCQC	02/20
馬祖/北竿 Matsu/Beigan	RCMT	03/21
馬祖/南竿 Matsu/Nangan	RCFG	03/21
高雄國際 Kaohsiung International	RCKH	09/27
望安 Wang-An	RCWA	02/20
嘉義 Chiayi	RCKU	18/36
綠島 Ludao	RCGI	17/35
臺中/清泉崗 Taichung/Cingcyuangang	RCMQ	18/36
臺北/松山 Taipei/Songshan	RCSS	10/28
臺東/豐年 Taitung/Fongnian	RCFN	04/22
臺南 Tainan	RCNN	18R/36L
臺灣桃園國際 Taipei/Taiwan Taoyuan International	RCTP	05L/23R 05R/23L
蘭嶼 Lanyu	RCLY	13/31

㊦ 跑道方位：機場跑道進場方向的「磁方位角」除以 10 並四捨五入，即得跑道方位編號。一條跑道必定有兩個進場方向，且方位角必定相差 180 度，故另外一邊編號一定相差 18。例如臺北/松山機場自西向東進場的跑道磁方位角為 95 度，因此跑道便命名為 10 跑道，另外一頭跑道就加上 18 為 28 跑道。如果同一個機場有兩條平行跑道，則再以左/右(L/R)區分。

6.3 參考檢查項目

6.3.1 飛航活動前檢查遙控無人機操作區域

- 是否屬於禁航區或限航區？若是，則不得於該區操作。
- 是否鄰近航空站或飛行場？若是，則應注意高度及許可範圍。
- 是否鄰近軍事基地或政府機關？若是，則應注意不得任意拍攝、偵查及干擾。
- 是否鄰近電線、電塔及高壓電纜？若是，則應避免於該處操作，以免發生危險。
- 是否鄰近道路或鐵路？若是，則應留意遙控無人機動向，避免掉落在道路或鐵路上，以免危害用路人及鐵路行駛的安全。
- 是否鄰近住宅、建築物？若是，則應留意高度並嚴禁任意進行干擾、毀損或窺視。
- 是否與人群保持安全距離？應留意遙控無人機動向，避免危害到人群。
- 是否備有可對外通訊的手機？若發生意外時，可向外求援。
- 是否備有簡易的急救設備，或確知最近的醫護站？

6.3.2 飛航活動前檢查遙控無人機設備

- 遙控無人機是否曾受損？
- 電池電力是否充足？
- 是否有備用電池？
- 遙控無人機外觀及連線是否正常？
- 遙控無人機否具備地理圍欄系統(Geofencing)？若具備，則確認該系統之範圍是否與民航法規定之禁航區、限航區及航空站或飛行場四周一定距離相符。
- 操作前確保周圍淨空，確保行人、小孩或動物的安全。

6.4 民用航空法—第 9 章之 2 遙控無人機專章

6.4.1 相關定義 (節錄)

第 2 條 本法用詞定義如下：(僅臚列有關遙控無人機部分)

- 十七、 航空器失事：指自任何人為飛航目的登上航空器時起，至所有人離開該航空器時止，或自遙控無人機為飛航目的啟動推進系統準備移動時起，至飛航結束且推進系統關閉時止，於航空器運作中所發生之事故，直接對他人或航空器上之人，造成死亡或傷害，或使航空器遭受實質上損害或失蹤。
- 十八、 航空器重大意外事件：指自任何人為飛航目的登上航空器時起，至所有人離開該航空器時止，或自遙控無人機為飛航目的啟動推進系統準備移動時起，至飛航結束且推進系統關閉時止，發生於航空器運作中之事故，有造成航空器失事之虞者。
- 十九、 航空器意外事件：指自任何人為飛航目的登上航空器時起，至所有人離開該航空器時止，或自遙控無人機為飛航目的啟動推進系統準備移動時起，至飛航結束且推進系統關閉時止，於航空器運作中所發生除前二款以外之事故。
- 二十六、 遙控無人機：指自遙控設備以信號鏈路進行飛航控制或以自動駕駛操作或其他經民航局公告之無人航空器。

第 44 條 航空器飛航中，不得投擲任何物件、噴灑、拖曳航空器及其他物體或跳傘。但為飛航安全、救助任務或經民航局核准者，不在此限。

6.4.2 第 9 章之 2 遙控無人機專章

- 第 99 條之 9**
- I 於建築物外開放空間從事遙控無人機飛航活動，適用本章規定。
 - II 遙控無人機所有人或操作人應負使用安全、風險管理及法規遵循等責任。
 - III 遙控無人機發生飛航安全相關事件後，其所有人或操作人應通報民航局事件經過。

- 第 99 條之 10**
- I 自然人所有之最大起飛重量二百五十公克以上之遙控無人機及政府機關(構)、學校或法人所有之遙控無人機，應辦理註冊，並將註冊號碼標明於遙控無人機上顯著之處，且一定重量以上遙控無人機飛航應具射頻識別功能。
 - II 下列遙控無人機之操作人應經測驗合格，由民航局發給操作證後，始得操作：
 - 一、政府機關(構)、學校或法人所有之遙控無人機。
 - 二、最大起飛重量達一定重量以上之遙控無人機。
 - 三、其他經民航局公告者。
- 第 99 條之 11**
- I 遙控無人機設計、製造、改裝，應向民航局申請檢驗，檢驗合格者發給遙控無人機檢驗合格證；其自國外進口者，應經民航局檢驗合格或認可。但因形式構造簡單且經民航局核准或公告者，得免經檢驗或認可。
 - II 前項遙控無人機之檢驗基準，由民航局定之。國際間通用技術規範，適於國內採用者，得經民航局核定後採用之。
- 第 99 條之 12** 外國人領有外國政府之遙控無人機註冊、操作及檢驗合格等證明文件者，得向民航局申請認可後，依本章之規定從事飛航活動。
- 第 99 條之 13**
- I 禁航區、限航區及航空站或飛行場四周之一定距離範圍內，禁止從事遙控無人機飛航活動；航空站或飛行場四周之一定距離範圍由民航局公告之。
 - II 前項範圍外距地表高度不逾四百呎之區域，由直轄市、縣(市)政府依公益及安全之需要，公告遙控無人機活動之區域、時間及其他管理事項。但相關中央主管機關認有禁止或限制遙控無人機飛航活動之需要者，得提請所在地之直轄市、縣(市)政府公告之，直轄市、縣(市)政府應配合辦理。
 - III 政府機關(構)、學校或法人執行業務需在第一項範圍之區域從事遙控無人機飛航活動，應申請民航局會商目的事業主管機關同意後，始得為之。
 - IV 政府機關(構)、學校或法人執行業務需在第二項公告之區域、時間及其他管理事項外從事遙控無人機飛航活動，應申請直轄市、縣(市)政府會商相關中央主管機關同意後，始得為之。

- V 未經同意進入第一項禁航區、限航區活動之遙控無人機，由禁航區、限航區之管理人採取適當措施予以制止或排除；必要時，得通知民航局會同警察機關取締。
- VI 未經同意進入第一項航空站或飛行場四周之一定距離範圍內活動之遙控無人機，由航空站、飛行場之經營人、管理人會同航空警察局取締；必要時，並得洽請有關機關協助執行。
- VII 未經同意於第二項公告之區域、時間及其他管理事項外活動之遙控無人機，由直轄市、縣(市)政府取締；必要時，得洽請警察機關協助取締。但未經同意進入政府機關(構)區域之遙控無人機，政府機關(構)可採取適當措施予以制止或排除。

- 第 99 條之 14**
- I 從事遙控無人機飛航活動應遵守下列規定：
 - 一、遙控無人機飛航活動之實際高度不得逾距地面或水面四百呎。
 - 二、不得以遙控無人機投擲或噴灑任何物件。
 - 三、不得裝載依第四十三條第三項公告之危險物品。
 - 四、依第九十九條之十七所定規則之操作限制。
 - 五、不得於人群聚集或室外集會遊行上空活動。
 - 六、不得於日落後至日出前之時間飛航。
 - 七、在目視範圍內操作，不得以除矯正鏡片外之任何工具延伸飛航作業距離。
 - 八、操作人不得在同一時間控制二架以上遙控無人機。
 - 九、操作人應隨時監視遙控無人機之飛航及其周遭狀況。
 - 十、應防止遙控無人機與其他航空器、建築物或障礙物接近或碰撞。
 - II 政府機關(構)、學校或法人經檢具有關文書向民航局申請核准者，得不受前項第一款至第八款規定之限制。
 - III 前項政府機關(構)、學校或法人，從事核准之遙控無人機飛航活動前，應向民航局申請許可；其涉及第一項第五款之限制者，應先取得活動場地之直轄市、縣(市)政府及相關中央主管機關之同意。

- 第 99 條之 15**
- I 操作遙控無人機而致他人死傷，或毀損他人財物時，不論故意或過失，遙控無人機所有人應負賠償責任；其因不可

抗力所生之損害，亦應負責。自遙控無人機上落下或投下物品，致生損害時，亦同。

- II 遙控無人機所有人將其遙控無人機交由他人操作所生之損害，由所有人及操作人負連帶賠償責任。
- III 政府機關(構)、學校或法人於依前條第三項從事活動前，應依第九十三條第一項所定辦法之損害賠償額，投保責任保險。

- 第 99 條之 16**
- I 政府機關為執行災害防救、偵查、調查、矯正業務等法定職務，於第九十九條之十三第一項公告之航空站或飛行場四周之一定距離範圍內或第二項公告之區域、時間及其他管理事項外，從事遙控無人機飛航活動，經民航局同意者，不受該條第三項及第四項規定之限制。
 - II 政府機關為執行災害防救、偵查、調查、矯正業務等法定職務，從事第九十九條之十四第一項第二款至第八款之活動，經民航局同意者，不受該條第三項規定之限制。

- 第 99 條之 17** 遙控無人機之分類、註冊(銷)、射頻識別、檢驗、認可、維修與檢查、試飛、操作人員年齡限制、體格檢查與操作證之發給、飛航活動之申請資格、設備與核准程序、操作限制、活動許可、費用收取、製造者與進口者之登錄及責任、飛航安全相關事件之處理與通報及其他應遵行事項之規則，由交通部定之。

- 第 99 條之 18** 遙控無人機之註冊、檢驗、認可及操作人員測驗等業務，民航局得委託機關(構)、團體或個人辦理之；受委託者之資格、責任、監督及其他相關事項之辦法，由交通部定之。

- 第 99 條之 19** 第九十九條規定，於遙控無人機準用之。

6.4.3 處罰規定

- 第 118 條之 1** 遙控無人機之所有人或操作人有下列情事之一者，由民航局廢止其操作證，並處新臺幣三十萬元以上一百五十萬元以下罰鍰，並得沒入遙控無人機：
- 一、違反第九十九條之十三第一項規定，於禁航區、限航區及航空站或飛行場四周之一定距離範圍內從事飛航活動。
 - 二、違反第九十九條之十四第一項第一款規定，逾距地面或

水面高度四百呎從事飛航活動。

- 第 118 條之 2**
- I 遙控無人機之所有人或操作人有下列情事之一者，禁止其活動，並處新臺幣六萬元以上三十萬元以下罰鍰；情節重大者，並得沒入遙控無人機：
- 一、 違反第九十九條之十第二項規定，未領有操作證而操作遙控無人機。
 - 二、 違反第九十九條之十五第三項規定，未投保或未足額投保責任保險而從事遙控無人機活動。
- II 遙控無人機之所有人或操作人有下列情事之一者，禁止其活動，並處新臺幣三萬元以上十五萬元以下罰鍰；情節重大者，並得沒入遙控無人機：
- 一、 違反第九十九條之十第一項有關遙控無人機註冊或標明註冊號碼之規定。
 - 二、 違反第九十九條之十三第二項有關直轄市、縣(市)政府公告之區域、時間及其他管理事項之規定。
 - 三、 違反第九十九條之十四第一項第二款至第十款有關遙控無人機飛航活動應遵守之規定。
- III 本條規定之處罰，除同時違反第九十九條之十三第一項或第九十九條之十四第一項第一款由民航局處罰外，由直轄市、縣(市)政府處罰之。
- 第 118 條之 3** 違反依第九十九條之十七所定規則有關射頻識別、檢驗、認可、維修與檢查、飛航活動之活動許可及內容、製造者與進口者之登錄及責任、飛航安全相關事件之通報等事項規定者，禁止其活動，並處新臺幣一萬元以上一百五十萬元以下罰鍰；情節重大者，並得沒入遙控無人機。

6.5 遙控無人機管理規則

鑑於臺灣空域狹小，軍、民用航空器活動頻繁，對具動力，供休閒、運動及特殊商業用途之遙控無人機，從事飛航活動時，為維持空域秩序、保障飛航安全及落實對遙控無人機飛航之管理，爰依民用航空法（以下簡稱本法）第九十九條之十七之授權規定，擬具遙控無人機之分類、註冊（銷）、射頻識別、檢驗、認可、維修與檢查、試飛、操作人員年齡限制、體格檢查與操作證之發給、飛航活動之申請資格、設備與核准程序、操作限制、活動許可、費用收取、製造者與進口者之登錄及責任、飛航安全相關事件之處理與通報及其他應遵行事項之「遙控無人機管理規則」，其訂定重點臚列如下：

- 一、訂定第一章「總則」，內容包含本規則之法源依據、用詞定義及遙控無人機分類及基本操作等規定。(第一條至第五條)
- 二、訂定第二章「遙控無人機註冊及射頻管理」，內容包含遙控無人機之註冊、變更及註銷、註冊號碼之標示、效期及最大起飛重量超過一定重量之遙控無人機應具有射頻識別功能等規定。(第六條至第十二條)
- 三、訂定第三章「遙控無人機系統檢驗、製造者與進口者之登錄及責任」，內容包含遙控無人機設計、製造、改裝之檢驗給證、換(補)證、進口認可、試飛及因設計、製造、改裝之缺失致有不安全情況之採取補正措施等事項等規定。(第十三條至第十八條)
- 四、訂定第四章「遙控無人機操作人之測驗及給證」，內容包含遙控無人機操作人之學、術科測驗、操作證之分類、申請年齡、體格檢查、給證、效期及換(補)證等規定。(第十九條至第二十四條)
- 五、訂定第五章「操作限制及活動許可」，分二節規定，第一節「一般操作規定」，內容包含操作遙控無人機之一般遵守事項、依維修指引進行檢查、飛航活動前之應考量事項、遵守操作限制、與其他航空器或障礙物防止接近、碰撞等規定；第二節「政府機關(構)、學校或法人活動許可」，內容包含政府機關(構)、學校或法人從事飛航活動前之先行核准程序與從事本法特別規定之操作限制活動、於禁航區、限航區及航空站或飛行場四周之一定距離範

圍內之飛航活動、政府機關為執行災害防救、偵查、調查、矯正業務等法定職務時飛航活動之申請程序及相關飛航資料、維修紀錄之保存等規定。(第二十五條至第三十五條)

六、訂定第六章「飛航安全相關事件之通報及處理」，內容包含遙控無人機所有人或操作人於發生飛航安全相關事件時之通報、處理及因特定原因得暫停遙控無人機所有人或操作人從事遙控無人機飛航活動等規定。(第三十六條及第三十七條)

七、訂定第七章「附則」，內容包含外國人之認可、本規則各項申請及通報作業得於指定之資訊系統以電子化方式辦理、遙控無人機預先檢驗及人員操作證預先評鑑、行政規費收取及本規則施行日期等規定。(第三十八條至第四十二條)

遙控無人機管理規則

條	文	說	明
第一章 總則			
第一條	本規則依民用航空法(以下簡稱本法)第九十九條之十七規定訂定之。	本規則訂定依據。	
第二條	<p>本規則用詞，定義如下：</p> <p>一、遙控設備：指遙控無人機系統中，用於操作遙控無人機之設備。</p> <p>二、通訊及控制信號鏈路：指遙控無人機及遙控設備間為操作飛行管理目的之資料鏈接。</p> <p>三、最大起飛重量：指含機體、燃料、電池、負載設備及酬載等遙控無人機設計重量。</p> <p>四、遙控無人機操作人(以下簡稱操作人):指於遙控無人機飛航活動期間，實際操控遙控無人機或指揮監督飛航活動之人。</p> <p>五、延伸視距飛航：指操作人於視距外，藉由目視觀察員於其半徑三百公尺範圍內與遙控無人機保持直接目視接觸，並提供遙控無人機操作人必要飛航資訊之操作方式；延伸視距最大範圍為以遙控無人機操作人為半徑九</p>	<p>一、訂定用詞定義，以資明確。</p> <p>二、參酌國際民用航空公約第二號附約及我國電信法規用詞，訂定第一款「遙控設備」及第二款「通訊及控制信號鏈路」之定義。</p> <p>三、第三款訂定最大起飛重量為機體、燃料、電池、負載設備及酬載等遙控無人機設計重量。其中酬載包括貨物、郵件、選擇性裝備等。</p> <p>四、考量本法賦予遙控無人機操作人之相關責任，第四款訂定「遙控無人機操作人」之定義。</p> <p>五、參酌美國聯邦航空法規 107.31 之規定，訂定第五款「延伸視距飛航」之定義。</p> <p>六、參酌美國聯邦航空法規 107.3 之規定，訂定第六款「目視觀察員」之定義。考量目視觀察員係於遙控無人機活動期間提供實際操作人必要飛航資訊，爰規範應持有遙控無人機操作證者始得擔任。</p>	

<p>百公尺、相對地面或水面高度低於四百呎內之區域。</p> <p>六、目視觀察員：指持有遙控無人機操作證(以下簡稱操作證)並於遙控無人機活動期間，提供實際操控遙控無人機之操作人必要飛航資訊之人。</p> <p>七、電子商務：指透過網際網路進行有關商品或服務之廣告、行銷、供應或訂購等各項商業交易活動。</p>	<p>七、配合第十七條新增遙控無人機製造者或進口者利用「電子商務服務系統」販售遙控無人機之管理機制及參考金融監督管理委員會指定非公務機關個人資料檔案安全維護辦法第十條第二項有關「電子商務」之用詞，增列第七款「電子商務」之定義，以資明確。</p>
<p>第三條 遙控無人機依其構造分類如下：</p> <p>一、無人飛機。</p> <p>二、無人直昇機。</p> <p>三、無人多旋翼機。</p> <p>四、其他經交通部民用航空局以下簡稱民航局公告者。</p>	<p>訂定遙控無人機依其構造分類為無人飛機、無人直昇機、無人多旋翼機(三個以上之垂直傳動軸)、其他經公告者等四類，以資區別。</p>
<p>第四條 遙控無人機所有人(以下簡稱所有人)及操作人應負飛航安全之責，對遙控無人機為妥善之維護，並從事安全飛航作業。</p>	<p>參酌民用航空法(以下簡稱本法)第九十九條之九第二項有關遙控無人機所有人或操作人在操作遙控無人機時，應負使用安全、風險管理及法規遵循等責任之規定，訂定遙控無人機所有人及操作人應負飛航安全之責，對遙控無人機為妥善之維護，並從事安全飛航作業。</p>
<p>第五條 遙控無人機於飛航活動期間，操作人有二人以上者，</p>	<p>參酌飛航規則第七條及美國聯邦航空法規 107.19 之規定，訂定操作</p>

<p>應於飛航活動前指定一人為決定權人，未指定前不得從事飛航活動。</p>	<p>人有二人以上者，應於飛航活動前指定一人為最後決定權人，未指定前，不得從事飛航活動，以明確多數操作人於遙控無人機飛航活動期間之處置決定權歸屬。</p>
<p>第二章 遙控無人機註冊及射頻管理</p>	
<p>第六條 自然人所有之最大起飛重量二百五十公克以上之遙控無人機及政府機關(構)、學校或法人所有之遙控無人機，應由其所有人檢附下列文件向民航局申請註冊，並於註冊完成後，將民航局賦予之註冊號碼標明於遙控無人機上顯著之處後，始得操作：</p> <p>一、自然人：檢附申請書（附件一）及國民身分證或僑民居留證明影本。</p> <p>二、政府機關(構)、學校及法人：檢附申請書（附件一）及其登記證明文件。</p> <p>前項所有人屬自然人者，應年滿十六歲；未滿二十歲者，應另檢附其法定代理人之同意書。</p> <p>下列資料有變更者，所有人應檢附第一項申請書及登記證明文件，向民航局申請變更註冊：</p> <p>一、所有人名稱。</p> <p>二、戶籍或登記地址。</p>	<p>一、第一項訂定自然人所有最大起飛重量二百五十公克以上之遙控無人機，及政府機關(構)、學校或法人所有之遙控無人機，應由其所有人填具申請書並檢附相關證明文件申請註冊並將民航局賦予之註冊號碼標明於遙控無人機上顯著之處後，始得操作之規定。</p> <p>二、第二項配合學習操作證申請人之年滿十六歲年齡規定，訂定遙控無人機之所有人屬自然人者，應年滿十六歲，並考量民法對於未滿二十歲未成年人之保護，應另檢附其法定代理人之同意書，始得辦理註冊。</p> <p>三、第三項訂定遙控無人機所有人之名稱、戶籍、登記地址及聯絡電話異動時，應申請變更註冊之規定。</p>

<p>三、聯絡電話。</p>	
<p>第七條 遙控無人機有下列情形之一者，其所有人應於事實發生日起十五日內，向民航局申請註銷註冊：</p> <p>一、滅失。</p> <p>二、損壞致不能修復。</p> <p>三、報廢。</p> <p>四、永久停用。</p> <p>五、所有權移轉。</p>	<p>訂定遙控無人機之所有人於遭遇遙控無人機滅失、損壞致不能修復、報廢、永久停用或所有權移轉等情況時，應申請註銷註冊之規定。</p>
<p>第八條 註冊號碼應依下列方式標明於遙控無人機上顯著之處：</p> <p>一、以標籤、鐫刻、噴漆或其他能辨識之方式標明，且應確保每次飛航活動時不至脫落並保持清潔、明顯使能辨識。</p> <p>二、標漆位置應為遙控無人機之固定結構外部。</p> <p>三、其顏色應使註冊號碼與背景明顯反襯，且以肉眼即能檢視。</p>	<p>參酌航空器登記規則第二十二條及美國聯邦航空法規 48.205 之規定，明定遙控無人機之註冊號碼標明方式，以資明確識別，並利於飛航活動期間進行安全管理及飛航安全事件之調查。</p>
<p>第九條 註冊號碼不得偽造、變造或矇領，並不得借供他人於未註冊之遙控無人機上使用。</p>	<p>參酌美國聯邦航空法規 107.5 之規定，訂定遙控無人機之註冊號碼不得偽造、變造或矇領，並不得借供他人於未註冊之遙控無人機上使用。</p>
<p>第十條 註冊號碼之有效期限為二年，所有人得於期限屆滿前</p>	<p>有鑒於遙控無人機多屬消耗性商品，為能實際掌握遙控無人機之</p>

<p>三十日內，檢附第六條第一項規定之文件，向民航局申請延展有效期限。</p>	<p>註冊使用情況，參酌歐洲聯盟之研究報告，訂定註冊號碼之有效期限為二年，並配合實務作業所需，明定所有人得於期限屆滿前三十日內，檢附文件申請延展效期。</p>
<p>第十一條 最大起飛重量超過一定重量之遙控無人機應具有射頻識別功能，其一定重量，由民航局公告之。</p>	<p>一、鑒於遙控無人機相關科技日新月異及交通管理(UTM, UAS Traffic Management)之需求，訂定最大起飛重量超過一定重量之遙控無人機應具有射頻識別功能。</p> <p>二、考量目前遙控無人機之射頻識別功能尚在進行研究開發中，尚無統一之標準，且除射頻識別裝置本身之技術外，尚需配合地面接收站之建置，將俟相關之重量、射頻識別技術標準等事宜確定後，再予以公告實施。</p>
<p>第十二條 最大起飛重量一公斤以上且裝置導航設備之遙控無人機，應具備防止遙控無人機進入禁航區、限航區及航空站或飛行場四周之一定距離範圍之圖資軟體系統，其圖資應符合本法第四條劃定及第九十九條之十三第一項公告之範圍。</p> <p>中華民國一百十五年申請註冊且裝置導航設備之遙控無人機，應具備防止遙控無人</p>	<p>一、為防止及提醒遙控無人機所有人或操作人於未經相關機關核准下，侵入本法第九十九條之十三第一項規定之禁航區、限航區、航空站或飛行場四周之一定距離範圍及第二項規定區域內，並考量目前地理圍欄系統技術之成熟度與普及度並經詢國內製造廠及進口商之現行作法，第一項訂定最大起飛重量一</p>

<p>機進入禁航區、限航區、航空站或飛行場四周之一定距離範圍及直轄市、縣(市)政府公告禁止、限制區域之圖資軟體系統，其圖資應符合本法第四條劃定及第九十九條之十三第一項及第二項公告之範圍及區域。</p> <p>遙控無人機之設計、製造、改裝者應保持前二項圖資軟體系統資訊之正確性，並適時提供所有人或操作人更新。</p>	<p>公斤以上且裝置導航設備之遙控無人機系統，應具備圖資軟體系統，防止未經申請核准進入本法第九十九條之十三第一項公告之禁航區、限航區及航空站或飛行場四周之一定距離範圍之功能於其控制系統或地面導控站內。</p> <p>二、第二項訂定中華民國一百一十五年起，應辦理註冊且裝置導航設備之遙控無人機系統，應具備圖資軟體系統，防止未經申請核准進入第九十九條之十三第一項及第二項規定區域之功能於其控制系統內。</p> <p>三、考量禁止、限制範圍可能因公共利益或其他因素有所變更，於第三項訂定遙控無人機之設計、製造、改裝者應確保該系統地理資訊之正確性，並適時提供所有人或操作人更新。</p>
---	---

第三章 遙控無人機系統檢驗、製造者與進口者之登錄及責任

<p>第十三條 遙控無人機之設計、製造、改裝，應由設計者、製造者或改裝者檢附申請書（附件二），向民航局申請型式檢驗，經型式檢驗合格者，發給</p>	<p>一、第一項訂定遙控無人機之設計、製造、改裝，應由其設計、製造或改裝者申請型式檢驗。其檢驗內容包含遙控無人機基本性能規範、設計</p>
---	---

<p>型式檢驗合格證(附件三),並發給型式檢驗標籤(附件四)。</p> <p>自國外進口之遙控無人機,應由進口者依第一項規定,向民航局申請型式檢驗,或檢附申請書(附件五),向民航局申請認可。經認可者,發給認可證明文件及認可標籤(附件四)。</p> <p>前二項之遙控無人機,其形式構造簡單經民航局公告者,得免辦理檢驗或認可。</p>	<p>圖及相關技術文件等文件審查,並視個案要求受檢者提供遙控無人機及其系統,供執行全部或部分之檢驗或測試。遙控無人機之設計、製造或改裝經檢驗合格者,依型號發給型式檢驗合格證,並同時發給型式檢驗標籤。本項型式檢驗標籤可用於同廠牌、同型號之遙控無人機。</p> <p>二、為管理自國外進口之遙控無人機,第二項訂定自國外進口之遙控無人機應由進口者依第一項規定申請檢驗,如遙控無人機進口者已取得國外主管機關所發給之檢驗合格證明者,得檢附申請書及相關證明文件申請認可,經認可後,發給認可證明文件及認可標籤。本項認可標籤可用於同廠牌、同型號之遙控無人機。</p> <p>三、第三項訂定但書規定其形式構造簡單經公告之遙控無人機,可免辦理檢驗或認可。</p>
<p>第十四條 遙控無人機於設計、製造、改裝階段為檢驗性能諸元所需之試飛,應遵守附件六之試飛活動管理規定,並檢附下列文件,向民航局申請核</p>	<p>考量遙控無人機於設計、製造、改裝階段,有為驗證性能諸元而執行試飛之需求,爰明定在該等階段之遙控無人機於取得核准後之試飛申請程序,以資明確。</p>

<p>准：</p> <ol style="list-style-type: none"> 一、試飛場地之規劃、協調及申請。 二、試飛區域之申請、安全及管理。 三、遙控無人機及其相關設備檢驗基準符合性聲明。 四、遙控無人機地面檢驗及測試資料。 五、試飛計畫。 六、試飛操作人之資格。 七、飛航安全相關事件之通報及處理。 	
<p>第十五條 最大起飛重量二十五公斤以上之遙控無人機，為確保遙控無人機符合設計、製造、改裝之性能諸元，應由其所有人檢附申請書(附件二)，向民航局申請實體檢驗，經檢驗合格者，發給實體檢驗合格證(附件七)。</p> <p>最大起飛重量二十五公斤以上之遙控無人機，為自行製造、使用者，其所有人應檢附前項申請書，向民航局合併申請型式檢驗及實體檢驗。經檢驗合格後，發給特種實體檢驗合格證(附件八)。</p> <p>實體檢驗合格證之有效期限為三年；特種實體檢驗合格</p>	<ol style="list-style-type: none"> 一、為確保遙控無人機符合設計、製造、改裝之性能諸元，第一項訂定最大起飛重量逾二十五公斤之遙控無人機，其所有人應申請實體檢驗，並確認符合原始設計規範後，發給實體檢驗合格證。 二、考量個人自製及使用之遙控無人機亦為風潮，且非屬大量製造之商品，為簡化其檢驗程序，第二項訂定最大起飛重量二十五公斤以上之遙控無人機，如為自行製造、使用者，得合併型式檢驗及首次實體檢驗，經檢驗合格後發給特種實體檢驗合格

<p>證之有效期限，由民航局依其設計、製造、改裝之性能諸元，註記於合格證上，最長不得逾三年。</p> <p>實體檢驗合格證及特種實體檢驗合格證應於屆期前三十日內，由其所有人檢附原檢驗合格證影本，向民航局申請重新檢驗。</p>	<p>證，始得從事飛航活動。</p> <p>三、為定期確保遙控無人機符合設計、製造、改裝之性能諸元，第三項訂定實體檢驗合格證之有效期限為三年；特種實體檢驗合格證之遙控無人機因其設計及製造之性能及操作不同於一般之遙控無人機，故經審查後給與不等之有效期限，並註記於檢驗合格證中，其效期最長不得逾三年。</p> <p>四、第四項訂定實體檢驗合格證及特種實體檢驗合格證應於屆期前三十日內檢附原檢驗合格證影本申請重新檢驗。</p>
<p>第十六條 實體檢驗合格證或特種實體檢驗合格證之記載事項變更時，應由其所有人於事實發生之日起十五日內，檢附原檢驗合格證，向民航局申請審查合格後換發。</p> <p>遙控無人機各項檢驗合格證遺失或損毀時，應由其所有人敘明理由，向民航局申請補發或換發。</p>	<p>一、第一項訂定實體檢驗合格證、特種實體檢驗合格證之記載事項變更時，應由遙控無人機所有人檢附原檢驗合格證申請換發。</p> <p>二、第二項訂定遙控無人機各項檢驗合格證遺失或損毀時，應申請補(換)發。</p>
<p>第十七條 遙控無人機製造者或進口者於販售或進口前，應向民航局申請辦理產品資訊登錄，並於產品或包裝上標示最大起飛重量、註冊程序、型式</p>	<p>一、為加強遙控無人機製造者或進口者之登錄及責任，於第一項訂定其等於販售或進口前，應申請辦理產品資訊登錄作業，並於其產品上揭示</p>

檢驗標籤或認可標籤、實體檢驗說明、操作限制說明、管理及違規裁罰等資訊。

遙控無人機製造者或進口者利用電子商務服務系統販售遙控無人機時，應於電子商務服務系統明顯處以中文將下列文字合併標示。其透過代理商、經銷商或其他第三人販售遙控無人機者，亦同。

- 一、最大起飛重量二百五十公克以上遙控無人機應辦理註冊。
- 二、遙控無人機活動前應注意活動區域與遵守操作規定。
- 三、相關活動區域及操作規定資訊，請見民航局網站及遙控無人機圖資行動應用程式。

自行製造、使用之遙控無人機，其所有人應依第一項規定辦理產品資訊登錄。

最大起飛重量、註冊程序、型式檢驗標籤或認可標籤、實體檢驗說明、操作限制說明，以及違規罰款等資訊，以使購買者知悉該遙控無人機相關資訊與管理及違規裁罰之規定，以達教育宣導及維護飛航、生命及財產安全之目的。

- 二、第二項訂定自行製造、使用之遙控無人機，亦明定其所有人應辦理產品資訊登錄，俾管理一致。
- 三、考量電子商務服務系統之購物管道日漸普及，為使民眾能於購買前充分瞭解遙控無人機相關資訊並落實產品資訊登錄及標示機制，以利其消費選擇，爰參考金融監督管理委員會指定非公務機關個人資料檔案安全維護辦法第十條第一項「電子商務服務系統」之用詞及販賣菸品場所標示及展示管理辦法第三條第一項有關合併標示警示文字之體例，新增第二項有關遙控無人機製造者或進口者自行或透過代理商、經銷商或其他第三人等於電子商務服務系統販售遙控無人機時，應將註冊、操作注意

	<p>事項及操作注意事項之參考網站及遙控無人機圖資行動應用程式人機圖資行動應用程式等資訊合併標示於式等資訊合併標示於電電子商務服務系統明子商務服務系統明顯處。</p>
<p>第十八條 最大起飛重量二十五公斤以上遙控無人機系統因設計、製造或改裝之缺失致有不安全之情況時，設計者、製造者或改裝者應針對該缺失採取補正措施。</p> <p>設計者、製造者或改裝者應於發現缺失之日起三十日內，以書面向民航局提出報告。但有正當理由，並申請民航局核准延展者，不在此限。</p>	<p>一、考量最大起飛重量二十五公斤以上之遙控無人機多為執行較複雜之專業作業，爰參酌美國聯邦航空法規 107.21 之規定，於第一項訂定該等遙控無人機如有設計、製造或改裝上之缺陷導致有不安全之情況時，應由其設計者、製造者或改裝者提出改善及補正措施，包含發布警示相關資訊、強制召回遙控無人機完成補正措施之技術修改等。</p> <p>二、第二項訂定設計者製造者或改裝者應於發現缺失之日起三十日內提出書面報告，說明所發現之缺陷狀況及已採取之補正措施；另但書規定有正當理由，經申請核准延展者，得不受三十日之限制。</p>
<p>第四章 遙控無人機操作人之測驗及給證</p>	
<p>第十九條 下列遙控無人機之操作人應持有民航局發給操作證</p>	<p>為確保遙控無人機操作人之學識及技能，訂定操作政府機關</p>

<p>後，始得操作：</p> <ol style="list-style-type: none"> 一、政府機關(構)、學校或法人所有之遙控無人機。 二、自然人所有之最大起飛重量二公斤以上未達十五公斤且裝置導航設備之遙控無人機。 三、自然人所有之最大起飛重量十五公斤以上之遙控無人機。 	<p>(構)、學校或法人所有、自然人所有之最大起飛重量二公斤以上未達十五公斤且裝置導航設備之遙控無人機及自然人所有之最大起飛重量十五公斤以上之遙控無人機，其操作人應取得操作證後，始可操作遙控無人機。</p>
<p>第二十條 遙控無人機操作證分類、申請者年齡及其他規定如下：</p> <ol style="list-style-type: none"> 一、學習操作證：申請者應年滿十六歲，經申請後，由民航局發給。 二、普通操作證：申請者應年滿十八歲，經學科測驗合格後，由民航局發給。 三、專業操作證：申請者應年滿十八歲並符合相關經歷規定後，經體格檢查及學、術科測驗合格後，由民航局發給。 <p>前項各類操作證之操作權限如下：</p> <ol style="list-style-type: none"> 一、學習操作證：持有人得於持有遙控無人機普通操作證或專業操作證之操作人在旁指導下，依其普通操 	<ol style="list-style-type: none"> 一、為保障飛航安全，並滿足各類遙控無人機操作之需求，第一項訂定遙控無人機操作證之類別，區分為學習操作證、普通操作證及專業操作證等三類。 二、第二項明定各類操作證之操作權限。學習操作證係供年滿十六歲有意學習操作遙控無人機之自然人申請，並得於已持有相應之普通操作證或專業操作證者之指導下，從事各種學習訓練活動，俾利年滿十八歲後申請學、術科測驗，以取得相應之操作證；普通操作證可操作自然人所持有最大起飛重量二公斤以上、未逾十五公斤且裝置導航設備之遙控無人機，並僅得在遵守相關規定下從

<p>作證或專業操作證所載之構造分類，學習操作最大起飛重量未達二十五公斤之遙控無人機。</p> <p>二、普通操作證：持有人得操作自然人所有最大起飛重量二公斤以上、未達十五公斤且裝置導航設備之遙控無人機。</p> <p>三、專業操作證：持有人得操作政府機關（構）、學校或法人所有之遙控無人機及自然人所有最大起飛重量十五公斤以上之遙控無人機。</p> <p>第一項各類操作證之申請資格、測驗項目、測驗報名規定、體格檢查證明文件、操作權限及教學資格如附件九；學、術科測驗申請書、操作證申請書如附件十及附件十一。</p> <p>遙控無人機之構造、重量、操作限制及教學資格應於操作證上加註之。</p>	<p>事一般之飛航活動；至於專業操作證可操作由政府機關（構）、學校或法人所有之遙控無人機，或自然人所有之最大起飛重量十五公斤以上之遙控無人機；於操作政府機關(構)、學校或法人所有之遙控無人機時，得經申請後從事各類飛航活動，並於申請許可後依其核准，不受本法第九十九條之十四第一項第一款至第八款之限制。</p> <p>三、第三項訂定各類操作證之申請資格、學、術測驗項目、申請文件、體格檢查證明文件、操作權限及教學資格等事項，並於附件九至附件十一內規範。</p> <p>四、為使操作人瞭解持證之相關限制，第四項訂定於普通操作證及專業操作證內註明操作人可操作經測驗合格之遙控無人機構造、重量，相關操作限制及教學資格。</p>
<p>第二十一條 術科測驗時，應由應考人自備符合附件十二規定之遙控無人機應考。</p>	<p>訂定考驗術科時，應考人應自備報考類別之遙控無人機，規格應符合附件十二之規定。</p>
<p>第二十二條 申請遙控無人機專業操作證者，其術科測驗應於學科測驗通過日起一年內完</p>	<p>一、為確保申請人之知能得符合安全操作之需求，第一項訂定申請遙控無人機專業操作</p>

<p>成；未完成者應重新申請學科測驗。</p> <p>遙控無人機操作證申請者之術科測驗成績不及格者，就其不及格部分得於收到成績通知三十日後申請複測。</p> <p>遙控無人機操作證申請者應於測驗合格完成日起三十日內，檢附學、術科測驗合格文件向民航局申請發證。但有正當理由，並申請民航局核准延展者，不在此限。</p>	<p>證者，除應通過學科測驗外，應於學科通過日起一年內完成術科測驗。另規定未於一年內完成術科測驗者，應重新申請學科測驗，以加強人員知能之管理。</p> <p>二、第二項訂定申請者之術科測驗成績有不及格之情形時，就其不及格部分，得於接獲成績通知三十日後申請複測。</p> <p>三、第三項訂定測驗合格者應於合格之日起三十日內，檢附學科（申請普通操作證者）、或學、術科（申請專業操作證者）測驗合格證明文件，申請發證。另考量申請者人因故無法依本項前段規定申請核發操作證者，於但書規定有正當理經申請核准延展，得不受申請給證期限之限制。</p>
<p>第二十三條 操作證之有效期限為二年。</p> <p>普通操作證及專業操作證之持有人得於屆期前三十日內檢附二年內之半身照片及有效操作證影本，向民航局申請換證。但各類專業操作證應經重新體格檢查及測驗合格後辦理</p>	<p>一、第一項訂定遙控無人機操作證之有效期限為二年，以加強管理。</p> <p>二、第二項訂定普通操作證及專業操作證之持有人屆期換證規定。</p> <p>三、第三項訂定專業操作證之持有人如需增加不同構造、重</p>

<p>換證。</p> <p>專業操作證之持有人增加不同構造、重量、高級術科測驗項目者，應經民航局術科測驗合格後辦理加簽。</p>	<p>量或高級術科項目者，應經術科測驗合格後，始得於其專業操作證上加簽合格項目。</p>
<p>第二十四條 遙控無人機操作證之記載事項變更時，應由其持有人於事實發生之日起十五日內，檢附原操作證，向民航局申請換發。</p> <p>遙控無人機操作證遺失或損毀時，應由其持有人敘明理由，向民航局申請補發或換發。</p>	<p>訂定遙控無人機操作證之持有人於記載事項變更、遺失或、毀損時，應申請補(換)發之規定。</p>
<p>第五章 操作限制及活動許可</p>	
<p>第一節 一般操作規定</p>	<p>訂定本節節名</p>
<p>第二十五條 操作人從事遙控無人機飛航活動前，應依遙控無人機製造者所提供之維修指引對遙控無人機系統進行檢查，符合安全飛航條件後始得活動。</p>	<p>參酌美國聯邦航空法規107.15之規定，訂定遙控無人機之操作人於從事飛航活動前，應依據遙控無人機製造者所提供之維修指引對遙控無人機系統進行檢查，確認其狀況符合安全飛航條件後始得飛航。本條所稱之安全飛航條件包含：目視檢查遙控無人機外觀完整、機構及動力系統穩固、註冊號碼依本法規定標示可辨、操作人應持有合格操作證、遙控設備與無人機間之通訊及控制信號鏈路運作正常、燃油或電力之供應符合飛航之需求等。</p>

<p>第二十六條 操作人從事遙控無人機飛航活動前，應考量下列情形：</p> <p>一、操作區域環境，包括氣象條件、空域、飛航限制及其他空中或地面之危害因素。</p> <p>二、遙控無人機一般操作、緊急程序及規定。</p> <p>三、遙控設備與遙控無人機間之通訊及控制信號鏈路情況良好。</p> <p>四、攜帶足夠之燃油或電池容量，並經考慮氣象預報狀況、預期之延誤及其他可能延誤遙控無人機降落之情形。</p>	<p>參酌美國聯邦航空法規107.49之規定，訂定遙控無人機之操作人於從事飛航活動前，應將操作區域環境、一般及異常、緊急操作程序、遙控設備與遙控無人機間之通訊及控制信號鏈路情況及燃油或電池容量需符合預執行之飛航任務需求等事項進行審慎評估，以符本法第九十九條之九第二項所稱應負使用安全、風險管理及法規遵循之責。</p>
<p>第二十七條 操作人操作遙控無人機應遵守下列事項：</p> <p>一、血液中酒精濃度不得超過百分之零點零二或吐氣中酒精濃度不得超過每公升零點一毫克。</p> <p>二、不得受精神作用物質影響，導致行為能力受到損傷。</p> <p>三、不得有危害任何生命及財產之操作行為。</p>	<p>參酌美國聯邦航空法規91.17、91.19、107.23、107.27之規定，訂定遙控無人機操作人於操作遙控無人機時，應遵循事項。其中，有關「酒精濃度」之規範，係依據超輕型載具管理辦法第二十七條之標準，且較道路交通安全規則嚴格。至於所稱「精神作用物質」，依據飛航規則第二條第六十款之定義，包含酒類、鴉片類、大麻、鎮靜劑及安眠藥、古柯鹼、其他精神刺激藥物、迷幻藥及興奮劑等，但咖啡及菸草</p>

	除外。
<p>第二十八條 操作人從事遙控無人機飛航活動時應遵守下列操作限制：</p> <p>一、應遠離高速公路、快速公路（道）路、鐵路、高架鐵路、地面或高架之大眾捷運系統、建築物及障礙物三十公尺以上。</p> <p>二、不得於移動中之航空器、車輛或船艦上操作遙控無人機。</p> <p>三、最大起飛重量未達二十五公斤且裝置導航設備之遙控無人機最大飛行速度每小時不得超過八十七海里或一百六十公里。</p> <p>四、延伸視距飛航者，最大範圍為以操作人為中心半徑九百公尺、相對地面或水面高度低於四百呎內之區域，且目視觀察員應與遙控無人機保持目視接觸，並提供操作人必要之飛航資訊。</p> <p>政府機關(構)、學校或法人依第三十二條第一項規定向民航局申請許可後，不受前項之限制。</p>	<p>一、第一項訂定說明如下：</p> <p>(一)第一款參酌日本國土交通省對遙控無人機活動之規定，訂定操作人從事遙控無人機飛航活動時，除遵守本法第九十九條之十三有關禁航區、限航區及航空站或飛行場四周之一定距離之活動限制，以及九十九條之十四所述之活動規定外，並應與高速公路、快速道路、鐵道、建築物等保持至少三十公尺以上之距離，以確保安全。</p> <p>(二)第二款參酌美國聯邦航空法規 107.51 規定，訂定操作人不得於移動中之航空器、車輛或船艦上操作遙控無人機。</p> <p>(三)第三款參酌美國聯邦航空法規 107.51 規定，訂定最大起飛重量未達二十五公斤且裝置導航設備之遙控無人機最大飛行速度之規定。</p> <p>(四)第四款參酌美國聯邦航空法規 107.31 及 107.33 之規定，訂定從事延伸視距飛航者，其最大飛行範圍，應以操作人為中心，半徑九百公尺距離內、相對地面或水面高度低於四百呎內之區域。且經指</p>

	<p>派之日視觀察員應與遙控無人機保持目視接觸，並建立通訊鏈路，提供操作人必要之飛航資訊，以維飛航安全。</p> <p>二、為避免限縮產業發展、學術研究等，第二項訂定政府機關(構)、學校或法人如依第三十二條第一項規定經申請許可後，得不受第一項規定之限制。</p>
<p>第二十九條 操作人在操作時應對遙控無人機之飛航及其周遭狀況保持警覺，並確保察覺及避讓其他航空器、超輕型載具、遙控無人機或障礙物，並防止與其接近或碰撞。</p>	<p>參酌美國聯邦航空法規107.37有關飛航避讓之規定，訂定遙控無人機之操作人在飛航活動期間應保持警覺，注意避讓航空器、超輕型載具、遙控無人機或障礙物等，並依本法第九十九條之十四第一項第九款及第十款之規定，防止與其接近或碰撞。</p>
<p>第二節 政府機關(構)、學校或法人活動許可</p>	<p>訂定本節節名</p>
<p>第三十條 政府機關(構)、學校或法人應檢附下列文件向民航局申請核准後，始得從事遙控無人機飛航活動：</p> <p>一、登記證明文件。</p> <p>二、遙控無人機系統清單、操作人員名冊。</p> <p>三、作業手冊，內容如附件十三。政府機關(構)、學校或</p>	<p>一、第一項訂定政府機關(構)、學校或法人從事遙控無人機飛航活動前，應檢附相關文件申請核准後，始得從事飛航活動。其中第三款作業手冊之內容應包含該遙控無人機規格、安全管理、操作程序、維修與保養，以及緊急處理程序等。如執行業務需</p>

<p>法人為執行業務需要，從事本法第九十九條之十四第一項第一款至第八款之操作者，應於作業手冊中敘明操作限制排除事項之相關設備及程序。</p> <p>前項核准之有效期限為二年，政府機關(構)、學校或法人得於屆期前三十日內，向民航局申請延展。</p> <p>第一項第一款及第三款資料如有變更，政府機關(構)、學校或法人應於事實發生日起十五日內申請民航局核准後，始得從事遙控無人機飛航活動。</p> <p>政府機關(構)、學校或法人應隨時更新第一項第二款資料。</p>	<p>要，需排除本法第九十九條之十四第一項第一款至第八款之操作限制者，應於作業手冊中敘明經核准得予排除操作限制事項之相關設備及程序。</p> <p>二、第二項訂定政府機關(構)、學校或法人活動申請核准之效期為二年，並得於屆期前三十日內申請延展。</p> <p>三、第三項訂定政府機關(構)、學校或法人之登記證明文件及作業手冊如有變更時，應於事實發生日起十五日內申請核准後，始得從事遙控無人機飛航活動。</p> <p>四、為維持申請資料之正確性，第四項訂定政府機關(構)、學校或法人應隨時更新遙控無人機清單、操作人員名冊等資料之最新及完整性。</p>
<p>第三十一條 政府機關(構)、學校或法人於禁航區、限航區及航空站或飛行場四周之一定距離範圍內從事遙控無人機飛航活動，應於活動日十五日前檢附活動計畫書(附件十四)提出申請，報請民航局會商目的事業主管機關同意。但禁航區、限航區、航空站或飛行場如有涉及軍事航空管理機關(構)管理之</p>	<p>一、第一項訂定政府機關(構)、學校或法人為執行業務於禁航區、限航區及航空站或飛行場四周之一定距離範圍內從事遙控無人機飛航活動之申請同意程序；如禁航區、限航區或機場如有涉及軍事航空管理機關(構)管理之區域，考量該等區域涉及國家安全及軍事國防設施，為利相關管理機關有充分</p>

<p>區域，應於活動日三十日前提出申請。</p> <p>政府機關(構)、學校或法人於直轄市、縣(市)政府公告之禁止、限制區域內從事遙控無人機飛航活動，應於活動日十五日前檢附活動計畫書(附件十四)提出申請，報請直轄市、縣(市)政府會商相關中央主管機關同意。如有跨縣市活動時，應向起飛地點所在直轄市、縣(市)政府提出申請，經所在地及跨縣市政府同意。</p> <p>前二項活動經民航活動經民航局或直轄市、縣(市)政府同意後，應於每次活動前、後於指定時間內至民航局指定資訊系統登錄飛航資訊。</p> <p>第一項及第二項之同意文件期限，以三個月為限。但經農政機關登記合格之法人於從事本法第九十九條之十四第一項第二款、第三款及第六款飛航活動時，以六個月為限；政府機關為執行業務者，以一年為限。</p> <p>於本法第九十九條之十三第二項規定之區域從事遙控無人機飛航活動時，其活動申請，直轄市、縣(市)政府另有規定者，不受第二項規定之限</p>	<p>時間審慎評估，爰但書規定應於活動日三十日前提出申請。</p> <p>二、第二項訂定政府機關(構)、學校或法人於直轄市、縣(市)政府公告之禁止、限制區域內從事遙控無人機飛航活動之申請同意程序。如該活動區域涵蓋不同縣市時，應向起飛地點所在地政府提出申請，由所在地政府會請跨縣市政府同意。本項所稱之相關中央主管機關係指依本法第九十九條之十三第二項規定提請直轄市、縣(市)政府公告區域範圍之中央機關。</p> <p>三、為能及時得知遙控無人機活動情形，於第三項訂定政府機關(構)、學校或法人應於每次活動前、後於指定時間內至指定之資訊系統進行飛航資訊登錄(如高度、經緯度等)。</p> <p>四、第四項訂定第一項及第二項之同意文件期限，以三個月為限。但政府機關為執行業務者，得延長至一年。</p> <p>五、第五項訂定直轄市、縣(市)政府依本法第九十九條之十三第二項公告之管理事項，如另行訂定申請期限、其他限制或同意程序等，得不受第二項規定之限制。</p>
--	--

<p>制。</p>	<p>六、考量遙控無人機於農業用途使用之特性，其作業時間易連續超過三個月而有別於其他遙控無人機之飛航活動，另配合行政院農業委員會利用衛星定位導航科技建置智慧農業耕作環境之規劃，爰於第四項但書增列經農政機關登記合格之法人，其從事本法第九十九條之十四第一項第二款以遙控無人機投擲或噴灑、第三款裝載危險物品及第六款日落後至日出前之活動時，其活動申請許可期間以六個月為限之規定，以便利農民使用遙控無人機執行施肥、施藥、播種、投放生物防治材料、投餌等用途；另將政府機關為執行業務之申請許可期限延長一年之機制修正為其申請期限以一年為限，以資遵循。</p>
<p>第三十二條 政府機關(構)、學校或法人從事本法第九十九條之十四第一項第一款至第八款規定之操作限制活動時，應於活動日十五日前檢附活動計畫書(附件十四)向民航局申請許可；於人群聚集或室外集會遊行上空活動，應檢附直轄市、縣(市)政府及相關中央主管機關同意文件。</p>	<p>一、第一項訂定政府機關(構)、學校或法人從事本法第九十九條之十四第一項第一款至第八款規定之操作限制活動時之申請許可程序；另於人群聚集或室外集會遊行上空活動，應檢附直轄市、縣(市)政府同意文件。 二、第二項訂定經許可後，應於每次活動前、後於指定之資訊</p>

<p>前項活動應於每次活動前、後於指定時間內至民航局指定資訊系統登錄飛航資訊。</p> <p>第一項申請之許可期限，以三個月為限。但經農政機關登記合格之法人於從事本法第九十九條之十四第一項第二款、第三款及第六款飛航活動時，以六個月為限；政府機關為執行業務者，以一年為限。</p>	<p>系統所規定之指定時間內進行飛航資訊登錄(如高度、經緯度等)。</p> <p>三、第三項訂定第一項申請之許可期限，以三個月為限。但政府機關為執行業務者，得延長至一年。</p>
<p>第三十二條之一 相關中央主管機關依第三十一條第二項或前條第一項規定之同意，得委託政府機關 構或團體為之。相關中央主管機關依前項規定為委託時，應將委託之對象、事項及法規依據公告之，並刊登於政府公報。</p>	<p>一、本條新增。</p> <p>二、考量各中央主管機關轄於直轄市、縣市政府區域內有劃設遙控無人機禁止或限制區域之需求，為便利後續飛航活動同意作業之申辦，爰參考行政程序法第十五條、第十六條之規定及本法第九十九條之十八之體例，新增得由中央主管機關委託政府機關構或團體，如財政部委託財政部印刷廠或鐵道局委託台灣高鐵公司等，辦理遙控無人機飛航活動同意作業並刊登於政府公報。</p>
<p>第三十三條 災害應變時，於各級政府依災害防救法規定劃定之警戒區域或指定區域內，從事遙控無人機飛航活動應聽從各級政府災害應變中心指揮官統一指揮調度，並由各級政府</p>	<p>一、第一項訂定發生災害防救法第二條定義之災害時，遙控無人機所有人及操作人欲從事勘查、搜救、災情資料收集、新聞報導等事項時，應遵守災害防救法之規定，統一聽從中央</p>

<p>災害應變中心向民航局申請同意。</p> <p>災害之預防、復原重建或災害以外之緊急情況發生時，於權責機關劃定之警戒區或指定區域內，從事遙控無人機飛航活動應聽從現場指揮官或權責機關指定之現場負責人員統一指揮調度；如警戒區或指定區域位於本法第九十九條之十三第一項及第二項範圍內，由現場指揮官或權責機關指定之現場負責人員向民航局或直轄市、縣(市)政府申請同意；如活動涉及本法第九十九條之十四第一項第一款至第八款者，應向民航局申請核准。</p> <p>前二項活動應於每次活動前、後於指定時間內至民航局指定資訊系統登錄飛航資訊。</p>	<p>或地方政府依災害防救法規定所成立之災害應變中心指揮及調度，經申請同意後從事飛航活動，所有人及操作人不得擅自從事飛航活動。</p> <p>二、第二項訂定災害之預防、復原重建或災害以外之緊急情況發生時，如火災、海洋汙染等，於權責機關劃定之警戒區或指定區域內，應聽從現場指揮官或權責機關指定之現場負責人員統一指揮及調度，如該範圍涉及禁航區、限航區、航空站或飛行場四周一定距離範圍及直轄市、縣(市)政府公告之禁止、限制區域內，由現場指揮官或權責機關指定之現場負責人員向該等區域之機關申請同意；如涉及相關操作限制者，應申請核准，始得從事飛航活動。</p> <p>三、本條所稱申請同意或核准之方式，得以電話紀錄、傳真或其他書面紀錄為之，以簡化申請流程。</p>
<p>第三十四條 政府機關為執行災害防救、偵查、調查、矯正業務等法定職務，需於本法第九十九條之十三第一項公告之航空站或飛行場四周之一定距離範圍內、第二項公告之禁止、</p>	<p>一、為便利政府機關執行災害防救、偵查、調查、矯正業務等法定職務，有立即性或保密性之任務，第一項訂定得經申請同意後，不受本法第九十九條之十三第一項公告之航空站或</p>

<p>限制區域內從事遙控無人機飛航活動或從事本法第九十九條之十四第一項第二款至第八款之活動，經申請民航局同意者，不受第三十一條第一項及第二項、第三十二條第一項規定之限制。</p> <p>民航局得於前項同意文件內註明從事遙控無人機活動應注意事項。</p> <p>第一項同意文件有效期限為二年，期限屆滿前三十日內，得向民航局申請延展。</p>	<p>飛行場四周之一定距離範圍內、第九十九條之十三第二項公告之禁止、限制區域內從事遙控無人機飛航活動或從事本法第九十九條之十四第一項第二款至第八款之活動限制。</p> <p>二、第二項訂定相關之注意事項限制得註明於同意文件內。</p> <p>三、第三項訂定第一項之同意文件效期為二年，得於屆期前三十日內，申請延展。</p>
<p>第三十五條 政府機關(構)、學校或法人應保存遙控無人機之註冊號碼、活動日期、活動區域或飛航軌跡、飛航時間、飛航性質、操作人員姓名、維護或修理、改裝等紀錄，並保存二年。</p>	<p>訂定政府機關(構)、學校或法人應保存遙控無人機相關資料及紀錄，並應保存二年，以利日後之查閱。</p>
<p>第六章 飛航安全相關事件之通報及處理</p>	
<p>第三十六條 所有人或操作人於操作遙控無人機發生下列飛航安全相關事件時，應於發生或得知消息後二十四小時內填具飛航安全相關事件報告表(附件十五)通報民航局：</p> <p>一、運輸事故調查法所規定之遙控無人機飛航事故。</p> <p>二、最大起飛重量二公斤以上</p>	<p>訂定遙控無人機所有人或操作人於操作遙控無人機時，發生飛航安全相關事件時，應於發生或得知消息後二十四小時通報及備查之規定。</p>

<p>且裝置導航裝置之遙控無人機遭受實質損害或失蹤。</p> <p>三、於本法第九十九條之十三第一項至第二項範圍內從事活動之遙控無人機遭受實質損害或失蹤。</p> <p>四、從事本法第九十九條之十四第一項第一款至第八款活動之遙控無人機遭受實質損害或失蹤。</p> <p>五、發生與其他航空器或障礙物接近或碰撞之事故。</p>	
<p>第三十七條 遙控無人機發生前條飛航安全相關事件，於有下列情形之一時，民航局得暫停遙控無人機之操作或飛航活動：</p> <p>一、事件調查之需要。</p> <p>二、為穩定當事人情緒。</p> <p>三、為加強人員訓練。</p> <p>四、其他影響飛航安全之情況。</p>	<p>為維護飛航安全並能遂行調查作業，訂定遙控無人機之操作或飛航活動發生第三十六條所述之飛航安全相關事件時，得要求暫停從事遙控無人機之操作或飛航活動。</p>
<p>第七章 附則</p>	
<p>第三十八條 外國人領有外國政府之遙控無人機註冊、檢驗及操作證之證明文件者，應檢附下列文件向民航局申請認可後，始得依本法相關規定於臺北飛航情報區內從事遙控無人</p>	<p>一、參酌美國聯邦航空署對於外國人於境內從事飛航活動之規定，第一項訂定外國人如領有外國政府核發之註冊、檢驗合格及操作證等證明文件者，應檢附相關文件申請認可後，始</p>

<p>機飛航活動：</p> <p>一、申請書(附件十六)。</p> <p>二、護照影本。</p> <p>三、外國或地區所核發之遙控無人機註冊、檢驗合格及操作證之證明文件；證明文件為英文以外之外文者，應附中文譯本。</p> <p>前項外國人之遙控無人機註冊、檢驗及操作證認可，自發給之日起有效期限最長為六個月。</p> <p>臺灣地區無戶籍之國民或外國人領有許可停留或居留六個月以上之證明（件）者及大陸地區人民、香港或澳門居民，經許可停留或居留一年以上者，得依第四章規定申請各項操作證。</p> <p>外國政府機關(構)、學校或法人於臺北飛航情報區內從事遙控無人機飛航活動時，不適用第五章第二節之規定。</p>	<p>得依本法相關規定於臺北飛航情報區內從事遙控無人機飛航活動。</p> <p>二、臺北飛航情報區係指我國飛航情報中心提供飛航情報及守助服務所劃定之區域。</p> <p>三、第二項訂定外國人之遙控無人機註冊、檢驗合格及操作證認可，自發給之日起有效期限最長為六個月。</p> <p>四、第三項訂定臺灣地區無戶籍之國民或外國人領有許可停留或居留六個月以上之證明（件）者及大陸地區人民、香港或澳門居民，經許可停留或居留一年以上者，得依第四章規定申請各項操作證。</p> <p>五、為保障我國產業從事遙控無人機相關商業活動之機構權益，第四項訂定外國政府機關(構)、學校或法人於臺北飛航情報區內從事營利相關活動，不適用第五章第二節之規定。</p>
<p>第三十九條 本規則各項申請及通報作業得於民航局所指定之資訊系統以電子化方式為之。</p>	<p>為配合政府E化政策，增進行政效率，訂定依本規則辦理註冊(銷)、檢驗、認可、操作證、活動許可、製造者登錄、飛航安全相關事件之通報等事項，包含第六條、第七條、第十條、第十二條、第十三條、第十四條、第十</p>

	<p>五條、第十六條、第二十條、第二十三條、第二十四條、第三十一條、第三十二條、第三十四條、第三十五條、第三十六條、第三十八條等，得於指定之資訊系統以電子化方式申辦。</p>
<p>第四十條 本規則各項申請費用依附件十七規定收取之。</p>	<p>訂定依本規則之規定辦理註冊、檢驗、認可、測驗等事項，及領取相關書證時應繳納之規費。</p>
<p>第四十一條 於本規則施行前，經民航局檢驗合格或認可並取得相關證明文件之遙控無人機，其設計、製造、改裝者或所有人，得於本規則施行後，向民航局申請發給相關檢驗合格證或認可文件。</p> <p>於本規則施行前，經民航局評鑑合格並取得相關證明文件之操作人，得於本規則施行後，向民航局申請發給相關操作證。</p>	<p>一、本規則施行前，國防、公務機關及以政府經費進行研究、測試、展示之單位，依據航空公報申請從事遙控無人機飛航活動多年，考量本法施行後，市場上未持有相關檢驗合格證或認可證明文件之遙控無人機皆不得從事飛航活動，將造成不小衝擊。為能滿足政府機關(構)、學校及法人等執行公務，維護公眾利益之需求，並將衝擊降至最低且有緩衝期間，訂定第一項規定，於本規則施行前，如依公告之遙控無人機預先檢驗實施計畫執行檢驗合格或認可並取得相關證明文件之遙控無人機，其設計、製造、改裝者或所有人得於本規則施行後，申請發給型式檢驗合格證、實體檢驗合格證、特種實體檢驗合格證或認可文件。前述遙控無人機預先檢驗</p>

	<p>實施計畫內容並將落實納入本規則內，俾使本規則施行前、後之作法一致。</p> <p>二、考量本法正式施行後，政府機關(構)、學校及法人等所屬人員未持有相關之遙控無人機操作證者，不得從事遙控無人機活動，對於執行公務及維護公眾權益等事項影響甚鉅。另，本法實施後，報考遙控無人機操作證者(包含一般民眾及政府機關(構)、學校及法人等所屬人員等)人數眾多，受限於測驗作業資源及能量，恐無法於短期內完成測驗及給證，造成公務機關無法從事飛航作業而損害公益需求並衍生民怨。為將衝擊降至最低並有緩衝期間，訂定第二項規定，於本規則施行前，如依公告之遙控無人機操作證預先評鑑實施計畫執行遙控無人機操作證測驗合格並取得相關證明文件之操作人，得於本規則施行後申請發給操作證。前述遙控無人機操作證預先評鑑實施計畫之測驗項目內容並將落實納入本規則內，俾使本規則施行前、後之作法一致。</p>
<p>第四十二條 本規則施行日期，</p>	<p>訂定本規則施行日期。</p>

由交通部定之。	
---------	--

遙控無人機管理規則附件一覽表

附件一	遙控無人機註冊、變更註冊及延展有效期限申請書
附件二	遙控無人機型式檢驗申請書
附件三	遙控無人機型式檢驗合格證
附件四	遙控無人機型式檢驗合格標籤樣式
附件五	遙控無人機自國外進口檢驗認可申請書
附件六	遙控無人機試飛活動申請及管理規定
附件七	遙控無人機實體檢驗合格證
附件八	遙控無人機特種實體檢驗合格證
附件九	遙控無人機操作證相關規定
附件十	遙控無人機操作人學、術科測驗申請書
附件十一	遙控無人機人員操作證申請書
附件十二	術科測驗用遙控無人機規格
附件十三	政府機關(構)、學校或法人作業手冊
附件十四	政府機關(構)、學校或法人活動計畫書
附件十五	遙控無人機飛安相關事件報告表
附件十六	外國人遙控無人機註冊、檢驗及操作證認可申請書
附件十七	費用標準

6.6 遙控無人機學科模擬試題

6.6.1 普通操作證模擬試題(試卷 1)

◆ 民用航空法及相關法規

1. 政府機關（構）、學校或法人因執行業務需於禁、限航區及航空站或飛行場四周一定距離範圍內從事遙控無人機飛航活動者，應申請何者會商目的事業主管機關同意後，始得為之？

正確解答：
(C)

- (A) 鄉鎮區公所。
- (B) 衛福部。
- (C) 民航局。
- (D) 科技部。

2. 從事休閒娛樂用途之遙控無人機不得於下列哪個時間進行飛航活動？

正確解答：
(A)

- (A) 日落後至日出前。
- (B) 日出後。
- (C) 正中午。
- (D) 無特別規定。

3. 遙控無人機所有人或操作人違反「不得逾距地面或水面高度 400 呎從事飛航活動」之規定者，民航局除廢止其操作證並得沒入遙控無人機外，另處多少新臺幣之罰鍰？

正確解答：
(A)

- (A) 30 萬元以上 150 萬元以下。
- (B) 1 萬元以上 10 萬元以下。
- (C) 20 萬元以上 50 萬元以下。
- (D) 5 萬元以上 30 萬元以下。

4. 遙控無人機和遙控設備間為操作飛行管理目的之資料鏈接，稱之？

正確解答：
(B)

- (A) 網路鏈路。
- (B) 通訊及控制信號鏈路。
- (C) 電信鏈路。
- (D) 光纖鏈路。

5. 遙控無人機所有人將其遙控無人機交由他人進行操作而不慎墜落傷人，應由何人負連帶賠償責任？
- 正確解答：
(C)
- (A) 所有人及旁觀人。
(B) 所有人及設計者。
(C) 所有人及操作人。
(D) 所有人及製造者。
6. 實體檢驗合格證或特種實體檢驗合格證之記載事項如有變更時，下列敘述何者正確？
- 正確解答：
(D)
- (A) 製造者應於事實發生日起 15 日內申請換發。
(B) 設計者應於事實發生日起 10 日內申請換發。
(C) 操作人應於事實發生日起 7 日內申請換發。
(D) 所有人應於事實發生日起 15 日內申請換發。
7. 申請遙控無人機專業操作證者，其術科測驗應於學科測驗通過日起多久內完成，否則應重新申請學科測驗？
- 正確解答：
(D)
- (A) 3 個月內。
(B) 6 個月內。
(C) 9 個月內。
(D) 1 年內。
8. 某公司無人機團隊正執行飛航任務，突接獲上層電話指示須臨時將無人機飛至前方人群密集之住宅區拍攝所需影像，並表示公司先前已獲得民航局相關安全能力審查通過，可放心飛入執行拍攝。請問該團隊應有下列何種正確認知？
- 正確解答：
(B)
- (A) 當然是聽從上層的要求，直接飛入住宅區進行拍攝。
(B) 活動前仍應依規定向民航局申請執行許可後，使得進行拍攝。
(C) 只要臨時通知所在地轄區派出所後，即可進行拍攝。
(D) 只要臨時通知所在地轄區里長辦公室後，即可進行拍攝。

9. 某大學校慶活動，預計於該校室內體育館舉行一場無人機競技比賽，請問有關該比賽之適法性問題，下列何者為非？

正確解答：
(B)

- (A) 該比賽舉辦地點於室內，非屬民航法無人機專章規範範圍。
- (B) 該比賽舉辦地點雖於室內，仍屬民航法無人機專章規範範圍。
- (C) 操作人於比賽過程中仍須注意在場人員之安全。
- (D) 比賽過程中如因操作人操作不當而傷及他人者，操作人仍可能須負相關法律責任。

10. 無人機團隊因任務需要，為其所有之一架已取得型式檢驗合格證之無人機進行改裝行為，請問該團隊針對無人機改裝後之應有認知，下列何者正確？

正確解答：
(A)

- (A) 改裝者應檢附申請書向民航局再次申請型式檢驗。
- (B) 改裝行為並不影響型式檢驗之效力，無須再進行任何檢驗。
- (C) 該團隊能擔保改裝行為不影響無人機飛航性能及安全，即不須再進行任何檢驗。
- (D) 由主管機關自由判定改裝行為是否須進行重新檢驗。

◆ 基礎飛行原理

11. 遙控無人機系統之地面控制站的硬體設備，包括下列哪個項目？

正確解答：
(D)

- (A) 訊號傳輸設備。
- (B) 指令傳輸設備。
- (C) 資訊接收分析設備。
- (D) 以上皆是。

12. 遙控無人機非自主（如 GPS）導航系統有下列哪個缺點？

正確解答：
(B)

- (A) 操作困難。
- (B) 易受干擾。
- (C) 誤差積累增大。
- (D) 以上皆是。

13. 若無人飛機在地面上靜止，依牛頓運動定律，下列哪個特性會使得飛機保持靜止？
- 正確解答：
(A)
- (A) 慣性。
(B) 磁性。
(C) 氣壓。
(D) 空氣濕度。
14. 對於高速遙控無人機而言，除了摩擦阻力、形狀阻力、誘導阻力和干擾阻力外，還會另外產生下列哪種阻力？
- 正確解答：
(A)
- (A) 震波阻力。
(B) 布斯曼阻力。
(C) 達倫伯特阻力。
(D) 雷諾阻力。
15. 操作遙控無人飛機時，當副翼控制右下左上，機體相對於「機體中心」作下列哪種動作？
- 正確解答：
(C)
- (A) 向上俯仰。
(B) 右偏航。
(C) 左滾。
(D) 右滾。

◆ 氣象

16. 航空例行天氣報告中，所觀測盛行能見度值，其編報方式及單位為何？
- 正確解答：
(A)
- (A) 4 碼 (公尺)。
(B) 6 碼 (公尺)。
(C) 8 碼 (公尺)。
(D) 10 碼 (公尺)。

17. 空氣可藉由外界的作功達到下列哪種效果？

- (A) 加工成形。
- (B) 染色。
- (C) 壓縮及膨脹。
- (D) 以上皆是。

正確解答：
(C)

18. 一定量空氣於一定溫度下，所能容納之下列何者亦有其限度？

- (A) PM2.5。
- (B) 微生物。
- (C) 水氣量。
- (D) 細菌。

正確解答：
(C)

◆ 緊急處置與飛行決策

19. 疲勞可分為下列哪幾種？

- (A) 生理性疲勞。
- (B) 心理性疲勞。
- (C) 急性與慢性疲勞。
- (D) 以上皆是。

正確解答：
(D)

20. 無人機團隊受某媒體委託執行空拍任務，執行任務過程中委託單位要求無人機飛出核准區域以取得更好的畫面，無人機團隊其他成員認為該要求合理，應予執行，但是操作人認為該要求有安全疑慮，應予拒絕，請問操作人對此情形應有下列哪一項認知？

- (A) 聽從無人機團隊領隊的指示，領隊說執行就執行，到時有問題由領隊負責。
- (B) 聽從無人機團隊大多數人的意見，到時有問題大家一起負責。
- (C) 無人機於飛航活動期間，操作人對無人機之處置有最後決定權。
- (D) 如果委託單位願意負責就執行該要求，否則就拒絕該要求。

正確解答：
(C)

6.6.2 普通操作證模擬試題(試卷 2)

◆ 民用航空法及相關法規

1. 某款遙控無人機搭載攝影機及 GPS 等裝備，可利用圖傳系統於螢幕上即時傳輸圖像，請問操作人於操作該款無人機時，對於即時傳輸圖像功能應具有下列哪項正確認知？

- (A) 可完全信賴，操作時不必再監視無人機飛航及其周遭狀況。
- (B) 只要搭載攝影裝備解析度夠好，即不必再監視無人機飛航及其周遭狀況。
- (C) 只要操作人技術夠純熟，即不必再監視無人機飛航及其周遭狀況。
- (D) 無論是否搭載圖傳裝備，操作人仍應隨時監視無人機之飛航及其周遭狀況。

正確解答：
(D)

2. 小華為某公司無人機業務部門主管兼資深飛手，請問有關每趟飛航任務之操作紀錄、無人機維護紀錄及相關修理紀錄等處置事宜，小華應有哪項正確認知？

- (A) 法規針對相關紀錄之處置並無明確規範，隨公司高層想怎麼處理都可以。
- (B) 相關紀錄內容隨便寫寫就好，反正任務完成、機器能正常運作即可。
- (C) 明知飛航任務中發生異常現象，為利團隊績效，自行研判若不嚴重，即不須特別紀錄。
- (D) 公司應妥善保存每趟任務之相關紀錄，法規針對紀錄事項及保存期限等亦有相關規定。

正確解答：
(D)

3. 某遙控無人機操作人欲代地方農會執行農藥噴灑作業，以下敘述何者正確？ 正確解答：
(A)
- (A) 該操作人須通過學、術科測驗。
 - (B) 該操作人不須通過術科測驗。
 - (C) 執行農藥噴灑作業前不需經申請核准。
 - (D) 以上皆是。
4. 政府機關（構）、學校或法人經民航局核准得於「人群聚集或室外集會遊行上空」進行飛航活動者，其活動場地部分仍應取得何者之同意？ 正確解答：
(A)
- (A) 直轄市、縣（市）政府及相關中央主管機關。
 - (B) 直轄市、縣（市）政府。
 - (C) 相關中央主管機關。
 - (D) 當地派出所。
5. 操作遙控無人機發生下列哪種情形時，遙控無人機所有人應負賠償責任？ 正確解答：
(D)
- (A) 故意致他人死傷。
 - (B) 過失致他人死傷。
 - (C) 故意或過失毀損他人財物。
 - (D) 以上皆是。
6. 自行製造、使用之最大起飛重量 25 公斤以上遙控無人機，何人可提出合併型式檢驗及實體檢驗之申請？ 正確解答：
(C)
- (A) 製造者。
 - (B) 操作人。
 - (C) 所有人。
 - (D) 設計者。

7. 為法人從事業務之遙控無人機操作人，依法須強制加入何種保險？

正確解答：

- (A) 積水險。
- (B) 責任險。
- (C) 地震險。
- (D) 颱風險。

(B)

8. 遙控無人機之所有人或操作人違反「直轄市、縣(市)政府公告之區域、時間及其他管理事項」之相關規定者，除禁止其活動，情節重大者並得沒入遙控無人機外，另處多少新臺幣之罰鍰？

正確解答：

- (A) 3 萬元以上 15 萬元以下。
- (B) 5 萬元以上 28 萬元以下。
- (C) 8 萬元以上 38 萬元以下。
- (D) 15 萬元以上 30 萬元以下。

(A)

9. 遙控無人機於空中進行飛航活動時，易伴隨較高之何種風險？

正確解答：

- (A) 文化風險。
- (B) 健康風險。
- (C) 社會風險。
- (D) 貿易風險。

(C)

10. 從事遙控無人機飛航活動，非經民航局核准不得執行下列何者行為？

正確解答：

- (A) 以信號鏈路進行飛航控制。
- (B) 以自動駕駛操作。
- (C) 投擲或噴灑任何物件。
- (D) 其他經民航局同意之操作。

(C)

◆ 基礎飛行原理

11. 下列哪個是飛行控制系統的輸入裝置，用以保持控制精度？ 正確解答：
(B)
- (A) 機載計算機。
 - (B) 感測器。
 - (C) 伺服器。
 - (D) 以上皆是。
12. 無人機正在加油，在攝氏 15 度時，油箱加滿油量為 1.2 公升，現在氣溫攝氏 38 度，請問對油箱加滿的油量有何影響？ 正確解答：
(C)
- (A) 油量仍為 1.2 公升。
 - (B) 油量大於 1.2 公升。
 - (C) 油量小於 1.2 公升。
 - (D) 跟現在氣溫沒有關係，只要加油技術夠好。
13. 負責對遙控無人機之命令與控制、資料鏈路等工作的，是下列哪個系統？ 正確解答：
(B)
- (A) 動力系統。
 - (B) 無線通訊系統。
 - (C) 導航系統。
 - (D) 飛行控制系統。
14. 飛行速度快、酬載大、飛行效率高，不需太複雜控制，就可自行抵抗氣流而自行保持穩定的飛行的遙控無人機，是下列哪種遙控無人機？ 正確解答：
(B)
- (A) 遙控無人直昇機。
 - (B) 遙控無人飛機。
 - (C) 遙控無人多旋翼機。
 - (D) 以上皆是。

15. 噴射機將燃燒的熱氣體往後推送以施加作用力，相對的有相等且相反的下列哪種力，將飛機往前推進？

- (A) 反作用力。
- (B) 摩擦力。
- (C) 靜電力。
- (D) 磁力。

正確解答：
(A)

◆ 氣象

16. 於兩股不同性質氣團之交界面，當空氣自高空往下移動自近地面較冷空气而凝結所成之霧，稱之？

- (A) 鋒面霧。
- (B) 山坡霧。
- (C) 輻射霧。
- (D) 蒸氣霧。

正確解答：
(A)

17. 航空氣象觀測員將天空劃分成 8 等份，若觀測到 5/8 至 7/8 的天空被雲層遮蓋，該雲量類別稱為下列何者？

- (A) 稀雲。
- (B) 疏雲。
- (C) 裂雲。
- (D) 密雲。

正確解答：
(C)

18. 無人機正以定速 (40 kts/時) 及定姿態方式保持往東飛行，此時 GPS 速度 (地速) 顯示為 44 kts/時，GPS 航向為 116 度，請問風速和風向約略為何？

- (A) 東風 20 kts。
- (B) 北風 20 kts。
- (C) 南風 20 kts。
- (D) 西風 20 kts。

正確解答：
(B)

◆ 緊急處置與飛行決策

19. 下午 3 點無人機飛行時天氣愈來愈壞，氣象預報說下午有雷雨，但此時無人機正在執行一項任務，至少需要到下午 5 點才能結束返場，請問操作人應採取下列哪一項飛行決策？

- (A) 在惡劣天氣下飛行，會增加飛航安全的風險，應避免在雷雨期間下執行任務。
- (B) 無人機狀況良好，雖然氣象預報說有雷雨，但不一定會發生，就算發生也不一定會碰上，所以可繼續執行任務。
- (C) 以前也不是沒碰過雷雨，只要無人機狀況良好、操作人能力優秀，克服天氣因素沒問題，所以可繼續執行任務。
- (D) 因為此次任務非常重要，中途放棄會損失許多金錢和時間，所以可繼續執行任務，等碰到雷雨再說。

正確解答：
(A)

20. 無人機因操作人操作不當導致失控墜毀於外海，通報民航局備查後，操作人情緒激動，久久不能平復，要求無人機團隊立即讓他操作另一架同型無人機來完成沒有作完的任務，請問無人機團隊對該要求應有下列哪一項認知？

- (A) 操作人情緒不穩定，宜暫停從事無人機之飛航活動，所以應拒絕該要求。
- (B) 「操作不當」的不良紀錄會導致操作人聲譽受損，讓操作人繼續執行無人機任務有助他扳回面子，所以應同意該要求。
- (C) 應視當時的天氣狀況而定，如果天氣好就同意該要求，否則就拒絕該要求。
- (D) 應視另一架同型無人機的機務狀況而定，如果機務狀況好就同意該要求，否則就拒絕該要求。

正確解答：
(A)

6.6.3 普通操作證模擬試題(試卷 3)

◆ 民用航空法及相關法規

1. 遙控無人機未經同意飛入航空站或飛行場四周之一定距離範圍內者，航空站、飛行場之經營人或管理人得會同何者予以取締？ 正確解答：
(C)
- (A) 當地里長。
(B) 地方派出所。
(C) 航空警察局。
(D) 無交通警察大隊。
2. 政府機關（構）、學校或法人欲執行遙控無人機法規所訂之操作限制者，得檢附相關文書並向下列何者申請核准後為之？ 正確解答：
(B)
- (A) 直轄市、縣（市）政府。
(B) 民航局。
(C) 警察機關。
(D) 衛福部。
3. 遙控無人機之所有人或操作人違反「未領有操作證而操作遙控無人機」之規定者，除禁止其活動，情節重大者並得沒入遙控無人機外，另處多少新臺幣之罰鍰？ 正確解答：
(C)
- (A) 1 萬元以上 8 萬元以下。
(B) 3 萬元以上 18 萬元以下。
(C) 6 萬元以上 30 萬元以下。
(D) 8 萬元以上 38 萬元以下。

4. 遙控無人機之所有人或操作人違反「未投保或未足額投保責任保險而從事遙控無人機活動」之規定者，除禁止其活動，情節重大者並得沒入遙控無人機外，另處多少新臺幣之罰鍰？

- (A) 6 萬元以上 30 萬元以下。
- (B) 3 萬元以上 20 萬元以下。
- (C) 1 萬元以上 8 萬元以下。
- (D) 8 萬元以上 50 萬元以下。

正確解答：
(A)

5. 遙控無人機之所有人或操作人違反「遙控無人機註冊或標明註冊號碼」之相關規定者，除禁止其活動，情節重大者並得沒入遙控無人機外，另處多少新臺幣之罰鍰？

- (A) 10 萬元以上 48 萬元以下。
- (B) 8 萬元以上 38 萬元以下。
- (C) 5 萬元以上 28 萬元以下。
- (D) 3 萬元以上 15 萬元以下。

正確解答：
(D)

6. 自國外進口之遙控無人機，應由何者依規定向民航局申請型式檢驗？

- (A) 操作人。
- (B) 所有人。
- (C) 進口者。
- (D) 設計者。

正確解答：
(C)

7. 自行製造、使用之最大起飛重量 25 公斤以上遙控無人機，可向哪個機關提出合併型式檢驗及實體檢驗之申請？

- (A) 內政部。
- (B) 民航局。
- (C) 科技部。
- (D) 衛福部。

正確解答：
(B)

8. 某無人機團隊正擬定拍攝一大型廟會活動之飛航計畫，請問該團隊對於其執行之任務，應有下列何種正確認知？

- (A) 團隊技術高超，拍攝時無須特別防護工作。
- (B) 為達拍攝效果，於任務中任意變換無人機飛航高度甚至接近人群是可以接受的。
- (C) 重量較輕的無人機相對危害較小，故可隨意飛近目標物進行拍攝。
- (D) 操作人應領有相應專業操作證，且於執行任務前應申請活動許可。

正確解答：
(D)

9. 一架最大起飛重量 5 公斤且裝置導航設備之遙控無人機於海岸邊執行空拍任務時，因操作不當而致失控墜海，目視機體已明顯損壞無法繼續使用。請問操作人應採取下列哪項正確作為？

- (A) 只要無造成人員傷亡，即不須作任何處置。
- (B) 只要無造成人員傷亡，只需要把墜海的無人機拾回即可。
- (C) 無論有無造成人員傷亡，應於事件發生後 24 小時內依規定通報當地消防單位。
- (D) 無論有無造成人員傷亡，應於事件發生後 24 小時內依規定通報民航局。

正確解答：
(D)

10. 某無人機團隊正規劃一場沙灘音樂饗宴任務，其內容包括：「日落後利用無人機於參與民眾上空噴灑彩色粉末，以製造繽紛效果」。請問下列何者為該團隊執行任務前最重要之考量因素？

- (A) 操作者之飛航技術及膽識是否足夠。
- (B) 彩色粉末之數量是否足夠活動需求。
- (C) 該任務是否已經申請核准，操作者是否領有相應操作證。
- (D) 現場燈光及音效設備是否良好，以營造絢麗歡樂效果。

正確解答：
(C)

◆ 基礎飛行原理

11. 重力是航空器本身之質量所受的下列哪種外力？

- (A) 磁力。
- (B) 地吸引力。
- (C) 摩擦力。
- (D) 靜電力。

正確解答：
(B)

12. 在無人飛機機翼上一般安裝下列哪個物件？

- (A) 光學酬載。
- (B) 副翼和襟翼。
- (C) 通訊設備。
- (D) 導航設備。

正確解答：
(B)

13. 無人飛機重心位置靠前時，為維持遙控無人機的俯仰平衡，需要尾翼提供下列哪種力？

- (A) 更大的向前的推力。
- (B) 更大的向上的升力。
- (C) 更大的向下的升力。
- (D) 更大的向外的離心力。

正確解答：
(C)

14. 為確保飛行安全，操作人須審慎確認遙控無人機的下列哪個特性？

- (A) 外觀。
- (B) 重量與載重平衡。
- (C) 價格。
- (D) 以上皆是。

正確解答：
(B)

15. 基於連續性定理、柏努利定律兩個理論，我們可以知道機翼上、下表面會出現下列哪種現象？

- (A) 溫度差。
- (B) 壓力差。
- (C) 濕度差。
- (D) 比熱差。

正確解答：
(B)

◆ 氣象

16. 「霧」對於無人機起降活動之影響顯而易見，請問下列針對「霧」的成因判斷，何者最為恰當？

- (A) 注意風（空氣水平運動）的狀況，風速增加就可能形成「霧」。
- (B) 注意對流（空氣垂直運動）的狀況，對流增強就可能形成「霧」。
- (C) 注意大氣壓力值是否降低，降低就可能形成「霧」。
- (D) 注意空氣溫度是否接近露點溫度，接近就可能形成「霧」。

正確解答：
(D)

17. 平流和輻射兩種物理過程亦可相輔相成，造成下列哪種霧的發生？

- (A) 平流輻射霧。
- (B) 山坡霧。
- (C) 蒸氣霧。
- (D) 鋒面霧。

正確解答：
(A)

18. 高密度高度之環境比較不會出現於下列何處？

- (A) 低海拔處。
- (B) 高溫處。
- (C) 非常潮濕之處。
- (D) 低大氣壓力之處。

正確解答：
(A)

◆ 緊急處置與飛行決策

19. 慢性壓力在長期累積或壓抑下，會導致下列哪種狀況？

- (A) 個人能力大幅提升。
- (B) 個人能力時好時壞。
- (C) 個人能力大幅下滑。
- (D) 個人能力保持不變。

正確解答：
(C)

20. 遙控無人機操作人若忽略或未及時改善急性疲勞，則會進一步造成下列哪種狀況？

- (A) 過度疲勞。
- (B) 慢性疲勞。
- (C) 中度疲勞。
- (D) 低度疲勞。

正確解答：
(B)

6.6.4 專業操作證模擬試題(試卷 1)

◆ 民用航空法及相關法規

1. 操作證考取目的係為確保操作人於哪個階段能熟悉相關航空知識與管理規範，並具備一定操作熟練度及緊急處置能力？

正確解答：
(A)

- (A) 操作前及操作時。
- (B) 操作前及操作後。
- (C) 操作前。
- (D) 操作後。

2. 對違反規範之遙控無人機操作人及所有人所為之處罰，係欲達到哪個目的？

正確解答：
(D)

- (A) 維持社會秩序。
- (B) 增進公共利益。
- (C) 維護公共安全。
- (D) 以上皆是。

3. 於何處進行遙控無人機飛航活動適用民用航空法之「遙控無人機」相關規定？

正確解答：
(B)

- (A) 建築物內密閉空間。
- (B) 建築物外開放空間。
- (C) 任何空間。
- (D) 以上皆非。

4. 政府機關（構）、學校或法人因執行業務需於直轄市、縣（市）政府所公告之遙控無人機活動區域、時間及其他管理事項外從事飛航活動者，應申請何者會商相關中央主管機關同意後，始得為之？

正確解答：
(A)

- (A) 直轄市、縣（市）政府。
- (B) 衛福部。
- (C) 農委會。
- (D) 交通部。

5. 某明星正在室外舉行音樂發表會，主辦單位看到現場人山人海，為擴大宣傳效果，臨時打算請某無人機團隊利用無人機於現場人群上空進行投擲紀念版 T 恤及 CD 活動，請問下列敘述何者正確？

正確解答：
(A)

- (A) 法規已明訂未取得相應專業操作證及事前活動申請許可，不得以遙控無人機進行投擲作業。
- (B) 主辦單位只要事先向現場人群說明活動進行方式，即可進行投擲作業。
- (C) 只要主辦單位提供之 T 恤及 CD 數量能符合無人機酬載需求，即可進行投擲作業。
- (D) 使用無人機投擲物件稀鬆平常，毫無安全疑慮，可以直接進行投擲作業。

6. 小陳為某新成立無人機業務公司負責人，目前除積極招兵買馬外，亦準備購入 20 台不同構型、重量之業務用無人機。請問小陳對於該公司所購入無人機之註冊相關規定，下列敘述何者正確？

正確解答：
(A)

- (A) 所有無人機均須辦理註冊。
- (B) 最大起飛重量超過 250 公克之無人機才須辦理註冊。
- (C) 僅須為所採購無人機之半數辦理註冊即可。
- (D) 由主管機關決定應辦理註冊之無人機數量。

7. 某業餘玩家利用假日至一處未被劃設禁飛區域內進行無人機試飛活動，並預劃完成數項操作科目，此時已接近日落，尚有幾個科目未完成，請問有關下列該玩家應注意事項，何者正確？

正確解答：
(B)

- (A) 該區域非為禁飛區，故該玩家於日落後仍可持續進行科目操作。
- (B) 該玩家於日落前即應終止其飛航科目操作。
- (C) 如果天氣良好即可於日落後持續進行飛航科目操作。
- (D) 只要觀察四周無人，即可於日落後持續進行飛航科目操作。

8. 遙控無人機經型式檢驗合格後，除因改裝需重新辦理檢驗及註冊異動外，是否需再辦理定期檢驗？

- (A) 仍需再辦理定期檢驗。
- (B) 無需再辦理定期檢驗。
- (C) 操作人認為有需要則應再辦理定期檢驗。
- (D) 所有人認為有需要則應再辦理定期檢驗。

正確解答：
(B)

9. 某大學順應潮流成立無人機社團，其成員亦將成為該校未來無人機業務執行主力。學校為擴大宣傳，臨時決定某日下午於校園空曠處進行無人機飛航展示活動，請問下列認知何者正確？

- (A) 校園內飛航無受法規限制，可盡情執行飛航展示活動。
- (B) 只要經學校同意，並於活動現場派員口頭宣導注意事項，即可任意進行飛航展示活動。
- (C) 該校仍應於完成飛航活動許可申請後，始得依申請內容進行飛航操作展示。
- (D) 為展示無人機性能，刻意將無人機飛越人群、教室或辦公區域是可允許的。

正確解答：
(C)

10. 遙控無人機於發生飛航安全相關事件後，何人應負責進行通報？

- (A) 僅有所有人。
- (B) 僅有操作人。
- (C) 所有人或操作人。
- (D) 操作人之親屬。

正確解答：
(C)

11. 操作人未經獲准從事視距外之遙控無人機飛航活動，除不得使用矯正鏡片外之任何工具做延伸視距飛航外，另須遵守哪項飛航範圍限制？

- (A) 須於信號鏈路有效範圍內操作。
- (B) 須於目視範圍內操作。
- (C) 須於自動駕駛有效範圍內操作。
- (D) 須於安全油量範圍內操作。

正確解答：
(B)

12. 有關政府機關（構）、學校或法人欲執行獲民航局許可之遙控無人機飛航任務，下列敘述何者正確？

- (A) 飛航任務後應向民航局申請該次活動許可。
- (B) 飛航任務時應向民航局申請該次活動許可。
- (C) 飛航任務前應向民航局申請該次活動許可。
- (D) 不須向民航局申請該次活動許可。

正確解答：
(C)

13. 假設現有以下資訊：

- 1. 日落時間為本地時間 18 點 46 分。
- 2. 民用暮光時間為 19 點 12 分。
- 3. 航海暮光時間為 19 點 43 分。
- 4. 天文暮光時間為 20 點 16 分。

請問無人機操作人應於何時終止飛航活動？

- (A) 18 點 46 分。
- (B) 19 點 12 分。
- (C) 19 點 43 分。
- (D) 20 點 16 分。

正確解答：
(A)

14. 無人機團隊正評估釣客欲於近海海域使用無人機至離岸數公里處進行投放釣餌之操作需求，請問下列哪項說明為該團隊最重要之考量因素？

- (A) 無人機裝載釣餌前後之重量與重心變化是否於其操作限制內。
- (B) 無人機之動力來源是否足以支撐該項投擲任務之完成。
- (C) 涉及利用無人機投擲物體之限制操作項目，應申請活動許可並應考取相關操作證。
- (D) 釣客是否投保相關保險並願意簽署任務執行切結書。

正確解答：
(C)

◆ 基礎飛行原理

15. 遙控無人機系統包含下列哪項主要次系統？

- (A) 遙控無人機體。
- (B) 遙控設備。
- (C) 通訊及控制信號鏈路。
- (D) 以上皆是。

正確解答：
(D)

16. 遙控無人飛機起飛時，除跑道起飛外，還可運用下列哪項裝置？

- (A) 火箭助推。
- (B) 彈射軌道發射。
- (C) 人力拋擲。
- (D) 以上皆是。

正確解答：
(D)

17. 遙控無人機導航系統主要分為下列哪兩種？

- (A) 非自主（如 GPS）和自主（慣性導航）。
- (B) 高精度和一般精度。
- (C) 高抗干擾和低抗干擾。
- (D) 全自動和半自動。

正確解答：
(A)

18. 完整之飛控系統可實現遙控無人機下列哪項功能？

- (A) 姿態穩定和控制。
- (B) 任務管理。
- (C) 緊急控制模式。
- (D) 以上皆是。

正確解答：
(D)

19. 遙控無人機導航與自動避讓系統的發展，包括下列哪項重點？

- (A) 慣性導航。
- (B) 多感應器融合、GPS。
- (C) 光電系統技術整合。
- (D) 以上皆是。

正確解答：
(D)

20. 一般遙控無人機目前多以下列哪些頻段進行控制與圖傳？
- (A) 300MHz 或 500MHz。
(B) 500MHz 或 600MHz。
(C) 2.4GHz 或 5.8GHz。
(D) 100GHz 或 220GHz。
- 正確解答：
(C)
21. 頻段 5.8GHz 主要為下列哪種鏈路執行圖像或數據傳輸等遙測功能？
- (A) 下行鏈路。
(B) 上行控制鏈路。
(C) 加密鏈路。
(D) 以上皆是。
- 正確解答：
(A)
22. 當物體受到所施加的力等於每次的動量變化，這就是下列哪個定律？
- (A) 牛頓第一定律又稱「慣性定律」。
(B) 牛頓第二定律又稱「加速度定律」。
(C) 牛頓第三定律。
(D) 以上皆非。
- 正確解答：
(B)
23. 牛頓第二定律說明加速度與所施加的力為下列哪種關係？
- (A) 成反比。
(B) 成正比。
(C) 沒有關係。
(D) 以上皆非。
- 正確解答：
(B)
24. 遙控無人機許多層面都還是要由人員來掌握及操控，所以下列哪個因素在整體飛行過程中佔了很重要的一部分？
- (A) 人為因素。
(B) 運氣因素。
(C) 社會因素。
(D) 歷史因素。
- 正確解答：
(A)

25. 無人機正以航向 90 接近機場，請問此無人機目前在機場的下列哪一個方向？
- (A) 北方。
(B) 西方。
(C) 東方。
(D) 南方。
- 正確解答：
(B)
26. 低速、低空的中型無人機的動力裝置，使用下列哪種發動機？
- (A) 往復式（活塞）發動機。
(B) 無刷電動馬達。
(C) 渦輪螺旋槳發動機。
(D) 渦輪發動機。
- 正確解答：
(A)
27. 當準備在無人機上安裝攝影機或其他酬載時，操作人應有如何的認知？
- (A) 超出無人機重量限制和重心範圍一點點，不影響安全。
(B) 先測試看看，只要飛的起來就沒問題。
(C) 即使超出重心範圍，但只要在重量限制內，透過高超的操作技巧一樣能夠飛行。
(D) 不超出無人機重量限制和重心範圍。
- 正確解答：
(D)
28. 航空模型上沒有 GPS，也沒有高度計，請問操作人應如何判斷 400 英尺飛行高度？
- (A) 在飛行前獲得地面上離無人機 400 英尺的目測概念作飛行高度參考。
(B) 該無人機飛行時，操作另一架有高度計的無人機到 400 英尺作飛行高度參考。
(C) 操作該無人機到 400 英尺高塔旁邊作飛行高度參考。
(D) 操作該無人機到兩座已知高度建築物中間作飛行高度參考。
- 正確解答：
(A)

◆ 氣象

29. 當空氣密度增加時，對飛機升力的影響為何者？

- (A) 升力增加。
- (B) 升力降低。
- (C) 升力不變。
- (D) 升力有時增加有時降低。

正確解答：
(A)

30. 下列何者非影響空氣密度之因素？

- (A) 高度。
- (B) 溫度。
- (C) 濕度。
- (D) 應力。

正確解答：
(D)

31. 遙控無人機操作人針對不同壓力高度對於無人機起降滑行距離之影響，應有何種正確認知？

- (A) 只要載重固定，起降滑行距離不受壓力高度變化影響。
- (B) 起降滑行距離與跑道鋪面、坡度及地面風向有關，無關壓力高度。
- (C) 壓力高度影響空氣密度，進而影響爬升率，對於起降滑行距離有直接影響。
- (D) 起降滑行距離與無人機動力來源有關，無關壓力高度。

正確解答：
(C)

32. 於對流層中，高度每上升 1,000 呎，溫度如何變化？

- (A) 降低約攝氏 2 度。
- (B) 升高約攝氏 2 度。
- (C) 降低約攝氏 20 度。
- (D) 升高約攝氏 20 度。

正確解答：
(A)

33. 所謂低空風切，我國定義係指下列哪個高度範圍之空氣層中，其風向或風速之突然變化？ 正確解答：
(D)
- (A) 10,000~15,000 呎。
 - (B) 5,000~10,000 呎。
 - (C) 1,600~5,000 呎。
 - (D) 1,600 呎以下。
34. 當無人機飛行於標準大氣壓力之環境下，其高度表指示高度（壓力高度）為 3,000 英呎，請問此時大氣壓力約為多少？ 正確解答：
(C)
- (A) 28.86 英吋汞柱高。
 - (B) 27.82 英吋汞柱高。
 - (C) 26.82 英吋汞柱高。
 - (D) 25.84 英吋汞柱高。

◆ 緊急處置與飛行決策

35. 某無人飛機飄降比為 10 比 1，正在距離機場約 2 公里、高度 1,000 英呎執行任務，此時為靜風，引擎忽然故障熄火，請問操作人應採取下列哪一項動作？ 正確解答：
(B)
- (A) 不管無人飛機高度可否提供足夠飄降距離，因為無人機太重要，立即不顧一切執行飄降返場。
 - (B) 判斷無人飛機高度可提供足夠飄降距離，立即執行飄降返場。
 - (C) 判斷無人飛機高度無法提供足夠飄降距離，立即執行場外迫降。
 - (D) 雖然無人飛機高度無法提供足夠飄降距離，因為操作人信心滿滿、技藝超群，仍執行飄降返場。
36. 持續性的急性壓力可能發展成下列哪種狀況？ 正確解答：
(C)
- (A) 不定期的過度換氣壓力。
 - (B) 不定期的疲勞壓力。
 - (C) 長期的慢性壓力。
 - (D) 不定期的酒精壓力。

37. 過度換氣若無法善加控制，可能讓遙控無人機操作人進入下列哪個狀態？

- (A) 神經緊張。
- (B) 意識不清。
- (C) 心情鬱悶。
- (D) 懷疑心重。

正確解答：
(B)

38. 疲勞是一種身心耗弱狀態，乃是長期處在高度壓力之下的下列哪種反應？

- (A) 直覺反應。
- (B) 生理或心理反應。
- (C) 情緒反應。
- (D) 鬱悶反應。

正確解答：
(B)

39. A、B 兩架無人機在同一區域執行任務，A 機操作人接到一通重要電話，於是商請 B 機操作人暫時同時幫忙操作 A 機，請問操作人對該要求應有下列哪一項認知？

- (A) 拒絕該要求。
- (B) 視當時的天氣狀況而定，如果天氣狀況良好就同意該要求，否則就拒絕該要求。
- (C) 視該電話的重要性而定，如果該電話真的很重要就同意該要求，否則就拒絕該要求。
- (D) 視 A 機的油量而定，如果油量充足就同意該要求，否則就拒絕該要求。

正確解答：
(A)

40. 壓力基本上可以分做下列哪兩大類？

- (A) 急性及慢性。
- (B) 經濟性及社會性。
- (C) 個人性及團體性。
- (D) 有害性及無害性。

正確解答：
(A)

6.6.5 專業操作證模擬試題(試卷 2)

◆ 民用航空法及相關法規

1. 某合格無人機業務團隊受委託以遙控無人機執行山區電纜線路查檢工作。惟因路況不佳，該團隊無法抵達預訂工作區域，為不影響任務進行，成員臨時決定仍將無人機飛至工作區，並以望遠鏡保持與其間之視線接觸。請問該團隊之決定是否違反無人機相關規範？

- (A) 並無違反遙控無人機相關規範。
- (B) 已違反遙控無人機相關規範。
- (C) 有無違反規範視任務執行結果而定。
- (D) 資訊不足，無法判斷。

正確解答：
(B)

2. 無人機團隊自行設計並組裝一架無人機，以因應越趨多元之任務型態，因某次任務時程緊迫，團隊雖然知道該無人機尚未通過檢驗核可，仍決議先進行任務使用，等任務結束後再趕緊完成檢驗程序。請問有關該團隊之決議，下列敘述何整正確？

- (A) 只要於任務前先以口頭知會民航局，並於任務後儘快送檢即可。
- (B) 只要於任務後以口頭知會民航局，並儘快送檢即可。
- (C) 未經向民航局申請檢驗取得檢驗合格證者，不得從事飛航活動。
- (D) 於任務前先以口頭知會民航局，並由民航局決定是否准予先執行任務，後續再完成檢驗程序。

正確解答：
(C)

3. 遙控無人機所有人或操作人違反「禁航區、限航區及航空站或飛行場四周之一定距離範圍內從事飛航活動」之相關規定者，民航局除廢止其操作證並得沒入遙控無人機外，另處多少新臺幣之罰鍰？

- (A) 3 萬元以上 18 萬元以下。
- (B) 5 萬元以上 28 萬元以下。
- (C) 10 萬元以上 48 萬元以下。
- (D) 30 萬元以上 150 萬元以下。

正確解答：
(D)

4. 遙控無人機管理規則針對「延伸視距飛航」之定義，下列何者為非？ 正確解答：
(D)
- (A) 操作人須於視距外操作。
 - (B) 目視觀察員須距操作人半徑三百公尺範圍內。
 - (C) 操作人應自目視觀察員獲取必要飛航資訊。
 - (D) 目視觀察員不須與遙控無人機保持直接目視接觸。
5. 遙控無人機發生滅失情形者，其所有人申請註銷註冊之程序為何？ 正確解答：
(A)
- (A) 事實發生日起 15 日內向民航局申請。
 - (B) 事實發生日起 20 日內向民航局申請。
 - (C) 事實發生日起 15 日內向所在地方政府申請。
 - (D) 事實發生日起 20 日內向所在地方政府申請。
6. 某無人機團隊獲准於機場跑道上空測試某項酬載功能，有人建議飛得越高越能展現測試成果，請問操作人對於該建議應有哪項認知？ 正確解答：
(B)
- (A) 活動既經核准，即無飛航高度限制，想飛多高就多高。
 - (B) 飛航高度未經核准，仍應遵守距地表面不得逾 400 呎之規定。
 - (C) 飛航高度聽從現場指揮人員視任務執行狀況決定。
 - (D) 飛航高度視能見度好壞決定。
7. 某雜誌社委託無人機團隊利用無人機執行一項具有相當危險性之飛航任務，負責人並保證：「於執行任務過程中若發生任何事件，導致人員死傷或財物毀損，均由雜誌社全權負責，請團隊安心進行任務。」請問有關該負責人之保證，下列敘述何者正確？ 正確解答：
(D)
- (A) 雜誌社要能提供書面保證及繳交足額保證金，使得作為團隊免責之依據。
 - (B) 只要不是故意造成人員死傷或財物毀損，任一方均不須負賠償責任。
 - (C) 只要活動經申請核准執行，且已作有必要防護措施者，任一方均不須負賠償責任。
 - (D) 操作無人機造成人員死傷或財物毀損，不論故意或過失，應由所有人及操作人負連帶賠償責任。

8. 外國人領有外國政府對於所持有遙控無人機之註冊、操作證及檢驗合格等證明文件者，必須向哪個單位申請認可後，於遵守我國相關法令下從事遙控無人機活動？
- (A) 外交部。
(B) 駐外單位。
(C) 民航局。
(D) 科技部。
- 正確解答：
(C)
9. 針對違反規範之遙控無人機操作人及所有人所處以罰鍰額度，係衡量何種因素而定？
- (A) 公眾利益及安全財產危害程度。
(B) 政府稅收及國家經濟指數。
(C) 國力強弱及世界局勢。
(D) 教育程度及人民素質等。
- 正確解答：
(A)
10. 政府機關（構）、學校或法人於涉及軍事航空管理機關（構）管理之禁、限航區及航空站或飛行場四周一定距離範圍內從事遙控無人機飛行活動者，應於活動日前多久提出申請？
- (A) 30 日前。
(B) 20 日前。
(C) 15 日前。
(D) 10 日前。
- 正確解答：
(A)
11. 法規規定最大起飛重量達多少以上且裝置導航設備之遙控無人機，應具備防止其進入禁、限航區及航空站或飛行場四周一定距離範圍內之圖資軟體系統？
- (A) 250 公克以上。
(B) 1 公斤以上。
(C) 2 公斤以上。
(D) 15 公斤以上。
- 正確解答：
(B)

12. 操作人僅透過遙控無人機即時傳輸圖像功能，是否即足以監控鏡頭外之周遭狀況？

- (A) 否。
- (B) 是。
- (C) 視傳輸圖像清晰度而定。
- (D) 視天氣狀況而定。

正確解答：
(A)

13. 某電影拍攝作業因取景需求，導演指示團隊將無人機飛入民用航空法所規範之限航區內執行空拍任務，請問下列敘述何者正確？

- (A) 只要在限航區內不要待太久，趕緊拍攝完畢就好。
- (B) 非經核准，限航區內不得從事遙控無人機飛航活動。
- (C) 若限航區位處人煙罕至處，飛進去拍攝無妨。
- (D) 只要有助手協助觀察限航區內狀況，即可飛入拍攝。

正確解答：
(B)

14. 最大起飛重量未達 25 公斤且裝置導航設備之遙控無人機，其最大飛行速度不得超過多少？

- (A) 70 海里/小時。
- (B) 87 海里/小時。
- (C) 100 海里/小時。
- (D) 150 海里/小時。

正確解答：
(B)

◆ 基礎飛行原理

15. 若無外力的影響，靜止的物體會保持靜止，行進的物體會保持直線運動，這就是下列哪個定律？

- (A) 牛頓第二定律又稱「加速度定律」。
- (B) 牛頓第三定律。
- (C) 牛頓第一定律又稱「慣性定律」。
- (D) 以上皆非。

正確解答：
(C)

16. 遙控無人機系統之飛行載具，包括下列哪些項目？

- (A) 機體、負載設備及酬載。
- (B) 機體、燃料或電池。
- (C) 機體、燃料或電池、負載設備及酬載。
- (D) 機體、燃料或電池、負載設備及酬載、遙控設備。

正確解答：
(C)

17. 無人機正以空速保持 (40 kts) 及姿態保持在往東飛行，無人機經緯度為 E 121°10'00"，N 22°20'30"，此時為靜風，無人機要飛到 E 121°30'00"，N 22°20'30"執行任務，請問無人機還要約多少時間才會抵達？

- (A) 10 分鐘。
- (B) 20 分鐘。
- (C) 30 分鐘。
- (D) 40 分鐘。

正確解答：
(C)

18. 使用於高速無人機上，推重比高但壽命短的動力裝置是下列哪種發動機？

- (A) 渦輪發動機。
- (B) 無刷電動馬達。
- (C) 渦輪螺旋槳發動機。
- (D) 往復式 (活塞) 發動機。

正確解答：
(A)

19. 在作飛行規畫或操作無人機時，操作人手上有多項重量和平衡的資訊，依日期先後排列，包括 a. 2016/8/15 (無人機出廠時)，b. 2016/10/18，c. 2016/12/27，d. 2017/2/8，e. 2017/6/19 (無人機上次飛行時)，f. 2017/9/20，操作人應使用下列哪一項？

- (A) 2017/9/20 重量和平衡的資訊。
- (B) 2016/8/15 (無人機出廠時) 重量和平衡資訊。
- (C) 2017/6/19 (無人機上次飛行時) 重量和平衡資訊。
- (D) 任一項的重量和平衡資訊。

正確解答：
(A)

20. 遙控無人機自主 (慣性導航) 導航系統有下列哪個缺點？
- (A) 操作困難。
(B) 易受干擾。
(C) 誤差積累增大。
(D) 以上皆是。
- 正確解答：
(C)
21. 所謂航空器，係指任何藉空氣之下列哪種力，得以飛航於大氣中之器物？
- (A) 摩擦力。
(B) 靜電力。
(C) 反作用力。
(D) 以上皆是。
- 正確解答：
(C)
22. 超過臨界攻角後，再增大攻角，會有下列哪種結果？
- (A) 升力反而減小，阻力急劇增大。
(B) 升力持續增大，阻力急劇減小。
(C) 升力、阻力持續增大。
(D) 升力、阻力急劇減小。
- 正確解答：
(A)
23. 請問下列哪一種情況，可以視為上傳鏈路失效？
- (A) 操作人無法目視到無人機。
(B) 無人機不執行地面控制站上傳的控制命令。
(C) 操作人與塔台間的通訊斷訊。
(D) 無人機無法將自身狀態 (速度、高度、位置、設備狀態等) 以及相關任務數據發回地面控制站。
- 正確解答：
(B)
24. 頻段 2.4GHz 主要為下列哪種鏈路實現對遙控無人機控制？
- (A) 下行鏈路。
(B) 上行控制鏈路。
(C) 加密鏈路。
(D) 以上皆是。
- 正確解答：
(B)

25. 下列哪些理論可以說明一個重於空氣的航空器如何產生升力飛行於空中？
- 正確解答：
(A)
- (A) 流體的連續性和柏努利定律。
 - (B) 氣候學和大氣化學。
 - (C) 大氣動力學和大氣物理學。
 - (D) 材料力學和運動學。
26. 隨著機載感測器精度和任務複雜度的上升，機載處理器的下列哪項需求也將隨之提高？
- 正確解答：
(A)
- (A) 運算需求。
 - (B) 保密需求。
 - (C) 抗干擾需求。
 - (D) 重量需求。
27. 假設無人飛機最大起飛重量 102 磅，重心範圍（參考面在機鼻）25~27 英吋。某次飛行前稱重，空重（含燃油）50 磅、力臂 20 英吋，前艙酬載 20 磅、力臂 10 英吋，後艙酬載 30 磅、力臂 40 英吋，總重 100 磅，重心 24 英吋，請問操作人應採取下列哪一項動作？
- 正確解答：
(B)
- (A) 前艙酬載往前移動 2.6 英吋。
 - (B) 後艙酬載往後移動 3.4 英吋。
 - (C) 後艙酬載配重增加 2.5 磅。
 - (D) 前艙酬載配重增加 1.2 磅。
28. 遙控無人機控制鏈路為保密與抗干擾基本上已全面採行下列哪種方式？
- 正確解答：
(C)
- (A) 類比化。
 - (B) 模組化。
 - (C) 數位化。
 - (D) 離散化。

◆ 氣象

29. 於標準大氣壓力環境下，無人機正於機場(位於水平面)跑道頭準備起飛，此時高度表指示高度(壓力高度)為 200 英尺，為使無人機壓力高度與機場跑道高度一致，請問操作人應採取下列哪一項動作？

- (A) 壓力高度修正為 29.72 英尺汞柱高。
- (B) 壓力高度修正為 27.92 英尺汞柱高。
- (C) 壓力高度修正為 29.52 英尺汞柱高。
- (D) 壓力高度修正為 25.92 英尺汞柱高。

正確解答：
(A)

30. 當空氣中分子較少且稀薄，表示其密度高度為何？

- (A) 越高。
- (B) 越低。
- (C) 可能高也可能低。
- (D) 無法判斷。

正確解答：
(A)

31. 對流層裡，溫度及壓力均隨高度增加而有下列何種變化？

- (A) 降低。
- (B) 增加。
- (C) 不變。
- (D) 有時增加有時降低。

正確解答：
(A)

32. 氣象資料顯示某區域之氣壓值有向上提升之趨勢，代表該區域天氣狀況有何種變化？

- (A) 天氣轉壞。
- (B) 天氣可能轉好也可能轉壞。
- (C) 天氣好轉。
- (D) 以上皆非。

正確解答：
(C)

33. 相同體積下，在低壓力狀態的氣體，其特徵為？

- (A) 質量較高。
- (B) 密度較低。
- (C) 質量密度均高。
- (D) 無法判斷。

正確解答：
(B)

34. 於一定體積下，空氣之溫度與密度成何項關？

- (A) 溫度與密度成正比。
- (B) 溫度與密度成反比。
- (C) 溫度與密度的平方成正比。
- (D) 溫度與密度的平方成反比。

正確解答：
(B)

◆ 緊急處置與飛行決策

35. 為避免脫水，遙控無人機操作人應隨時掌握己身之生理狀況，並採取下列哪個動作？

- (A) 隨時閱讀。
- (B) 適時補充水分。
- (C) 適時上廁所。
- (D) 隨時聽音樂。

正確解答：
(B)

36. 操作人執行遙控無人機操作時，下列哪種心態干擾會降低飛行決策的品質？

- (A) 反威權、衝動及僥倖。
- (B) 衝動、僥倖及服從。
- (C) 英雄主義及積極順應。
- (D) 以上皆是。

正確解答：
(A)

37. 急性的壓力包括下列哪種狀況，可能觸發抵抗或逃避的反應？

正確解答：

- (A) 可能潛在的威脅。
- (B) 立即的威脅 (如危險、緊急情境) 。
- (C) 想像的威脅。
- (D) 未來的威脅。

(B)

38. 過度換氣的改善方法是下列哪種方式？

正確解答：

- (A) 多閱讀、多聽音樂。
- (B) 適當的飲食。
- (C) 血液裡的二氧化碳濃度恢復到正常狀態。
- (D) 擴展社交範圍。

(C)

39. 在有限的時間壓力下，未經充分蒐集、分析利弊、僅憑直覺或經驗即執行的過程稱為下列哪種方式？

正確解答：

- (A) 工程決斷。
- (B) 反射抉擇。
- (C) 自動決策。
- (D) 兩難情境。

(C)

40. 無人機在溫暖天氣低空飛行時常會有對流的氣流造成上下起伏的亂流空氣，請問操作人應採取下列哪一項動作來避免這些亂流情？

正確解答：

- (A) 維持穩定速度飛行；視情況爬升高度。
- (B) 增加空速，衝過亂流區域。
- (C) 展現優異的無人機操作技巧，不必在乎亂流空氣。
- (D) 降低飛行高度，消除亂流空氣的影響。

(A)

6.6.6 專業操作證模擬試題(試卷 3)

◆ 民用航空法及相關法規

1. 遙控無人機飛航活動對於其他航空器活動、地面人群及建築物所帶來之影響顯而易見，請問就操作人而言，應有下列哪項正確觀念？

正確解答：
(B)

- (A) 反正其他目標物均很明顯，發現時再緊急避讓即可。
- (B) 應於可操作區域進行飛航，遵守相關規定，隨時注意並防止無人機接近任何其他目標物。
- (C) 只要於可操作區域內飛航，無人機是否接近其他目標物非操作者的責任。
- (D) 進行無人機飛航活動時，若有目視觀察員在側，由目視觀察員全權負責無人機與其他目標物之隔離工作。

2. 無人機團隊正在作飛行前準備，臨時被告知因緊急狀況，無人機於飛航時必須裝載由民航局公告之危險物品，請問操作人該有下列哪項正確認知？

正確解答：
(B)

- (A) 僅要能確保無人機飛航時之平衡及控制穩定，即同意該要求，否則拒絕該要求。
- (B) 未經核准前，依規定不得以無人機裝載危險物品，應直接拒絕該要求。
- (C) 如該危險物品之包裝完好且易固定，即同意該要求，否則就拒絕該要求。
- (D) 因為緊急狀況，應無條件同意該要求。

3. 中央主管機關認有禁止或限制遙控無人機飛航活動需求者，得提請所在地哪個機關進行公告？

正確解答：
(B)

- (A) 鄉鎮區公所。
- (B) 直轄市、縣(市)政府。
- (C) 地方派出所。
- (D) 地方農會。

4. 政府機關（構）、學校或法人於直轄市、縣（市）政府公告之禁止、限制區域內從事遙控無人機飛航活動時，如有跨縣市飛航情形，應向哪個機關提出申請？

- (A) 飛經之直轄市、縣（市）政府。
- (B) 起飛地點所在直轄市、縣（市）政府提出申請，經所在地及跨縣市政府同意。
- (C) 降落地點所在直轄市、縣（市）政府。
- (D) 降落地點所鄰近直轄市、縣（市）政府。

正確解答：
(B)

5. 政府機關（構）、學校或法人欲於禁、限航區及航空站或飛行場四周一定距離範圍內從事遙控無人機飛航活動者，應於活動日前多久提出申請？

- (A) 15 日前。
- (B) 10 日前。
- (C) 5 日前。
- (D) 3 日前。

正確解答：
(A)

6. 王大華從某購物商場購買一台最大起飛重量 950 公克的無人多旋翼機，欲作為假日出遊紀錄小孩玩樂過程的利器，有關王大華應注意事項，下列哪項正確？

- (A) 王大華不須為該台無人多旋翼機辦理註冊。
- (B) 王大華須取得高級專業操作證後，才能操作該台無人多旋翼機。
- (C) 王大華不得任意於機場周邊進行飛航操作。
- (D) 王大華須為該台無人多旋翼機辦理實體檢驗。

正確解答：
(C)

7. 某無人機團隊所有之一架無人機，於一次任務中因動力失效而墜落地面，機身經檢視受損嚴重，並經評估恐難以再修復使用。請問團隊針對該無人機應有之後續處置作為，下列敘述何者正確？

- (A) 該無人機既已損毀，直接丟棄即可，惟應保留其註冊號碼及檢驗合格證。
- (B) 再購買一架新無人機，並得直接使用原損壞無人機之註冊號碼，惟不能使用其檢驗合格證。
- (C) 再購買一架新無人機，並得直接使用原損壞無人機之檢驗合格證，惟不能使用其註冊號碼。
- (D) 所有人應於事實發生日起 15 日內向民航局申請註銷註冊。其註冊號碼及檢驗合格證均不得使用於其他無人機。

正確解答：
(D)

8. 遙控無人機管理規則如何定義「延伸視距最大範圍」？

- (A) 以遙控無人機操作人為中心，半徑 900 公尺、相對地面或水面高度低於 400 呎內之區域。
- (B) 以遙控無人機操作人為中心，半徑 600 公尺、相對地面或水面高度低於 300 呎內之區域。
- (C) 以遙控無人機操作人為中心，半徑 500 公尺、相對地面或水面高度低於 200 呎內之區域。
- (D) 以遙控無人機操作人為中心，半徑 1,200 公尺、相對地面或水面高度低於 200 呎內之區域。

正確解答：
(A)

9. 操作人於遵守相關規範下從事屬休閒娛樂性質之遙控無人機活動，其活動風險以何種管理方式為主？

- (A) 財政管理。
- (B) 自我管理。
- (C) 衛生管理。
- (D) 健康管理。

正確解答：
(B)

10. 遙控無人機註冊號碼之有效期限為幾年？

- (A) 1 年。
- (B) 2 年。
- (C) 3 年。
- (D) 4 年。

正確解答：
(B)

11. 持有普通操作證之自然人，依規定得操作下列哪個重量級距之遙控無人機？

- (A) 15 公斤以上之遙控無人機。
- (B) 25 公斤以上之遙控無人機。
- (C) 未達 15 公斤且裝置導航設備之遙控無人機。
- (D) 30 公斤以上之遙控無人機。

正確解答：
(C)

12. 操作人操作遙控無人機時，血液中酒精濃度依法不得超過多少？

- (A) 0.01%。
- (B) 0.02%。
- (C) 0.04%。
- (D) 0.06%。

正確解答：
(B)

13. 航空站或飛行場四周之一定距離範圍係由哪個機關進行公告？

- (A) 民航局。
- (B) 衛福部。
- (C) 內政部。
- (D) 文化部。

正確解答：
(A)

14. 有關遙控無人機飛航活動，下列敘述何者正確？

- (A) 未經許可不得飛航於禁航區。
- (B) 可任意飛航於限航區。
- (C) 航空站四周之一定距離範圍內飛航無相關規定。
- (D) 以上皆是。

正確解答：
(A)

◆ 基礎飛行原理

15. 無人機正在平直飛行時，因任務需要必須快速增加高度，請問操作人應採取下列哪一項動作？ 正確解答：
(D)
- (A) 將動力加到最大，攻角越大越好，以得到最大爬升率。
 - (B) 保持動力，快速增大攻角，注意不超過臨界攻角。
 - (C) 將動力加到最大，以最佳爬升角空速執行爬升，在一定距離產生最大高度增加。
 - (D) 將動力加到最大，以最佳爬升率空速執行爬升，注意不超過臨界攻角。
16. 飛機等速直線飛行時，縱軸(X 軸)方向阻力與推力大小相同方向相反，所以有下列哪種情況？ 正確解答：
(C)
- (A) 橫軸(Y 軸)方向合力為零，飛機無升降起伏。
 - (B) 垂直軸(Z 軸)方向合力為零，飛機無偏航的姿態。
 - (C) 縱軸(X 軸)方向合力為零，飛機速度不變。
 - (D) 以上皆是。
17. 遙控無人機比空氣重，無法只藉由空氣的浮力而上升，需要相對應的下列哪個項目在空中飛行？ 正確解答：
(A)
- (A) 能量。
 - (B) 機身外表顏色。
 - (C) 起落架材質。
 - (D) 以上皆是。
18. 航空器利用噴射推力或是螺旋槳的拉力，使航空器產生下列哪種力而在空中飛行？ 正確解答：
(B)
- (A) 內力。
 - (B) 升力。
 - (C) 彈力。
 - (D) 以上皆是。

19. 遙控無人飛機缺點是需要有下列哪個項目供起降之用？

- (A) 相當的跑道高度。
- (B) 相當的跑道溫度。
- (C) 相當的跑道長度。
- (D) 以上皆是。

正確解答：
(C)

20. 一般螺旋槳攻角最大的位置在槳葉的下列哪個位置？

- (A) 槳葉根部。
- (B) 槳葉葉尖。
- (C) 槳葉中尖。
- (D) 以上皆是。

正確解答：
(A)

21. 遙控無人機的圖傳主要資料傳輸形態有下列哪幾種方式？

- (A) 高速、寬頻。
- (B) 類比、數位。
- (C) 單工、衛星。
- (D) 雙工、衛星。

正確解答：
(B)

22. 操作無人飛機時，當升降舵控制往上，相對於「機體中心」作下列哪種動作？

- (A) 向下俯仰。
- (B) 向上俯仰。
- (C) 右滾。
- (D) 左滾。

正確解答：
(B)

23. 無人多旋翼機同時減少或增加斜對角兩對旋翼轉速與升力，來實現下列哪種姿態？

- (A) 垂直的升降姿態。
- (B) 俯仰的姿態。
- (C) 偏航的姿態。
- (D) 滾轉的姿態。

正確解答：
(C)

24. 無人飛機重心位置靠前時，低速飛行時，為了穩定較強的俯仰姿態，可能會有下列哪種情形導致提高不穩定進場的風險？
正確解答：
(A)
- (A) 配平可能不足。
(B) 配平可能過大。
(C) 滾轉可能不足。
(D) 滾轉可能過大。
25. 高空或長滯空的大型無人機的動力裝置，使用下列哪種發動機？
正確解答：
(C)
- (A) 渦輪發動機。
(B) 無刷電動馬達。
(C) 渦輪風扇或渦輪螺旋槳發動機。
(D) 往復式（活塞）發動機。
26. 尾翼的作用是操縱無人飛機的下列哪些動作？
正確解答：
(C)
- (A) 俯仰和滾轉。
(B) 滾轉和偏航。
(C) 俯仰和偏航。
(D) 以上皆非。
27. 牛頓第二定律說明加速度與物體的質量為下列哪種關係？
正確解答：
(A)
- (A) 成反比。
(B) 成正比。
(C) 沒有關係。
(D) 以上皆非。
28. 請問上傳鏈路失效通常是下列哪一種原因？
正確解答：
(D)
- (A) GPS 失效。
(B) 地面控制站天線附近站了太多人。
(C) 無人機飛出操作人目視範圍以外。
(D) 頻率干擾。

◆ 氣象

29. 無人機正往南的方向飛行前往任務目標區，根據氣象資料顯示，飛行航線上吹著穩定而強勁之北風，其區域及鄰近並無明顯障礙物，請問下列所述狀況何者為操作人較無須擔心事項？
- 正確解答：
(C)
- (A) 強風所持續之時間。
 - (B) 風速是否超出無人機飛航性能限制。
 - (C) 是否受到側風過大而影響飛航操作。
 - (D) 是否因於強風中飛行而消耗更多動力來源，進而降低續航力。
30. 當氣團行經水面和陸地，最終將與另一不同特性的氣團接觸。此兩種不同類型的氣團的邊界層稱為鋒面。請問操作人最容易辨認下列哪一種鋒面中的不連續現象？
- 正確解答：
(C)
- (A) 雲層的增加。
 - (B) 相對濕度的增加。
 - (C) 溫度的變化。
 - (D) 能見度的變化。
31. 當無人機須穿越鋒面進行飛航任務時，操作人應特別注意下列哪一種天氣現象之變化？
- 正確解答：
(B)
- (A) 降水型態之改變。
 - (B) 風向之改變。
 - (C) 氣團穩定性之改變。
 - (D) 相對濕度之改變。
32. 航空氣象裡的機場觀測項目中，觀測人員就機場現時觀測之結果，原則上在下列哪個時間間隔編報「航空例行天氣報告 (METAR)」？
- 正確解答：
(B)
- (A) 每 5 分鐘或 10 分鐘。
 - (B) 每 30 分鐘或 60 分鐘。
 - (C) 每 6 小時或 12 小時。
 - (D) 每 24 小時或 36 小時。

33. 標準一大氣壓的 29.92 吋汞柱換算成毫巴值為下列哪個數值？

- (A) 10.132。
- (B) 101.32。
- (C) 1013.2。
- (D) 10132。

正確解答：
(C)

34. 平流輻射霧好發生於下列哪種季節地點？

- (A) 春末夏初台灣東部地區。
- (B) 夏末秋初台灣北部地區。
- (C) 冬末春初台灣西部地區。
- (D) 秋末冬初台灣南部地區。

正確解答：
(C)

◆ 緊急處置與飛行決策

35. 最大起飛重量二公斤以上且裝置導航裝置之遙控無人機於執行任務途中，因天氣變壞、能見度變差，最後導致無人機失控墜毀於空曠無人區域，未造成人員死傷或財物毀損，請問操作人對該無人機墜毀事件應有下列哪一項認知？

- (A) 雖然未造成人員死傷或財物毀損，仍應將無人機殘骸撿拾乾淨再回程，而且不要跟任何單位通報，以免造成自己困擾。
- (B) 應在墜毀現場檢討失事原因，檢視殘骸狀況，勿破壞現場，通報當地警察局處理。
- (C) 無人機因天氣等不可抗力因素而失控墜毀，只要未造成人員死傷或財物毀損，就不必做任何善後處理或通報任何單位。
- (D) 事件發生後，無人機所有人或操作人應將事件經過通報民航局。

正確解答：
(D)

36. 當遙控無人機發生異常或緊急事件時，應先穩定操作，掌握無人機位置及高度，再採取下列哪個動作？
- 正確解答：
(C)
- (A) 通報有關機關。
 - (B) 依檢查表，啟動或關閉相關裝備。
 - (C) 尋找最佳的緊急落地處。
 - (D) 以上皆是。
37. 無人飛機頂風起飛離地後引擎失效，請問操作人對該狀況應有下列哪一項認知？
- 正確解答：
(A)
- (A) 立即確立適當的無人飛機飄降姿態，並直線往前或稍微偏離起飛路徑作降落。
 - (B) 立即以大角度轉彎將無人飛機轉回本場作降落。
 - (C) 立即反映無人飛機團隊，請大家集思廣益，提出對策。
 - (D) 立即查閱無人飛機飛行手冊/操作人操作手冊所規定的程序，再作緊急處置。
38. 無人機準備下午 3 點以後執行任務，為了避免視線干擾應慎選控制站方位，請問操作人應選擇下列哪一種操作方位？
- 正確解答：
(B)
- (A) 操作方位面向西方。
 - (B) 操作方位面向東方。
 - (C) 任一種操作方位都可以，不必擔心視線干擾。
 - (D) 操作方位應面對操作範圍內任何反光物體。
39. 操作人於操作前，可利用下列哪方法的自我檢測方法，來瞭解己身的身心狀態？
- 正確解答：
(A)
- (A) IMSAFE。
 - (B) 簡易 ABC。
 - (C) PAVE。
 - (D) 以上皆是。

40. 無人機正在機場的南方空域飛行時，航管通知有飛機準備從 06 跑道進場，要求無人機必須避開進場航線，請問操作人應採取下列哪一項動作？

- (A) 避開目前飛行空域的西方和北方。
- (B) 避開目前飛行空域的東方和北方。
- (C) 避開目前飛行空域的西方和南方。
- (D) 避開目前飛行空域的東方和南方。

正確解答：
(A)

6.6.7 專業操作證模擬試題(試卷 4)

◆ 民用航空法及相關法規

1. 針對專業操作證之敘述，下列何者正確？

- (A) 分為初、中、高等 3 級。
- (B) 持有者僅須通過學科測驗。
- (C) 持有者得執行獲核准之法人委託業務。
- (D) 持有者無須經過體格檢查。

正確解答：
(C)

2. 當災害發生時，欲於各級政府依災害防救法劃定之警戒區域或指定區域內從事遙控無人機飛航活動者，應聽從何者之統一指揮調度？

- (A) 民航局局長。
- (B) 當地警察局局長。
- (C) 當地消防局局長。
- (D) 各級政府災害應變中心指揮官。

正確解答：
(D)

3. 有關外國人領有外國政府所核發遙控無人機相關證照者，應向民航局申請認可後使得於本區從事遙控無人機飛航活動之規定，是否亦適用於領有外國政府核發證照之本國人？

- (A) 是，本國人亦適用。
- (B) 否，本國人不適用。
- (C) 視活動時間決定適用與否。
- (D) 視活動性質決定適用與否。

正確解答：
(B)

4. 政府機關（構）、學校或法人依法應保存遙控無人機之註冊號碼、活動日期、活動區域、飛航時間、飛航性質、操作人員姓名、維護或修理、改裝等紀錄，並應保存多久？

- (A) 1 年。
- (B) 2 年。
- (C) 3 年。
- (D) 5 年。

正確解答：
(B)

5. 國內某無人機團隊有名外籍成員，雖領有該國政府所核發之合格無人機操作證，惟尚未獲得本國民航局認可。針對該名外籍成員欲參與團隊於本國境內之無人機飛航活動之敘述，下列何者正確？

- (A) 該員已領有外國政府核發證照，理當可於本國境內從事飛航活動。
- (B) 如該員已具備無人機操作經歷滿3年以上，即可直接於本國境內從事飛航活動。
- (C) 該員必須獲得本國民航局認可，使得於本國境內從事飛航活動。
- (D) 只要無人機團隊有人願簽切結書擔保活動之安全，該員即可於本國境內從事飛航活動。

正確解答：
(C)

6. 某公司因業務需求所購入之一批無人機剛完成向民航局申請之註冊程序，請問該公司對於註冊號碼之標註規定所應有認知，下列何者為非？

- (A) 註冊號碼標註位置須能清楚辨識。
- (B) 註冊號碼得以噴漆方式標註。
- (C) 須確保註冊號碼不會於每次飛航活動中脫落。
- (D) 無人機之移動結構外部最適合作為註冊號碼標註之處。

正確解答：
(D)

7. 某區域發生強烈地震，造成人員傷亡及財產損害嚴重，某新聞機構要求無人機團隊不待申請，立即趕赴當地執行空拍任務，以便進行獨家即時新聞報導，請問該團隊應有何種正確認知？

- (A) 緊急情況時，應遵守災害防救法之規定，統一聽從政府災害應變中心指揮及調度，不可擅自進行拍攝。
- (B) 因屬災害危難事件、人命關天，應不顧一切答應其要求，並立即前往進行拍攝。
- (C) 只要取得欲拍攝區域之里長口頭同意後，即可進行拍攝任務。
- (D) 只要取得欲拍攝區域之消防主管機關口頭同意後，即可進行拍攝任務。

正確解答：
(A)

8. 某無人機團隊已獲得民航局安全能力審查核可，得於人群聚集處進行空拍任務。於某次任務執行前，團隊依規定向民航局申請活動許可，惟對於是否應向當地地方政府申請一事意見相左，請問下列敘述何者正確？

正確解答：
(C)

- (A) 法律為民航局訂定的，當然只要向民航局申請即可。
- (B) 一般而言，經民航局核准後，地方政府通常不會有意見，故不須再做申請。
- (C) 除獲民航局許可外，仍應取得地方政府之同意，故還是得做申請。
- (D) 是否要向地方政府申請，依執行任務之危險度或複雜度而定。

9. 最大起飛重量 25 公斤以上之遙控無人機，為確保其符合設計、製造、改裝之性能諸元，應由何者提出實體檢驗申請？

正確解答：
(B)

- (A) 操作人。
- (B) 所有人。
- (C) 設計者。
- (D) 製造者。

10. 有關遙控無人機製造者與進口者申請產品資訊登錄時機，下列敘述何者正確？

正確解答：
(A)

- (A) 販售或進口前。
- (B) 販售或進口時。
- (C) 販售或進口後。
- (D) 以上皆可。

11. 自然人欲以遙控無人機從事休閒娛樂用途，下列有關考照需求敘述何者正確？

正確解答：
(B)

- (A) 操作 10 公斤且裝置導航設備之遙控無人機不需考照。
- (B) 操作未達 2 公斤之遙控無人機不須考照。
- (C) 操作 15 公斤以上之遙控無人機僅需通過學科測驗。
- (D) 操作未達 2 公斤之遙控無人機須通過學科測驗。

12. 當發生遙控無人機飛航安全相關事件時，民航局針對操作人可採取哪項措施？

正確解答：
(A)

- (A) 得逕為暫停其操作或飛航活動。
- (B) 經操作人同意後，得暫停其操作或飛航活動。
- (C) 經所在地方政府同意後，得暫停其操作或飛航活動。
- (D) 需待調查結束後並經操作人同意，使得暫停其操作或飛航活動。

13. 遙控無人機實體檢驗合格證之有效期限為幾年？

正確解答：
(C)

- (A) 1 年。
- (B) 2 年。
- (C) 3 年。
- (D) 4 年。

14. 持有普通操作證及專業操作證對於可操控之遙控無人機重量界線為何？

正確解答：
(C)

- (A) 1 公斤。
- (B) 2 公斤。
- (C) 15 公斤。
- (D) 25 公斤。

◆ 基礎飛行原理

15. 隨著渦輪發動機推重比、壽命不斷提高、油耗降低，未來渦輪發動機可能取代下列哪種發動機成為 25 公斤至 150 公斤級的無人機之主要動力？

正確解答：
(D)

- (A) 無刷電動馬達。
- (B) 渦輪風扇發動機。
- (C) 渦輪螺旋槳發動機。
- (D) 活塞發動機。

16. 透過旋翼槳葉產生升力，同時也能產生推力的遙控無人機，是下列哪種遙控無人機？

- (A) 遙控無人直昇機。
- (B) 遙控無人飛機。
- (C) 遙控無人多旋翼機。
- (D) 以上皆是。

正確解答：
(A)

17. 連續性定理闡述了流體在流動中，下列哪些項目之間的關係？

- (A) 流速和管道切面。
- (B) 流速和溫度。
- (C) 管道切面和溫度。
- (D) 溫度和壓力。

正確解答：
(A)

18. 柏努利定律中提到，如果流體的速度越快，流體中的壓力就會有下列哪種現象？

- (A) 越小。
- (B) 越大。
- (C) 不變。
- (D) 有時越小有時越大。

正確解答：
(A)

19. 慣性導航系統 (Inertial Navigation System , INS) 是一種不依賴於外部資訊、也不向外部輻射能量 (如無線電導航那樣) 的自主式導航系統。慣性導航的基本工作原理是下列哪一項？

- (A) 以天體力學定律為基礎，以星座獲得位置，經幾何運算得到速度、加速度等資訊。
- (B) 以幾何力學定律為基礎，以磁場獲得位置，經三角運算得到速度、加速度等資訊。
- (C) 以牛頓力學定律為基礎，以 GPS 獲得位置，微分得到速度，再微分得到加速度等資訊。
- (D) 以牛頓力學定律為基礎，以加速度計獲得加速度，積分得到速度，再積分得到位置等資訊。

正確解答：
(D)

20. 下列何者為遙控無人機運作之核心，主要執行起飛、航行、返場降落及回收等動作？
- (A) 導航系統。
(B) 動力系統。
(C) 飛行控制系統。
(D) 無線遙控系統。
- 正確解答：
(C)
21. 當無人直昇機的發動機讓主旋翼以逆時針方向旋轉時，無人直昇機本身將以下列哪個方向旋轉？
- (A) 以順時針方向旋轉。
(B) 以逆時針方向旋轉。
(C) 先以順時針方向旋轉，再以逆時針方向旋轉。
(D) 先以逆時針方向旋轉，再以順時針方向旋轉。
- 正確解答：
(A)
22. 無人直昇機「從地面到正常起飛」，係指使用下列哪個動作，將直昇機從地面移動到有效轉換升力及正常爬升？
- (A) 最小的所需動力。
(B) 最大的所需動力。
(C) 最小的地面速度。
(D) 最大的地面速度。
- 正確解答：
(A)
23. 當必須移動無人直昇機到另一特定位置，但當時狀況不可能執行向前飛行時，就要使用下列哪種動作？
- (A) 側向懸停飛行或向後懸停飛行。
(B) 懸停轉彎。
(C) 平直飛行。
(D) 懸停。
- 正確解答：
(A)

24. 升力和阻力與機翼面積大小的關係是下列哪種？
(A) 都與機翼面積大小成正比。
(B) 都與機翼面積大小成反比。
(C) 都與機翼面積大小的平方成正比。
(D) 都與機翼面積大小的平方成反比。
正確解答：(A)
25. 航空器利用升降舵改變下列哪種姿態？
(A) 左右滾轉。
(B) 俯仰。
(C) 偏航。
(D) 以上皆非。
正確解答：(B)
26. 遙控無人機在進行協調轉彎時，負載係數是基於下列哪些力的結果？
(A) 升力和重力。
(B) 推力和重力。
(C) 離心力和重力。
(D) 阻力和重力。
正確解答：(C)
27. 遙控無人機保持平飛，飛行速度越大則升力與阻力會有下列哪種結果？
(A) 升力、誘導阻力越小。
(B) 升力不變、寄生阻力越大。
(C) 升力越大、誘導阻力越小。
(D) 升力不變、誘導阻力越大。
正確解答：(B)
28. 機場跑道地面風約為正南風，使用跑道為南北向，請問一般航空器在操作時應選擇哪一方向的跑道？
(A) 18 跑道。
(B) 27 跑道。
(C) 09 跑道。
(D) 36 跑道。
正確解答：(A)

◆ 氣象

29. 當空氣中水氣含量已達其最高限度時，此時相對溼度為何？ 正確解答：
(D)
- (A) 0.2。
 - (B) 0.4。
 - (C) 0.8。
 - (D) 1。
30. 航空例行天氣報告中，所使用觀測日期與時間及其代碼說明為下列何者？ 正確解答：
(A)
- (A) Z 字母指示碼；代表 UTC 時間。
 - (B) L 字母指示碼；代表本地時間。
 - (C) T 字母指示碼；代表 UTC 時間。
 - (D) X 字母指示碼；代表本地時間。
31. 無人機結束任務正準備返場，團隊藉由氣象資料得知 5 邊航線上有風切現象，風速及風向變化劇烈，請問操作人應特別注意風切對無人機之何項影響？ 正確解答：
(D)
- (A) 引擎轉數可能因此而不穩定。
 - (B) 資料鏈和 GPS 可能因此而失效。
 - (C) 重心可能因此而偏移。
 - (D) 可能造成升力損失，影響飛航穩定性，甚至無法安全降落。
32. 微爆氣流的循環約在 5 到 15 分鐘之間，所產生之下沉氣流可達下列何項速度？ 正確解答：
(B)
- (A) 每分鐘 600 呎。
 - (B) 每分鐘 6,000 呎。
 - (C) 每分鐘 20,000 呎。
 - (D) 每分鐘 50,000 呎。

33. 淺層的逆溫層一般來說高度為下列何者？

- (A) 約離地 5,000 公尺。
- (B) 約離地 3,000 公尺。
- (C) 約離地 1,000 公尺。
- (D) 約離地 300 公尺。

正確解答：
(D)

34. 依據雲層佔據整個天空的比例，一般將雲區分成稀雲、疏雲、裂雲、密雲等 4 個種類。現在收到氣象預報：「早晨疏雲，上午密雲，下午裂雲，晚上稀雲」，請問下列哪一個時段的降雨機率比較大？

- (A) 早晨。
- (B) 晚上。
- (C) 上午。
- (D) 下午。

正確解答：
(D)

◆ 緊急處置與飛行決策

35. 急性疲勞中，有種特殊情況稱之為下列哪種疲勞，在操作方面的影響主要有時機掌握混亂及視域過度聚焦？

- (A) 社會性疲勞。
- (B) 經濟性疲勞。
- (C) 技能疲勞。
- (D) 教育性疲勞。

正確解答：
(C)

36. 當面對緊急狀況時，若平時沒有熟悉緊急應變之處置程序，操作人可能會陷入下列哪種情境中？

- (A) 遙控無人機即將墜地。
- (B) 遙控無人機不會出事。
- (C) 遙控無人機的緊急狀況會自動消失。
- (D) 遙控無人機會自動處理緊急狀況。

正確解答：
(A)

37. 無人機正在飛行時，操作團隊臨時要求操作人執行原先飛行計畫沒有安排的科目，請問操作人應如何處理？ 正確解答：
(D)
- (A) 對原先飛行計畫沒有安排的科目，應一律拒絕執行。
 - (B) 既然是操作團隊要求的科目，就應配合執行。
 - (C) 依科目重要性而定，重要的話就不顧一切去執行，不重要的話就不執行。
 - (D) 快速評估可行性，包括無人機性能、個人能力及其他限制等，再決定是否執行。
38. 操作遙控無人機時若發生非預期的緊急情況時，操作人首要的任務為下列哪種作為？ 正確解答：
(C)
- (A) 堅持到底、繼續執行任務。
 - (B) 暫停執行任務、適當休息。
 - (C) 應先確保己身及周邊環境及其他人員的安全。
 - (D) 應先確保遙控無人機的安全。
39. 若製造商沒有提供起飛前檢查表或操作自製遙控無人機，則遙控無人機操作人應採取下列哪個動作？ 正確解答：
(B)
- (A) 省略起飛前檢查。
 - (B) 應自行設計檢查表以確保能夠安全操作。
 - (C) 聯絡製造商提供起飛前檢查表，同時繼續操作。
 - (D) 借用其他型式的遙控無人機起飛前檢查表。
40. 某種狀況、物體或活動，其可能造成人員傷亡、裝備損壞或降低運作效能，稱之為下列哪種狀況？ 正確解答：
(B)
- (A) 風險。
 - (B) 危害。
 - (C) 災難。
 - (D) 事故。

6.6.8 專業操作證模擬試題(試卷 5)

◆ 氣象

1. 若遙控無人機操作人未能注意大氣壓力實際值與標準值間之差距並適時修正，可能無法精確掌握何項資訊？ 正確解答：
(A)
- (A) 實際高度。
 - (B) 實際航向。
 - (C) 實際滾轉角。
 - (D) 實際引擎轉速。
2. 遙控無人機飛航活動期間，可能於任何高度遭遇不同風切狀況，其中以哪一項對其操控性影響最大？ 正確解答：
(D)
- (A) 超高空風切。
 - (B) 高空風切。
 - (C) 向量風切。
 - (D) 低空風切。
3. 冷空氣因流經溫暖水面之蒸發作用使其中水氣增加，因而凝結成下列哪種霧的型態？ 正確解答：
(A)
- (A) 蒸氣霧。
 - (B) 輻射霧。
 - (C) 山坡霧。
 - (D) 鋒面霧。
4. 遙控無人機操作人可透過飛航服務總臺所建置之航空氣象服務網(AOAWS)取得下列哪項資料？ 正確解答：
(A)
- (A) 國內外主要機場之即時觀測資料。
 - (B) 國內機場 6 小時天氣預報資料。
 - (C) 太平洋地區衛星雲圖。
 - (D) 高空風溫圖。

5. 大氣穩定度與下列何項因子有直接關係？

- (A) 空氣流動方向。
- (B) 空氣中懸浮微粒大小。
- (C) 水氣飽和程度。
- (D) 空氣乾燥程度。

正確解答：

(A)

6. 有關平流霧之特點，下列何者為非？

- (A) 日出後消散快速。
- (B) 相對濕度較高。
- (C) 不容易消散。
- (D) 可能發生於沿海區域。

正確解答：

(A)

7. 下列哪一種情況能有助於平流霧之消散？

- (A) 風速變小。
- (B) 風向轉變。
- (C) 溫度升高。
- (D) 濕度增高。

正確解答：

(B)

8. 有關輻射霧之特點，下列何者為非？

- (A) 日出後漸漸消散。
- (B) 大都發生於冬季。
- (C) 相較於平流霧比較不容易消散。
- (D) 通常地面風速微弱、空氣穩定。

正確解答：

(C)

9. 於大陸型氣候區域執行深秋早晨之飛行任務前，務必進行下列哪個程序以確保安全？

- (A) 暖身程序。
- (B) 點名程序。
- (C) 除霜程序。
- (D) 冥想程序。

正確解答：

(C)

10. 蒸氣霧常出現於下列哪個季節？

- (A) 春夏季節。
- (B) 夏末季節。
- (C) 秋冬季節。
- (D) 春末季節。

正確解答：
(C)

11. 雲有下列哪幾種型態？

- (A) 積狀雲。
- (B) 層狀雲。
- (C) 卷狀雲。
- (D) 以上皆是。

正確解答：
(D)

12. 雲的型態依據雲所在的高度可以分成下列哪幾種？

- (A) 高雲族。
- (B) 中雲族。
- (C) 低雲族。
- (D) 以上皆是。

正確解答：
(D)

13. 高雲族高度大約在 6,000 公尺以上，主要有下列哪幾種？

- (A) 卷雲。
- (B) 卷層雲。
- (C) 卷積雲。
- (D) 以上皆是。

正確解答：
(D)

14. 中雲族高度大約在 2,000~6,000 公尺，主要有下列哪幾種？

- (A) 高積雲。
- (B) 高層雲。
- (C) 雨層雲。
- (D) 以上皆是。

正確解答：
(D)

15. 低雲族高度位於 2,000 公尺以下，包含下列哪幾種？

- (A) 積雲。
- (B) 層雲。
- (C) 層積雲。
- (D) 以上皆是。

正確解答：
(D)

16. 航空氣象觀測員將天空劃分成 8 等份，若觀測到 1/8 至 2/8 的天空被雲層遮蓋，該雲量類別稱為下列何者？

- (A) 稀雲。
- (B) 疏雲。
- (C) 裂雲。
- (D) 密雲。

正確解答：
(A)

17. 遙控無人機飛越可見水氣（如雨或雲）時，需注意哪個部位可能發生積冰現象？

- (A) 機翼翼面。
- (B) 尾翼翼面。
- (C) 感測器。
- (D) 以上皆是。

正確解答：
(D)

18. 航空氣象裡的預報資料項目中，針對機場的天氣預報原則上在下列哪個時間間隔編報「終端機場天氣預報（TAF）」？

- (A) 每 24 小時。
- (B) 每 12 小時。
- (C) 每 6 小時。
- (D) 每 2 小時。

正確解答：
(C)

19. 遙控無人機飛行時，於下列哪種情形可能發生積冰現象？

- (A) 機體周遭氣溫為攝氏零度。
- (B) 機體周遭氣溫為攝氏零度以下。
- (C) 有可見水氣。
- (D) 以上皆是。

正確解答：
(D)

20. 當遙控無人機飛越結冰區域時，可能發生下列哪種狀況？

- (A) 影響或誤判遙控無人機飛行性能表現。
- (B) 提升遙控無人機飛行性能表現。
- (C) 遙控無人機飛行性能表現可能變好或變壞。
- (D) 不太可能發生任何狀況。

正確解答：
(A)

21. 雷雨的發展循環不包含下列何者？

- (A) 發展期。
- (B) 成熟期。
- (C) 重疊期。
- (D) 消散期。

正確解答：
(C)

22. 航空例行天氣報告中，雲層之雲底高度單位為下列哪一個？

- (A) 公尺。
- (B) 公里。
- (C) 呎。
- (D) 海里。

正確解答：
(C)

23. 終端機場天氣觀測報中，盛行天氣現象包括下列哪個項目？

- (A) 風向風速。
- (B) 能見度。
- (C) 天氣狀況及雲組。
- (D) 以上皆是。

正確解答：
(D)

◆ 基礎飛行原理

24. 透過三個以上垂直旋翼間協調來控制姿態，同樣不需跑道，可垂直起降、空中懸停等的遙控無人機，是下列哪種遙控無人機？ 正確解答：
(A)
- (A) 無人多旋翼機。
(B) 無人直昇機。
(C) 無人飛機。
(D) 以上皆是。
25. 無人飛機於頂風飛行時，地面速度就會有下列哪種變化？ 正確解答：
(C)
- (A) 變快。
(B) 不變。
(C) 變慢。
(D) 以上皆非。
26. 飛機高度保持時，垂直軸(Z 軸)方向升力與重力大小相同方向相反，所以有下列哪種情況？ 正確解答：
(B)
- (A) 橫軸(Y 軸)方向合力為零，飛機無偏航的姿態。
(B) 垂直軸(Z 軸)方向合力為零，飛機無升降起伏。
(C) 縱軸(X 軸)方向合力為零，飛機速度不變。
(D) 以上皆是。
27. 柏努利定律說明流體在一個管道中流動時，有下列哪種現象？ 正確解答：
(C)
- (A) 流速大的地方壓力大，流速小的地方壓力小。
(B) 流速大的地方壓力大，流速小的地方壓力也大。
(C) 流速大的地方壓力小，流速小的地方壓力大。
(D) 流速大的地方壓力小，流速小的地方壓力也小。

28. 垂直於相對氣流方向的壓力差之總和就是下列哪種外力？

- (A) 槳葉本身的攻角設計。
- (B) 空氣的阻力。
- (C) 機翼的升力。
- (D) 地心引力。

正確解答：
(C)

29. 飛機螺旋槳在原廠設計時，為了設計出高效率的槳葉角度，係依據發動機及飛機的下列哪些特性做為基礎？

- (A) 銷量和價格。
- (B) 耗油量和扭力。
- (C) 壓縮比和衝程。
- (D) 轉速和空速。

正確解答：
(D)

30. 由前後壓力差形成的阻力叫下列哪種阻力？

- (A) 摩擦阻力。
- (B) 形狀阻力。
- (C) 誘導阻力。
- (D) 干擾阻力。

正確解答：
(B)

31. 人在逆風中行走，會感到阻力的作用，這就是下列哪種阻力？

- (A) 摩擦阻力。
- (B) 誘導阻力。
- (C) 形狀阻力。
- (D) 干擾阻力。

正確解答：
(C)

32. 空氣密度大，相對氣流速度快，升力和阻力會有下列哪種變化？

- (A) 升力越大、阻力越小。
- (B) 升力越小、阻力越大。
- (C) 升力和阻力越大。
- (D) 升力和阻力越小。

正確解答：
(C)

33. 娛樂/運動級航空模型或小型無人機的動力裝置，一般使用下列哪種發動機？ 正確解答：
(B)
- (A) 渦輪發動機。
 - (B) 無刷電動馬達。
 - (C) 渦輪風扇或渦輪螺旋槳發動機。
 - (D) 往復式（活塞）發動機。
34. 流體的連續性說明在同一時間內，流進任一切面和從另一切面流出的下列哪個項目是相等的？ 正確解答：
(C)
- (A) 流體溫度。
 - (B) 流體壓力。
 - (C) 流體質量。
 - (D) 流體速度。
35. 若螺旋槳整片槳葉的攻角都一樣，將使得槳葉的效率有下列哪種變化？ 正確解答：
(C)
- (A) 變得很好。
 - (B) 保持不變。
 - (C) 變得很差。
 - (D) 機時好時差。
36. 無人直昇機為了抵銷扭力，在設計上使用尾旋翼在機尾產生一個向右的力，稱為下列哪種力？ 正確解答：
(C)
- (A) 尾旋翼升力。
 - (B) 尾旋翼阻力。
 - (C) 尾旋翼推力。
 - (D) 尾旋翼壓力。

37. 無人直昇機「從懸停到正常起飛」，係指有順序的轉換到向前飛行，執行時應安全且迅速的採取下列哪種動作？ 正確解答：
(C)
- (A) 改變航向。
 - (B) 增加地面速度。
 - (C) 增加高度。
 - (D) 增加主旋翼轉速。
38. 無人多旋翼機可以直接採用下列哪種螺旋槳？ 正確解答：
(A)
- (A) 定距槳。
 - (B) 變距槳。
 - (C) 恆速槳。
 - (D) 以上皆非。
39. 在空氣動力學裡，負載係數定義為下列哪個比值？ 正確解答：
(A)
- (A) 升力與重力之比值。
 - (B) 阻力與重力之比值。
 - (C) 推力與重力之比值。
 - (D) 升力與阻力之比值。
40. 無人飛機重量增加可能造成下列哪種結果？ 正確解答：
(B)
- (A) 降低失速速度。
 - (B) 提高失速速度。
 - (C) 失速速度不變。
 - (D) 以上皆非。

6.6.9 專業操作證模擬試題(試卷 6)

◆ 民用航空法及相關法規

1. 某無人機團隊正規劃一場沙灘音樂饗宴任務，其內容包括：「日落後利用無人機於參與民眾上空噴灑彩色粉末，以製造繽紛效果」。請問下列何者為該團隊執行任務前最重要之考量因素？

正確解答：
(C)

- (A) 操作者之飛航技術及膽識是否足夠。
- (B) 彩色粉末之數量是否足夠活動需求。
- (C) 該任務是否已經申請核准，操作者是否領有相應操作證。
- (D) 現場燈光及音效設備是否良好，以營造絢麗歡樂效果。

2. 某無人機團隊正擬定拍攝一大型廟會活動之飛航計畫，請問該團隊對於其執行之任務，應有下列何種正確認知？

正確解答：
(D)

- (A) 團隊技術高超，拍攝時無須特別防護工作。
- (B) 為達拍攝效果，於任務中任意變換無人機飛航高度甚至接近人群是可以接受的。
- (C) 重量較輕的無人機相對危害較小，故可隨意飛近目標物進行拍攝。
- (D) 操作人應領有相應專業操作證，且於執行任務前應申請活動許可。

3. 某無人機團隊因特殊任務需求所新購之一架無人機尚未完成註冊程序，惟因任務在即，有成員建議先借用另一架已註冊無人機之註冊號碼，再向民航局報備即可。請問針對該成員之主張，下列何者為正確？

正確解答：
(D)

- (A) 註冊號碼本來就可以互相借用，並無違反相關規定。
- (B) 只要所借用註冊號碼同屬該團隊其他無人機所有，即無違反相關規定。
- (C) 只要先向民航局報備獲准借用，即無違反相關規範。
- (D) 註冊號碼不得借供於未註冊之無人機上使用，該成員之主張已明顯違反相關規範。

4. 某無人機團隊受知名電視台委託，要利用無人機進行即時新聞事件之空拍作業，惟團隊經評估後認為該空拍作業可能存在安全顧慮，請問該團隊面對電視台之委託，採取下列何項作法較為恰當？

(A) 僅須視操作人經驗決定是否接受該任務。
(B) 視電視台給予酬勞多寡決定是否接受該任務。
(C) 評估有安全顧慮即應婉拒該任務，並詳細解釋其原因。
(D) 視任務活動投保額度高低決定是否接受該任務。

正確解答：
(C)

5. 某電影公司欲拍攝高速公路警匪追逐場景，為求逼真效果，電影公司要求無人機團隊操作無人機近距離拍攝疾駛於高速公路上之車輛，請問操作人應有哪項正確認知？

(A) 這是訓練自己技術的好機會，應大膽接受任務。
(B) 看在電影公司給予高額酬勞的份上，理應接受該任務。
(C) 只要團隊多數人認為可以執行，即應接受該任務。
(D) 未經核准飛航前，無人機飛航活動應遠離高速公路至少 30 公尺以上，該任務顯違反規定，應予以拒絕。

正確解答：
(D)

6. 某團隊擁有一架最大起飛重量達 30 公斤之無人飛機逾半年之久，經過幾次任務後發現該機因某項設計缺失而恐致操作安全疑慮，請問該團隊應有下列何項認知及作為？

(A) 只要加強操作人技術及應付緊急狀況之能力即可，不須採取其他作為。
(B) 團隊應儘速詢求該無人機設計者，以針對設計缺失進行補正作為。
(C) 於往後每次活動區域內設置安全防護網即可，不須採取其他作為。
(D) 於往後活動前只要記得投保較高額度之保險即可，不須採取其他作為。

正確解答：
(B)

7. 若遙控無人機飛航活動涉及 2 位以上之操作者，下列敘述何者正確？ 正確解答：
(A)
- (A) 應指定 1 人為決定權人，使得從事飛航活動。
 - (B) 不須指定決定權人即可從事飛航活動。
 - (C) 是否指定決定權人視任務性質而定。
 - (D) 以上皆非。
8. 針對學習操作證之敘述，下列何者為非？ 正確解答：
(C)
- (A) 申請者應年滿 16 歲。
 - (B) 持有者須於具備普通或專業操作證之操作人在旁指導監護下，使得操作。
 - (C) 持有者所操作遙控無人機構型不受限制。
 - (D) 持有者得於具操作資格人員指導下，依其操作資格，學習操作未達 25 公斤無人機。

◆ 基礎飛行原理

9. 遙控無人飛機降落時，除跑道降落外，也可運用下列哪項方式？ 正確解答：
(D)
- (A) 攔截網。
 - (B) 纜線勾鎖。
 - (C) 降落傘。
 - (D) 以上皆是。
10. 為確保飛行安全，操作人須審慎確認遙控無人機的下列哪個特性？ 正確解答：
(B)
- (A) 外觀。
 - (B) 重量與載重平衡。
 - (C) 價格。
 - (D) 以上皆是。

11. 重力是航空器本身之質量所受的下列哪種外力？

- (A) 磁力。
- (B) 地心引力。
- (C) 摩擦力。
- (D) 靜電力。

正確解答：
(B)

12. 無人多旋翼機改變橫向兩端旋翼的升力，使之不平衡，來實現下列哪種姿態？

- (A) 垂直的升降姿態。
- (B) 偏航的姿態。
- (C) 俯仰的姿態。
- (D) 滾轉的姿態。

正確解答：
(D)

13. 無人直昇機重心太前，會抑制下列哪種性能？

- (A) 平直飛行。
- (B) 向後飛及懸停低速。
- (C) 從地面到正常起飛。
- (D) 以上皆是。

正確解答：
(B)

14. 對於每一個作用力，都有一個相等且相反的反作用力，這就是下列哪個定律？

- (A) 牛頓第一定律又稱「慣性定律」。
- (B) 牛頓第三定律。
- (C) 牛頓第二定律又稱「加速度定律」。
- (D) 以上皆非。

正確解答：
(B)

15. 無人飛機重心後移時，若進入到下列哪種情形時，會較難改正？

- (A) 滾轉角變小。
- (B) 螺旋失速。
- (C) 偏航角變小。
- (D) 攻角變小。

正確解答：
(B)

16. 遙控無人機轉彎時，機翼必須產生足以與負載係數相等的升力，以達到下列哪個目的？ 正確解答：
(A)
- (A) 維持高度。
 - (B) 維持速度。
 - (C) 維持航向。
 - (D) 維持發動機轉速。
17. 操作無人飛機時，當升降舵控制往下，飛機相對於「機體中心」作下列哪種動作？ 正確解答：
(A)
- (A) 向下俯仰。
 - (B) 向上俯仰。
 - (C) 右滾。
 - (D) 左滾。
18. 航空器主要係利用副翼改變下列哪種姿態？ 正確解答：
(B)
- (A) 俯仰。
 - (B) 左右滾轉。
 - (C) 偏航。
 - (D) 以上皆是。
19. 無人多旋翼機是一種經由多個定距槳的正反旋轉與轉速控制，提供下列哪些性能調整？ 正確解答：
(C)
- (A) 阻力與推力調整。
 - (B) 重心與阻力調整。
 - (C) 升力與姿態調整。
 - (D) 升力與重心調整。

20. 無人直昇機「懸停」，係指保持幾乎不動的飛行，並保持下列哪種狀態？ 正確解答：
(B)
- (A) 主旋翼轉速不變和航向不變。
 - (B) 高度不變和航向不變。
 - (C) 主旋翼轉速不變和高度不變。
 - (D) 以上皆非。
21. 航空器利用方向舵改變下列哪種姿態？ 正確解答：
(B)
- (A) 俯仰。
 - (B) 偏航。
 - (C) 左右滾轉。
 - (D) 以上皆非。
22. 想像為一條左右兩側穿過航空器的軸，稱之為下列哪個軸？ 正確解答：
(C)
- (A) 航空器縱軸 (X 軸) 。
 - (B) 航空器垂直軸 (Z 軸) 。
 - (C) 航空器橫軸 (Y 軸) 。
 - (D) 以上皆非。
23. 放下遙控無人飛機襟翼可產生下列哪種結果？ 正確解答：
(A)
- (A) 使升力增大。
 - (B) 使升力減少。
 - (C) 使升力不變。
 - (D) 以上皆非。

◆ 氣象

24. 臺北航空氣象中心隸屬於下列哪個機關？

- (A) 交通部觀光局飛航服務總臺。
- (B) 交通部民用航空局飛航服務總臺。
- (C) 交通部中央氣象局飛航服務總臺。
- (D) 交通部航政司飛航服務總臺。

正確解答：
(B)

25. 遙控無人機於山區飛行時若遇強風，則可選擇何處飛行相較為平順？

- (A) 背風面。
- (B) 側風面。
- (C) 迎風面。
- (D) 以上皆非。

正確解答：
(C)

26. 在一定大氣壓力下，空氣中水氣含量固定不變時，若氣溫降至相當溫度使空氣飽和，氣溫再稍低，水氣即行凝結，此時之溫度，稱為下列哪種狀況？

- (A) 露點。
- (B) 沸點。
- (C) 霜點。
- (D) 熔點。

正確解答：
(A)

27. 航空例行天氣報告中，風向及風速：機場風向風速之觀測值，使用觀測下列哪個期間之平均風向與平均風速之編報？

- (A) 前 1 分鐘。
- (B) 前 10 分鐘。
- (C) 前 60 分鐘。
- (D) 前 180 分鐘。

正確解答：
(B)

28. 微爆氣流頂風與尾風的速度差距可達哪項範圍？
(A) 30 到 90 節。
(B) 5 到 10 節。
(C) 10 到 20 節。
(D) 20 到 30 節。
正確解答：
(A)
29. 雷雨成熟期的上升氣流及下沉氣流互相交錯，產生下列哪種現象？
(A) 水平風切。
(B) 垂直風切。
(C) 低空風切。
(D) 微爆氣流。
正確解答：
(B)
30. 遙控無人直昇機及遙控無人多旋翼機，由於可垂直起降，因此對於風向之考量多著重於下列何者？
(A) 起降時遇到較強的正側風。
(B) 滯空飛行時的穩定度。
(C) 避免順風起降。
(D) 不要遮蔽操作人視線。
正確解答：
(B)
31. 遙控無人機若是嚴重結冰則可能會導致下列哪種狀況？
(A) 推力不足而失速。
(B) 重心偏移而失速。
(C) 升力不足而失速。
(D) 以上皆是。
正確解答：
(C)
32. 同樣體積之空氣溫度愈高，能容納之水氣為何？
(A) 愈多。
(B) 愈少。
(C) 不變。
(D) 有時愈多有時愈少。
正確解答：
(A)

33. 暖空氣經過冷地表時，暖空氣受地表影響降溫，可使水氣達到下列哪個狀態？ 正確解答：
(C)
- (A) 不飽和狀態。
 - (B) 半飽和狀態。
 - (C) 飽和狀態。
 - (D) 超飽和狀態。
34. 雷雨發展期的特徵是下列哪種現象？ 正確解答：
(B)
- (A) 下沉氣流。
 - (B) 上升氣流。
 - (C) 垂直風切。
 - (D) 水平風切。
35. 不宜在下列哪個範圍操作遙控無人機？ 正確解答：
(A)
- (A) 成長快速的積雲附近。
 - (B) 遠離成長快速的積雲。
 - (C) 不明顯且成長停滯的積雲附近。
 - (D) 以上皆非。

◆ 緊急處置與飛行決策

36. 在下列哪個時機，遙控無人機操作人應對遙控無人機進行起飛前檢查？ 正確解答：
(A)
- (A) 每次操作前。
 - (B) 遙控無人機有明顯異狀時。
 - (C) 天氣變壞時。
 - (D) 操作人感覺不對時。

37. 自動決策模式基本上是一種反射性的模式，其形成的重要基礎是下列哪種方式？
- 正確解答：
(A)
- (A) 大量的訓練及經驗。
 - (B) 擴大參與人數。
 - (C) 正確的政治指導。
 - (D) 高深的哲學思想。
38. 無人機正在執行任務，下列狀況幾乎同時發生：GPS 信號失效、天氣變壞及圖傳遭受干擾等，請問操作人對該等狀況應有下列哪一項認知？
- 正確解答：
(B)
- (A) 應以達成任務為優先考慮，暫時忽略該等狀況。
 - (B) 對該等狀況無法預作分析及沙盤推演，操作人應憑經驗果斷作成自動決策。
 - (C) 應與無人機團隊共同研商該等狀況之對策，從容找出最佳方案。
 - (D) 應仔細查閱無人機飛行手冊/操作人操作手冊所規定的程序，再依其中規定的處置措施逐步執行。
39. 危害所可能造成的後果，稱之為下列哪種狀況？
- 正確解答：
(A)
- (A) 風險。
 - (B) 災難。
 - (C) 意外。
 - (D) 事故。
40. 呼吸頻率過快以致血液裡二氧化碳的濃度過低所導致的結果，稱之為下列哪種狀況？
- 正確解答：
(A)
- (A) 過度換氣。
 - (B) 壓力。
 - (C) 疲勞。
 - (D) 熱中暑。

『遙控無人機學科測驗指南與模擬試題』

中華民國交通部民用航空局

出版時間：108年8月

遙控無人機相關資訊，請上交通部民用航空局網站查閱：

《<https://www.caa.gov.tw/index.aspx>》





交通部民用航空局
Civil Aeronautics Administration, MOTC

遙控無人機

專業操作證屆期換證

學科測驗指南與模擬試題

本頁空白

目次

目次.....	i
圖目錄.....	iv
表目錄.....	v
第 1 章 前言.....	vi
1.1 目的	1
1.2 遙控無人機專業操作證屆期換證學科測驗指南與模擬試題架 構	2
第 2 章 遙控無人機法規.....	3
2.1 名詞解釋.....	3
2.1.1 人	3
2.1.2 事	3
2.1.3 時	6
2.1.4 地	8
2.1.5 如何	9
2.2 民用航空法法規釋義	10
2.2.1 第 99 條之 9【基本規範】	10
2.2.2 第 99 條之 10【註冊、產品登錄與操作證】	11
2.2.3 第 99 條之 11【檢驗】	12
2.2.4 第 99 條之 12【外國人】	12
2.2.5 第 99 條之 13【活動區域】	13
2.2.6 第 99 條之 14【操作規範】	13
2.2.7 第 99 條之 15【賠償責任及管轄】	14
2.2.8 第 99 條之 16【政府機關特別規定】	15
2.2.9 第 99 條之 17【管理規則】	15
2.2.10 第 99 條之 18【委託業務】	15
2.2.11 第 118 條之 1~3【罰則】	16
2.3 法規解釋圖表	17
第 3 章 無人機活動申請應注意事項	19
3.1 申請方式.....	19

3.2 活動之經緯度	20
3.2.1 經緯度座標格式轉換	20
3.2.2 經緯度座標格式轉換範例	20
3.2.3 度分秒與距離換算	23
3.3 活動之高度	23
3.3.1 實際高度 (AGL , above ground level)	24
3.3.2 平均海平面高度 (AMSL , above mean sea level) .	24
3.3.3 橢球高 (HAE , height above ellipsoid)	24
3.4 申請計畫範例	25
3.5 遙控無人機飛航安全相關事件	29
3.5.1 運輸事故調查法所規定之遙控無人機飛航事故	32
3.5.2 其他遙控無人機飛航安全相關事件	33
第 4 章 系統知識與緊急處置程序	37
4.1 遙控無人機系統知識	37
4.1.1 「動力與螺旋槳」	37
4.1.2 「電池與馬達」	39
4.1.3 「飛行與環境」	42
4.2 緊急處置程序	48
4.2.1 引擎或動力失效：	48
4.2.2 發電機失效 (引擎正常)：	49
4.2.3 上傳鏈路失效 (uplink loss)：	50
4.2.4 下傳鏈路失效 (downlink loss)：	53
4.2.5 GPS 訊號異常：	56
4.2.6 酬載影像鏈路異常：	57
4.2.7 姿態儀異常：	58
4.2.8 電子羅盤異常：	59
4.2.9 慣性導航異常：	60
4.2.10 空速管失效：	61
4.2.11 翼面致動器 (Servo) 失效：	62
4.2.12 空中失速 (Stall)：	63
4.2.13 低油量/電量：	64

4.2.14 飛控電腦 (FCC , flight control computer) 失效 :	65
4.2.15 迫降航線處置 :	66
4.2.16 異地迫降處置 :	67
4.2.17 空中緊急避障處置 :	68
第 5 章 參考文件	70
5.1 政府機關 (構) 、學校或法人從事遙控無人機飛航活動申請說明:	70
5.2 遙控無人機緊急情況申請使用文件:.....	70
5.3 遙控無人機申請案派遣協調人員至航管單位相關事項:	70
5.4 遙控無人機共同活動切結書:.....	70
5.5 遙控無人機專業操作證屆期換證學科測驗模擬試題.....	71

圖目錄

圖 1 屆期換證學科測驗指南與模擬試題架構	2
圖 2 延伸視距飛航示意圖	4
圖 3 各組電話號碼查詢	9
圖 4 無人機飛航活動申請說明參考圖	18
圖 5 活動區域範圍查詢模組	21
圖 6 遙控無人機管理資訊系統-度分秒換算	21
圖 7 選擇「這是哪裡？」	22
圖 8 以度表示的座標值（紅圈處）	22
圖 9 以度分秒表示的經緯度座標（紅圈處）	23
圖 10 「繪製線條或形狀」與「測量距離和面積」（紅圈處）	25
圖 11 飛行預定路線及參考點編號（箭頭處為起飛/降落點）	26
圖 12 轉換至英制單位	26
圖 13 右下角顯示滑鼠座標的經緯度值與海拔高度（紅框處）	27
圖 14 民航局「遙控無人機管理資訊系統」-活動申請	28
圖 15 遙控無人機飛安相關事件報告表	30
圖 16 民航局遙控無人機管理資訊系統-飛安事件填報	31
圖 17 無人多旋翼機排列示意圖	43

表目錄

表 1 活動區域	13
表 2 遙控無人機相關罰則	16
表 3 自然人與法人遙控無人機操作權限比較	17
表 4 參考點之經緯度與預訂飛行高度資訊	27

第1章 前言

本章首先說明「遙控無人機專業操作證屆期換證學科測驗指南與模擬試題」之目的、架構，再敘述遙控無人機法規、申請活動應注意事項（申請方式、活動之經緯度、活動之高度、申請計畫範例、飛航安全相關事件等）、系統知識與操作緊急處置程序、技術特點（如飛行控制系統、導航系統、動力系統、無線通訊等），最後提供相關參考文件（活動申請說明、緊急情況申請使用文件、申請案派遣協調人員至航管單位相關事項等），以方便讀者建立正確之遙控無人機實務操作與應用概念。

1.1 目的

基於以風險為基礎之安全監理要求，遙控無人機人員操作證制度係為安全維護之關鍵，為確保遙控無人機操作人之學識及技能持續符合安全操作之需求，交通部民用航空局（以下稱民航局）已於「遙控無人機管理規則（以下稱管理規則）」明定遙控無人機操作證之有效期限為二年，屆期前須依規定程序向民航局申請換證，以落實操作證持有人之知能管理。依據管理規則第 23 條規定，普通操作證及專業操作證持有人得於屆期前 30 日內檢附 2 年內之半身照片及有效操作證影本，向民航局申請換證。其中各類專業操作證應經重新體格檢查及屆期換證學科測驗合格後方可辦理換證。另考量最大起飛重量 25 公斤以上之遙控無人機因系統複雜須經檢驗合格始得飛航，且其飛航作業衍生較高風險，須仰賴操作人熟練操作技巧以保障飛航安全，爰規定 II/IIc 重量級別以上操作證持有人於屆期換證時，除應通過本屆期換證學科測驗外，另須取得術科測驗合格始得換證，以確保領有最大起飛重量 25 公斤以上遙控無人機操作證之人員適職性。

本「遙控無人機專業操作證屆期換證學科測驗指南與模擬試題（以下簡稱換證測驗指南）」，係以遙控無人機專業操作證持有

人，於執行飛航作業時應具備之基本實務知識與安全觀念為基礎，並納入民用航空法遙控無人機專章施行以來各類常見問題之補正內容彙編而成，其目的係提供予專業操作證持有人，作為執行屆期換證學科測驗前研讀及準備之參考文件，以俾完成屆期換證程序。

1.2 遙控無人機專業操作證屆期換證學科測驗指南與模擬試題架構

本換證測驗指南包含遙控無人機法規、無人機活動申請應注意事項、系統知識與操作緊急處置程序等三大主要章節，（架構如下圖 1），並將政府機關（構）、學校或法人從事遙控無人機飛航活動申請說明、遙控無人機緊急情況申請使用文件、及遙控無人機專業操作證屆期換證學科測驗模擬試題等內容列於參考文件內，以供參用。

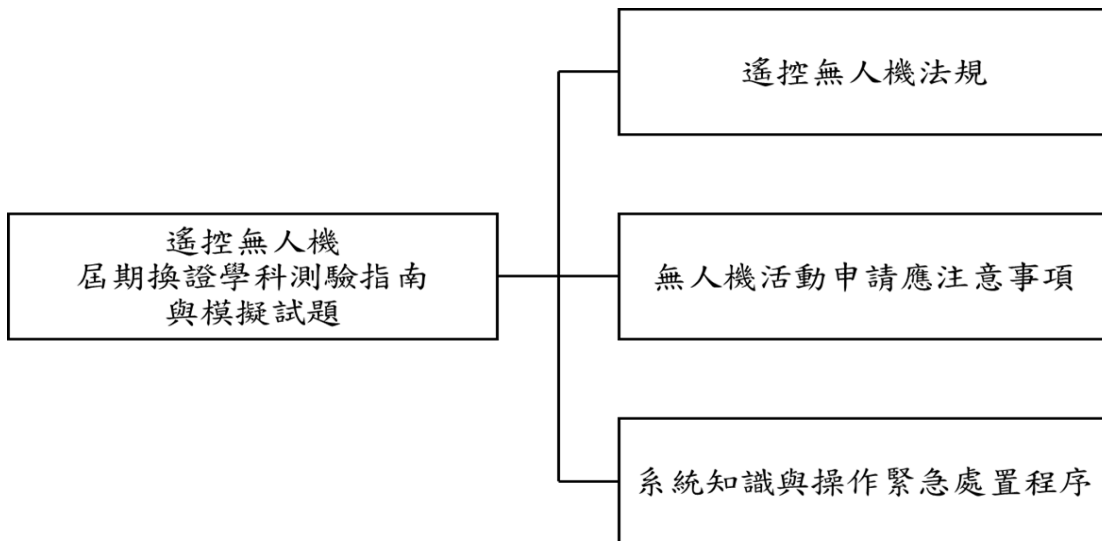


圖 1 屆期換證學科測驗指南與模擬試題架構

第2章 遙控無人機法規

此章以「名詞解釋」、「民用航空法法規釋義」及「法規解釋圖表」等 3 節據以說明遙控無人機安全監理之相關法規。

2.1 名詞解釋

此節依人、事、時、地、如何等分類，解釋各項名詞之意義。

2.1.1 人

1. 遙控無人機操作人：指於遙控無人機飛航活動期間，實際操控遙控無人機並應負飛航安全責任之人員。
2. 目視觀察員：於延伸視距飛航作業時，持有遙控無人機操作證，並於遙控無人機活動期間，提供實際操控遙控無人機之操作人必要飛航資訊之人員。
3. 觀察員：以「第一人稱視角」(FPV, first-person view) 飛行時，於視距範圍內從旁協助操作人觀察四周環境以保障操作安全之人員。依政府機關(構)、學校或法人作業手冊之程序，於視距外及其他操作限制作業時，提供操作人協助之人員。
4. 協調人員：依政府機關(構)、學校或法人作業手冊之程序，於飛航管制單位提供操作人空域協調資訊之人員。

2.1.2 事

1. 遙控無人機系統：由遙控無人機(機體)、遙控設備、通訊及控制信號鏈路以及其他附屬裝置(如火箭、彈射軌道、降落傘等發射回收裝置)組合而成的完整系統。
2. 遙控無人機：包括機體結構與外型、動力系統、自動駕駛與飛行控制系統、導航系統等，並攜帶任務所需之酬載。
3. 遙控設備：指遙控無人機系統中，用於操作遙控無人機之設備。
4. 通訊及控制信號鏈路：指遙控無人機及遙控設備間為操作飛行

管理目的之資料鏈接。

5. 最大起飛重量：指含機體、燃料、電池、負載設備及酬載等遙控無人機設計重量。
6. 延伸視距飛航（如圖 2）：指操作人於視距外，藉由目視觀察員於其半徑 300 公尺範圍內與遙控無人機保持直接目視接觸，並提供遙控無人機操作人必要飛航資訊之操作方式；延伸視距最大範圍為以遙控無人機操作人為半徑 900 公尺、相對地面或水面高度低於 400 呎內之區域。

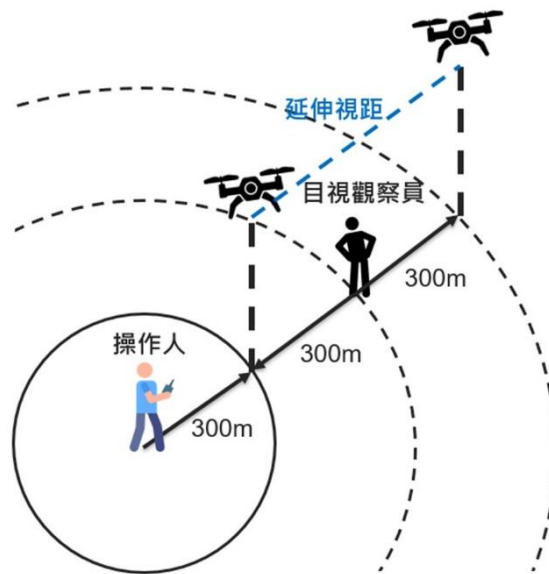


圖 2 延伸視距飛航示意圖

7. 射頻識別功能：目前遙控無人機之射頻識別功能尚在進行研究開發中，尚無統一之標準，且除射頻識別裝置本身之技術外，尚需配合地面接收裝置，將俟相關之重量、射頻識別技術標準等事宜確定後，再予以公告實施。目前美國聯邦航空總署已規定應於 2023 年 9 月前完成遙控無人機射頻識別功能之加/改裝。
8. 安全飛航條件：目視檢查遙控無人機外觀完整、機構及動力系統穩固、註冊號碼依民用航空法規定標示可辨、操作人應持有合格操作證、遙控設備與無人機間之通訊及控制信號鏈路運作

正常、燃油或電力之供應符合飛航之需求等。

9. 精神作用物質：包含酒類、鴉片類、大麻、鎮靜劑及安眠藥、古柯鹼、其他精神刺激藥物、迷幻藥及興奮劑等，但咖啡及菸草除外。
10. 飛航活動：指自然人或法人以遙控無人機從事飛航之行為。自然人從事飛航活動時應遵守區域與操作規範之限制，法人經飛航活動申請資格（下稱能力審查）核准與飛航活動申請，可排除區域與操作規範之限制。
11. 作業手冊：法人應依其操作限制排除事項相應之必要設備與程序，自行編撰作業手冊後向民航局申辦能力審查之核准，以取得飛航活動申請資格。（遙控無人機管理規則附件 13）
12. 遙控無人機操作證：操作證分為學習、普通與專業等 3 種，專業操作證又可細分為基本級與高級等 2 級別。
13. 電子商務：指透過網際網路進行有關商品或服務之廣告、行銷、供應或訂購等各項商業交易活動。

2.1.3 時

1. 註冊：有效期限為 2 年，期限屆滿前 30 日內向民航局申請延展。
2. 實體檢驗合格證：有效期限為 3 年，期限屆滿前 30 日內向民航局申請重新檢驗。
3. 特種實體檢驗證：有效期限由民航局依其設計、製造、改裝
4. 之性能諸元，註記於合格證上，最長不得逾 3 年。
5. 形式檢驗合格證與認可證明文件：無效期限限制。
6. 普通操作證：有效期限為 2 年，屆期前 30 日內向民航局申請換證。
7. 專業操作證：有效期限為 2 年，屆期前 30 日內經重新體格檢查及換證測驗合格後辦理換證。
8. 體格檢查文件：除操作最大起飛重量一百五十公斤以上之遙控無人機操作人應依航空人員乙類體格檢查標準辦理體格檢查外，應依據普通小型車體檢認定標準並經公路監理機關指定之醫療院所或教學醫院體格檢查合格或經民用航空人員體格檢查合格，並取得最近 1 年內有效證明文件。
9. 專業操作證學科測驗：術科測驗應於學科測驗通過起 1 年內完成；未完成者應重新申請學科測驗。
10. 飛航活動時間限制：日出後至日落前，以中央氣象局之日出日沒時刻表為準。
11. 飛航活動申請時限：於飛航活動前 15 日向民航局提出申請，如涉及軍事航空管理區域應於 30 日前進行申請。
12. 飛航活動同意時限：以 3 個月為限（經農政機關登記合格之法人，執行植保作業以 6 個月為限），政府機關為執行業務者，得延長至 1 年。
13. 飛航活動記錄保存：政府機關（構）、學校或法人應保存遙控

無人機相關資料及記錄 2 年。

14. 飛安相關事件：應於發生或得知消息後 24 小時內通報民航局。

2.1.4 地

1. 建築物：定著於土地上或地面下具有頂蓋、樑柱或牆壁，供個人或公眾使用之構造物或雜項工作物。
 2. 活動區域依區域管理特性可分為以下 6 類：
 - (1) 綠區：400 呎以下，自然人與法人均可於遵守操作規範條件下飛行之區域。
 - (2) 黃區（中央）：航空站（機場）四周，飛行高度不得高於 200 呎之區域。如欲於該區域飛行高於 200 呎，法人應經申請並發布飛航公告（NOTAM，Notice To Airman）並進行航管協調後始得飛行。另如活動性質符合遮蔽操作者，得以切結書方式辦理（詳 5.1.3 附錄 3）。
 - (3) 黃區（地方）：由地方政府依據公益及社會安全需要，因地制宜公告禁止或限制遙控無人機活動之區域，如欲於該區域飛行，應遵守地方政府相關操作規範。
 - (4) 紅區（中央）：禁航區、限航區、航空站（機場）與飛行場禁止飛行之區域，及任何高度超過 400 呎以上之區域。法人應經申請並發布飛航公告後始得飛行。
 - (5) 紅區（地方）：地方政府公告高度 400 呎以下禁止或有條件限制飛行之區域。法人應經申請後始得飛行。
 - (6) 灰區：屬國家公園管理範圍，其活動申請及操作規範等事項，除應依照民用航空法規定辦理外，另須依各國家公園管理單位規定辦理。
- ※ 有關活動區域管理特性之分類，其資料來源係由民航局及直轄市、縣市政府依「民用航空法」第 99 條之 13 第 1 項及第 2 項公告之圖資資料（Drone Map App）。

2.1.5 如何

1. 註冊、檢驗、能力審查、活動申請及學、術科測驗皆可於「遙控無人機管理資訊系統」(<https://drone.caa.gov.tw/>)，利用工商憑證、自然人憑證、健保卡等電子憑證完成帳號密碼認證程序後，以插入電子憑證或帳號密碼等方式登入系統進行申辦；若遇系統操作相關問題時，可至「遙控無人機管理資訊系統」網頁下方，查詢各分組電話號碼即可，資訊位置如下圖所示。



中華民國交通部民用航空局©2019 版權所有 | 服務電話：0800211798
10548 臺北市敦化北路340號 | 總機：02-2349-6280 (代表號) | 傳真：02-2349-6277
客戶服務中心: 免付費0809-086-507 · 手機請撥02-7735-2807
遙控無人機信箱: drone@mail.caa.gov.tw
民航局無人機辦公室各項業務諮詢電話
一、無人機註冊、檢驗、飛安事件：02-2349-6141
二、飛航活動申請、飛航通告、保險：02-2349-6317(6316)
三、能力審查：02-2349-6316(6180)
四、操作證：
(一)學科測驗：02-2349-6356(請假請依考試通知單逕洽各考場聯絡人)
(二)術科測驗：02-2349-6077
(三)體格檢查：02-2349-6164
(四)操作證展延：02-2349-6177
(五)操作證申請：02-2349-6356
業務諮詢時間：星期一至星期五 上午 08：30 ~12：30 下午 01：30 ~05：30

圖 3 各組電話號碼查詢

2. 法人辦理飛航活動申請時，申請範圍內如有限制區域（如紅區或黃區高於 200 呎之區域。）應取得管理機關同意文件。但宣告不進入者，以提交切結書方式辦理，切結書中除勾選限制區域之性質外，應敘明不進入之紅區編號/黃區編號與高度（60 公尺），切結書內容請參閱 5.1 節。
3. 申請 400 呎以下全縣市範圍空域，限公務機關及農噴作業。辦理飛航活動申請時，切結書中除勾選限制區域之各項性質外，應敘明「不進入 OO 縣（市）範圍內各項限制無人機活動區域」，切結書內容請參閱 5.1 節。
4. 飛航活動如進入限航區及航空站/飛行場四周限制遙控無人機活動範圍或距地表高度 400 呎以上，應發布飛航公告並進行航管協調。航管單位協調地點有臺北近場臺與高雄近場臺 2 個，大致以北緯 24 度（地理位置約為濁水溪）為界線，以北為臺北近

場臺、以南為高雄近場臺管制範圍，航管協調注意事項請參考 5.3 小節。

2.2 民用航空法法規釋義

此節依序解釋民用航空法有關遙控無人機之法理。

2.2.1 第 99 條之 9【基本規範】

1. 遙控無人機於建築物外開放空間從事飛航活動，須遵循民用航空法管理。上述所稱之建築物外開放空間，係參酌建築法第 4 條規定，建築物為定著於土地上或地面下具有頂蓋、樑柱或牆壁，供個人或公眾使用之構造物或雜項工作物。
2. 遙控無人機所有人或操作人應負使用安全、風險管理及法規遵循等責任，詳細可參照遙控無人機管理規則第 25~29 條之規定。
3. 遙控無人機發生以下飛航安全相關事件後，依規則第 36 條，其所有人或操作人應在發生或得知消息後 24 小時內填具飛航安全相關事件報告表通報民航局：
 - (1) 運輸事故調查法所規定之遙控無人機飛航事故。
 - ※ 依遙控無人機重大飛航事故調查作業處理規則第 3 條規定，應通報之事故包含人員死亡或傷害（死亡：指該人直接觸及遙控無人機之任何部位，包括自機體分離之部分，而當場死亡者；傷害：指受傷後七日之內須住院治療四十八小時以上者。）、最大起飛重量逾 25 公斤之遙控無人機遭受實質損害（指遙控無人機損壞無法修復者）、其他造成人民生命、財產重大影響者、或毀損超過新台幣 50 萬元者。
 - (2) 最大起飛重量 2 公斤以上且裝置導航裝置之遙控無人機遭受實質損害或失蹤。
 - (3) 於民用航空法第 99 條之 13 第 1 項至第 2 項範圍內從事活動之遙控無人機遭受實質損害或失蹤。
 - (4) 從事民用航空法第 99 條之 14 第 1 項第 1 款至第 8 款活動之遙控無人機遭受實質損害或失蹤。

(5) 發生與其他航空器或障礙物接近或碰撞之事故。

2.2.2 第 99 條之 10【註冊、產品登錄與操作證】

1. 自然人所有之最大起飛重量 250 公克以上及政府機關（構）、學校或法人所有之遙控無人機，應依規則第 6~10 條辦理註冊，並依規則第 8 條將註冊號碼標明於遙控無人機上顯著之處。
2. 依規則第 11 條之公告具有射頻識別功能（交通部民航局將會依據國際間通用之作法辦理公告）。
3. 依規則第 12 條最大起飛重量 1 公斤以上且裝置導航設備之遙控無人機，應具備防止進入限航區及航空站或飛行場四周之圖資軟體系統；遙控無人機設計、製造、改裝者應保持圖資軟體系統之正確性並適時更新。
4. 依規則第 17 條遙控無人機製造者或進口者利用電子商務服務系統販售遙控無人機時，應於電子商務服務系統明顯處以中文將下列文字合併標示。其透過代理商、經銷商或其他第三人販售遙控無人機者，亦同。
 - 一、 最大起飛重量二百五十公克以上遙控無人機應辦理註冊。
 - 二、 遙控無人機活動前應注意活動區域與遵守操作規定。
 - 三、 相關活動區域及操作規定資訊，請見民航局網站及遙控無人機圖資行動應用程式。
5. 依規則第 19 條規定之遙控無人機操作人應持有民航局發給操作證後，始得操作，操作證之規定詳細參照規則第 19~24 條。
6. 遙控無人機製造者與進口者，應依民航通告「遙控無人機產品登錄及標示作業」辦理登錄事宜。並公告定義遙控無人機之構造為無人飛機、無人直昇機、無人多旋翼機、複合式無人機（例如：無人飛艇、垂直起降無人機 VTOL，vertical takeoff and landing）等共 4 種。
7. 市售最大起飛重量未達 25 公斤具導航設備經登錄者列入「市售最大起飛重量未達 25 公斤具導航設備免經檢驗或認可之遙控無人機清冊」並定期更新於「遙控無人機管理資訊系統」

(<https://drone.caa.gov.tw/>) 之訊息專區。

8. 人員測驗執行方式可參考民航通告「遙控無人機學科測驗規範」、「遙控無人機術科測驗規範」兩份文件。
9. 遙控無人機管理規則已於 110 年 7 月 19 日修訂有關人員測驗規定，簡化專業操作證報考者之經歷資格如下：
 - (1) 報考專業操作證者不須具普通操作證經歷。
 - (2) 報考 Ib 級者，縮減為須領有 Ia 操作證 1 個月以上經歷。
 - (3) 報考 IIc 級者，改為須領有基本 II 級或 Ib 級操作證 3 個月以上經歷。
 - (4) 報考基本 III 級者，縮減為須領有 IIc 級操作證 3 個月以上經歷。

2.2.3 第 99 條之 11【檢驗】

1. 依規則第 13 條規定，遙控無人機之設計、製造、改裝，或自國外進口遙控無人機，應經民航局檢驗合格或認可者，發給遙控無人機檢驗合格證或認可證明文件。因型式構造簡單且經民航局核准或公告者，得免經檢驗或認可。檢驗之詳細規定可參照規則第 13 - 18 條。
2. 遙控無人機之檢驗基準，由民航局定。國際間通用技術規範，適於國內採用者，得經民航局核定後採用。
3. 檢驗與試飛計畫可參考民航通告「遙控無人機檢驗程序申請指南」、民航通告「遙控無人機試飛規範與注意事項」。

2.2.4 第 99 條之 12【外國人】

外國人領有外國政府之遙控無人機註冊、檢驗及操作證之證明文件者，得依規則第 38 條申請認可後依規定從事飛航活動。

2.2.5 第 99 條之 13【活動區域】

1. 依規則第 31 條之規定，詳細規則如下表。

表 1 活動區域

活動區域	活動申請之同意	違規取締
禁、限航區 (臺北飛航情報區未劃設禁航區)	民航局會商目的事業 主管機關同意	禁、限航區之管理人，必要時 通知民航局會同警察機關
航空站(機場)或飛行場 四周		航空站、飛行場經營人、管理 人會同航空警察局，必要時洽 請有關機關協助執行
前 2 項範圍外、距地表高 度不逾 400 呎、由直轄 市、縣(市)政府公告之 禁止或限制區域	直轄市、縣(市)政 府會商相關中央主管 機關同意	直轄市、縣(市)政府， 必要時洽請警察機關協助； 政府機關(構)之區域，政府 機關(構)可制止或排除

2. 政府機關(構)、學校或法人之飛航活動應於活動日 15 日前檢附活動計畫書(利用遙控無人機管理資訊系統)提出申請，申請可參考本文件 5.1 節之說明。
3. 依規則第三十二條之一規定，中央主管機關得以委託政府機關(構)或團體辦理會商及同意作業。委託時，應將委託之對象、事項及法規依據公告之，並刊登於政府公報。

2.2.6 第 99 條之 14【操作規範】

1. 從事遙控無人機飛航活動應遵守下列規定：
 - (1) 遙控無人機飛航活動之實際高度不得逾距地面或水面 400 呎。
 - (2) 不得以遙控無人機投擲或噴灑任何物件。
 - (3) 不得裝載由民航局依民航法第 43 條第 3 項公告之危險物品(包括爆炸物品、氣體、易燃液體、易燃固體、氧化物、毒性物質、放射性物質、腐蝕性物質、及其他危險物品等 9 類)，詳請參考「危險物品空運管理辦法」。
 - (4) 依規則第 28 條規定共有 4 項操作限制：
 - 應遠離高速公路、快速公(道)路、鐵路、高架鐵路、地

- 面或高架之大眾捷運系統、建築物及障礙物 30 公尺以上。
- 不得於移動中之航空器、車輛或船艦上操作遙控無人機。
 - 最大起飛重量未達 25 公斤且裝置導航設備之遙控無人機最大飛行速度每小時不得超過 87 海里或 160 公里。
 - 延伸視距飛航者，最大範圍為以操作人為中心半徑 900 公尺、相對地面或水面高度低於 400 呎內之區域，且目視觀察員應與遙控無人機保持目視接觸，並提供操作人必要之飛行資訊。（延伸視距飛航作業屬操作限制，應以法人身分提出申請。）
- (5) 不得於人群聚集或室外集會遊行上空活動。
 - (6) 不得於日落後至日出前之時間飛航。
 - (7) 在目視範圍內操作，不得以除矯正鏡片外之任何工具延伸飛航作業距離。
 - (8) 操作人不得在同一時間控制 2 架以上遙控無人機。
 - (9) 操作人應隨時監視該遙控無人機之飛航及其周遭狀況。
 - (10) 應防止遙控無人機與其他航空器、建築物或障礙物接近或碰撞。
2. 依規則第 32 條規定，政府機關（構）、學校或法人從事上述第 1 ~ 8 項規定之操作限制活動時，應於活動日 15 日前檢附活動計畫書（利用遙控無人機管理系統）向民航局申請許可。涉及第 5 項之限制者，應先取得活動場地之直轄市、縣（市）政府及相關中央主管機關之同意。
 3. 一般申請參照參考文件 5.1「政府機關（構）等從事遙控無人機活動申請說明」。
 4. 緊急申請依現場指揮官之指示參照參考文件 5.2「遙控無人機緊急情況申請文件」。

2.2.7 第 99 條之 15【賠償責任及管轄】

政府機關（構）、學校或法人於從事操作規範排除之作業前應投保責任險，賠償額為死亡者新臺幣 300 萬元、重傷者新臺幣 150 萬元。

2.2.8 第 99 條之 16【政府機關特別規定】

依規則第 34 條規定，政府機關為執行災害防救、偵查、調查、矯正業務等法定職務，需於民用航空法第 99 條之 13 第 1 項公告之航空站或飛行場四周之一定距離範圍內、第 2 項公告之禁止、限制區域內從事遙控無人機飛航活動，或從事民用航空法第 99 條之 14 第 1 項第 2 款至第 8 款之活動，經民航局同意者，不受第 99 條之 13 第 3 項及第 4 項，或第 99 條之 14 第 3 項等規定之限制。其同意文件效期 2 年。

2.2.9 第 99 條之 17【管理規則】

1. 遙控無人機管理規則計 42 條與 17 個附件。
2. 政府機關（構）、學校或法人申請能力審查時應參考民航通告「遙控無人機作業手冊」，以遙控無人機管理資訊系統向民航局申請核准。
3. 遙控無人機/操作人員名冊由法人業者於遙控無人機管理資訊系統自行維護並確保資料之正確。
4. 作業手冊第 1 至 4 章及附件如有修正或補充由法人業者以作業手冊補充單方式自行維護；第 5 章操作限制排除如有修正或補充應重新申請核准。

2.2.10 第 99 條之 18【委託業務】

申請成為遙控無人機檢驗或操作人員測驗委託團體可參考民航通告「申請辦理遙控無人機檢驗及操作人員測驗業務指引」（至 110 年底民航局尚未開放檢驗及人員測驗業務之委託）。

2.2.11 第 118 條之 1~3【罰則】

詳細罰鍰如下表所示，情節重大者，皆得沒入遙控無人機。

表 2 遙控無人機相關罰則

違規項目	罰鍰金額
1. (99 條之 13 第 1 項) 於禁航區、限航區及航空站或飛行場四周之一定距離範圍內從事飛航活動	新臺幣 30 萬元以上 150 萬元以下
2. (99 條之 14 第 1 項第 1 款) 逾距地表高度 400 呎從事飛航活動	新臺幣 6 萬元以上 30 萬元以下
3. (99 條之 10 第 2 項) 未領有操作證而操作以下遙控無人機: 1.政府機關(構)、學校或法人所有之遙控無人機 2.最大起飛重量達一定重量以上之遙控無人機 3.其他經民航局公告者	新臺幣 3 萬元以上 15 萬元以下
4. (99 條之 15 第 3 項) 未投保或未足額投保責任保險而從事遙控無人機活動	新臺幣 1 萬元以上 150 萬元以下
5. (99 條之 10 第 1 項) 違反有關遙控無人機註冊或標明註冊號碼之規定	新臺幣 3 萬元以上 15 萬元以下
6. (99 條之 13 第 2 項) 違反有關直轄市、縣(市)政府公告之區域、時間及其他管理事項之規定	新臺幣 1 萬元以上 150 萬元以下
7. (99 條之 14 第 1 項第 2~10 款) 違反有關遙控無人機飛航活動應遵守之規定	新臺幣 1 萬元以上 150 萬元以下
8. (99 條之 17) 違反有關射頻識別、檢驗、認可、維修與檢查、飛航活動之活動許可及內容、製造者與進口者之登錄及責任、飛航安全相關事件之通報等事項規定	新臺幣 1 萬元以上 150 萬元以下

2.3 法規解釋圖表

表 3 自然人與法人遙控無人機操作權限比較

身分	註冊	檢驗	操作證	飛行區域	操作限制	保險
自然人	250 公克以上需要註冊	25 公斤以上需檢驗	持有 學習操作證 者可於持有遙控無人機操作證之操作人在旁指導監護下，學習操作同構造且最大起飛重量 未逾 25 公斤 之遙控無人機。	限於 綠區 飛行	五要： 1. 要於白天飛行 2. 要在視距內飛行 3. 要低於 400 呎 4. 要隨時留意遙控無人機及周遭狀況 5. 要遵守管理規則所訂定之操作限制	可自行投保（不強制）
			操作 2 公斤以上未達 15 公斤 無人機（具導航功能）需普通操作證		五不要： 1. 不得與其他航空器、建築物碰撞 2. 不得投擲或噴灑 3. 不得裝載危險物品 4. 不得於人群聚集或室外集會遊行上空飛行 5. 不得一人同時操作兩架以上無人機	
法人	不分重量皆須註冊		操作人須依例外限制排除事項（不分無人機重量）取得基本級或相應高級專業操作證	取得 能力審查核准、飛航活動許可及專業操作證 後可排除區域限制（紅區飛行）	取得 能力審查核准、飛航活動許可及高級專業操作證 後可排除操作限制	如需排除操作限制須投保 責任保險 方得申請飛航活動



圖 4 無人機飛航活動申請說明參考圖

第3章 無人機活動申請應注意事項

3.1 申請方式

不計遙控無人機管理規則第 34 條所定法定職務之飛航活動，活動申請分為一般申請與緊急申請 2 種。

一般申請可參照第 5 章參考文件_5.1「政府機關(構)等從事遙控無人機活動申請說明」(「政府機關(構)、學校或法人於禁航區、限航區、航空站或飛行場四周之一定距離範圍內從事遙控無人機飛航活動申請說明」)申辦即可。

緊急申請一律由應變中心指揮官、權責機關現場指揮官或負責人統一調度，參照第 5 章參考文件_5.2「遙控無人機緊急情況申請文件」申辦，申請書中應敘明指揮官單位、職級與姓名，取得同意後依該機關(構)或法人(操作人)之作業手冊_第 5 章操作限制排除事項_5.7「災害應變與緊急情況」，以遙控無人機執行應變作為。

※ 5.2「遙控無人機緊急情況申請文件」，包括：

- 附件 1「使用遙控無人機從事災害應變、災害預防、復原重建或災害以外之緊急情況申請書暨民用航空局同意書」。
- 附件 2「使用遙控無人機從事災害預防、復原重建或災害以外之緊急情況申請書暨直轄市、縣(市)同意書」。
- 附件 3「遙控無人機從事災害應變、災害之預防、復原重建或災害以外之緊急情況時，需取得/通知限航管理單位名冊」。

(上述附件請至「民用航空局局網-無人機專區」或「遙控無人機管理資訊系統-訊息專區-法規及文件」處下載使用。)

3.2 活動之經緯度

遙控無人機活動申請及飛航紀錄之經緯度位置資訊一律以度分秒 (DMS , degrees, minutes and seconds) 表示。

3.2.1 經緯度座標格式轉換

經緯度的座標值可分為 3 種表示方法，分別為度 (DD , decimal degrees)、度分 (DDM , degrees decimal minutes)、度分秒 (DMS , degrees minutes seconds)，其中 1 度為 60 分、1 分為 60 秒。

3.2.2 經緯度座標格式轉換範例

以民航局座標為例，以度 (°) 來表示其座標為 N25.06187° , E121.55197° (北緯 25.06187 度，東經 121.55197 度)；以度分 (° ') 來表示其座標為 N25° 3.7122' , E121° 33.1182' (北緯 25 度 3.7122 分，東經 121 度 33.1182 分)；以度分秒 (° ' ") 來表示其座標為 N25° 3' 42.732" , E121° 33' 7.092" (北緯 25 度 3 分 42.732 秒，東經 121 度 33 分 7.092 秒)。

1. 由度 (DD) 轉換為度分秒 (DMS) (25.06187° → 25° 3' 42.732")：
 - (1) 整數 25 為度
 - (2) 將小數 0.06187 乘以 60 (1 度為 60 分)，得到 3.7122 分，其中整數 3 為分
 - (3) 將分的小數 0.7122 乘以 60 (1 分為 60 秒)，得到 42.732 秒
 - (4) 所以 25.06187° (25.06187 度) 轉換為「度分秒」的值為 25° 3' 42.732" (25 度 3 分 42.732 秒)
2. 由度分 (DDM) 換為度分秒 (DMS) (25° 3.7122' → 25° 3' 42.732")：
 - (1) 整數 3 為分
 - (2) 將分的小數 0.7122 乘以 60 (1 分為 60 秒)，得到 42.732 秒
 - (3) 所以 25° 3.7122' (25 度 3.7122 分) 轉換為「度分秒」的值為

25° 3' 42.732" (25 度 3 分 42.732 秒)

3. 在遙控無人機管理資訊系統，由度 (DD) 轉換成度分秒 (DMS) :

(1) 點選「活動區域範圍查詢模組」

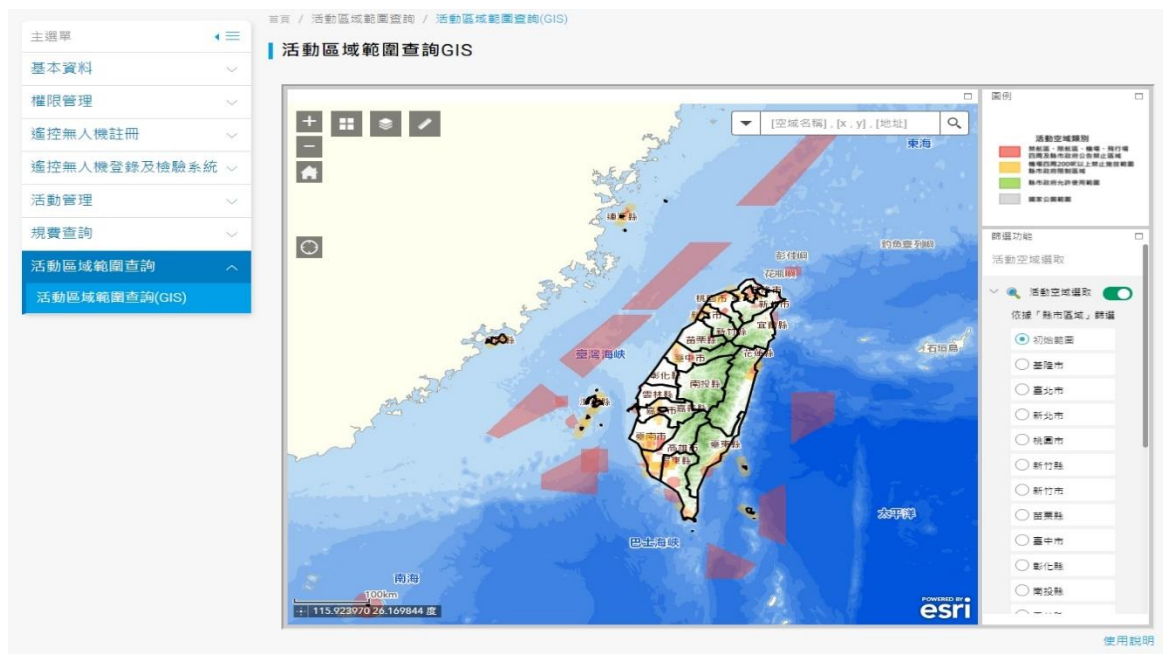


圖 5 活動區域範圍查詢模組

(2) 可透過輸入經緯度或地址進行查詢，搜尋結果即自動轉換並顯示為度分秒格式之座標值 (紅圈處)。

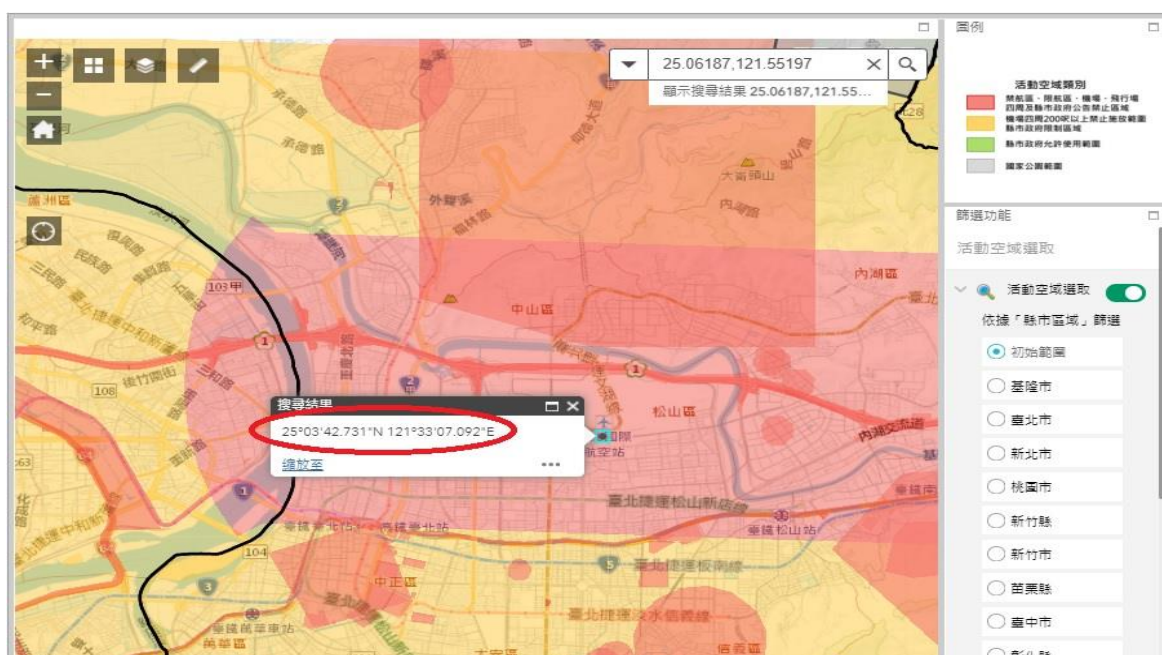


圖 6 遙控無人機管理資訊系統-度分秒換算

4. 在 google map，由度 (DD) 轉換成度分秒 (DMS)：

- (1) 移動滑鼠至目標位置按下右鍵，選擇「這是哪裡?」，畫面下方即顯示以度表示之座標值。



圖 7 選擇「這是哪裡?」



圖 8 以度表示的座標值 (紅圈處)

(2) 點選座標值，畫面左側即會顯示以度分秒表示之經緯度座標。

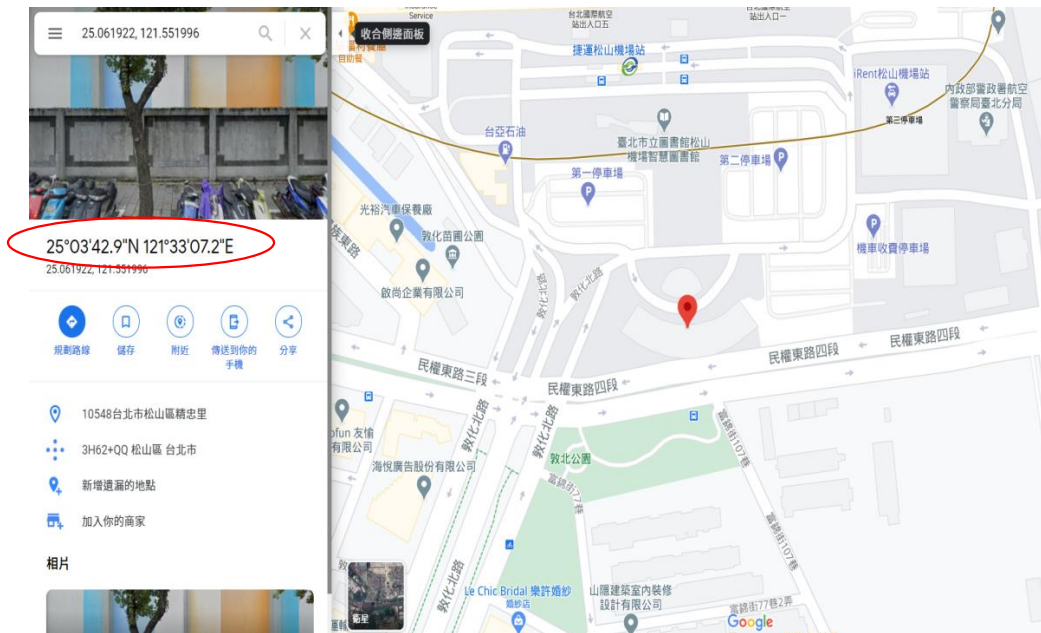


圖 9 以度分秒表示的經緯度座標（紅圈處）

5. 在 google earth，經緯度已用度分秒（DMS）系統表示，不必再做轉換。

3.2.3 度分秒與距離換算

每度緯線的距離雖會因為地球為一稍微扁平的球體而有所不同，但變動的幅度甚小，平均每度緯線的距離約為 60 海里（111 km），1 分約為 1 海里（1.852 km），而 1 海里約為 6,080 呎，所以 1 秒約為 100 呎（30 m）；由於經線皆相交於南、北兩極點，因此每度經線的距離會隨著緯度增加而減少，而臺北飛航情報區位處中低緯度，每度經線的距離可近似於每度緯線的距離，因此上述轉換原則尚可適用。

3.3 活動之高度

高度有許多種不同的表示方式，本節就無人機在臺北飛航情報區轉換高度（11,000 呎）以下使用到的高度表示法進行說明。

3.3.1 實際高度 (AGL , above ground level)

實際高度即遙控無人機 (非操作人所在位置) 相對於地面或水面之高度，在 400 呎以下之遙控無人機活動或限制區域的劃設均以實際高度為準。

3.3.2 平均海平面高度 (AMSL , above mean sea level)

平均海平面高度即為海拔高度，係以各地區人為設定的平均海平面作為基準面測定的高度表示方式。以我國為例，平均海平面位於基隆市八斗子，在 google earth 中所顯示的高度即為海拔高度。實務上，有人航空器於低空飛行時，機上之氣壓高度計均經過場壓修正而指示海拔高度，無人機飛航超過 400 呎時，應了解無人機海拔高度資訊，以利空域協調，故活動申請計畫書均要求此類飛行應填寫起飛位置標高 (除非在基隆市八斗子否則不應為 0) 與計畫飛航之最高海拔高度 (以百呎單位)。其計算方法可利用無人機上歸零後之氣壓高度加計當地地表海拔高度，因地表海拔高度會不斷變動，所以需在預計的飛航路線上選取數個參考點，待無人機飛行至參考點時對地表海拔高度進行修正以獲得更精確的海拔高度資訊。

3.3.3 橢球高 (HAE , height above ellipsoid)

橢球高又稱為大地高，係將地球假定為一理想橢球體，真實地表上任一點相對於橢球面的垂直距離 (即所謂法線方向之距離) 即為橢球高，GPS (global positioning system，全球定位系統) 高度測量即利用 GPS 測量技術直接測定地面點的大地高，因此可單純從 GPS 介面讀取，但並不代表在飛行時無人機與地面的實際相對高度，在使用時須注意與實際高度、平均海平面高度的差別。

3.4 申請計畫範例

本範例使用 google earth 作為經緯度與海拔高度的來源，路線選擇在臺大實驗林周遭飛行，由於計畫的高度需求超過 400 呎，為了順利申請飛航活動及發布正確的飛航公告 (NOTAM)，在任務規劃時應先計算起飛地點標高與計畫飛航之各航點飛行海拔高度。首先點選畫面左下角「繪製線條或形狀」或左邊「測量距離和面積」將起飛點、降落點與航線中的參考點標示出來，差別在於用「繪製線條或形狀」可以保存於專案中，可儲存起來日後再次打開查看，而使用「測量距離和面積」只能當次使用不能被保存。

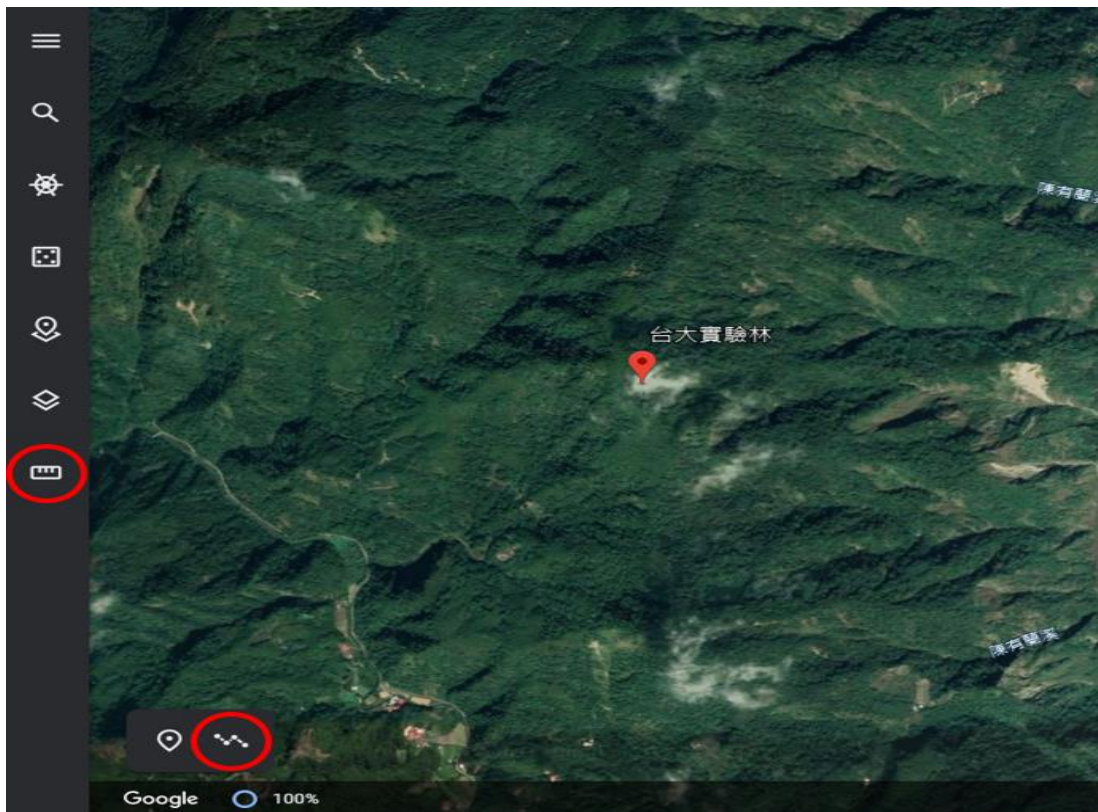


圖 10 「繪製線條或形狀」與「測量距離和面積」（紅圈處）

完成後的飛行路線如下圖所示，標示完定位點（下圖中大圓）後可以放大畫面以滑鼠微調定位點至，若想再增加定位點可點選下圖中的小圓，點選後該點就會變成定位點，而本路線因起飛點與降落點位於同一處所以圖形會形成一封閉多邊形。配合 NOTAM 格式多邊形順時針記載，最多 6 點圓心半徑。



圖 11 飛行預定路線及參考點編號 (箭頭處為起飛/降落點)

微調完路線後將左方選單打開，選擇「設定」→「格式與單位」，將「測量單位」從預設的「公尺與公里」改為「英尺與英里」，儲存後即可在右下角看見當前滑鼠位置以英尺 (呎) 標示的海拔高度。

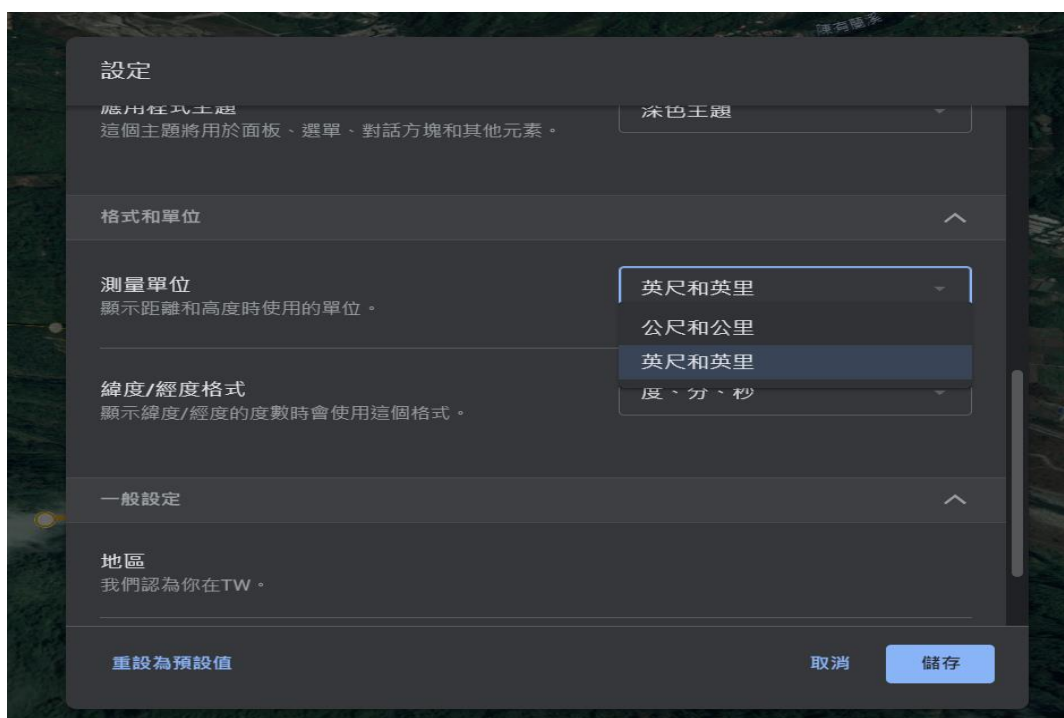


圖 12 轉換至英制單位

隨後將滑鼠移至參考點上，畫面右下角即會出現該位置的經緯度值（以度分秒表示）與海拔高度（以英尺表示）並記錄下來，再加上該參考點預定的飛行高度及可完成如下表中的表格。



圖 13 右下角顯示滑鼠座標的經緯度值與海拔高度（紅框處）

表 4 參考點之經緯度與預訂飛行高度資訊

參考點	起飛	1	2	3
緯度	23°44' 01" N	23°43' 51" N	23°43' 46" N	23°43' 49" N
經度	120°50' 50" E	120°50' 44" E	120°50' 36" E	120°50' 24" E
參考點海拔高度 (呎)	1,325	1,340	1,343	1,740
無人機飛行絕對高度 (呎)	0	100	300	300
無人機飛行海拔高度 (呎)	1,325	1,440	1,643	2,040
參考點	4	5	6	降落
緯度	23°44' 01" N	23°44' 15" N	23°44' 11" N	23°44' 01" N
經度	120°50' 21" E	120°50' 35" E	120°50' 45" E	120°50' 50" E
參考點海拔高度 (呎)	1,848	1,665	1,311	1,325
無人機飛行絕對高度 (呎)	600	500	100	0
無人機飛行海拔高度 (呎)	2,448	2,165	1,411	1,325

最後在上表中「無人機飛行海拔高度」處找尋最大值並無條件進位至百位數字後即為計畫飛航之最高海拔高度，以此路線為例計畫飛航之最高海拔高度為 2,500 呎；而起飛標高照實填寫即可，以此路線為例為 1,325 呎，故於系統申請時，作業高度應填入 1,325 呎~2,500 呎，系統會自動計算該任務實際高度為 (2,500-1,325) 呎 = 1,175 呎，確證已超過離地表 400 呎，應辦理飛航公告。

活動申請 (如下圖所示) 時，「作業概述」欄位應敘明作業目的、預計起降地點 (可輸入座標或地標) 等資訊。

活動申請

1 活動資料 2 活動領域 3 資料確認 4 申請完成

基本資料

* 作業名稱	請輸入作業名稱		
申請單位	測試法人	* 用途	請選擇
* 承辦人	請輸入承辦人	* 聯絡電話	請輸入承辦人聯絡電話
* 現場負責人	請輸入現場負責人	* 行動電話	請輸入現場負責人行動電話
* 協調人	請輸入協調人	* 行動電話	請輸入協調人行動電話
* 作業日期(起訖)	請輸入開始作業日期	~	請輸入結束作業日期
* 每日作業時間(起訖)	請輸入開始作業日期的時間	~	請輸入結束作業日期的時間
* 作業概述	作業目的:台大實驗林林相研究 預計起飛地點:23°44' 01" N120°50' 50" E ; 降落地點:23°44' 01" N120°50' 50" E (可輸入座標或地標，例如地標:台大實驗林)		

圖 14 民航局「遙控無人機管理資訊系統」-活動申請

3.5 遙控無人機飛航安全相關事件

「遙控無人機管理規則」第 36 條規定，所有人或操作人於操作遙控無人機發生下列飛航安全相關事件時，應於發生或得知消息後 24 小時內填具飛航安全相關事件報告表（如圖 15 所示），透過電話、傳真及 Email 通報民航局（CAA）或至民航局遙控無人機管理資訊系統（如圖 16 所示）進行通報；涉及「運輸事故調查法」規定之「遙控無人機重大飛航事故」應同步通報「國家運輸安全委員會（TTSB）」。

1. 運輸事故調查法所規定之遙控無人機飛航事故（詳述於 3.1.7）。
 - ※ 除向民航局通報外，亦應向國家運輸安全調查委員會（下稱運安會）通報。
 - ※ 運輸事故調查法第 9 條規定略以，運輸事故發生後，應於得知消息後 2 小時內通報運安會。疑似運輸事故發生後，應於得知消息後 24 小時內通報運安會。
 - ※ 運輸事故調查法第 32 條第 2 項規定略以，遙控無人機所有人或操作人，無正當理由未於期限內通報運安會事故或疑似事故者，處新臺幣 6 萬元以上 30 萬元以下罰鍰。
2. 最大起飛重量 2 公斤以上且裝置導航裝置之遙控無人機遭受實質損害或失蹤。
3. 於民用航空法第 99 條之 13 第 1 項至第 2 項範圍內從事活動之遙控無人機遭受實質損害或失蹤。
4. 從事民用航空法第 99 條之 14 第 1 項第 1 款至第 8 款活動之遙控無人機遭受實質損害或失蹤。
5. 發生與其他航空器或障礙物接近或碰撞之事故。
6. 民航局遙控無人機管理資訊系統之飛安事件填報路徑「登入遙控無人機管理資訊系統→行政作業管理系統→飛安事件填報」。

遙控無人機飛安相關事件報告表

編號/NO：

通報對象 Unit to be notified	通報電話 Phone No.		傳真號碼 FAX No. 電子郵件地址 e-mail Address		
<input type="checkbox"/> 民用航空局 Civil Aeronautics Administration	上班時間 / Working Hour (02)2349-6067 非上班時間 / Non-Working Hour (02)2349-6300		(02)2349-6400 drone@mail.caa.gov.tw		
<input type="checkbox"/> 國家運輸安全調查委員會	0800 - 004 - 066 0935 - 628 - 217		(02) 8912-7399 go_team@asc.gov.tw		
註冊號碼 Registration No.		構造/型式 Category/ Type			
起飛地點 Departure Point		起飛時間 Departure Time			
目的地 Destination		實際降落地點 Actual Landing Point			
事件發生日期 Date of Occurrence	年 Year	月 Month	日 Day		
事件發生時間 Time of Occurrence	上午 / 下午 AM / PM	時 Hour	分 Minute		
事件類別 Accident Classification	<input type="checkbox"/> 運輸事故調查法所規定之遙控無人機飛航事故。 <input type="checkbox"/> 最大起飛重量二公斤以上之遙控無人機遭受實質損害或失蹤。 <input type="checkbox"/> 於本法第九十九條之十三第一項至第二項範圍內從事活動之遙控無人機遭受實質損害或失蹤。 <input type="checkbox"/> 從事本法第九十九條之十四第一項第一款至第八款活動之遙控無人機遭受實質損害或失蹤。 <input type="checkbox"/> 發生與其他航空器或障礙物接近或碰撞之事故。				
事件發生地點 Location of Occurrence					
事件簡述：(如本欄不敷使用，請另用紙張填寫附上) Summary of Occurrence					
通報人 Notified by		通報人身分	<input type="checkbox"/> 所有人 <input type="checkbox"/> 操作人	聯絡電話 Phone No.	
以下請勿填寫 For official use only					
登記人 Duty Officer		通報登記時間 Notification recorded at	月 Month	日 Day	時 Hour
					分 Minute

圖 15 遙控無人機飛安相關事件報告表

首頁 / 行政作業管理系統 / 飛安事件填報

飛安事件填報

通報序號

通報人資料

通報人名稱 通報人英文姓名
 通報人帳號

操作人資料 同通報人

* 操作人姓名 請輸入操作人姓名 * 操作人英文姓名 請輸入操作人英文姓名
 * 操作人身分字號 請輸入操作人身分字號 * 操作證證號 請輸入操作證號

無人機資料

無人機資料註冊狀態 已註冊 未註冊

* 註冊號碼 請輸入註冊號碼
 * 自製 請選擇
 * 廠牌 請選擇
 * 型號 請選擇
 * 序號 請輸入序號

廠牌 請選擇 其它 請輸入其它廠牌
 型號 請選擇 其它 請輸入其它型號
 序號 請輸入序號

飛安事件資料

* 起飛時間 請點選日期 * 發生時間 請點選日期
 * 起飛地點 請選擇 請選擇 請輸入地址
 請選擇經緯度
 * 目的地 請選擇 請選擇 請輸入地址
 請選擇經緯度
 * 發生地點 請選擇 請選擇 請輸入地址
 請選擇經緯度

* 事件類型 飛航事故調查法所規定之遙控無人機飛航事故
 最大起飛重量二公斤以上之遙控無人機遭受實質損害或失蹤
 於本法第九十九條之十三第一項至第二項範圍內從事活動之遙控無人機遭受實質損害或失蹤
 從事本法第九十九條之十四第一項第一款至第八款活動之遙控無人機遭受實質損害或失蹤
 發生與其他航空器或障礙物接近或碰撞之事故

* 事件簡述 請輸入事件簡述

附件

圖 16 民航局遙控無人機管理資訊系統-飛安事件填報

3.5.1 運輸事故調查法所規定之遙控無人機飛航事故

「遙控無人機重大飛航事故調查作業處理規則」（簡稱處理規則）係依運輸事故調查法第 38 條規定訂定，運輸事故調查法所規定之遙控無人機飛航事故明訂於本規則。

處理規則第 3 條規定，遙控無人機重大飛航事故發生後，遙控無人機所有人或操作人及政府相關機關（構）應儘速將已知事故狀況通報運安會值日官。

遙控無人機所有人或操作人及政府相關機關（構）應通報運安會之事故如下：

1. 人員死亡或傷害。
 - ※ 死亡：該人直接觸及遙控無人機之任何部位，包括自機體分離之部分，而當場死亡者。
 - ※ 傷害：指受傷後 7 日之內須住院治療 48 小時以上者。
2. 最大起飛重量逾 25 公斤之遙控無人機遭受實質損害。
3. 實質損害：指遙控無人機損壞無法修復者。
4. 其他造成人民生命、財產重大影響者、或毀損超過新臺幣 50 萬元者。

3.5.2 其他遙控無人機飛航安全相關事件

1. 最大起飛重量 2 公斤以上且裝置導航裝置之遙控無人機遭受實質損害或失蹤，應向民航局通報。

法規釋義：

指使用包含機體、燃料、電池、負載設備及酬載等設計重量最大值為 2 公斤以上之遙控無人機從事飛航活動，遭受損壞至無法修復或失蹤者。

2. 於民用航空法第 99 條之 13 第 1 項至第 2 項範圍內從事活動之遙控無人機遭受實質損害或失蹤，應向民航局通報。

法規釋義：

指於活動區域紅區從事遙控無人機飛航活動，紅區包括：

- (1) 禁航區、限航區、航空站或飛行場四周之一定距離範圍內。
- (2) 前項範圍外、距地表高度不逾 400 呎、由直轄市、縣(市)政府公告之禁止或限制區域。

3. 從事民用航空法第 99 條之 14 第 1 項第 1 款至第 8 款活動之遙控無人機遭受實質損害或失蹤，應向民航局通報。

法規釋義：

指以下幾種列方式從事遙控無人機飛航活動：

- (1) 遙控無人機飛航活動之實際高度逾距地面或水面 400 呎。
 - ※ 「飛航規則」第 2 條第 1 項第 23 款規定，高度指自平均海平面至空中某平面或某點或某目標物間之垂直距離。
 - ※ 「飛航規則」第 2 條第 1 項第 51 款規定，實際高度指自特定基準至某平面、某點、或某目標物間之垂直距離。
 - ※ 「飛航規則」第 60 條規定，有人駕駛航空器目視飛航最低實際高度，不得低於距地面或水面 500 呎，故遙控無人機高度若超過 400 呎，則極有可能影響有人駕駛航空器之飛航。
 - ※ 在航空器駕駛員認知中，高度之計算主要有下列 5 種，遙控無人機操作人應有基本認識：
 - i. 指示高度 (Indicated altitude)：為由高度表所顯示出來的高度，基準面為海平面，但是壓力調撥值為當地之大氣壓

力值。

- ii. 真高度 (True altitude) : 航空器高於平均海平面 (MSL , mean sea level) 的垂直距離，俗稱海拔高度。一般在航圖看到的高度，包括機場、地形、或障礙物的標高都是 MSL。
- iii. 絕對高度 (Absolute altitude) : 通常是指經由電波/雷達高度表所顯示出來的高度，基準為地面，但沒有壓力高度表的壓力調撥值問題。常用高於地平面 (AGL , above ground level) 來表示。飛機在通過或降落高山地區的空域時，使用絕對高度作為參考就比使用指示高度或壓力高度來得安全。
- iv. 壓力高度 (Pressure altitude) : 為由高度表所顯示出來的高度，基準面為標準參考面，也就是壓力調撥值不論是在那裡都設定為 29.92 in-Hg。壓力高度用以計算密度高度、真高度、真空速、及其他性能資料。
- v. 密度高度 (Density altitude) : 為將壓力高度值對溫度校驗後的高度。如果大氣溫度符合國際標準大氣的狀況，密度高度等於壓力高度。監控密度高度最主要的目的係藉由瞭解當前空氣密度，以正確計算飛機性能值。

(2) 以遙控無人機投擲或噴灑任何物件。

※ 投擲舉例：投放海釣拋餌。

※ 噴灑舉例：噴灑農藥。

(3) 裝載依第 43 條第 3 項公告之危險物品。

※ 「危險物品空運管理辦法」第 3 條規定，危險物品之分類如下：

第一類：爆炸物品。

* 舉例：具劇烈爆炸危險性、具火焰噴出危險性、具顯著危險性等。

第二類：氣體。

* 包括：易燃氣體、非易燃無毒氣體、毒性氣體等。

第三類：易燃液體。

第四類：易燃固體、自燃物質、遇水釋放易燃氣體之物質。

第五類：氧化物、有機過氧化物。

第六類：毒性物質、傳染性物質。

第七類：放射性物質。

第八類：腐蝕性物質。

第九類：其他危險物品。

- * 危險物品之分類基準，依國際民用航空組織之「危險物品航空安全運送技術規範」之規定。

(4) 依民航法第 99 條之 17 所定規則之操作限制。

※ 遙控無人機管理規則第 28 條第 1 項所訂之應遵循事項如下：

- i. 應遠離高速公路、快速公(道)路、鐵路、高架鐵路、地面或高架之大眾捷運系統、建築物及障礙物 30 公尺以上。
- ii. 不得於移動中之航空器、車輛或船艦上操作遙控無人機。
- iii. 最大起飛重量未達 25 公斤且裝置導航設備之遙控無人機最大飛行速度每小時不得超過 87 海里或 160 公里。
- iv. 延伸視距飛航者，最大範圍為以操作人為中心半徑 900 公尺、相對地面或水面高度低於 400 呎內之區域，且目視觀察員應與遙控無人機保持目視接觸，並提供操作人必要之飛航資訊。

(5) 於人群聚集或室外集會遊行上空活動。

※ 「集會遊行法」第 2 條規定，集會指於公共場所或公眾得出入之場所舉行會議、演說或其他聚眾活動。遊行指於市街、道路、巷弄或其他公共場所或公眾得出入之場所之集體行進。

(6) 於日落後至日出前之時間從事遙控無人機飛航活動。

※ 日出及日落係指太陽中心與地平線重合之時間，依中央氣象局公布為準。

※ 太陽中心在地平線下 6° 稱為民用曙光/民用暮光(日出前/日落後約 24 分鐘)， 12° 稱為航海曙光/航海暮光(日出前/日落後約 48 分鐘)， 18° 稱為天文曙光/天文暮光(日出前/日落後約 72 分鐘)。

(7) 在目視範圍外操作，或以除矯正鏡片外之任何工具延伸飛航作

業距離。

※ 常見的矯正鏡片有：適用於近視、遠視、老花的單光鏡片，適用於斜視的稜鏡鏡片，適用於有老花的近視、遠視、散光的漸進多焦鏡片等。

※ 矯正鏡片的佩戴方式有：框架眼鏡、隱形眼鏡。

(8) 操作人在同一時間控制 2 架以上遙控無人機。

※ 以目前遙控無人機操作負荷，其控制台及系統非經特殊設計尚無法同時控制 2 架以上遙控無人機。

4. 發生與其他航空器或障礙物接近或碰撞之事故。

※ 「飛航規則」第 20 條第 2 項規定，航空器不得與其他航空器接近至有肇致碰撞危險之程度。

※ 無人機碰撞舉例：

i. 2016 年一架在倫敦希斯洛機場下降中的英航客機疑似遭受無人機撞擊客機前端，所幸客機平安降落。

ii. 2017 年一架無人機在加拿大魁北克機場與下降中的 Skyjet 客機發生碰撞，機身蒙皮受損，所幸客機平安降落。

iii. 2017 年英國發生 92 次無人機與客機相遇的事件。

第4章 系統知識與緊急處置程序

遙控無人機管理規則自民國 109 年 3 月 31 日施法以來，已累積許多運作經驗與各界回饋建議，為使屆期換證學科測驗符合實際業務需求，並結合遙控無人機實務應用特性，爰於本學科測驗指南增設此章節作為銜接術科測驗的橋樑，將實務面常見的問題以問答的方式呈現，以便讀者能遙控無人機系統的相關知識，並在操作發生非預期的緊急情況時能即時執行適當的反應，避免造成災害發生。

※ 遙控無人機系統:係指遙控無人機（機體）、遙控設備、通訊及控制信號鏈路以及其他附屬裝置組合而成的完整系統。

4.1 遙控無人機系統知識

此節適用於無人飛機、無人直昇機、無人多旋翼機等無人機，簡列一般通用性的無人機系統知識，讓讀者了解有關「動力與螺旋槳」、「電池與馬達」、「飛行與環境」之無人機系統相關知識。

4.1.1 「動力與螺旋槳」

1. 無人機的動力系統大致分為哪 2 大類？

答：大致分為馬達（電動式）及引擎（內燃機式）等 2 大類。

2. 電動無人機的動力系統包括哪些部分？

答：由（動力）馬達、電池、調速系統（電子調速器，ESC，electronic speed controller）以及螺旋槳組成。

3. 無人機動力系統中的馬達大部分屬於哪一類？

答：大部分屬於無刷直流馬達（brushless DC motor）或簡稱無刷馬達。無刷式直流馬達較傳統有刷式安全且可靠。

4. 功率的定義為何？

答：功率的定義為：每單位時間（t，秒）所作的功或所消耗的能量

(J , 焦耳) , 功率 = 功 (能量) / 時間 (J/t , 焦耳/秒)

5. 功率的常用單位有哪些？

答：功率常用的公制單位為瓦 (W , watt) , $1 W = 1 J/s$; 英制單位為馬力 (HP , horse power) , $1 HP = 746 W$ 。

6. 無人機機翼的升力公式為？

答： $L = \frac{1}{2} C_L \rho V^2 S$ 。

7. 升力公式中的符號代表什麼意思？

答： C_L ：翼切面之升力係數 (隨攻角變化)

ρ ：空氣密度 (在 1,013.25 hPa、15°C 時，空氣密度大約為 1.225 kg/m^3)

V ：翼切面速度 (就是空速)

S ：機翼面積

8. 升力公式中的升力係數的單位為何？

答：升力係數為無因次 (dimensionless) 。升力係數為升力壓力密度與動壓之比值。

9. 無人機所用的螺旋槳的型號代表的意義為何？

答：前兩碼為槳的直徑 (長度) ，後兩碼代表槳的螺距，單位皆為英吋。例如：型號 1555 的槳，直徑為 15 英吋，螺距為 5.5 英吋。

10. 無人機所用的螺旋槳槳葉數量與效率的關係為何？

答：槳葉數量越少，效率越高；舉例來說，如果軸距、電池規格、及起飛重量等相同，四旋翼無人機的飛行時間大於六旋翼無人機。

11. 螺旋槳螺距的意思為？

答：想像螺旋槳在某個不能流動的介質中沿螺旋槳軸向旋轉往前，繼續

不斷旋轉就會沿螺旋槳軸向產生一段螺旋 (screw) ，同一片槳葉旋轉一圈所產生螺旋的軸向距離即為螺距 (propeller pitch) 。一般固定螺距的螺旋槳上都會標明螺距的大小 (單位通常為英吋) 。

12. 螺旋槳的材質為何？

答：一般為硬質塑膠、碳纖維、及硬質木頭等。

13. CW、CCW 哪個是順時針哪個是逆時針？

答：CW (clockwise) 為順時針，CCW (counterclockwise) 為逆時針。

14. 如何選配適當的螺旋槳？

答：螺旋槳可依不同的 KV 值作選配 (KV 詳見本節第 22 題) 。

(1) KV 值較大者選用高速槳 (小螺距、小尺寸槳) ，KV 值較小者選用低速槳 (大螺距、大尺寸槳) ；

(2) KV 值相同時，馬達功率越高者，選用低速槳 (大螺距、大尺寸槳) 以提升效率。

4.1.2 「電池與馬達」

1. 以下為無人機所用電池的型號，12,000 mAh、6s、鋰聚合物電池、15c 放電倍率，其代表的意義為？

答：6s 係代表該電池係由 6 片電池芯串連組成，標稱電壓是 $3.7 \times 6 = 22.2 \text{ V}$ ，滿電電壓是 25.2 V 。12,000 mAh 代表的意義為在 12,000 mA (12A) 的電流下，電池可以放電一小時，代表電池的容量。15c 代表的意義為電池的最大放電倍數為 15 倍，無人機電池最大的放電電流為 $12,000 \times 15 = 180,000 \text{ mA}$ (180 A) 。

2. 電池的測電工具一般有？

答：測電工具有低電量警報器、分壓測電器及三用電表等。

3. 6s 的電池有幾條線？

答：若是透過分壓方式充電則「n」s 的電池有 n+1 條線，多的一條為地線，所以 6s 電池有 7 條線。

4. 鋰電池的充電電流一般為？（標稱容量的一半，即 0.5c）

答：電池充電一般不用大於 1c 的電流充電，一般用 0.5c。例如：4,200 mAh 的電池不要用超過 4.2A 的電流充電，一般用 2.1 A 電流充電。

5. 電池串聯時，電壓和電容量的變化為？

答：電池串聯時電壓會增加（ $V = V_1 + V_2 + \dots$ ），電容量減少（ $1/C = 1/C_1 + 1/C_2 + \dots$ ）。例如：6s 電池為 6 塊電池串聯。

6. 電池並聯時，電壓和電容量的變化？

答：電壓不變，電容量升高。例如：3p 電池為 3 塊電池並聯。

7. 無人機的馬達型號，其代表的意義為？

答：前兩碼為馬達定子繞線線圈的直徑，後兩碼為馬達定子繞線線圈的高度。例如：「4110」馬達代表馬達定子繞線線圈的直徑為 41 mm，高度為 10 mm。

8. KV 值代表的意義為？

答：其單位為 rpm/V，代表馬達在 1V 電壓下的每分鐘轉速（rpm，revolutions per minute）；KV 值越小，則馬達扭矩越大，但轉速越低。例如：400 KV 在 1 V 電壓下每分鐘 400 轉。

9. 無人機使用馬達的理論空轉轉速如何計算？

答：以訓練機使用的小馬達為例，其 KV 值為 400，標稱電壓為 22.2 V，因此馬達的空轉轉速為 $400 \times 22.2 = 8,880$ 轉。

10. 有刷馬達和無刷馬達的區別為？

答：有刷馬達是把磁鐵固定在馬達外殼或者基座上，成為定子，然後將線圈纏繞成為轉子；無刷是把線圈繞在定子之上，然後把磁鐵做成

轉子；無刷的優點是轉動的是磁鐵而不是線圈，因此減少了碳刷這個消耗品。

11. 有刷馬達的優點為何？

答：(1) 結構簡單；(2) 起動扭矩大；(3) 起動及煞車平穩；(4) 控制精度高；(5) 使用成本低、維修方便。

12. 無刷馬達的優點為何？

答：(1) 無電刷、低干擾；(2) 噪音低、運轉摩擦力小；(3) 壽命長、低維護成本。

13. 無刷馬達有幾條輸入線？

答：有 3 條輸入線，這 3 條線與電子調速器連接。

14. 無人機的電子調速器型號及其代表的意義為？

答：假設無人機用的是 30 A 的電子調速器，代表電子調速器最大允許通過電流大小為 30 A，如果超過 30 A 電子調速器會燒壞。

15. 電子調速器的輸入線有幾條？輸出線有幾條？分別接哪裡？

答：無刷電子調速器有 2 條較粗與 1 條較細的 3 合 1 輸入線，粗的 2 條輸入線 1 黑 1 紅，連接電池供電，細的 1 條 3 合 1 輸入線連接控制板，接收控制板的 PWM (pulse-width modulation，脈波寬度調變) 訊號；輸出端為 3 條粗線，連接到無刷馬達，根據控制板的訊號將輸入端的電流轉換成 3 相交流電輸出，以控制無刷馬達的轉速。

16. PWM (pulse-width modulation，脈波寬度調變) 是什麼？

答：PWM 是將類比訊號轉換為脈波一種技術，一般轉換後脈波的週期固定，但脈波的工作週期會隨類比訊號的大小而改變。

17. 電子調速器損壞後可用更大或更小的電子調速器代替嗎？

答：只能用更大的電子調速器代替，不能用更小的代替，以免電流超過

電子調速器上限。

18. 電子調速器的作用為？

答：將輸入的直流電轉換成 3 相交流電、對馬達進行調速、帶 BEC (battery eliminator circuit, 去電池電路) 功能的電子調速器可對電源電壓進行降壓，並輸出 5 V 電壓以供電至飛控電腦、遙控鏈路元件或伺服舵機等機載設備。

19. 若某六軸無人機使用 30 A 電子調速器，選擇什麼規格電池合適？

答：最大放電電流需小於 $6 \times 30 = 180$ A。

20. 電池使用應注意哪些項目？

答：合適的電池容量、合適的 s 數、安全的電池安裝、及穩固的連結至系統等。

4.1.3 「飛行與環境」

1. 空氣密度與密度高度的關係為何？

答：空氣密度減少表示較高的密度高度，空氣密度增加表示較低的密度高度。

2. 空氣密度與動力輸出的關係為何？

答：空氣密度減少，馬達/引擎的動力輸出隨之降低。例如，同樣 2,300 rpm 在 5,000 呎 (較低空氣密度) 產生的馬力較低，在海平面 (較高空氣密度) 產生的馬力較高。

3. 空氣密度受哪些因素影響？

答：空氣密度受高度/壓力、溫度、及濕度等因素影響。

4. 高度/壓力如何影響空氣密度及無人機飛行？

答：高度越高，壓力越低，空氣密度越低；在 18,000 呎的空氣密度僅為在海平面的一半，所以在一定攻角、較高高度下為保持升力，須以較高的真空速飛行。

5. 溫度如何影響空氣密度及無人機飛行？

答：暖空氣的密度低於冷空氣，所以在一定攻角、較高溫度下為保持升力，須以較高的真空速飛行。

6. 濕度如何影響空氣密度及無人機飛行？

答：濕空氣的密度低於乾空氣，所以在一定攻角、較高濕度下為保持升力，須以較高的真空速飛行。

7. 如何區分四軸無人機的正反槳？

答：四軸飛行為了抵消螺旋槳的自旋，相鄰的螺旋槳旋轉方向會相反，而流線皆是由上往下流動，所以需要區分出正反槳，順時針旋轉的為正槳、逆時針旋轉的為反槳。（槳葉圓潤的一面要和馬達旋轉方向一致）。

8. 多軸無人機（無人多旋翼機）如何達到平穩飛行的目的？

答：

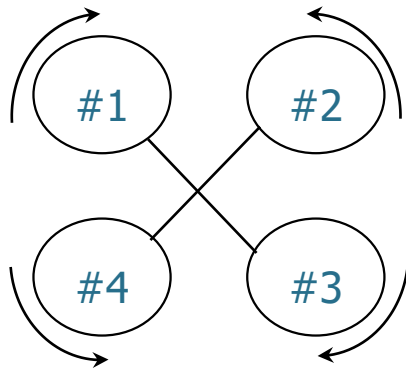


圖 17 無人多旋翼機排列示意圖

- (1) 如圖 17，首先依序將旋翼編號為#1、#2、#3、...，如：四軸無人機為#1~#4，六軸無人機為#1~#6，八軸無人機為#1~#8；
- (2) 再將相鄰的螺旋槳（旋翼）旋轉方向設定相反，如：#1、#3、...的旋轉方向為順時針，#2、#4、...的旋轉方向為逆時針。
- (3) 飛行時，依據牛頓第 3 定律（作用力等於反作用力），#1、#3、...所產生的逆時針反作用力與#2、#4、...所產生的順時針反作用力互相抵銷，達到平穩飛行的目的。

9. 多軸無人機（無人多旋翼機）如何實現各種動作？

答：依據牛頓第 3 定律（作用力等於反作用力），以電子調速器調配各個螺旋槳（旋翼）的轉速來實現各種動作。

10. 四軸無人機如何前後飛行？

答：（如圖 17，依序將螺旋槳編號為#1、#2、#3、#4，#1、#3 順時針旋轉，#2、#4 逆時針旋轉）

- (1) 將#3、#4 加速，同時將#1、#2 減速，因為後部的升力大於前部，無人機以傾斜姿態向前飛行；
- (2) 將#3、#4 減速，同時將#1、#2 加速，因為前部的升力大於後部，無人機以傾斜姿態向後飛行。

11. 四軸無人機如何側向飛行？

答：（如圖 17，依序將螺旋槳編號為#1、#2、#3、#4，#1、#3 順時針旋轉，#2、#4 逆時針旋轉）

- (1) 將#2、#3 加速，同時將#1、#4 減速，無人機以傾斜姿態向左飛行；
- (2) 將#2、#3 減速，同時將#1、#4 加速，無人機以傾斜姿態向右飛行。

12. 四軸無人機如何原地轉向？

答：（如圖 17，依序將螺旋槳編號為#1、#2、#3、#4，#1、#3 順時針旋轉，#2、#4 逆時針旋轉）

- (1) #1、#3 加速，#2、#4 減速，因為逆時針反作用力大於順時針反作用力，無人機原地逆時針轉向；
- (2) #1、#3 減速，#2、#4 加速，因為順時針反作用力大於逆時針反作用力，無人機原地順時針轉向。

13. 四軸無人機如何垂直升降？

答：（如圖 17，依序將螺旋槳編號為#1、#2、#3、#4，#1、#3 順時

針旋轉，#2、#4 逆時針旋轉)

- (1) 所有螺旋槳同時加速，因為升力大於重力，無人機垂直上升；
- (2) 所有螺旋槳同時減速，因為升力小於重力，無人機垂直下降。

14. 四軸無人機在空中有幾個自由度？

答：6 個自由度，分別是上下、前後、左右，滾轉、俯仰、及偏航等。

15. 無人機如何飛最省電？

答：勻速飛行時最省電。

16. 直昇機揮舞運動和擺振運動的定義為何？

答：直昇機槳葉上下擺動（上下撲動、翼動或拍動，flapping），即為揮舞運動；槳葉前後運動（前後擺動、縱搖或拖動，lead and flag），即為擺振運動。

17. 無人機飛行前應做哪些必要檢查？

答：遙控器或地面導控站、無人機飛行前檢查項目、周邊環境及天氣等。

18. 無人機飛行前地面導控站應做哪些檢查？

答：GPS 衛星數、地面導控站電量、數傳信號、及其他告警訊息（羅盤、加速規等）等。

19. 無人機飛行前遙控器應做哪些檢查？

答：遙控器電量、遙控動作與無人機匹配性及搖桿微調位置合適性（如適用）等。

20. 無人機飛行前機身（含電池）應做哪些檢查？

答：電池電量充足、螺旋槳和機架完整、螺絲鎖接緊密、及起落架功能正常等。

21. 無人機飛行前周邊環境應做哪些檢查？

答：風速與風向、障礙物、距離、地磁與其他干擾、及避開人口聚集區域等。

22. 無人多旋翼機一般由哪些部件組成？

答：由機架、中心板、馬達、電子調速器、槳葉、飛控、腳架、電池、遙控器、機臂及遙控鏈路收發設備等元件組成。

23. 有哪些感測器用來測量無人機方位、高度和速度？

答：GPS、羅盤、氣壓計、及3軸陀螺儀/3軸加速規慣性測量模組等。

24. 無人機的特性一般可以從何描述？

答：軸距（適用於無人多旋翼機）、重量、抗風能力、巡航速度與最大速度、升限、及單人操作還是多人協同操作等。

25. 無人多旋翼機的載荷能力如何？

答：通常無人多旋翼機的載荷比（載重/最大起飛重量）約為1/4左右，故最大起飛重量10公斤的無人多旋翼機約可載重2.5公斤。

26. GPS天線為何需要天線支架？

答：GPS的準確性與接收衛星的顆數有關，用一根支架將GPS支在高處，是為了防止電源板有電磁干擾，也可以避免GPS靠近任何強磁性的物體。

27. IMU (inertial measurement unit, 慣性量測單元) 的定義為？

答：IMU 是用3個軸向的陀螺儀 (gyroscope) 及3個軸向的加速規 (accelerometer)，來量測無人機3個軸向的姿態角 (俯仰角、滾轉角、及航向角等) 及加速度，並據以解算出無人機姿態的裝置。

28. 陀螺儀 (gyroscope) 的定義為？

答：陀螺儀主要由一個位於軸心的轉子構成，依據角動量守恆原理，轉子旋轉時產生的角動量有抗拒方位改變的特性，用此特性來感測和

維持方位及角速度的裝置。

29. 加速規 (accelerometer) 的定義為？

答：加速規又稱加速度計，利用壓電效應、壓阻效應、或電容式感應等作用原理，來測量加速度的裝置。

30. 歸航點 (home point) 的定義為？

答：遙控無人機利用全球導航衛星系統 (Global Navigation Satellite System , GNSS) 或即時動態定位技術 (Real Time Kinematic , RTK) 於機體啟動時自動記錄或由操作人手動記錄之初始座標位置資訊，一般作為飛航任務中返航模式 (Return To Home , RTH) 之目的地航點 (Waypoint , WP) 使用。

4.2 緊急處置程序

此節並未包含遙控無人機所有適用機型及空中異常狀態，僅將操作人實際執行飛航作業時可能發生之常見緊急情況列出，並依遙控無人機構造區分為「無人飛機」及「無人直昇機與多旋翼機」兩類型，再依「視距內」或「視距外」兩種操作情境分別制定相應之緊急處置程序，以供從事飛航活動之操作人、活動負責人及其他相關從業人員，作為空中應急操作及擬定運營單位或機型專屬緊急程序時之參考準則，亦可供專業操作證術科測驗應考人執行「緊急處置程序口頭問答」項目之應答依據。

4.2.1 引擎或動力系統失效 (In Flight Shutdown) :

(一) 無人飛機：

1. 視距內：

立即切換至適當之操作模式 (Flight Mode)，及時依現場風向風速妥適調整航向及各操縱面以保持空速 (Airspeed) 及姿態，目視航機儘速尋找安全地點實施異地迫降，或於航機高度足夠下採飄降 (glide) 方式返場降落。

2. 視距外：

(1) 立即 (依原廠操作手冊指示，如適用) 切換至適當之操作模式。

(2) 依航機回傳之即時飛航資訊妥適調整航向及各操縱面以保持空速及姿態，並立即採取減災飛行決策，判斷航機當下高度能否實施緊急飄降返場。

(3) 若判斷當下高度不足以飄降返回本場，參考姿態儀 (亦即姿態航向參考系統，AHRS，Attitude & Heading Reference System) 及酬載 (Payload) 影像，儘速以飄降方式將航機飛至安全區域實施異地迫降。

(4) 若判斷當下高度足以飄降返回本場，立即修正航向後妥適調整

航機姿態，使航機保持最佳飄降速度（**Best Glide Speed**，最佳飄降速度定義為：無風環境下，無動力之定翼機下降單位高度可定向飛行最大距離之空速。）儘速飄降返回本場降落。

(二)無人直昇機與多旋翼機：

1. 視距內：

立即切換至適當之操作模式並採取減災飛行決策，以航機尚存動力嘗試穩定姿態減緩下降率，儘速以目視方式尋找安全地點實施異地迫降（構造屬直昇機者應儘速將操作模式切換至 **HOLD**，並考量當下高度與風向等因素實施熄火降落處置），迫降時應盡可能遠離人、車、建築等障礙物，儘量將損害降至最低。

2. 視距外：

- (1) 立即（依原廠操作手冊指示，如適用）切換至適當之操作模式並採取減災飛行決策。
- (2) 依航機回傳之即時飛航資訊及酬載影像判斷當下高度與位置。
- (3) 若航機尚存部份動力，應儘速穩定姿態並減緩下降率，以第一人稱方式尋找安全地點實施異地迫降處置（構造屬直昇機者應儘速將操作模式切換至 **HOLD**，並考量當下高度與風向等因素實施第一人稱熄火降落處置），迫降時應盡可能遠離人、車、建築等障礙物，儘量將損害降至最低。
- (4) 若航機已完全喪失可控性，應立即記錄最終定位座標，在人員無安全疑慮前提下儘速前往可能之墜落地點查看，以確認未引起火災或其他二次災害，並於紀錄及檢視損害情形後清理現場，以免造成環境污損。視需要聯絡災防或環保單位到場進行必要處置，並於時效內將事件通報民航局。

4.2.2 發電機失效（動力系統正常）：

(一)無人飛機：

1. 視距內：

立即關閉航機非必要之酬載設備以減緩蓄電池之電力消耗，將電力留存供伺服舵機及飛控電腦等必要裝備使用，以目視方式穩定姿態並保持勻速飛行，儘速返場降落。

2. 視距外：

(1) 立即關閉航機除第一人稱影像外之非必要酬載設備，以減緩蓄電池之電力消耗，將電力留存供伺服舵機及飛控電腦等必要裝備使用。

(2) 參考航機回傳之即時飛航資訊及酬載影像，以第一人稱方式穩定姿態並保持勻速飛行，儘速返場降落。

(二)無人直昇機與多旋翼機：

1. 視距內：

立即關閉航機非必要之酬載設備以減緩蓄電池之電力消耗，將電力留存供伺服舵機及飛控電腦等必要裝備使用，以目視方式穩定姿態並保持勻速飛行，儘速返場降落。

2. 視距外：

(1) 立即關閉航機除第一人稱影像外之非必要酬載設備，以減緩蓄電池之電力消耗，將電力留存供伺服舵機及飛控電腦等必要裝備使用。

(2) 參考航機回傳之即時飛航資訊及酬載影像，以第一人稱方式穩定姿態並保持勻速飛行，儘速返場降落。

4.2.3 上傳鏈路失效 (Uplink Loss , C2 Link Loss)：

(一) 無人飛機：

1. 視距內：

(1) 立即分析上傳鏈路失效原因係屬干擾/遮蔽、地面導控站 (發

射端) 異常、或航機(接收端) 異常。

- (2) 若為訊號干擾/遮蔽，應立即檢查天線配置或移動地面導控站位置嘗試恢復鏈路通訊，並以肉眼檢視週遭潛在遮蔽物及干擾源，待航機恢復控制後應立即轉向或爬升脫離，以避免再次斷訊；干擾/遮蔽狀況若持續，應立即切換至適當之操作模式或啟動返航模式，全程與航機保持目視，並於恢復控制後儘速以穩定姿態返場降落。
- (3) 若為地面導控站異常，應立即檢診其電源、天線及硬體線路接頭，必要時可更換模組或重新開機以嘗試恢復控制鏈路，通訊恢復後切換至適當之操作模式，儘速以穩定之飛行姿態返場降落。
- (4) 若無法恢復控制鏈路或航機接收端異常，航機將依失效保護機制 (Fail Safe) 之設定自動進入返航模式，此時應目視監控航機是否正確返回歸航點盤旋或降落，視需要疏導地面人員及車輛儘速淨空歸航點周邊區域，以預留自動降落/傘降及定位誤差所需之安全隔離。

2. 視距外：

- (1) 立即分析上傳鏈路失效原因係屬干擾/遮蔽、地面導控站(發射端) 異常、或航機(接收端) 異常。
- (2) 若為訊號干擾/遮蔽，應立即檢查天線配置或移動地面導控站位置嘗試恢復鏈路通訊，並以地圖介面或酬載影像檢視週遭潛在遮蔽物及干擾源，待航機恢復控制後應立即轉向或爬升脫離，以避免再次斷訊；干擾/遮蔽狀況若持續，應立即切換至適當之操作模式或啟動返航模式，並於恢復通訊後參考及時飛航資訊即酬載影像，儘速以第一人稱方式穩定返場降落。
- (3) 若為地面導控站異常，應立即檢診其電源、天線及硬體線路接頭，必要時可更換模組或重新開機以嘗試恢復控制鏈路，通訊恢復後切換至適當之操作模式，儘速以穩定之飛行姿態返場降

落。

- (4) 若無法恢復控制鏈路或航機接收端異常，航機將依失效保護機制 (**Fail Safe**) 之設定自動進入返航模式，此時可利用地圖介面、即時飛航資訊及酬載影像，全程監控航機是否正確返回歸航點盤旋或降落，視需要疏導地面人員及車輛儘速淨空歸航點周邊區域，以預留自動降落/傘降及定位誤差所需之安全隔離。

※ **C2 Link** (**Command and Control Link**，控制信號鏈路)，係指遙控無人機系統中，地面導控站或遙控器等地面端遙控設備與空中端遙控無人機間之命令與控制鏈路。

(二) 無人直昇機與多旋翼機：

1. 視距內：

- (1) 立即分析上傳鏈路失效原因係屬干擾/遮蔽、地面導控站/遙控器 (地面端) 異常、或航機 (空中端) 異常。
- (2) 若為訊號干擾/遮蔽，應立即檢查天線配置或移動地面導控站位置嘗試恢復鏈路通訊，並以肉眼檢視週遭潛在遮蔽物及干擾源，待航機恢復控制後應立即轉向或升高脫離，以避免再次斷訊；干擾/遮蔽狀況若持續，應立即切換至適當之操作模式或啟動返航模式，全程與航機保持目視，並於恢復控制後儘速以穩定姿態返場降落。
- (3) 若為地面導控站異常，應立即檢診其電源、天線及硬體線路接頭，必要時可更換模組或重新開機以嘗試恢復控制鏈路，通訊恢復後切換至適當之操作模式，儘速以穩定之飛行姿態返場降落。
- (4) 若無法恢復控制鏈路或航機接收端異常，航機將依失效保護機制 (**Fail Safe**) 之設定自動進入返航模式，此時應目視監控航機是否正確返回歸航點懸停或降落，視需要疏導地面人員及車輛儘速淨空歸航點周邊區域，以預留自動降落及定位誤差所需

之安全隔離。

2. 視距外：

- (1) 立即分析上傳鏈路失效原因係屬干擾/遮蔽、地面導控站/遙控器（地面端）異常、或航機（空中端）異常。
 - (2) 若為訊號干擾/遮蔽，應立即檢查天線配置或移動地面導控站位置嘗試恢復鏈路通訊，並以地圖介面或酬載影像檢視週遭潛在遮蔽物及干擾源，待航機恢復控制後應立即轉向或升高脫離，以避免再次斷訊；干擾/遮蔽狀況若持續，應立即切換至適當之操作模式或啟動返航模式，並於恢復通訊後參考及時飛航資訊即酬載影像，儘速以第一人稱方式穩定返場降落。
 - (3) 若為地面導控站異常，應立即檢診其電源、天線及硬體線路接頭，必要時可更換模組或重新開機以嘗試恢復控制鏈路，通訊恢復後切換至適當之操作模式，儘速以穩定之飛行姿態返場降落。
 - (4) 若無法恢復控制鏈路或航機接收端異常，航機將依失效保護機制（**Fail Safe**）之設定自動進入返航模式，此時可利用地圖介面、即時飛航資訊及酬載影像，全程監控航機是否正確返回歸航點懸停或降落，視需要疏導地面人員及車輛儘速淨空歸航點周邊區域，以預留自動降落及定位誤差所需之安全隔離。
- ※ 多數飛行控制器系統，其上傳鏈路（遙控訊號）之失效保護預設值因系統、環境及任務特性之不同而有所差異，應於飛行前確認失效保護機制之觸發動作係自動返航、原地降落或原地盤旋/懸停，若為自動返航應再確認其預設之返航高度係屬安全且合理之數值，以避免返航途中撞擊地形地障之意外發生。

4.2.4 下傳鏈路失效（**downlink loss**）：

（一）無人飛機：

1. 視距內：

- (1) 立即分析下傳鏈路失效原因係屬干擾/遮蔽、地面導控站（接收端）異常、或航機（發射端）異常。
- (2) 若為訊號干擾/遮蔽，應立即檢查天線配置或移動地面導控站位置嘗試恢復鏈路通訊，並以肉眼檢視週遭潛在遮蔽物及干擾源，儘速執行轉向或爬升操作予以脫離，以避免再次斷訊；干擾/遮蔽狀況若持續，應立即切換至適當之操作模式或啟動返航模式，並全程與航機保持目視，儘速以穩定姿態返場降落。
- (3) 若為地面導控站異常，應立即檢診其電源、天線及硬體線路接頭，必要時可更換模組或重新開機以嘗試恢復鏈路通訊，並切換至適當之操作模式，儘速以穩定之飛行姿態返場降落。
- (4) 若無法恢復下傳鏈路或航機發射端異常，應立即切換至適當之操作模式或啟動返航模式，並全程與航機保持目視，儘速控制航機以穩定姿態返場降落。

2. 視距外：

- (1) 立即分析下傳鏈路失效原因係屬干擾/遮蔽、地面導控站（地面端）異常、或航機（空中端）異常。
- (2) 若為訊號干擾/遮蔽，應立即檢查天線配置或移動地面導控站位置嘗試恢復鏈路通訊，並參考航機飛行軌跡及斷訊前回傳之飛航資訊與酬載影像，儘速執行轉向或爬升操作以脫離干擾/遮蔽區域；干擾/遮蔽狀況若持續，應立即切換至適當之操作模式或啟動返航模式，並於下傳鏈路恢復後以第一人稱方式，儘速以穩定姿態返場降落。
- (3) 若為地面導控站異常，應立即檢診其電源、天線及硬體線路接頭，必要時可更換模組或重新開機以嘗試恢復鏈路通訊，並切換至適當之操作模式或啟動返航模式，待下傳鏈路恢復後以第一人稱方式，儘速以穩定之飛行姿態返場降落。
- (4) 若無法恢復下傳鏈路或航機發射端異常，應立即採取減災飛行決策，並切換至適當之操作模式或啟動返航模式，嘗試恢復鏈

路通訊後以第一人稱方式，儘速控制航機以穩定姿態返場降落；若已超過滯空時間持續未見航機返航，代表航機可能已失事，應立即採取地面搜索及善後措施，並進行必要之通報。

(二) 無人直昇機與多旋翼機：

1. 視距內：

- (1) 立即分析下傳鏈路失效原因係屬干擾/遮蔽、地面導控站（地面端）異常、或航機（空中端）異常。
- (2) 若為訊號干擾/遮蔽，應立即檢查天線配置或移動地面導控站位置嘗試恢復鏈路通訊，並以肉眼檢視週遭潛在遮蔽物及干擾源，儘速執行轉向或升高操作予以脫離，以避免再次斷訊；干擾/遮蔽狀況若持續，應立即切換至適當之操作模式或啟動返航模式，並全程與航機保持目視，儘速以穩定姿態返場降落。
- (3) 若為地面導控站異常，應立即檢診其電源、天線及硬體線路接頭，必要時可更換模組或重新開機以嘗試恢復鏈路通訊，並切換至適當之操作模式，儘速以穩定之飛行姿態返場降落。
- (4) 若無法恢復下傳鏈路或航機發射端異常，應立即切換至適當之操作模式或啟動返航模式，並全程與航機保持目視，儘速控制航機以穩定姿態返場降落。

2. 視距外：

- (1) 立即切換至適當之操作模式保持原處懸停，並分析下傳鏈路失效原因係屬干擾/遮蔽、地面導控站（地面端）異常、或航機（空中端）異常。
- (2) 若為訊號干擾/遮蔽，應立即檢查天線配置或移動地面導控站位置嘗試恢復鏈路通訊，並參考航機飛行軌跡及斷訊前回傳之飛航資訊與酬載影像，儘速執行轉向或上升操作以脫離干擾/遮蔽區域；干擾/遮蔽狀況若持續，應立即切換至適當之操作模式或啟動返航模式，並於下傳鏈路恢復後以第一人稱方式，

儘速以穩定姿態返場降落。

- (3) 若為地面導控站異常，應立即檢診其電源、天線及硬體線路接頭，必要時可更換模組或重新開機以嘗試恢復鏈路通訊，並切換至適當之操作模式或啟動返航模式，待下傳鏈路恢復後以第一人稱方式，儘速以穩定之飛行姿態返場降落。
- (4) 若無法恢復下傳鏈路或航機發射端異常，應立即採取減災飛行決策，並切換至適當之操作模式或啟動返航模式，嘗試恢復鏈路通訊後以第一人稱方式，儘速控制航機以穩定姿態返場降落；若已超過該機型合理滯空時間而持續未見航機返航，代表航機可能已失事，應立即採取地面搜索及善後措施，並進行必要之事件通報程序。

4.2.5 衛星定位訊號異常：

(一) 無人飛機：

1. 視距內：

立即切換至適當之操作模式以停止衛星定位功能介入航機之控制，並由操作人以目視方式接手操作，穩定滾轉角及俯仰角等飛行姿態後，儘速操控航機轉向或爬升脫離高樓周圍、橋梁下、峽谷內、密林中及輸電線路周邊等環境，待衛星訊號恢復後繼續飛行；若異常狀況持續無法改正，應儘速以目視方式控制航機返場降落。

2. 視距外：

立即切換至適當之操作模式以停止衛星定位功能介入航機之控制，並由操作人參考即時飛航資訊、地圖介面及酬載影像以第一人稱方式接手操作，穩定滾轉角及俯仰角等飛行姿態後，儘速操控航機轉向或爬升脫離高樓周圍、橋梁下、峽谷內、密林中及輸電線路周邊等環境，待衛星訊號恢復後繼續飛行；若異常狀況持續無法改正，應儘速以第一人稱方式控制航機返場降落。

(二) 無人直昇機與多旋翼機：

1. 視距內：

立即切換至適當之操作模式以停止衛星定位功能介入航機之控制，並由操作人以目視方式接手操作，穩定姿態或原處懸停後，儘速操控航機轉向或上升脫離高樓周圍、橋梁下、峽谷內、密林中及輸電線路周邊等環境，待衛星訊號恢復後繼續飛行；若異常狀況持續無法改正，應儘速以目視方式控制航機返場降落。

2. 視距外：

立即切換至適當之操作模式以停止衛星定位功能介入航機之控制，並由操作人參考即時飛航資訊、地圖介面及酬載影像以第一人稱方式接手操作，穩定姿態或原處懸停後，儘速操控航機轉向或上升脫離高樓周圍、橋梁下、峽谷內、密林中及輸電線路周邊等環境，待衛星訊號恢復後繼續飛行；若異常狀況持續無法改正，應儘速以第一人稱方式控制航機返場降落。

4.2.6 酬載影像鏈路異常：

(一) 無人飛機：

1. 視距內：

立即切換至適當之操作模式，調整地面導控站（遙控器）之天線角度及方位，目視控制航機飛離遮蔽物或干擾源嘗試恢復影像鏈路，待影像鏈路恢復後繼續飛行；若影像持續中斷，應立即以目視方式安全返航，並儘速以穩定之姿態返場降落。

2. 視距外：

立即切換至適當之操作模式，調整地面導控站（遙控器）之天線角度及方位，並參考即時飛航資訊及地圖介面，控制航機飛離遮蔽物或干擾源嘗試恢復影像鏈路，待影像鏈路恢復後繼續飛行；若影像持續中斷，應立即參考即時飛航資訊及地圖介面控制航機返航，或原處盤旋建立安全高度後啟動返航模式將之飛回，返航途中應確保航機與地形地障保持安全隔離，並儘速以穩定之姿態

返場降落。

(二) 無人直昇機與多旋翼機：

1. 視距內：

立即切換至適當之操作模式並原處懸停，調整地面導控站（遙控器）之天線角度及方位，目視控制航機飛離遮蔽物或干擾源嘗試恢復影像鏈路，待影像鏈路恢復後繼續飛行；若影像持續中斷，應立即以目視方式安全返航，並儘速以穩定之姿態返場降落。

2. 視距外：

立即切換至適當之操作模式並原處懸停，調整地面導控站（遙控器）之天線角度及方位，並參考即時飛航資訊及地圖介面，控制航機飛離遮蔽物或干擾源嘗試恢復影像鏈路，待影像鏈路恢復後繼續飛行；若影像持續中斷，應立即參考即時飛航資訊及地圖介面控制航機循原飛航軌跡安全返航，或原地拉高建立安全高度後啟動返航模式將之飛回，返航途中應確保航機與地形地障保持安全隔離，並儘速以穩定之姿態返場降落。

4.2.7 姿態儀異常：

(一) 無人飛機：

1. 視距內：

立即切換至適當之操作模式以停止姿態儀介入航機之控制，並由操作人目視航機接手操作，穩定滾轉角及俯仰角等飛行姿態後儘速控制航機返場降落。

2. 視距外：

- (1) 立即切換至適當之操作模式以停止姿態儀介入航機之控制，並由操作人接手操作，參考酬載影像穩定滾轉角及俯仰角等飛行姿態後操控航機與地形地障保持安全隔離，同時利用即時飛航資訊及地圖介面掌握當下航向、高度、速度、距離及位置等資

訊，儘速以第一人稱方式控制航機安全返場降落。

- (2) 若操作人之技能不足以第一人稱方式手動控制航機，應立即採取減災飛行決策，參考酬載影像、即時飛航資訊及地圖介面嘗試將航機飛至安全區域，並儘速實施異地迫降處置，迫降時應盡可能遠離人、車、建築等障礙物，儘量將損害降至最低。

(二) 無人直昇機與多旋翼機：

1. 視距內：

立即切換至適當之操作模式以停止姿態儀介入航機之控制，並由操作人目視航機接手操作，穩定姿態或原處懸停後儘速控制航機返場降落。

2. 視距外：

- (1) 立即切換至適當之操作模式以停止姿態儀介入航機之控制，並由操作人接手操作，參考酬載影像穩定姿態或原處懸停後操控航機與地形地障保持安全隔離，同時利用即時飛航資訊及地圖介面掌握當下航向、高度、速度、距離及位置等資訊，儘速以第一人稱方式控制航機安全返場降落。
- (2) 若操作人之技能不足以第一人稱方式手動控制航機，應立即採取減災飛行決策，參考酬載影像、即時飛航資訊及地圖介面嘗試將航機飛至安全區域，並儘速實施異地迫降處置，迫降時應盡可能遠離人、車、建築等障礙物，儘量將損害降至最低。
- (3) 航機安全降落後應對姿態儀進行適當校正以恢復航機適航。

4.2.8 電子羅盤異常：

(一) 無人飛機：

1. 視距內：

立即切換至適當之操作模式以停止電子羅盤介入航機之控制，並由操作人目視航機接手操作，穩定滾轉角及俯仰角等飛行姿態後

操控航機轉向或爬升脫離電塔、基地台或變電箱等強磁設施，待電子羅盤恢復正常運作後繼續飛行；若異常狀況持續無法改正，應儘速以目視方式控制航機返場降落。

2. 視距外：

立即切換至適當之操作模式以停止電子羅盤介入航機之控制，並由操作人參考即時飛航資訊、地圖介面及酬載影像以第一人稱方式接手操作，儘速操控航機轉向或爬升脫離電塔、基地台或變電箱等強磁設施嘗試恢復電子羅盤之運作，待異常狀況改正後繼續飛行；若異常狀況持續無法改正，應儘速以第一人稱方式控制航機返場降落。

(二) 無人直昇機與多旋翼機：

1. 視距內：

立即切換至適當之操作模式以停止電子羅盤介入航機之控制，並由操作人目視航機接手操作，穩定姿態或原處懸停後操控航機轉向或上升脫離電塔、基地台或變電箱等強磁設施，待電子羅盤恢復正常運作後繼續飛行；若異常狀況持續無法改正，應儘速以目視方式控制航機返場降落。

2. 視距外：

立即切換至適當之操作模式以停止電子羅盤介入航機之控制，並由操作人參考即時飛航資訊、地圖介面及酬載影像以第一人稱方式接手操作，儘速操控航機轉向或上升脫離電塔、基地台或變電箱等強磁設施嘗試恢復電子羅盤之運作，待異常狀況改正後繼續飛行；若異常狀況持續無法改正，應儘速以第一人稱方式控制航機返場降落。

4.2.9 慣性導航異常：

(一) 無人飛機：

1. 視距內：

立即切換至適當之操作模式以停止慣性導航功能介入航機之控制，並由操作人目視航機接手操作，穩定滾轉角及俯仰角等飛行姿態後儘速控制航機返場降落。

2. 視距外：

立即切換至適當之操作模式以停止慣性導航功能介入航機之控制，並由操作人接手操作，參考酬載影像穩定滾轉角及俯仰角等飛行姿態後操控航機與地形地障保持安全隔離，同時利用即時飛航資訊及地圖介面掌握當下航向、高度、速度、距離及位置等資訊，儘速以第一人稱方式控制航機安全返場降落。

(二) 無人直昇機與多旋翼機：

1. 視距內：

立即切換至適當之操作模式以停止慣性導航功能介入航機之控制，並由操作人目視航機接手操作，穩定姿態或原處懸停後儘速控制航機返場降落。

2. 視距外：

立即切換至適當之操作模式以停止慣性導航功能介入航機之控制，並由操作人接手操作，參考酬載影像穩定姿態或原處懸停後操控航機與地形地障保持安全隔離，同時利用即時飛航資訊及地圖介面掌握當下航向、高度、速度、距離及位置等資訊，儘速以第一人稱方式控制航機安全返場降落。

4.2.10 空速管 (Pitot tube) 失效：

(一) 無人飛機：

1. 視距內：

操作人察覺地面導控站 (遙控器) 空速或高度參數異常後，應立即切換至適當之操作模式以停止空速管介入航機之控制，並由操作人目視航機接手操作，穩定滾轉角及俯仰角等飛行姿態後儘速

控制航機返場降落。

2. 視距外：

操作人察覺地面導控站（遙控器）空速或高度參數異常後，應立即切換至適當之操作模式以停止空速管介入航機之控制，並由操作人接手操作，參考酬載影像穩定滾轉角及俯仰角等飛行姿態後，建立安全高度使航機與地形地障保持隔離，同時改以導航系統（如衛星定位及慣性導航等）測得之速度及高度參數作為操作之準據，並適當調整油門（Throttle）及推力（Thrust）以避免航機空速超限，利用即時飛航資訊及地圖介面掌握當下航向、距離及位置等資訊，儘速以第一人稱方式控制航機安全返場降落。

（二）無人直昇機與多旋翼機：不適用。

- ※ 因設計結構強度之限制，無人飛機製造原廠依不同飛行高度、姿態及外型（Configuration）均訂有相應之空速限制，空速超限（空速超過航空器所處高度、姿態或外型條件下其原廠規範之最大空速限制）可能於極短時間內危及航機結構安全。

4.2.11 操縱面致動器/伺服舵機（Servo）失效：

（一）無人飛機：

1. 視距內：

- （1）若航機尚存部分可控性，切換至適當之操作模式，由操作人目視航機接手操作，嘗試利用正常操縱面及差異推力控制（Differential thrust/power）進行配平補償操作以改正航機姿態，待滾轉角及俯仰角等飛行姿態穩定後儘速返場降落。
- （2）若航機可控性不足以飛返本場，應立即採取減災飛行決策並以目視方式操控航機飛離地形地障，同時參考酬載影像尋找安全區域後，儘速實施異地迫降處置，迫降時應盡可能遠離人、車、建築等障礙物，儘量將損害降至最低。
- （3）若航機已完全喪失可控性，應立即記錄最終定位座標，在人員

無安全疑慮前題下儘速前往可能之墜落地點查看，以確認未引起火災或衍生其他災害，並於紀錄及檢視損害情形後清理現場，以免造成環境污損。視需要聯絡災防或環保單位到場進行必要處置，並於時效內進行飛安事件通報程序。

2. 視距外：

- (1) 若航機尚存部分可控性，切換至適當之操作模式，由操作人參考酬載影像以第一人稱方式接手操作，嘗試利用正常操縱面及推力控制進行配平補償操作以改正航機姿態，待滾轉角及俯仰角等飛行姿態穩定後儘速返場降落。
- (2) 若航機可控性不足以飛返本場，應立即採取減災飛行決策並以第一人稱方式操控航機飛離地形地障，同時參考酬載影像尋找安全區域後，儘速實施異地迫降處置，迫降時應盡可能遠離人、車、建築等障礙物，儘量將損害降至最低。
- (3) 若航機已完全喪失可控性，應立即記錄最終定位座標，在人員無安全疑慮前題下儘速前往可能之墜落地點查看，以確認未引起火災或衍生其他災害，並於紀錄及檢視損害情形後清理現場，以免造成環境污損。視需要聯絡災防或環保單位到場進行必要處置，並於時效內進行飛安事件通報程序。

(二) 無人直昇機與多旋翼機：不適用。

4.2.12 空中失速 (Stall)：

(一) 無人飛機：

1. 視距內：

立即切換至適當之操作模式由操作人目視航機接手操作，推桿控制航機姿態降低飛行攻角以建立安全空速，同時控制航機高度使其與地形地障保持安全隔離，於失速狀況改正後繼續飛行。

2. 視距外：

立即切換至適當之操作模式由操作人以第一人稱方式接手操作，推桿控制航機姿態降低飛行攻角以建立安全空速，同時控制航機高度及航向使其與地形地障保持安全隔離，於失速狀況改正後繼續飛行。

(二) 無人直昇機與多旋翼機：不適用。

4.2.13 低油量/電量：

(一) 無人飛機：

1. 視距內：

立即關閉航機非必要之酬載設備以減緩油量/電量之消耗，維持飛控電腦及伺服舵機等必要模組之運作，切換至適當之操作模式由操作人接手操作，以目視方式穩定滾轉角及俯仰角等飛行姿態並保持勻速飛行，儘速安全返場降落；若油量/電量嚴重不足時，應立即實施異地迫降處置。

2. 視距外：

立即關閉航機除酬載影像外之非必要酬載設備以減緩油量/電量之消耗，維持飛控電腦及伺服舵機等必要模組之運作，切換至適當之操作模式或啟動返航模式，參考酬載影像、飛航參數及地圖界面掌握航機當下高度、速度、航向，距離及位置等即時資訊，穩定滾轉角及俯仰角等飛行姿態後保持勻速飛行，以第一人稱方式儘速安全返場降落；若油量/電量嚴重不足時，應立即實施異地迫降處置。

(二) 無人直昇機與多旋翼機：

1. 視距內：

立即關閉航機非必要之酬載設備以減緩油量/電量之消耗，維持飛控電腦及伺服舵機等必要模組之運作，切換至適當之操作模式由操作人接手操作，以目視方式穩定姿態或原處懸停後，儘速保持勻速飛行安全返場降落；若油量/電量嚴重不足時，應立即實

施異地迫降處置。

2. 視距外：

立即關閉航機除酬載影像外之非必要酬載設備以減緩油量/電量之消耗，維持飛控電腦及伺服舵機等必要模組之運作，切換至適當之操作模式或啟動返航模式，參考酬載影像、飛航參數及地圖界面掌握航機當下高度、速度、航向，距離及位置等即時資訊，穩定姿態或原處懸停後，以第一人稱方式保持勻速飛行，儘速安全返場降落；若油量/電量嚴重不足時，應立即實施異地迫降處置。

4.2.14 飛控系統/電腦 (FCC , Flight Control Computer) 失效：

(一) 無人飛機：

1. 視距內：

立即切換至適當之操作模式以停止飛控電腦介入航機之控制，並由操作人目視航機接手操作，穩定滾轉角及俯仰角等飛行姿態後儘速控制航機返場降落。

2. 視距外：

(1) 立即切換至適當之操作模式以停止飛控電腦介入航機之控制，並由操作人接手操作，參考酬載影像穩定滾轉角及俯仰角等飛行姿態後操控航機與地形地障保持安全隔離，同時利用地圖介面或飛行軌跡判斷航機當下方位與高度狀況，儘速以第一人稱方式控制航機安全返場降落。

(2) 若操作人之技能不足以第一人稱方式手動控制航機，應立即採取減災飛行決策，參考酬載影像嘗試將航機飛至安全區域，並儘速實施異地迫降處置，迫降時應盡可能遠離人、車、建築等障礙物，儘量將損害降至最低。

(二) 無人直昇機與多旋翼機：

1. 視距內：

立即切換至適當之操作模式以停止飛控電腦介入航機之控制，並由操作人目視航機接手操作，穩定姿態或原處懸停後儘速控制航機返場降落。

2. 視距外：

(1) 立即切換至適當之操作模式以停止飛控電腦介入航機之控制，並由操作人接手操作，參考酬載影像穩定姿態或原處懸停後操控航機與地形地障保持安全隔離，同時利用地圖介面或飛行軌跡判斷航機當下方位與高度狀況，儘速以第一人稱方式控制航機安全返場降落。

(2) 若操作人之技能不足以第一人稱方式手動控制航機，應立即採取減災飛行決策，參考酬載影像嘗試將航機飛至安全區域，並儘速實施異地迫降處置，迫降時應盡可能遠離人、車、建築等障礙物，儘量將損害降至最低。

※ 飛行控制系統/電腦係遙控無人機之運作核心，一般內建包含姿態儀（慣性測量元件）、電子羅盤、氣壓高度計等感測器，並透過感測器、導航系統、機載計算機、鏈路通訊系統及伺服器（舵機）等各類模組之整合調控，使遙控無人機具備姿態穩定、任務管理及失效保護等自主控制功能。

4.2.15 迫降航線處置：

（一）無人飛機：

1. 視距內：

立即切換至適當之操作模式，由操作人接手控制航機與地形地障保持安全隔離，目視航機判斷當下高度、速度、航向，距離及位置等飛行狀況，穩定滾轉角及俯仰角等飛行姿態後儘速安全返場降落。

2. 視距外：

立即切換至適當之操作模式，由操作人接手控制航機與地形地障保持安全隔離，參考酬載影像、即時飛航資訊及地圖界面判斷航機當下高度、速度、航向，距離及位置等飛航參數，穩定滾轉角及俯仰角等飛行姿態後，儘速以第一人稱方式安全返場降落。

(二) 無人直昇機與多旋翼機：

1. 視距內：

立即切換至適當之操作模式，由操作人接手控制航機與地形地障保持安全隔離，目視航機判斷當下高度、速度、航向，距離及位置等飛行狀況，穩定姿態或原處懸停後儘速安全返場降落。

2. 視距外：

立即切換至適當之操作模式，由操作人接手控制航機與地形地障保持安全隔離，參考酬載影像、即時飛航資訊及地圖界面判斷航機當下高度、速度、航向，距離及位置等飛航參數，穩定姿態或原處懸停後，儘速以第一人稱方式安全返場降落。

4.2.16 異地迫降處置：

(一) 無人飛機：

1. 視距內：

立即切換至適當之操作模式，由操作人接手控制航機使其與地形地障保持安全隔離，目視航機判斷當下高度、速度、航向，距離及位置等飛行狀況，並參考酬載影像尋找安全迫降區域，穩定滾轉角及俯仰角等飛行姿態後儘速實施異地迫降處置，迫降時應盡可能遠離人、車、建築等障礙物，儘量將損害降至最低。

2. 視距外：

立即切換至適當之操作模式，由操作人接手控制航機使其與地形地障保持安全隔離，參考即時飛航資訊及地圖界面判斷航機當下高度、速度、航向，距離及位置等飛航參數，並利用酬載影像尋

找安全迫降區域，穩定滾轉角及俯仰角等飛行姿態後儘速實施異地迫降處置，迫降時應盡可能遠離人、車、建築等障礙物，儘量將損害降至最低。

(二) 無人直昇機與多旋翼機：

1. 視距內：

立即切換至適當之操作模式，由操作人接手控制航機使其與地形地障保持安全隔離，目視航機判斷當下高度、速度、航向、距離及位置等飛行狀況，並參考酬載影像尋找安全迫降區域，穩定姿態或原處懸停後儘速實施異地迫降處置，迫降時應盡可能遠離人、車、建築等障礙物，儘量將損害降至最低。

2. 視距外：

立即切換至適當之操作模式，由操作人接手控制航機使其與地形地障保持安全隔離，參考即時飛航資訊及地圖界面判斷航機當下高度、速度、航向、距離及位置等飛航參數，並利用酬載影像尋找安全迫降區域，穩定姿態或原處懸停後儘速實施異地迫降處置，迫降時應盡可能遠離人、車、建築等障礙物，儘量將損害降至最低。

4.2.17 空中緊急避障處置 (任務飛行時適用)：

(一) 無人飛機：

1. 視距內：

立即啟動自動防撞系統 (Obstacle Avoidance System) 或暫停任務使航機原處盤旋，並使用地面導控站 (遙控器) 新增航點後上傳更新任務航線，確認新航線之高度及位置等設定正確無誤後恢復任務飛行，隨時目視航機並參考酬載影像確保其與地形地障保持安全隔離，必要時儘速切換至適當之操作模式由操作人接手操作。

2. 視距外：

立即啟動自動防撞系統或暫停任務使航機原處盤旋，並使用地面導控站（遙控器）新增航點後上傳更新任務航線，確認新航線之高度及位置等設定正確無誤後恢復任務飛行，並隨時參考酬載影像、飛航參數及地圖界面等即時資訊，確保航機與地形地障保持安全隔離，必要時儘速切換至適當之操作模式由操作人接手操作。

（二）無人直昇機與多旋翼機：

1. 視距內：

立即啟動自動防撞系統或暫停任務使航機原處懸停，並使用地面導控站（遙控器）新增航點後上傳更新任務航線，確認新航線之高度及位置等設定正確無誤後恢復任務飛行，隨時目視航機並參考酬載影像確保其與地形地障保持安全隔離，必要時儘速切換至適當之操作模式由操作人接手操作。

2. 視距外：

立即啟動自動防撞系統或暫停任務使航機原處懸停，並使用地面導控站（遙控器）新增航點後上傳更新任務航線，確認新航線之高度及位置等設定正確無誤後恢復任務飛行，並隨時參考酬載影像、飛航參數及地圖界面等即時資訊，確保航機與地形地障保持安全隔離，必要時儘速切換至適當之操作模式由操作人接手操作。

第5章 參考文件

參考文件請至交通部民用航空局-[遙控無人機管理資訊系統](#)下載瀏覽，相關檔案路徑如下：

5.1 政府機關（構）、學校或法人從事遙控無人機飛航活動申請說明：

「遙控無人機管理資訊系統→訊息專區→法規及文件→無人機飛航活動申請說明（限航區、航空站或飛行場四周）」

5.2 遙控無人機緊急情況申請使用文件：

「遙控無人機管理資訊系統→訊息專區→法規及文件→遙控無人機從事災害應變、災害之預防、復原重建或災害以外之緊急情況使用文件」

5.3 遙控無人機申請案派遣協調人員至航管單位相關事項：

「遙控無人機管理資訊系統→訊息專區→法規及文件→遙控無人機申請案派遣協調人員至航管單位常見 Q&A、注意與宣導事項」

5.4 遙控無人機共同活動切結書：

「遙控無人機管理資訊系統→訊息專區→法規及文件→遙控無人機共同活動切結書」

5.5 遙控無人機專業操作證屆期換證學科測驗模擬試題

◆屆期換證學科測驗模擬試題 (試卷 1)

1. 下列何者係指目視檢查遙控無人機外觀完整、機構及動力系統穩固、註冊號碼依民航法規定標示可辨、操作人應持有合格操作證、遙控設備與無人機間之通訊及控制信號鏈路運作正常、燃油或電力之供應符合飛航之需求等?
- 正確解答：
(D)
- (A) 安全測試條件。
(B) 安全勞動條件。
(C) 安全勤務條件。
(D) 安全飛航條件。
2. 操作人不得在同一時間控制幾架以上遙控無人機?
- 正確解答：
(A)
- (A) 2 架。
(B) 3 架。
(C) 4 架。
(D) 5 架。
3. 遙控無人機發生下列何種事故，其所有人或操作人應在發生或得知消息後 24 小時內填具飛航安全相關事件報告表通報民航局?
- 正確解答：
(A)
- (A) 與其他航空器或障礙物接近或碰撞之事故。
(B) 視距外空速管失效之事故。
(C) 視距外 GPS 訊號異常之事故。
(D) 視距外上傳鏈路干擾/遮蔽之事故。
4. 飛安相關事件：應於發生或得知消息後幾小時內通報民航局?
- 正確解答：
(B)
- (A) 12 小時內。
(B) 24 小時內。
(C) 36 小時內。
(D) 48 小時內。

5. 遙控無人機違反民航法第 99 條之 14 第 1 項第 1 款規定，逾距地表高度 400 呎從事飛航活動，罰鍰金額為下列何者？

正確解答：

(A)

- (A) 新臺幣 30 萬元以上 150 萬元以下。
- (B) 新臺幣 6 萬元以上 30 萬元以下。
- (C) 新臺幣 3 萬元以上 15 萬元以下。
- (D) 新臺幣 1 萬元以上 150 萬元以下。

6. 最大起飛重量未達 25 公斤且裝置導航設備之遙控無人機最大飛行速度每小時不得超過下列何者？

正確解答：

(A)

- (A) 87 海里或 160 公里。
- (B) 81 海里或 150 公里。
- (C) 76 海里或 140 公里。
- (D) 70 海里或 130 公里。

7. 違反依民航法第 99 條之 17 所定規則有關射頻識別、檢驗、認可、維修與檢查、飛航活動之活動許可及內容、製造者與進口者之登錄及責任、飛航安全相關事件之通報等事項規定，罰鍰金額為下列何者？

正確解答：

(D)

- (A) 新臺幣 30 萬元以上 150 萬元以下。
- (B) 新臺幣 6 萬元以上 30 萬元以下。
- (C) 新臺幣 3 萬元以上 15 萬元以下。
- (D) 新臺幣 1 萬元以上 150 萬元以下。

8. 遙控無人機之檢驗基準，由下列何者訂定？

正確解答：

(A)

- (A) 民航局。
- (B) 國家實驗研究院。
- (C) 工研院。
- (D) 標準檢驗局。

9. 遙控無人機系統中，機體結構與外型、動力系統、自動駕駛與飛行控制系統、導航系統等，並攜帶任務所需之酬載，屬於遙控無人機系統的下列哪一部分？

- (A) 附屬裝置。
- (B) 遙控無人機。
- (C) 遙控設備。
- (D) 通訊及控制信號鏈路。

正確解答：

(B)

10. 遙控無人機活動區域黃區（中央）範圍：航空站（機場）四周，飛行高度為下列何種高度之區域？

- (A) 不得高於 400 呎。
- (B) 不得高於 300 呎。
- (C) 不得高於 200 呎。
- (D) 不得高於 100 呎。

正確解答：

(C)

11. 若無人機作業範圍未在禁/限航區、未在民航局公告之航空站或飛行場四周一定距離範圍、且高度未逾距地面或水面 400 呎者，是否需派員至航管單位進行協調？

- (A) 無需派員至航管單位進行協調。
- (B) 仍需派員至航管單位進行協調。
- (C) 由無人機操作人自行決定。
- (D) 由航管單位依當時的航空交通流量來決定。

正確解答：

(A)

12. 高雄近場臺範圍不包括下列何者？

- (A) 嘉義縣。
- (B) 南投縣。
- (C) 雲林縣。
- (D) 金門縣。

正確解答：

(B)

- 13.** 協調人員至航管單位執行協調聯繫作業時，手機應作下列何種設定？ 正確解答：
(C)
- (A) 手機應設定為響鈴模式。
 - (B) 手機應設定為飛航模式。
 - (C) 手機應設定為靜音或震動模式。
 - (D) 手機應暫時關機。
- 14.** 遙控無人機實際作業地點在台中，要派員去下列哪個近場管制塔臺？ 正確解答：
(B)
- (A) 位在臺北的臺北近場管制塔臺。
 - (B) 位在桃園的臺北近場管制塔臺。
 - (C) 位在台南的高雄近場管制塔臺。
 - (D) 位在高雄的高雄近場管制塔臺。
- 15.** 如果大氣溫度符合國際標準大氣的狀況，密度高度等於下列何者？ 正確解答：
(C)
- (A) 指示高度。
 - (B) 真高度。
 - (C) 壓力高度。
 - (D) 絕對高度。
- 16.** 日出及日落時間，依下列何者公布之時間為準？ 正確解答：
(C)
- (A) 民用航空局。
 - (B) 觀光局。
 - (C) 中央氣象局。
 - (D) 運輸研究所。
- 17.** 運輸事故調查法規定，疑似運輸事故發生後，應於得知消息後多少時間內通報運安會？ 正確解答：
(B)
- (A) 12 小時內。
 - (B) 24 小時內。
 - (C) 2 小時內。
 - (D) 48 小時內。

18. 日出前/日落後，至太陽中心在地平線下 12° 至 18° 之時段稱為下列何者？

正確解答：
(D)

- (A) 航海曙光/航海暮光。
- (B) 朝陽/夕陽。
- (C) 民用曙光/民用暮光。
- (D) 天文曙光/天文暮光。

19. 無人機飛航超過 400 呎時，應了解無人機下列何種資訊，以利空域協調？

正確解答：
(C)

- (A) 實際高度資訊。
- (B) 橢球高資訊。
- (C) 海拔高度資訊。
- (D) 密度高度資訊。

20. 「飛航規則」規定，「實際高度」指下列何者？

正確解答：
(C)

- (A) 自特定基準至空中某平面或某點或某目標物間之水平距離。
- (B) 自平均海平面至空中某平面或某點或某目標物間之水平距離。
- (C) 自特定基準至某平面、某點、或某目標物間之垂直距離。
- (D) 自平均海平面至空中某平面或某點或某目標物間之垂直距離。

21. 下列何者不是無人機飛行前周邊環境檢查項目？

正確解答：
(D)

- (A) 風速與風向、障礙物。
- (B) 距離、地磁與其他干擾。
- (C) 避開人口聚集區域。
- (D) 螺旋槳和機架完整。

22. 無人飛機在視距外發生「上傳鏈路失效」，若失效原因為干擾/遮蔽，則等待無人飛機恢復控制後應採取下列何種動作？

- (A) 檢查確認導控站硬體接線、更換模組、或重新開機。
- (B) 在歸航點盤旋至油量/電量耗盡。
- (C) 立即轉向或爬升脫離干擾物/遮蔽源，以避免再次斷訊。
- (D) 關閉無人機上不必要之電力裝置。

正確解答：
(C)

23. IMU (inertial measurement unit，慣性量測單元) 是用 3 個軸向的陀螺儀及加速規，來量測無人機的下列何者？

- (A) 3 個軸向的高度及位置。
- (B) 3 個軸向的姿態角及加速度。
- (C) 3 個軸向的姿態角及速度。
- (D) 3 個軸向的高度及加速度。

正確解答：
(B)

24. 無人飛機在視距外發生「上傳鏈路失效」，緊急處置程序之一為下列何者？

- (A) 關閉無人機上不必要之電力裝置。
- (B) 分析上傳鏈路失效原因為干擾/遮蔽、導控站 (發射端) 異常、或無人機 (接收端) 異常。
- (C) 開啟自動避障系統。
- (D) 飄降回本場。

正確解答：
(B)

25. 溫度如何影響空氣密度及無人機飛行？

- (A) 暖空氣的密度高於冷空氣；在一定攻角、較高溫度下為保持升力，須以較低的真空速飛行。
- (B) 暖空氣的密度高於冷空氣；在一定攻角、較高溫度下為保持升力，須以較高的真空速飛行。
- (C) 暖空氣的密度低於冷空氣；在一定攻角、較高溫度下為保持升力，須以較低的真空速飛行。
- (D) 暖空氣的密度低於冷空氣；在一定攻角、較高溫度下為保持升力，須以較高的真空速飛行。

正確解答：
(D)

26. 無人飛機在視距外發生「上傳鏈路失效」，若失效原因為無人機（亦即上傳接收端）異常，則應採取下列何種動作？

正確解答：

(D)

- (A) 關閉無人飛機上不必要之電力裝置。
- (B) 開啟自動避障系統。
- (C) 檢查確認導控站硬體接線、更換模組、或重新開機。
- (D) 無人飛機將自動進入返航模式，必要時應淨空歸航點周邊區域。

27. 無人機的電子調速器型號是 30 A，其代表的意義為下列何者？

正確解答：

(D)

- (A) 代表飛控最大允許通過電流大小為 30 A。
- (B) 代表電池最大允許通過電流大小為 30 A。
- (C) 代表接收機最大允許通過電流大小為 30 A。
- (D) 代表電子調速器最大允許通過電流大小為 30 A。

28. 在 1,013.25 hPa、15°C 時，空氣密度大約為下列何者？

正確解答：

(C)

- (A) 1.005 kg/m³。
- (B) 1.115 kg/m³。
- (C) 1.225 kg/m³。
- (D) 1.335 kg/m³。

29. 無人多旋翼機一般由下列哪些部件組成？

正確解答：

(D)

- (A) 機架、中心板、馬達。
- (B) 電子調速器、槳葉、飛控。
- (C) 腳架、電池、遙控器。
- (D) 以上皆是。

30. 無人多旋翼機如何達到平穩飛行的目的？

- (A) 將所有螺旋槳旋轉方向設定相同，依據牛頓第 3 定律，螺旋槳所產生的反作用力互相抵銷，達到平穩飛行的目的。
- (B) 將相鄰的螺旋槳旋轉方向設定相反，依據牛頓第 3 定律，螺旋槳所產生的逆時針反作用力與順時針反作用力互相抵銷，達到平穩飛行的目的。
- (C) 將所螺旋槳旋轉方向設定相同，依據牛頓第 1 定律，螺旋槳所產生的反作用力互相抵銷，達到平穩飛行的目的。
- (D) 將所螺旋槳旋轉方向設定相同，依據牛頓第 2 定律，螺旋槳所產生的反作用力互相抵銷，達到平穩飛行的目的。

正確解答：

(B)

31. 於直轄市、縣（市）政府公告之禁止、限制區域內從事遙控無人機農藥噴灑作業時，如有跨縣市飛航情形，應向哪個機關提出申請？

- (A) 飛經之直轄市、縣（市）政府。
- (B) 向起飛地點所在直轄市、縣（市）政府提出申請，經所在地及跨縣市政府同意。
- (C) 降落地點所在直轄市、縣（市）政府。
- (D) 降落地點所鄰近直轄市、縣（市）政府。

正確解答：

(B)

32. 小華想要進口一些遙控無人機到網路上販售，請問下列敘述何者為有誤？

- (A) 小華應主動向民航局申請辦理產品資訊登錄。
- (B) 小華是進口者。
- (C) 小華不得擅自進口製造商未向民航局完成登錄之遙控無人機。
- (D) 小華應於販售頁面明顯處標示遙控無人機註冊、操作注意事項及活動空域圖資等資訊。

正確解答：

(C)

33. 學習操作證持有人得於持有遙控無人機普通操作證或專業操作證之操作人在旁指導下，依其操作證所載之構造分類，學習操作最大起飛重量未達多少公斤之遙控無人機？

- (A) 15 公斤。
- (B) 25 公斤。
- (C) 2 公斤。
- (D) 150 公斤。

正確解答：

(B)

34. 有關申請遙控無人飛機專業基本級 I 操作證者，下列敘述何者為正確？

- (A) 遙控無人飛機之矩形機翼、翼展僅限介於一百八十公分至二百公分者。
- (B) 遙控無人飛機之翼弦長僅限介於二十八公分至三十三公分者。
- (C) 遙控無人飛機之起飛重量僅限大於 6.5 公斤以上者。
- (D) 可使用符合 Ib 規格之工作機 任務機。

正確解答：

(D)

35. 經農政機關登記合格之法人且取得民航局能力審查核准之業者，從事下列哪種飛航活動其同意文件以六個月為限？

- (A) 以遙控無人機投擲或噴灑任何物件。
- (B) 裝載依第四十三條第三項公告之危險物品。
- (C) 於日落後至日出前之時間飛航。
- (D) 以上皆是。

正確解答：

(D)

36. 申請專業高級 IIIId 操作證者，應領有下列何種操作證一個月以上之經歷？

- (A) 專業基本級 III 操作證
- (B) 專業高級 IIc 操作證
- (C) 專業基本級 II 操作證
- (D) 專業高級 Ib 操作證均

正確解答：

(A)

37. 小陳是一位持有專業操作證 (G2) 的自然人，請問下列敘述何者為有誤？

正確解答：
(D)

- (A) 其操作證得以申請執行遙控無人機投擲或噴灑任何物件。
- (B) 小陳如欲執行夜間噴灑作業，須再參加第 1 組 (G1) 高級術科測驗並取得專業操作證。
- (C) 小陳如欲執行業務之活動申請，則須透過經農政機關登記合格之法人。
- (D) 小陳已經擁有專業操作證 (G2)，即可在屬於綠區的自家農地執行遙控無人機噴灑作業。

38. 利用電子商務服務系統販售遙控無人機時販售遙控無人機前，應由下列何者向民航局申請辦理產品資訊登錄？

正確解答：
(D)

- (A) 代理商。
- (B) 製造商。
- (C) 進口者。
- (D) 以上皆是。

39. 操作最大起飛重量一百五十公斤以上之遙控無人機操作人應依下列哪種標準辦理體格檢查？

正確解答：
(A)

- (A) 航空人員乙類體格檢查標準
- (B) 普通小型車體檢認定標準
- (C) 普通大貨車體檢認定標準
- (D) 普通聯結車體檢認定標準

40. 經農政機關登記合格之法人且取得民航局能力審查核准之業者，其飛航活動許可時間以多久為限？

正確解答：
(A)

- (A) 6 個月。
- (B) 3 個月。
- (C) 1 年。
- (D) 1 個月。

◆屆期換證學科測驗模擬試題 (試卷 2)

1. 下列何者係指包含酒類、鴉片類、大麻、鎮靜劑及安眠藥、古柯鹼、其他精神刺激藥物、迷幻藥及興奮劑等?
- 正確解答：
(B)
- (A) 心靈作用物質。
(B) 精神作用物質。
(C) 視力作用物質。
(D) 肌肉作用物質。
2. 於下列何處從事活動之遙控無人機遭受實質損害或失蹤，其所有人或操作人應在發生或得知消息後 24 小時內填具飛航安全相關事件報告表通報民航局?
- 正確解答：
(B)
- (A) 限航區範圍外。
(B) 限航區範圍內。
(C) 河川區域範圍內。
(D) 農業區範圍內。
3. 違反民航法第 99 條之 10 第 1 項有關遙控無人機註冊或標明註冊號碼之規定，罰鍰金額為下列何者?
- 正確解答：
(C)
- (A) 新臺幣 30 萬元以上 150 萬元以下。
(B) 新臺幣 6 萬元以上 30 萬元以下。
(C) 新臺幣 3 萬元以上 15 萬元以下。
(D) 新臺幣 1 萬元以上 150 萬元以下。
4. 遙控無人機註冊、檢驗、能力審查、活動申請及學、術科測驗皆可透過下列哪個系統進行申辦?
- 正確解答：
(B)
- (A) 「遙控無人機業務諮詢系統」。
(B) 「遙控無人機管理資訊系統」。
(C) 「遙控無人機自動申辦系統」。
(D) 「遙控無人機 AI 登錄系統」。

- 5. 航管單位協調地點有下列哪幾個？**
- (A) 北部近場臺與南部近場臺 2 個。
 - (B) 臺北近場臺與高雄近場臺 2 個。
 - (C) 西部近場臺與東部近場臺 2 個。
 - (D) 本島近場臺與離島近場臺 2 個。
- 正確解答：**
(B)
- 6. 違反民航法第 99 條之 14 第 1 項第 2~10 款有關遙控無人機飛航活動應遵守之規定，罰鍰金額為下列何者？**
- (A) 新臺幣 30 萬元以上 150 萬元以下。
 - (B) 新臺幣 6 萬元以上 30 萬元以下。
 - (C) 新臺幣 3 萬元以上 15 萬元以下。
 - (D) 新臺幣 1 萬元以上 150 萬元以下。
- 正確解答：**
(C)
- 7. 政府機關（構）、學校或法人之飛航活動應於活動日 15 日前檢附下列何者提出申請？**
- (A) 飛航申請書。
 - (B) 作業規畫書。
 - (C) 活動計畫書。
 - (D) 業務執行書。
- 正確解答：**
(C)
- 8. 自然人從事飛航活動時應遵守下列何種限制？**
- (A) 遵守市場買賣之限制。
 - (B) 遵守公平交易之限制。
 - (C) 遵守區域與操作規範之限制。
 - (D) 遵守自由競爭之限制。
- 正確解答：**
(C)

9. 遙控無人機不得於下列何者之時間飛航？

- (A) 月沒後至月出前。
- (B) 月出後至月沒前。
- (C) 日出後至日落前。
- (D) 日落後至日出前。

正確解答：

(D)

10. 註冊有效期限為下列何者，期限屆滿前 30 日內向民航局申請延展？

- (A) 有效期限為 4 年。
- (B) 有效期限為 1 年。
- (C) 有效期限為 3 年。
- (D) 有效期限為 2 年。

正確解答：

(D)

11. 臺北近場臺及高雄近場臺均位於保安管制區，臨時進出之人員須取得下列哪個單位核准？

- (A) 民航局。
- (B) 國安局。
- (C) 航空警察單位。
- (D) 機場保全公司。

正確解答：

(C)

12. 遙控無人機實際作業地點在台東，要派員去下列哪個近場管制塔臺？

- (A) 位在臺北的臺北近場管制塔臺。
- (B) 位在桃園的臺北近場管制塔臺。
- (C) 位在台南的高雄近場管制塔臺。
- (D) 位在高雄的高雄近場管制塔臺。

正確解答：

(D)

13. 派遣至航管單位的協調人員，應確實按航管人員指示內容，即時聯絡下列何人配合辦理？

- (A) 遙控無人機目視觀察員。
- (B) 遙控無人機所有人。
- (C) 遙控無人機操作人。
- (D) 以上皆是。

正確解答：

(C)

- 14.** 協調人員至航管單位時，應主動告知相關作業內容訊息予下列何人？
(A) 塔臺長。
(B) 航管班務督導。
(C) 管制員。
(D) 航詢員。
正確解答：(B)
- 15.** 「遙控無人機重大飛航事故調查作業處理規則」規定，遙控無人機重大飛航事故發生後，應儘速將已知事故狀況通報運安會之下列何者？
(A) 值日官。
(B) 主任調查官。
(C) 執行長。
(D) 專案調查小組。
正確解答：(A)
- 16.** 「指示高度」壓力調撥值為下列何者？
(A) 29.92 in-Hg。
(B) 當地之大氣壓力值。
(C) 27.92 in-Hg。
(D) 「指示高度」沒有壓力調撥值問題。
正確解答：(B)
- 17.** 「絕對高度」常用下列何者來表示？
(A) MSL。
(B) MGL。
(C) AGL。
(D) ASL。
正確解答：(C)
- 18.** 「壓力高度」之壓力調撥值設定為下列何者？
(A) 當地之大氣壓力值。
(B) 「壓力高度」沒有壓力調撥值問題。
(C) 27.92 in-Hg。
(D) 29.92 in-Hg。
正確解答：(D)

19. 遙控無人機活動申請分為下列哪幾種？

- (A) 甲級申請與乙級申請 2 種。
- (B) 初級申請與高級申請 2 種。
- (C) 平日申請與假日申請 2 種。
- (D) 一般申請與緊急申請 2 種。

正確解答：

(D)

20. 「遙控無人機重大飛航事故調查作業處理規則」規定，「實質損害」指下列哪種情形者？

- (A) 遙控無人機損壞，修復需費時 1 日之內、費用新臺幣 1 萬元以內。
- (B) 遙控無人機損壞，修復需費時 5 日之內、費用新臺幣 10 萬元以內。
- (C) 遙控無人機損壞，修復需費時 5 日以上、費用新臺幣 10 萬元以上。
- (D) 遙控無人機損壞無法修復。

正確解答：

(D)

21. 無人飛機在視距外發生「衛星定位訊號異常」，緊急處置程序為下列何者？

- (A) 停止衛星定位功能介入航機之控制，並由操作人參考即時飛航資訊、地圖介面及酬載影像以第一人稱方式接手操作。
- (B) 調整俯仰姿態以飄降飛回本場。
- (C) 關閉無人飛機上不必要之電力裝置。
- (D) 確認導控站硬體接線、更換模組、或重新開機。

正確解答：

(A)

22. 功率的定義為下列何者？

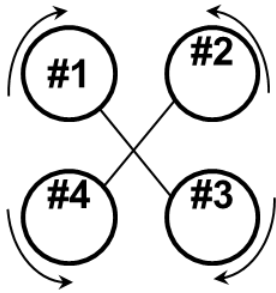
- (A) 每單位時間所施加的力。
- (B) 每單位時間所作的功或所消耗的能量。
- (C) 每單位時間所增加或減少的溫度。
- (D) 每單位時間所施加的扭矩。

正確解答：

(B)

23. 四軸無人機如何原地轉向? (依序將螺旋槳編號為#1、#2、#3、#4，#1、#3 順時針旋轉，#2、#4 逆時針旋轉)

正確解答：
(C)



- (A) 將螺旋槳#2、#3 加速，同時將#1、#4 減速，無人機原地逆時針轉向；反之則原地順時針轉向。
- (B) 將螺旋槳#3、#4 加速，同時將#1、#2 減速，無人機原地逆時針轉向；反之則原地順時針轉向。
- (C) 將螺旋槳#1、#3 加速，同時將#2、#4 減速，無人機原地逆時針轉向；反之則原地順時針轉向。
- (D) 將所有螺旋槳同時加速，無人機原地逆時針轉向；反之則原地順時針轉向。
24. 無人飛機在視距外發生「姿態儀異常」，緊急處置程序之一為下列何者?
- (A) 檢查確認導控站硬體接線、更換模組、或重新開機。
- (B) 停止姿態儀介入航機之控制，並由操作人接手操作。
- (C) 關閉無人飛機上不必要之電力裝置。
- (D) 人為切入歸航模式。

正確解答：
(B)

25. 無人多旋翼機在視距外發生「上傳鏈路失效」，若失效原因為地面導控站 (亦即上傳發射端) 異常，則應採取下列何種動作?
- (A) 檢診地面導控站電源、天線及硬體線路接頭，必要時可更換模組或重新開機以嘗試恢復控制鏈路。
- (B) 關閉無人飛機上不必要之電力裝置。
- (C) 在歸航點盤旋至油量/電量耗盡。
- (D) 開啟自動避障系統。

正確解答：
(A)

26. 下列何者不是無人機飛行前無人機機身（含電池）檢查項目？

- (A) 微調位置合適性。
- (B) 螺旋槳和機架完整。
- (C) 螺絲鎖接緊密、起落架功能正常。
- (D) 電池電量充足。

正確解答：

(A)

27. 無人機以下列何種方式飛行最省電？

- (A) 極速飛行。
- (B) 變速飛行。
- (C) 勻速飛行。
- (D) 以上皆是。

正確解答：

(C)

28. 螺旋槳的材質為下列何者？

- (A) 一般為硬質塑膠、碳纖維、及硬質木頭等。
- (B) 一般為高速鋼、及合金鋼等。
- (C) 一般為鋁合金、及銅合金等。
- (D) 以上皆是。

正確解答：

(A)

29. 直昇機擺振運動的定義為何？

- (A) 槳葉扭轉運動 (torsion) 。
- (B) 槳葉上下撲動 (flapping) 。
- (C) 槳葉前後擺動動 (lead & flag) 。
- (D) 槳葉伸縮運動 (tension & compression) 。

正確解答：

(C)

30. 無人多旋翼機如何實現各種動作？

- (A) 依據牛頓第 3 定律，以電子調速器調配各個螺旋槳的轉速來實現各種動作。
- (B) 依據牛頓第 2 定律，以電子調速器調配各個螺旋槳的轉速來實現各種動作。
- (C) 依據牛頓第 1 定律，以電子調速器調配各個螺旋槳的轉速來實現各種動作。
- (D) 以上皆是。

正確解答：

(A)

- 31.** 經農政機關登記合格之法人欲於禁、限航區及航空站或飛行場四周一
定距離範圍內從事農藥噴灑作業，應於活動日前多久提出申請？ **正確解答：**
(B)
- (A) 30 日前。
(B) 15 日前。
(C) 3 日前。
(D) 5 日前。
- 32.** 小華持有學習操作證，並向持有普通操作證的小黃學習，請問下列敘
述何者為錯誤？ **正確解答：**
(C)
- (A) 小華應已年滿 16 歲。
(B) 小黃具有對小華進行最大起飛重量未達十五公斤之遙控無人機教
學資格。
(C) 小華未通過專業操作證術科測驗，不具任何教學資格。
(D) 教學過程須遵守操作限制規定。
- 33.** 持有普通操作證者在旁指導持有學習操作證者學習操作遙控無人機，
下列敘述何者正確？ **正確解答：**
(A)
- (A) 可學習操作最大起飛重量未達 15 公斤之遙控無人機。
(B) 可學習操作最大起飛重量未達 25 公斤之遙控無人機。
(C) 可學習操作最大起飛重量未達 150 公斤之遙控無人機。
(D) 可學習操作最大起飛重量未達 150 公斤以上之遙控無人機。
- 34.** 針對學習操作證之敘述，下列敘述何者為非？ **正確解答：**
(C)
- (A) 申請者應年滿 16 歲。
(B) 持有者須於具備普通或專業操作證之操作人在旁指導監護下，使
得操作。
(C) 持有者所操作遙控無人機最大起飛重量不得逾 15 公斤。
(D) 持有者所操作遙控無人機最大起飛重量不得逾 25 公斤。

35. 小陳是一間農噴無人機公司的操作人，該公司並已向民航局完成活動申請得以執行農藥噴灑作業，請問下列敘述何者為有誤？

正確解答：

(C)

- (A) 其活動申請同意文件最長得以 6 個月為限。
- (B) 該公司是農政機關登記合格之法人。
- (C) 該公司之能力審查申請，核准效期為 1 年。
- (D) 小陳應於每次活動前、後於指定時間內至民航局指定資訊系統登錄飛航資訊。

36. 有關申請遙控無人直昇機專業基本級 I 操作證者，下列敘述何者為正確？

正確解答：

(D)

- (A) 遙控無人直昇機之旋翼半徑僅限介於七十公分至九十公分者。
- (B) 遙控無人直昇機之起飛重量僅限大於 4.5 公斤以上者。
- (C) 遙控無人直昇機之起飛重量僅限大於 6.5 公斤以上者。
- (D) 可使用符合 Ib 規格之工作機（任務機）。

37. 有關申請遙控無人多旋翼機專業基本級 I 操作證者，下列敘述何者為正確？

正確解答：

(D)

- (A) 遙控無人多旋翼機之對角馬達之軸心距離僅限介於九十公分至一百一十公分者。
- (B) 遙控無人多旋翼機之起飛重量僅限大於 4 公斤以上者。
- (C) 遙控無人多旋翼機之起飛重量僅限大於 6.5 公斤以上者。
- (D) 可使用符合 Ib 規格之工作機（任務機）。

38. 經農政機關登記合格之法人因執行農噴業務需於直轄市、縣（市）政府所公告之遙控無人機活動區域、時間及其他管理事項外從事飛航活動者，應申請何者會商相關中央主管機關同意後，始得為之？

正確解答：

(A)

- (A) 直轄市、縣（市）政府。
- (B) 衛福部。
- (C) 農委會。
- (D) 交通部。

39. 遙控無人機於販售或進口前，應由下列何者於產品或包裝上標示最大起飛重量、註冊程序、型式檢驗標籤或認可標籤、實體檢驗說明、操作限制說明、管理及違規裁罰等資訊？

- (A) 代理商。
- (B) 製造商。
- (C) 進口者。
- (D) 以上皆是。

正確解答：

(D)

40. 遙控無人機製造者或進口者利用電子商務服務系統販售遙控無人機時，應將下列哪段文字標示於電子商務服務系統明顯處？

- (A) 最大起飛重量二百五十公克以上遙控無人機應辦理註冊。
- (B) 遙控無人機活動前應注意活動區域與遵守操作規定。
- (C) 相關活動區域及操作規定資訊，請見民航局網站及遙控無人機圖資行動應用程式。
- (D) 以上皆是。

正確解答：

(D)

◆屆期換證學科測驗模擬試題 (試卷 3)

- 1.** 延伸視距飛行，指操作人於視距外，藉由目視觀察員於下列哪個範圍內與遙控無人機保持直接目視接觸，並提供遙控無人機操作人必要飛行資訊之操作方式？
- 正確解答：
(A)
- (A) 操作人半徑 300 公尺範圍內。
(B) 操作人半徑 500 公尺範圍內。
(C) 操作人半徑 700 公尺範圍內。
(D) 操作人半徑 900 公尺範圍內。
- 2.** 市售最大起飛重量未達幾公斤具導航設備經登錄者列入「免經檢驗或認可之遙控無人機清冊」並定期更新？
- 正確解答：
(C)
- (A) 未達 2 公斤。
(B) 未達 15 公斤。
(C) 未達 25 公斤。
(D) 未達 150 公斤。
- 3.** 遙控無人機活動區域綠區範圍：在下列何種高度時，自然人與法人均可於遵守操作規範條件下飛行之區域？
- 正確解答：
(A)
- (A) 400 呎以下。
(B) 200 呎以下。
(C) 400 呎以上。
(D) 200 呎以上。
- 4.** 作業手冊：法人申請下列何者時，自行編撰以敘明操作限制排除事項之相關設備與程序之手冊？
- 正確解答：
(D)
- (A) 申請財力審查核准。
(B) 申請學歷審查核准。
(C) 申請道德審查核准。
(D) 申請能力審查核准。

5. 政府機關（構）、學校或法人遙控無人機於人群聚集或室外集會遊行上空從事活動時，應先取得下列何者之同意？

正確解答：

(A)

- (A) 活動場地之直轄市、縣（市）政府及相關中央主管機關。
- (B) 活動場地之警察局及相關地方機關。
- (C) 活動場地之村里長及相關地方人士。
- (D) 活動場地之所有權人及相關利益團體。

6. 下列何種遙控無人機遭受實質損害或失蹤，其所有人或操作人應在發生或得知消息後 24 小時內填具飛航安全相關事件報告表通報民航局？

正確解答：

(A)

- (A) 最大起飛重量 2 公斤以上且裝置導航裝置。
- (B) 最大起飛重量 1 公斤以上且裝置導航裝置。
- (C) 最大起飛重量 2 公斤以上但未裝置導航裝置。
- (D) 最大起飛重量 1 公斤以上但未裝置導航裝置。

7. 飛航活動記錄保存：政府機關（構）、學校或法人應保存遙控無人機相關資料及記錄幾年？

正確解答：

(B)

- (A) 保存 1 年。
- (B) 保存 2 年。
- (C) 保存 3 年。
- (D) 保存 5 年。

8. 下列何者為於延伸視距飛航作業時，持有遙控無人機操作證，並於遙控無人機活動期間，提供實際操控遙控無人機之操作人必要飛航資訊之人員？

正確解答：

(B)

- (A) 遙控無人機操作人。
- (B) 目視觀察員。
- (C) 觀察員。
- (D) 協調員。

9. 下列何者為在以「第一人稱視角」(FPV, first-person view)飛行時,於視距範圍內從旁協助操作人觀察四周環境以保障操作安全之人員?

- (A) 遙控無人機操作人。
- (B) 目視觀察員。
- (C) 觀察員。
- (D) 協調員。

正確解答：
(C)

10. 飛航活動：指自然人或法人以遙控無人機從事下列何種行為？

- (A) 從事飛航之行為。
- (B) 從事規則訂定之行為。
- (C) 從事組員管理之行為。
- (D) 從事風險評估之行為。

正確解答：
(A)

11. 橢球高 (HAE, height above ellipsoid) 又稱為大地高,係將地球假定為一理想橢球體,真實地表上任一點相對於橢球面的下列何者即為橢球高?

- (A) 平行距離。
- (B) 垂直距離。
- (C) 切線距離。
- (D) 圓弧距離。

正確解答：
(B)

12. 「飛航規則」規定,有人機目視飛航最低實際高度為下列何者?

- (A) 不得低於距地面或水面 500 呎。
- (B) 不得低於距地面或水面 400 呎。
- (C) 不得低於距地面或水面 300 呎。
- (D) 不得低於距地面或水面 200 呎。

正確解答：
(A)

13. 「遙控無人機重大飛航事故調查作業處理規則」規定，「死亡」指該人直接觸及遙控無人機之任何部位，包括自機體分離之部分，而有下列哪種情形者？

- (A) 當場死亡。
- (B) 4 小時之內死亡。
- (C) 8 小時之內死亡。
- (D) 12 小時之內死亡。

正確解答：

(A)

14. 運輸事故調查法規定，遙控無人機所有人或操作人，無正當理由未於期限內通報運安會事故或疑似事故者，處下列何種罰鍰？

- (A) 新臺幣 3 萬元以上 15 萬元以下。
- (B) 新臺幣 6 萬元以上 30 萬元以下。
- (C) 新臺幣 30 萬元以上 150 萬元以下。
- (D) 新臺幣 1 萬元以上 150 萬元以下。

正確解答：

(B)

15. 經緯度的座標值北緯 25.1 度，東經 121.4 度；以度分來表示其座標為下列何者？

- (A) 北緯 25 度 10 分，東經 121 度 40 分。
- (B) 北緯 25 度 1 分，東經 121 度 4 分。
- (C) 北緯 25 度 6 分，東經 121 度 24 分。
- (D) 北緯 25 度 12 分，東經 121 度 48 分。

正確解答：

(C)

16. 經緯度的座標值北緯 25.11 度，東經 121.42 度；以度分秒來表示其座標為下列何者？

- (A) 北緯 25 度 1 分 1 秒，東經 121 度 40 分 2 秒。
- (B) 北緯 25 度 6 分 36 秒，東經 121 度 25 分 12 秒。
- (C) 北緯 25 度 6 分 6 秒，東經 121 度 24 分 12 秒。
- (D) 北緯 25 度 36 分 36 秒，東經 121 度 24 分 12 秒。

正確解答：

(B)

- 17.** 近年來多起客機疑與無人機的碰撞實例，大多發生於下列何種時機？ 正確解答：
(C)
- (A) 客機在機場爬升過程中。
 - (B) 客機在空中平飛過程中。
 - (C) 客機在機場下降過程中。
 - (D) 客機在空中轉彎過程中。
- 18.** 運輸事故調查法規定，運輸事故發生後，應於得知消息後多少時間內通報運安會？ 正確解答：
(A)
- (A) 2 小時內。
 - (B) 12 小時內。
 - (C) 24 小時內。
 - (D) 48 小時內。
- 19.** 遙控無人機飛航活動申請時，「作業概述」預計起降地點可輸入下列何者？ 正確解答：
(C)
- (A) 座標（如：經緯度）。
 - (B) 地標（如：台大實驗林）。
 - (C) 以上皆可。
 - (D) 以上皆非。
- 20.** 「飛航規則」規定，「高度」指下列何者？ 正確解答：
(D)
- (A) 自特定基準至空中某平面或某點或某目標物間之水平距離。
 - (B) 自平均海平面至空中某平面或某點或某目標物間之水平距離。
 - (C) 自特定基準至空中某平面或某點或某目標物間之垂直距離。
 - (D) 自平均海平面至空中某平面或某點或某目標物間之垂直距離。
- 21.** 空域協調使用作業期間以下列何者為優先？ 正確解答：
(A)
- (A) 軍、民航機。
 - (B) 遙控無人機。
 - (C) 輕航機。
 - (D) 滑翔機。

22. 航管單位屬於保安管制區域，作業期間應遵守下列哪些事項？

正確解答：

- (A) 禁止拍照、錄音、攝影等，但可隨意走動。
- (B) 可以拍照、錄音、攝影等，但不得進入指定區域以外之場所。
- (C) 可以拍照、錄音、攝影等，且可隨意走動。
- (D) 禁止拍照、錄音、攝影等，且不得進入指定區域以外之場所。

(D)

23. 臺北飛航情報區限航區名冊，RCR45、RCR46、RCR47（核三、核一、核二廠），涉及下列何者？

正確解答：

- (A) 航道及航管安全。
- (B) 情報及邊境安全。
- (C) 輻射及廠房安全。
- (D) 以上皆是。

(C)

24. 派遣至航管單位的協調人員，應熟知遙控無人機申請案的相關作業內容中不包括下列何者？

正確解答：

- (A) 申請案之作業地點、範圍、實際作業高度。
- (B) 機場周邊活動、其他航機飛行。
- (C) 申請案號碼、飛航公告號碼。
- (D) 作業時間、返回落地所需時間。

(B)

25. GPS 天線為何需要天線支架？

正確解答：

- (A) 增加美觀。
- (B) 避開人口聚集區域。
- (C) 防止電磁干擾。
- (D) 減低風速與風向的影響。

(C)

26. 如何選用高速槳或低速槳？

- (A) KV 值較大者選用低速槳，KV 值較小者選用高速槳。
- (B) 不論 KV 值大小，選用高速槳就對了。
- (C) KV 值較大者選用高速槳，KV 值較小者選用低速槳。
- (D) 不論 KV 值大小，選用低速槳就對了。

正確解答：

(C)

27. 高度如何影響空氣密度及無人機飛行？

- (A) 高度越高，空氣密度越高；在一定攻角、較高高度下為保持升力，須以較低的真空速飛行。
- (B) 高度越高，空氣密度越低；在一定攻角、較高高度下為保持升力，須以較低的真空速飛行。
- (C) 高度越高，空氣密度越低；在一定攻角、較高高度下為保持升力，須以較高的真空速飛行。
- (D) 高度越高，空氣密度越高；在一定攻角、較高高度下為保持升力，須以較高的真空速飛行。

正確解答：

(C)

28. 無人直昇機在視距外發生「下傳鏈路失效」，若超過該機型合理滯空時間一直未見航機歸航或飛回本場，代表可能發生下列何種狀況？

正確解答：

(C)

- (A) 可能已在其他適當地點安全降落。
- (B) 可能仍在發生「下傳鏈路失效」當時的位置懸停。
- (C) 可能已在下傳斷訊時失事或歸航途中失事。
- (D) 以上皆非。

29. 四軸無人機在空中有下列哪幾種自由度？

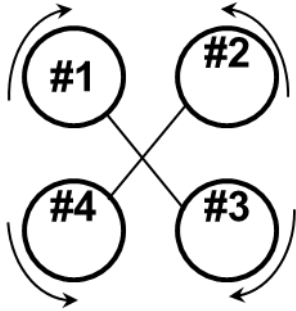
- (A) 上下、前後。
- (B) 左右、滾轉。
- (C) 俯仰、偏航。
- (D) 以上皆是。

正確解答：

(D)

- 30.** 四軸無人機如何前後飛行? (依序將螺旋槳編號為#1、#2、#3、#4，#1、#3 順時針旋轉，#2、#4 逆時針旋轉)

正確解答：
(B)



- (A) 將螺旋槳#2、#3 加速，同時將#1、#4 減速，無人機向前飛行；反之則向後飛行。
- (B) 將螺旋槳#3、#4 加速，同時將#1、#2 減速，無人機向前飛行；反之則向後飛行。
- (C) 將螺旋槳#1、#3 加速，同時將#2、#4 減速，無人機向前飛行；反之則向後飛行。
- (D) 將所有螺旋槳同時加速，無人機向前飛行；反之則向後飛行。
- 31.** 有關申請遙控無人多旋翼機專業基本級 I 操作證者，下列敘述何者為非？
- (A) 可使用遙控無人多旋翼機之對角馬達之軸心距離介於九十公分至一百一十公分者。
- (B) 可使用遙控無人多旋翼機之起飛重量大於或等於 4 公斤以上者。
- (C) 可使用遙控無人多旋翼機之起飛重量大於 6.5 公斤以上者。
- (D) 可使用符合 Ib 規格之工作機（任務機）。

正確解答：
(C)

- 32.** 申請專業基本級 II 操作證者，應領有專業基本級 I (無註記重量限制) 操作證幾個月以上之經歷？

正確解答：
(A)

- (A) 1 個月。
- (B) 2 個月。
- (C) 3 個月。
- (D) 6 個月。

33. 經農政機關登記合格之法人因執行農噴業務需於禁、限航區及航空站或飛行場四周一定距離範圍內從事遙控無人機飛航活動者，應申請何者會商目的事業主管機關同意後，始得為之？

- (A) 鄉鎮區公所。
- (B) 農委會。
- (C) 民航局
- (D) 直轄市、縣(市)政府。

正確解答：
(C)

34. 「絕對高度」壓力高度表的壓力調撥值為下列何者？

- (A) 29.92 in-Hg。
- (B) 當地之大氣壓力值。
- (C) 27.92 in-Hg。
- (D) 「絕對高度」沒有壓力調撥值問題。

正確解答：
(D)

35. 學習操作證持有人得於持有在旁指導下，學習操作最大起飛重量未達多少公斤之同一構造遙控無人機？

- (A) 2 公斤。
- (B) 15 公斤。
- (C) 150 公斤。
- (D) 依指導人持有之專業操作證可操作之重量級別而定，並以最大起飛重量未達 25 公斤為限。

正確解答：
(D)

36. 政府機關(構)、學校或法人於直轄市、縣(市)政府公告之禁止、限制區域內從事遙控無人機飛航活動，應取得相關中央主管機關同意，有關該程序下列敘述何者正確？

- (A) 應報請直轄市、縣(市)政府會商相關中央主管機關同意。
- (B) 相關中央主管機關得委託政府機關(構)或團體代為同意。
- (C) 相關中央主管機關委託相關業務應將委託之對象、事項及法規依據公告之，並刊登於政府公報。
- (D) 以上皆是。

正確解答：
(D)

37. 某遙控無人機操作人欲執行農藥噴灑作業，以下敘述何者正確？

- (A) 執行業務之活動申請者須為經農政機關登記合格之法人。
- (B) 其飛航活動許可時間以 3 個月為限。
- (C) 應於活動日三十日前提出申請。
- (D) 該操作人不須通過術科測驗。

正確解答：

(A)

38. 某遙控無人機操作人欲執行農藥噴灑作業，以下敘述何者正確？

- (A) 執行業務之活動申請者須為經農政機關登記合格之法人
- (B) 其飛航活動許可時間以 6 個月為限
- (C) 應於活動日十五日前提出申請。
- (D) 以上皆是。

正確解答：

(D)

39. 申請專業高級 Ib 操作證者，應領有專業高級 Ia (無註記重量限制) 操作證幾個月以上之經歷？

- (A) 1 個月。
- (B) 2 個月。
- (C) 3 個月。
- (D) 6 個月。

正確解答：

(A)

40. 操作最大起飛重量一百五十公斤以下之遙控無人機操作人應依下列哪種標準辦理體格檢查？

- (A) 航空人員乙類體格檢查標準
- (B) 普通小型車體檢認定標準
- (C) 普通大貨車體檢認定標準
- (D) 無人駕駛航空器體檢認定標準

正確解答：

(B)

◆ 屆期換證學科測驗模擬試題 (試卷 4)

1. 下列何者為依政府機關 (構)、學校或法人作業手冊之程序，於飛航管制單位提供操作人空域協調資訊之人員？ 正確解答：
(D)
- (A) 遙控無人機操作人。
(B) 目視觀察員。
(C) 觀察員。
(D) 協調員。
2. 實體檢驗合格證有效期限為下列何者，期限屆滿前 30 日內向民航局申請重新檢驗？ 正確解答：
(C)
- (A) 有效期限為 4 年。
(B) 有效期限為 1 年。
(C) 有效期限為 3 年。
(D) 有效期限為 2 年。
3. 公告定義遙控無人機之構造為下列哪幾種？ 正確解答：
(D)
- (A) 無人飛機、無人直昇機、無人多旋翼機等共 3 種。
(B) 無人飛機、無人多旋翼機、複合式無人機等共 3 種。
(C) 無人飛機、無人直昇機、複合式無人機等共 3 種。
(D) 無人飛機、無人直昇機、無人多旋翼機、複合式無人機等共 4 種。
4. 下列何者為含機體、燃料、電池、負載設備及酬載等遙控之無人機設計重量？ 正確解答：
(C)
- (A) 最大巡航重量。
(B) 最大降落重量。
(C) 最大起飛重量。
(D) 最大轉彎重量。

5. 自然人所有之最大起飛重量 250 公克以上及政府機關（構）、學校或法人所有之遙控無人機，應依規則辦理下列何者？ 正確解答：
(C)
- (A) 不必辦理註冊。
(B) 辦理註冊，但不必將註冊號碼標明於遙控無人機上顯著之處。
(C) 辦理註冊，並將註冊號碼標明於遙控無人機上顯著之處。
(D) 以上皆非。
6. 普通操作證有效期限屆期前 30 日內向民航局申請下列何種項目？ 正確解答：
(A)
- (A) 申請換證。
(B) 申請直接升級為專業操作證。
(C) 申請十年免換證。
(D) 申請永久免換證。
7. 目視觀察員應與下列何者保持目視接觸，並提供操作人必要之飛行資訊？ 正確解答：
(B)
- (A) 操作人。
(B) 遙控無人機。
(C) 航空站或飛行場。
(D) 協調員。
8. 遙控無人機之下列哪個功能，除其裝置本身之技術外，尚需配合地面接收裝置？ 正確解答：
(A)
- (A) 射頻識別功能。
(B) 起降功能。
(C) 遙控功能。
(D) 以上皆是。

9. 操作人應隨時監視該遙控無人機之下列何種狀況?

正確解答：

- (A) 噴漆及其標籤狀況。
- (B) 註冊及其檢驗狀況。
- (C) 價格及其銷售狀況。
- (D) 飛航及其周遭狀況。

(D)

10. 政府機關(構)、學校或法人遙控無人機於目視範圍外從事活動時，應採下列何種動作?

正確解答：

- (A) 應於活動日 15 日前檢附活動計畫書向航港局申請許可。
- (B) 應於活動日 30 日前檢附活動計畫書向民航局申請許可。
- (C) 應於活動日 15 日前檢附活動計畫書向民航局申請許可。
- (D) 應於活動日 15 日前檢附活動成果報告書向民航局申請許可。

(C)

11. 臺北近場臺範圍不包括下列何者?

正確解答：

- (A) 連江縣。
- (B) 宜蘭縣。
- (C) 臺中市。
- (D) 雲林縣。

(D)

12. 臺北飛航情報區限航區名冊，東沙群島位於下列哪個飛航情報區內?

正確解答：

- (A) 香港飛航情報區。
- (B) 臺北飛航情報區。
- (C) 馬尼拉飛航情報區。
- (D) 廣州飛航情報區。

(A)

13. 1 個遙控無人機申請案以派遣幾位協調人員至航管單位為原則?

正確解答：

- (A) 1 位。
- (B) 2 位。
- (C) 3 位。
- (D) 4 位。

(A)

- 14.** 臺北飛航情報區限航區名冊，南沙群島位於下列哪個飛航情報區內？ 正確解答：
(C)
- (A) 香港飛航情報區。
(B) 臺北飛航情報區。
(C) 馬尼拉飛航情報區。
(D) 廣州飛航情報區。
- 15.** 「壓力高度」用以計算下列何者？ 正確解答：
(D)
- (A) 密度高度。
(B) 真高度。
(C) 真空速及其他性能資料。
(D) 以上皆是。
- 16.** 平均海平面高度 (AMSL, above mean sea level) 即為海拔高度，係以各地區人為設定的下列何者作為基準面測定的高度表示方式？ 正確解答：
(A)
- (A) 平均海平面。
(B) 操作人所在位置高度。
(C) 操作人附近最高點高度。
(D) 地面或水面高度。
- 17.** 遙控無人機活動之一般申請可參照下列何種參考文件申辦？ 正確解答：
(A)
- (A) 「政府機關(構)、學校或法人於禁航區、限航區、航空站或飛行場四周之一定距離範圍內從事遙控無人機飛航活動申請說明」。
- (B) 「使用遙控無人機從事災害應變、災害預防、復原重建或災害以外之緊急情況申請書暨民用航空局同意書」。
- (C) 「使用遙控無人機從事災害預防、復原重建或災害以外之緊急情況申請書暨直轄市、縣(市)同意書」。
- (D) 「遙控無人機從事災害應變、災害之預防、復原重建或災害以外之緊急情況時，需取得/通知限航管理單位名冊」。

18. 監控密度高度最主要的目的是下列何者？

- (A) 避開雷雨區或沙塵暴。
- (B) 正確計算飛機性能值。
- (C) 提高濃霧時的能見度。
- (D) 預估逆溫層的形成。

正確解答：

(B)

19. 「民用航空器及公務航空器重大飛航事故調查作業處理規則」規定，應通報下列重大飛航事故之一，為航空器空中接近至下列哪個範圍，須採緊急避讓動作始能防止相撞或危險之情況者？

- (A) 200 呎以內。
- (B) 400 呎以內。
- (C) 500 呎以內。
- (D) 900 呎以內。

正確解答：

(C)

20. 經緯度的座標值可分為下列哪幾種表示方法？

- (A) 可分為 3 種表示方法，分別為度、度分、度分秒。
- (B) 可分為 3 種表示方法，分別為球座標、直角座標、圓柱座標。
- (C) 可分為 2 種表示方法，分別為英制、公制。
- (D) 可分為 2 種表示方法，分別為實數、複數。

正確解答：

(A)

21. CW、CCW 哪個是順時針哪個是逆時針？

- (A) CW 為逆時針，CCW 為順時針。
- (B) CW、CCW 都是順時針。
- (C) CW 為順時針，CCW 為逆時針。
- (D) CW、CCW 都是逆時針。

正確解答：

(C)

22. 功率的常用單位有下列哪些？

- (A) 公制單位為瓦 (W)；英制單位為馬力 (HP)。
- (B) 公制單位為焦耳 (J)；英制單位為 BTU。
- (C) 公制單位為牛頓 (N)；英制單位為磅 (lb)。
- (D) 以上皆是。

正確解答：

(A)

23. 下列何者不是電池使用檢查項目？

- (A) 合適的電池容量、合適的 s 數。
- (B) 安全的電池安裝。
- (C) 數傳信號。
- (D) 穩固的連結至系統。

正確解答：

(C)

24. 無刷馬達的優點為下列何者？

- (A) 無電刷、低干擾。
- (B) 噪音低、運轉摩擦力小。
- (C) 壽命長、維護成本低。
- (D) 以上皆是。

正確解答：

(D)

25. 空氣密度與動力輸出的關係為下列何者？

- (A) 空氣密度減少，動力輸出隨之增加。
- (B) 空氣密度減少，動力輸出隨之降低。
- (C) 空氣密度與動力輸出無關。
- (D) 以上皆非。

正確解答：

(B)

26. 無人直昇機在視距外發生「引擎或動力失效」，緊急處置程序之一為下列何者？

- (A) 切入歸航模式。
- (B) 開啟自動避障系統。
- (C) 儘速將操作模式切換至 HOLD，並考量當下高度與風向實施第一人稱熄火降落處置。
- (D) 檢查確認地面導控站硬體接線。

正確解答：

(C)

27. 無人機馬達的 KV 值代表之意義為下列何者？

- (A) 其單位為 kg/V，代表馬達在 1V 電壓下的離心力。
- (B) 其單位為 rpm/V，代表馬達在 1V 電壓下的每分鐘轉速。
- (C) 其單位為 °C/V，代表馬達在 1V 電壓下的操作溫度。
- (D) 其單位為 KW/V，代表馬達在 1V 電壓下的動力輸出。

正確解答：

(B)

28. 空氣密度受下列哪些因素影響？

- (A) 高度、溫度、及濕度等。
- (B) 推力、升力、阻力、及重力等。
- (C) 空速、航向、及姿態等。
- (D) 以上皆是。

正確解答：

(A)

29. 無人飛機在視距外發生「動力系統失效」，緊急處置程序之一為下列何者？

- (A) 關閉無人飛機上不必要之電力裝置。
- (B) 調整俯仰姿態以飄降飛回本場。
- (C) 儘速以飄降方式將航機飛至安全區域實施異地迫降。
- (D) 開啟自動避障系統。

正確解答：

(C)

30. 濕度如何影響空氣密度及無人機飛行？

- (A) 濕空氣的密度低於乾空氣；在一定攻角、較高濕度下為保持升力，須以較高的真空速飛行。
- (B) 濕空氣的密度高於乾空氣；在一定攻角、較高濕度下為保持升力，須以較高的真空速飛行。
- (C) 濕空氣的密度高於乾空氣；在一定攻角、較高濕度下為保持升力，須以較低的真空速飛行。
- (D) 濕空氣的密度低於乾空氣；在一定攻角、較高濕度下為保持升力，須以較低的真空速飛行。

正確解答：

(A)

31. 有關申請遙控無人機專業操作證者，下列何者有誤？

- (A) 申請專業基本級 II 操作證者，應領有專業基本級 I (無註記重量限制) 操作證一個月以上。
- (B) 申請專業高級 Ib 操作證者，應領有專業高級 Ia (無註記重量限制) 操作證一個月以上。
- (C) 申請專業高級 IIc 操作證者，應領有專業基本級 II 操作證或專業高級 Ib 操作證均有三個月以上。
- (D) 申請專業基本級 I 操作證者，應領有普通操作證一個月以上。

正確解答：

(D)

- 32.** 領有最大起飛重量一百五十公斤以上之專業操作證者，對持有學習操作證者具備同一構造最大起飛重量多少公斤的遙控無人機教學資格？
正確解答：(C)
- (A) 未達 2 公斤且同一級別以下之遙控無人機資格。
(B) 未達 15 公斤且同一級別以下之遙控無人機資格。
(C) 未達 25 公斤且同一級別以下之遙控無人機資格。
(D) 未達 150 公斤且同一級別以下之遙控無人機資格。
- 33.** 小華欲報考專業高級 Ib 操作證術科考試，請問下列敘述何者為正確？
正確解答：(B)
- (A) 小華應領有遙控無人機普通操作證 1 個月以上之經歷。
(B) 小華應領有專業高級 Ia (無註記重量限制) 操作證 1 個月以上之經歷。
(C) 小華不須通過專業操作證學科測驗。
(D) 小華應領有專業高級 Ia (無註記重量限制) 操作證 3 個月以上之經歷。
- 34.** 政府機關為執行業務者，其活動申請同意文件以多久為限？
正確解答：(D)
- (A) 3 個月。
(B) 6 個月。
(C) 1 個月。
(D) 1 年。
- 35.** 經農政機關登記合格之法人且取得民航局能力審查核准之業者，其飛航活動許可以六個月為限，但其可申請操作限制排除項目不包含下列何者？
正確解答：(D)
- (A) 不得以遙控無人機投擲或噴灑任何物件。
(B) 不得裝載依第四十三條第三項公告之危險物品。
(C) 不得於日落後至日出前之時間飛航。
(D) 不得於人群聚集或室外集會遊行上空活動。

- 36.** 帶 BEC (battery eliminator circuit , 去電池電路) 功能的電子調速器可對電源電壓進行降壓 , 並輸出 5 V 電壓以供電至下列何種機載設備?
(A) 飛控電腦。
(B) 遙控鏈路元件。
(C) 伺服舵機。
(D) 以上皆是。
正確解答 : (D)
- 37.** 小華是一名持有專業操作證 (G3) 的警員 , 因為公務需要 , 長官請他使用遙控無人機值勤 , 請問下列敘述何者錯誤?
(A) 小華值勤的機關須通過民航局能力審查後始得從事遙控無人機活動。
(B) 小華執勤的機關 , 其活動申請同意文件以半年為限。
(C) 經民航局活動申請許可 , 小華得以於集會遊行上空進行拍攝偵查。
(D) 小華未持有專業操作證 (G1) 證照 , 日落後即不得操作遙控無人機。
正確解答 : (B)
- 38.** 學習操作證持有人得於持有遙控無人機普通操作證之操作人在旁指導下 , 學習操作最大起飛重量未逾多少公斤之遙控無人機?
(A) 15 公斤。
(B) 25 公斤。
(C) 2 公斤。
(D) 150 公斤。
正確解答 : (A)
- 39.** 依遙控無人機管理規則規定 , 遙控無人機製造者或進口者於販售前 , 應於何處標示最大起飛重量、註冊程序、型式檢驗標籤或認可標籤、實體檢驗說明、操作限制說明、管理及違規裁罰等資訊?
(A) 廣告內容。
(B) 電子商務服務系統。
(C) 產品或包裝上。
(D) 以上皆是。
正確解答 : (C)

40. 申請專業高級 IIc 操作證者，應領有專業基本級 II 操作證或專業高級 Ib 操作證幾個月以上之經歷？

正確解答：

(C)

(A) 1 個月。

(B) 2 個月。

(C) 3 個月。

(D) 6 個月。

『遙控無人機專業操作證
屆期換證學科測驗指南與模擬試題』

中華民國交通部民用航空局

出版時間：110年11月30日

遙控無人機相關資訊

請上交通部民用航空局網站查閱：

《 <https://www.caa.gov.tw/index.aspx> 》

